

MAVİ KİTAP

LİSELERE GEÇİŞ SINAVI

L G S

TÜRKÇE
+DİL BİLGİSİ 3

Yeni Tarz Sorular

(Kazanım Odaklı Beceri Temelli)

NASIL ÇÖZÜLÜR?

LGS ÇIKMIŞ SORULAR
VE ÇÖZÜMLERİ

MEB ÖRNEK SORULARI
PARALELİNDE



editör
yayınevi

EDITÖR YAYINEVİ

LİSELERE GEÇİŞ SINAVI



TÜRKÇE

Yeni Tarz Sorular

(Kazanım Odaklı Beceri Temelli)

NASIL ÇÖZÜLÜR?



TÜRKÇE (MAVİ KİTAP) YENİ NESİL SORULAR NASIL ÇÖZÜLÜR

EDİTÖR

Turgut MEŞE

YAZAR

Komisyon

©

Tüm hakları Editör Yayınevine aittir. Yayıncının izni olmaksızın, kitabın tümünün veya bir kısmının elektronik, mekânîk yollarla ya da fotokopi yoluyla basımı, çoğaltılması ve dağıtımı yapılamaz.

Editör Yayınevi bir Data Yayınları markasıdır.

BU KİTAP T.C. KÜLTÜR BAKANLIĞININ BANDROLÜ İLE SATILMAKTADIR.

Çıkmış soruların telif bedeli ödenmiştir.

ISBN / TARİH

978 605 280 087 4 / 09 07 20

SERTİFİKA NO

16199

KAPAK TASARIMI

Editör Yayınevi Tasarım Ekibi

SAYFA TASARIMI

Editör Yayınevi Dizgi Ekibi

BASKI VE CİLT

Özgür WEB Matbaacılık

ANKARA

İLETİŞİM



İvedik Organize Sanayi Matbaacılar Sitesi

1518 Sok. Mat-Sit İş Merkezi No:2/20

Yenimahalle / ANKARA

Tel: 0 312 384 20 33 - 0 505 925 57 81

Fax: 0312 342 23 58

www.editoryayinevi.com

Kitap hakkında görüş ve önerileriniz için

WhatsApp hattımız: 05422620337

İÇİNDEKİLER

ANLAMA BECERİLERİ

TEST 1	5
TEST 2	16
TEST 3	26
TEST 4	36
TEST 5	45
TEST 6	54
TEST 7	63
TEST 8	72
TEST 9	81
TEST 10	89

FİİLİMSİLER

TEST 1	99
--------	----

CÜMLENİN ÖGELERİ

TEST 1	104
--------	-----

CÜMLE TÜRLERİ

TEST 1	107
--------	-----

FİİLDE ÇATI

TEST 1	110
--------	-----

ANLATIM BOZUKLUĞU

TEST 1	113
--------	-----

DİL BİLGİSİNİ ÖLÇME

TEST 1	117
TEST 2	122
TEST 3	125
TEST 4	130
TEST 5	134
TEST 6	139

YAZIM VE NOKTALAMA BİLGİSİNİ ÖLÇME

TEST 1	144
TEST 2	149
TEST 3	153
TEST 4	157
TEST 5	162

METİN TÜRLERİ VE ANALİZİ

TEST 1	167
TEST 2	175
TEST 3	182

MANTIK VE MUHAKEME

TEST 1	189
TEST 2	198
TEST 3	206
TEST 4	213

TABLO, GRAFİK VE GÖRSEL OKUMA

TEST 1	220
TEST 2	231
ÇÖZÜMLER	243

**HAYAL GÜCÜ,
EYLEM OLMADAN
HİÇBİR ŞEY
İFADE ETMEZ!**

Charlie Chaplin



ANLAMA BECERİLERİ

SORULAR

TEST 1

1

TÜRKİYE'DE COVID19 SALGINI ÖNLEMLERİ

11 Mart'ta ilk koronavirüs vakasının tespit edilmesinin ardından Türkiye hızla önlemleri hayata geçirdi.



Metinde verilen bilgilere göre aşağıdakilerden hangisinin İçişleri Bakanlığı tarafından gerçekleştirildiği söylenemez?

- Seyahat yasağı kapsamında havalimanlarında bazı bölgelere yapılan seferleri askıya alma
- Adliyelere yargılamalar, tutuklevlerine de görüşler konusunda alınan önlemleri bildirme
- Hoşça vakit geçirilen ve toplu bulunulan mekânlarda çalışma yasağını uygulama
- Kişisel ve toplu olarak sportif faaliyetlerde bulunulan mekânları yasaklar kapsamında denetleme

2 ve 3. soruları aşağıdaki metne göre cevaplayınız.

(I) Geleceğin meslekleri tamamen farklı olacak ve 2050 yılına kadar günümüz dünyasındaki mesleklerin neredeyse yarısı olmayacak. (II) Bugün birçok anne ve babaya gençlik eğlencesi gibi gözükken youTuberlık, aslında başlı başına bir iş. (III) Genç yaşta youTuber olarak milyonlarca dolar kazanan, on milyonlarca takipçisi olan çok sayıda genç var. (IV) Çağımızın yeni işlerinden biri de neden youTuberlık olmasın?

Peki nasıl iyi bir youTuber olunur? YouTuber olmak için video seyretmek kadar video çekme tekniklerini de öğrenmek gerekir. "Ben çektim oldu." diyecek kadar kolay bir iş değil bu. Belli bir emek, yaratıcılık ve sabır gerektiriyor. Yeni kuşak bizden çok farklı. Artık bu neslin anne babaları olarak bize uçuk kaçık gelen ve meslek olarak görmekte zorlandığımız iş kollarının önünün açık olabileceğini kabullenmek daha yapıcı bir yaklaşım olacak.

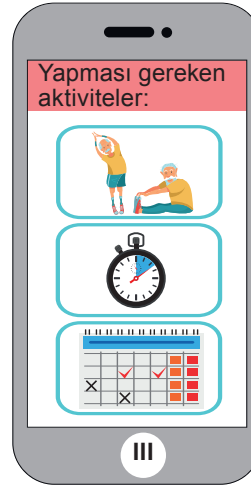
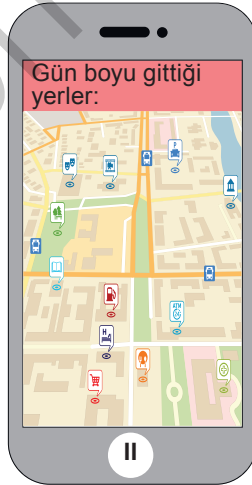
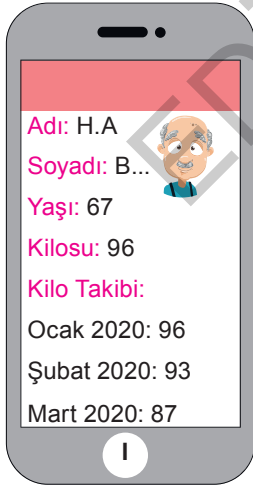
2 Metnin ilk paragrafındaki numaralanmış cümlelerle ilgili aşağıdakilerden hangisi söylenemez?

- A) I. cümlede, mesleklerin geleceğiyle ilgili bir öngöründe bulunulmuştur.
- B) II. cümlede, youTuber olmanın anne babalarca hafife alındığından söz edilmiştir.
- C) III. cümlede, bir önceki cümlede anlatılan düşünceleri destekleyen bir yargı dile getirilmiştir.
- D) IV. cümlede, youTuberlık mesleğinin çağımıza uygun olmadığı anlatılmıştır.

3 Metnin ikinci paragrafındaki altı çizili sözlerin yerine aşağıdaki sözlerden hangileri sırasıyla getirilirse anlam değişikliği olmaz?

- A) saçma sapan - nasıl sonuçlanacağını
- B) deli dolu - gelecek vadedeceğini
- C) yalan yanlış - her olasılığa açık olduğunu
- D) yarım yamalak - beklenmedik sonuçlar doğuracağını

4 Babası diyabet hastası olan İrem, hem kendi hem de babasının telefonuna -babasının sağlık problemlerini kontrol altında tutmak ve takip etmek amacıyla- "Sağlık" uygulamasını indirmiştir. Babası, gereken bilgileri her günün sonunda uygulamadaki gerekli yerlere kaydederek hastalığın gidişatını kayıt altında tutmaktadır.



Aşağıdakilerden hangisi bu görsellerden herhangi birinin açıklaması olamaz?

- A) Kişinin yaptığı aktivitelerle yaktığı kalorileri hesaplayabilirsiniz.
- B) Hastaya ulaşılmadığında haritadan hastanın en son gittiği yeri bulup nerede olduğunu bulabilirsiniz.
- C) Kişinin belli sürelerde aldığı kiloları veya verdiği kiloları hesaplayabilirsiniz.
- D) Hastanın kullanması gereken ilaçları almadığı takdirde bunu takip ederek gereken önlemleri alabilirsiniz.

5 ve 6. soruları aşağıdaki metne göre cevaplayınız.

Birleşik Devletler'in Georgia eyaletinde çeşitli ihtiyaçlar için ağaç kesen oduncular, eşine az rastlanır bir keşif gerçekleştirdiler. Kestikleri ağacı kamyonete yükledikten sonra ağacın oyuğuna bakan bir oduncu, ağaç gövdesinin içinde bir köpek mumyası olduğunu fark etti. Önemli bir keşif gerçekleştirdiklerini düşünen oduncular, köpek mumyasını ağaç ile birlikte bir müzeye götürdüler. Araştırmacıların incelemeleri sonunda köpek mumyasının 1960'lara ait olduğu ortaya çıktı.

Araştırmacıların tahminine göre köpek, bir sincap ya da benzeri bir hayvanı kovalıyordu ve onunla birlikte ağacın kovuğundan içeri girdi. Avını takip etmekten vazgeçmeyen köpek, ağaç gövdesinin içindeki boşluktan tırmanarak yukarılara kadar çıktı. Fakat inemeyip orada sıkıştı ve öldü.

Stuckie adı verilen muma köpek, bir kestane ağacının içinde bulundu. Kestane ağacının içinde hayvan dondurma işlemlerinde cesedin çürümemesi için kullanılan tanen bulunur. Sıkışan köpeğin cesedi de tanenle kaplanınca çürüme durumu gerçekleşmedi.

5 Yukarıda verilen parçayla ilgili aşağıdakilerden hangisi söylenemez?

- A) Bir durum, nedeniyle birlikte ifade edilmiştir.
- B) Olayın gerçekleştiği yer belirtilmiştir.
- C) Tesadüfen farkına varılan bir olayla ilgili bilimsel açıklamalar yapılmıştır.
- D) Örnekler verilerek düşünce desteklenmiştir.

6 Yukarıdaki parçada "tanen" adı verilen madde ile ilgili;

- I. Kestane ağacının içinde doğal olarak bulunur.
- II. Hayvan dondurma işlemlerinde cesedin çürümemesi için kullanılır.
- III. Yapay olarak da üretilen bir maddedir.

yargılarından hangilerine ulaşılabilir?

- A) I ve II
- B) I ve III
- C) II ve III
- D) I, II ve III

7 Aşağıda animasyon yapımının, sırasıyla "Malzemeler", "Oyuncular (Oyuncaklar)", "Birleştirici Program", "Çekim Aşamaları" ve "Düzenleme" başlıkları altında incelenen beş aşaması karışık olarak verilmiştir.

- I. Fotoğrafları videoya dönüştürecek bir yazılım bulmak mobil aygıtlarda daha kolaydır. Bu nedenle fotoğrafları videoya dönüştürdüğünüzde mobil aygıtları kullanmanız daha yararlı olacaktır.
- II. Oyuncaklarınız, oyun hamurlarınız, kağıttan ya da bazı ev eşyalarından yapacağınız her şey çekeceğiniz filmdeki oyuncularınız olabilir. Düş gücünüzü kullanın.
- III. Sahne kurulumu tümüyle size kalmış ama kameralar aydınlığı sever ve ışıktaki daha net görüntü elde ederler. Bu nedenle ışığı en net görüntüyü sağlayacak şekilde ayarlayın.
- IV. Çektığınız fotoğrafları birleştiren çeşitli bilgisayar programları ve uygulamaları vardır. Eğer internette "stop mation" diye aratırsanız bu işi gören birçok uygulamayla karşılaşabilirsiniz.
- V. Bu animasyon türünde kareleri tek tek çizmeye gerek duyulmaz. Bunun yerine fotoğraf makinesi hatta fotoğraf çeken bir telefon işimizi görür.

Bu aşamalar aşağıdakilerin hangisinde doğru sıralanmıştır?

- A) II - V - III - I - IV
- B) I - III - II - V - IV
- C) V - II - IV - III - I
- D) I - II - III - V - IV

ÇIKMIŞ SORU

8 Yazar, çocukluk ve ilk gençlik yıllarını yoksulluk içinde geçirmesine rağmen azim ve iradesi sayesinde her türlü engeli aşmak suretiyle Türk ilim ve kültür hayatının kendisiyle daima iftihar ettiği örnek bir ilim insanı olmuştur.

Bu cümledeki numaralanmış sözcüklerin anlamca karşılıkları aşağıdakilerin hangisinde verilmiştir?

- | | I | II | III |
|----|--------------|-----------|-----------------|
| A) | direnme gücü | amacıyla | gururlanmak |
| B) | kararlılık | yoluyla | kıvanç duymak |
| C) | gayret | isteğiyle | saygı göstermek |
| D) | cesaret | şartıyla | iltifat etmek |

9

M	B	Ş	O	G
K	A	R	N	E
J	Y	P	L	D

Bu tabloda, her sütundaki harfler aşağıdan yukarıya doğru, harflerin alfabedeki sırası (...CÇDEF-GĞHIJ...) göz önünde bulundurularak belli bir harf atlama düzenine göre dizilmiş ve orta kısımda "KARNE" sözcüğü oluşmuştur.

Bu harf atlama düzenine göre "İzleyicilerin kolayca görebilmeleri için genellikle yerden belli bir ölçüde yüksek yapılan, oyun müzik vb. gösteri yapmaya uygun yer." anlamına gelen sözcük aşağıdaki tabloların hangisinde gizlenmiştir?

- A)

T	B	İ	O	G
P	Y	Ğ	L	D

 B)

T	B	K	O	Ğ
R	Y	H	L	D
- C)

T	B	İ	O	G
R	Y	Ğ	L	D

 D)

T	B	İ	Ö	G
R	Y	Ğ	L	D

- 10 Telefonumuz, bilgisayarımız ya da banka hesabımız için onlarca şifreyi aklimızda tutmaya (unutma-

maya) çalışırız. Bu da yetmezmiş gibi evimizin ve otomobilimizin anahtarı, ofisimizin güvenlik kartı gibi çoğu zaman yanımızda bulundurmak zorunda olduğumuz eşyalarımız vardır. Biraz unutkan veya dalgın (dikkatsiz) biriyeniz şifrenizin ne olduğunu

veya anahtarınızın nerede olduğunu hatırlamak sizin için tam bir sıkıntı olabilir. Bionym isimli bir firma tarafından bütün bu sıkıntılara (sorunlara)

son verdireceği iddia edilen yeni bir bileklik tasarlandı (keşfedildi). Nyimi adı verilen bu bileklik

aslında parmak izi veya yüz tanıma programları gibi kişiye özel fiziksel karakterlerin şifre olarak kullanılması esasına dayanıyor.

Bu parçadaki numaralanmış sözlerden hangisinin anlamı, ayrıca içinde verilen açıklamayla uyuşmamaktadır?

- A) I B) II C) III D) IV

ÇIKMIŞ SORU

- 11 Bir projenin başarıya ulaşmasında birçok etken vardır. En başta proje kapsamında çalışacak her bir elemanın, yapacağı işle ilgili üst düzey bilgi birikimine sahip olması gerekir. Bu, çıkacak sorunların hızla çözülmesinde ve projenin sorunsuz ilerlemesinde önemli bir etkidir. Proje çalışanlarının birbiriyle uyumlu ve eş zamanlı çalışması da projenin sağlıklı yürümesi için çok önemlidir. Bunlarla birlikte maliyete ve takvime uygun bir çalışmanın yapılması da gerekir.

Aşağıdakilerden hangisi bir projede çalışacak kişilerin bu metinde verilen özelliklerinden değildir?

- A) Liderlik edebilme
B) Planlı çalışabilme
C) Ekip çalışması yapabilme
D) Alanında uzman olma

12

Çumra İlçesi Hava Durumu

Günler	Durum	Sıcaklık
Pazar	Çok bulutlu	-5
Pazartesi	Yağışlı	-4
Salı	Parçalı bulutlu	-3
Çarşamba	Sağanak yağış	-2

Seda, Aylin, Hasan, Tevfik isimli öğrenciler hava durumu raporuna göre salı günü aşağıdaki yorumları yapmıştır:

Seda: En soğuk gün pazardır.

Aylin: Çarşamba günü sağanak yağışlı olabilir.

Hasan: Yağış pazartesi gününe göre çarşamba günü daha fazladır.

Tevfik: Sıcaklık her gün arttığına göre perşembe günü hava sıcaklığı -2 dereceden fazla olacaktır.

Yukarıdaki öğrencilerin yaptığı yorumlara göre aşağıdakilerden hangisi yanlıştır?

- A) Seda'nın cümlesi kesinlik bildiren cümledir.
B) Aylin'in cümlesi tahmin cümlesidir.
C) Hasan'ın cümlesi karşılaştırma cümlesidir.
D) Tevfik'in cümlesi varsayım cümlesidir.

13

Yemek yedikten sonra çatal ve bıçağı nereye koyduğunuz çok önemli. Daha doğrusu çatal ve bıçağın nasıl durduğu çok önemli. Çünkü istemeden "Bu yemeği beğenmedim." anlamına gelecek bir duruş sergileyebilirsiniz, tabii ki bunu bilen birisine karşı. Belki hayatınız boyunca karşınıza bilen birisi hiç çıkmayacak, belki de o bilen kişiye karşı bir anda kendinizi mahcup hissedeceksiniz. Yani çatal bıçağın duruşunun anlamlarını bilmek bir bakıma çok önemli. Gelin bunlardan biraz bahsedelim. Örneğin çatal ve bıçağınızı artı olacak şekilde tabağın üzerine bırakırsanız bir sonraki yemeği beklediğinizi anlatmış olursunuz. Bıçağı çatalın arasına sıkıştırıp tabağa bırakırsanız, yemeği beğenmediğinizi anlatmış olursunuz. Çatal bıçağı tabağa dümdüz bırakırsanız doduğunuzu ve yemeğe devam etmeyeceğinizi anlatmış olursunuz. Çatal ve bıçağı tabağa çatı şeklinde bırakırsanız yemeğe ara verdiğinizi ve bir süre sonra devam edeceğinizi anlatmış olursunuz.

Elif gittiği davette yemeğini bitirdikten sonra bir diğer yemeği beklemeye başlamıştır.

Buna göre Elif'in çatal ve kaşığının durumunun aşağıdakilerin hangisi gibi olması beklenir?

A)



B)



C)



D)



14 Dünyada milyonlarca insan yiyecek ve içecek başta olmak üzere çoğu temel ihtiyaçtan yoksun yaşıyor. Ülkemizde ise 1,7 milyon ekmek çöpe giderken 214 milyarlık gıda israfı yapıldığı belirlendi. Buna ek olarak dünyada da israf edilen 1 milyon 300 bin tondan fazla yiyeceğin, 2 milyona yakın insanı doyurabileceği tespit edildi. Ülkemizde günlük olarak 4 milyon 100 bin ekmek çöpe atılmaktadır.

Bu açıklamaya göre;

- I. Ekmek gramajlarının düşürülerek tek kullanımlık küçük paketlerde üretilmesi,
- II. Ekmek tüketimi konusunda toplumun bilinçlendirilmesi,
- III. Bayatlayan ekmeklerin toplanarak sokak hayvanlarına verilmesi

fikirlerinden hangileri metinde sözü edilen soruna yönelik bir çözüm olabilir?

- A) Yalnız I B) I ve II
C) II ve III D) I, II ve III

- 15**
- Proxima B adlı gezegen Güneş'e en yakın yıldız olan Proxima Centauri'nin çevresinde dönmektedir.
 - Bu gezegen hem yaklaşık olarak Dünya büyüklüğündedir hem de yaşama elverişli kuşakta bulunmaktadır.

Bu iki cümlede ifade edilenlerin anlamca doğru biçimde birleştirilmiş hâli aşağıdakilerden hangisidir?

- A) Proxima Centauri adlı yıldızın çevresinde dönen Proxima B adlı gezegen yaklaşık Dünya büyüklüğündedir ve yaşama elverişli kuşakta bulunmaktadır.
- B) Proxima B adlı gezegen, Proxima Centauri adlı yıldızın en yakın mesafedeki gezegendir ve Dünya'nın büyüklüğüne yakın bir büyüklüktedir.
- C) Güneş'e en yakın yıldız olan Proxima Centauri'nin etrafında dönen Proxima B adlı gezegen yaşama elverişli kuşaktadır ve aşağı yukarı Dünya büyüklüğündedir.
- D) Dünya'nın büyüklüğüne yakın bir büyüklükte olan Proxima B adlı gezegen Güneş'e en yakın yıldız olan Proxima Centauri'ye en yakın gezegendir.

16 ve 17. soruları aşağıdaki metne göre cevaplayınız.

Geri dönüşüm, kabaca atık maddeleri yeniden kullanılabilir hâle getirme işlemidir. Atıkları geri dönüştürerek enerjiden, ham maddeden ve kısmen iş gücünden tasarruf ederiz. Geri dönüşüm, günümüz dünya ülkeleri vatandaşlarının hayatlarında önemli bir yer tutar. Ülkemizde geri dönüşüm bilinci yavaşça yayılsa da birçok ülke bizden oldukça iyi durumdadır. Avusturya tüm atığının %63'ünü geri dönüştürüyor ki bu, listede Avusturya'nın zirve konumunda olduğunu gösterir. Avusturya mükemmel işleyen kentsel atık politikasına sahip, bu sayede Avusturya'da geri dönüşüm daha istikrarlı bir şekilde yürütülüyor. Almanya atıklarının %62'sini, Tayvan ise %60'ını geri kazandırıyor. Atıklarını en çok geri dönüştüren ülkeler listesinde sırayı Brezilya, Singapur, Güney Kore, Birleşik Krallık, İtalya ve Fransa izliyor.

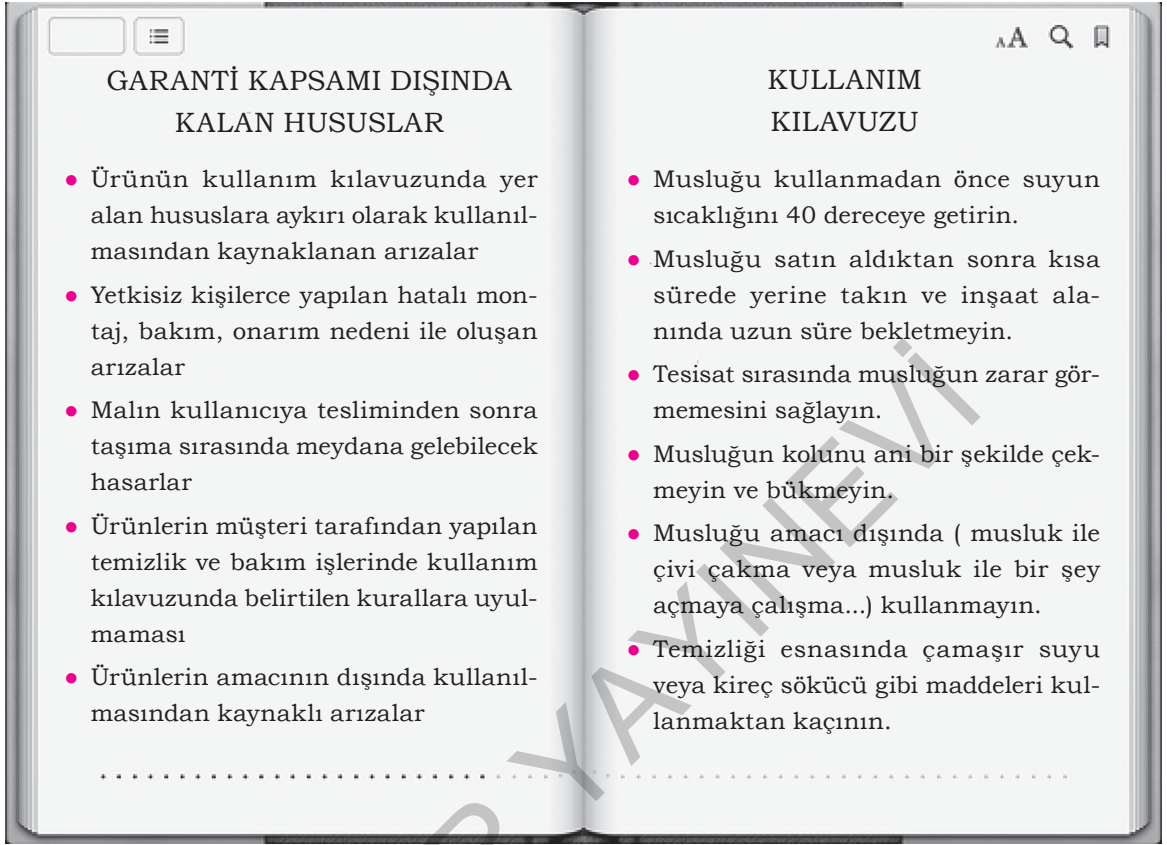
16 Bu parçanın konusu aşağıdakilerden hangisidir?

- A) Geri dönüşüm ve dünya genelinde geri dönüşüm faaliyetleri
- B) Geri dönüşümde en ileri ülke
- C) Geri dönüşüm faaliyetlerinde ülkemizin geri kalma nedenleri
- D) Geri dönüşüm faaliyetlerinin ilk olarak nerede başladığı

17 Bu parçadan aşağıdaki yargılardan hangisi kesin olarak çıkarılabilir?

- A) Gelişmemiş ülkelerde geri dönüşüm faaliyetleri yok denecek kadar azdır.
- B) Dünyada geri dönüşümde en ileri olan ülke, atıklarının yarısından fazlasını geri dönüştürmektedir.
- C) Geri dönüşüm konusunda birçok ülke, ülkemizi örnek almaktadır.
- D) Geri dönüşüm faaliyetleri, çevreyi koruma amacıyla başlatılmıştır.

18 Aşağıda bir musluğun garanti kapsamı dışında kaldığı durumlar ve kullanım kılavuzu verilmiştir.



Dört farklı müşteri, bozulan musluklarının garanti kapsamında tamir edilmesini istemektedir. Musluğu aldıkları firmaya bu amaçla bir dilekçe yazmışlardır. Yazılan dilekçeler aşağıda verilmiştir.

Aysun	Sabah suyun sıcaklığını 100 derece yapıp duş aldım. Duş aldıktan sonra musluk bozuldu. Ürünün tamir edilmesini istiyorum.
Begüm	Bir yıldır kullandığım musluğu kireçler oluştuğu için kireç sökücü ile temizledim. Ancak bir hafta sonra musluktan hiç su gelmemeye başladı.
Nisa	Bir hafta önce alıp hemen taktığım musluk iki gündür bozuk. Hiçbir şekilde kullanmadığım musluğun tamir edilmesini istiyorum.
Serdar	Musluğun başı ile gazoz kapağını açtıktan sonra musluk bozuldu. Oldukça dayanıksız olan musluğun tamir edilmesini veya değiştirilmesini talep ediyorum.
Erhan	Musluğun bazı yerleri kireç tuttuğundan temizliği için bayinize götürdüm. Çalışanlarınız tarafından yapılan temizlik sonrası musluk bozuldu. Değiştirilmesini veya tamir edilmesini istiyorum.

Buna göre yukarıdakilerden hangilerinin firmadan olumlu cevap alması beklenir?

A) Aysun ve Begüm

B) Nisa ve Serdar

C) Begüm ve Erhan

D) Nisa ve Erhan

- 19 Günümüzde çokça tüketilen bazı yiyecekler veya hayatımızın vazgeçilmezi olan bazı icatlar, aslında planlanarak bulunmuş ürünler değildir. Çoğu bir amaç uğruna uğraşırken tesadüfen bulunmuş icat ve ürünlerdir.

Bu parçada anlatılan durumu;

- I. Louis Daguerre, karanlık odada gümüş iyodür levhada açığa çıkan görüntüyü sabitlemenin yollarını arıyordu. Bir gün farklı kimyasal maddelerin bulunduğu dolabına, daha sonra kullanmak ve temizlemek üzere, bozuk görüntülü bir film levhası koydu. Bunu tekrar dışarı çıkardığında görüntü belirginleşmişti. Gümüşlü levha üzerine alınan görüntü, modern fotoğrafçılığın başlangıcı oldu.
- II. Bir lokantada çalışan George Crum, 1853 yılında müşterilerine patates kızartmasını sunmaya hazırlanıyordu. Müşterilerinden biri gelen patatesleri kalın buldu ve "daha ince, daha kızarmış" olarak istediğini belirtti. Crum bunun üzerine sinirlenip patatesleri inanılmaz derecede ince keserek kupkuru olana dek kızarttı. Müşteri patateslerin bu halini çok beğendi ve patates cipsi bu şekilde ortaya çıktı.
- III. Bilim adamları abaküsün icadından itibaren üç bin yıl boyunca bu icada çeşitli eklemeler yaptılar. Adım adım yaşanan bu gelişmelerle birlikte 1941 yılında gerçek manada bilgisayar geliştirilmeye başlandı ve 1947 yılında Amerika'da bir oda büyüklüğünde olan 30 tonluk bilgisayar üretildi.

metinlerinden hangileri örneklendirmektedir?













- A) Yalnız I B) Yalnız II C) I ve II D) II ve III

- 20 Bütün kar taneleri altı sivri uçlu yıldız gibi görünmüyor. Kış bulutlarından düşen tuhaf görünümlü kristaller de vardır. Örneğin eğrelti otu kristallerinin dallarında ayrıca birçok yan dal vardır. Yan dallar da çoğunlukla komşu

dallarla paraleldir. On iki dallı kar tanesi ise iki altı dallı kar tanesinin havada orta derecede çarpışması sonucu

olur. Üçgen kristaller tipik olarak küçük, biçimli üçgenler şeklindedir.

Bu metinde numaralanmış kar tanesi türlerinin görselleri aşağıdakilerin hangisinde doğru olarak verilmiştir?

	I	II	III
A)			
B)			
C)			
D)			

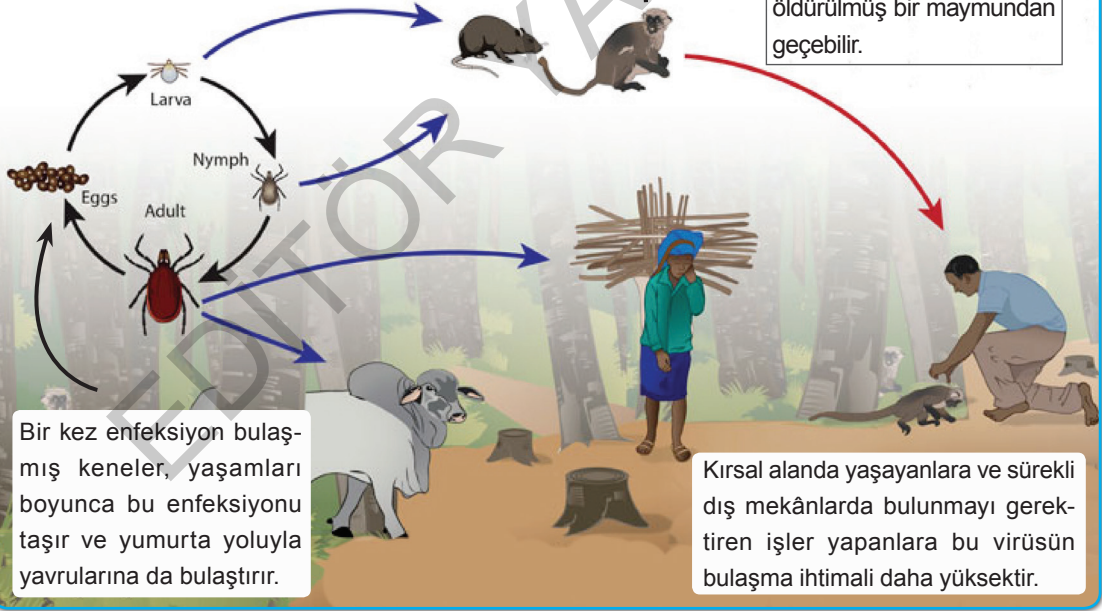
21

EL-HURMA KANAMALI ATEŞİ

El-Hurma kanamalı ateşi, flavivirüs cinsinden virüsler arasındaki el-Hurma kanamalı ateşi virüsünün neden olduğu ve Suudi Arabistan'da tanımlanmış bir hastalıktır.

Maymunlar ve küçük memeliler el-Hurma kanamalı ateşi virüsünün en fazla görüldüğü hayvanlardır. Bu virüsün bulaşması sonucunda nöbetler oluşabilmekte ve enfeksiyon ölümlü sonuçlanabilmektedir.

El-Hurma kanamalı ateşi virüsünün insanlara bulaşması, kene ısırığı veya enfeksiyonlu bir hayvanla temastan sonra, genellikle hasta veya yakın zamanda öldürülmüş bir maymundan geçebilir.

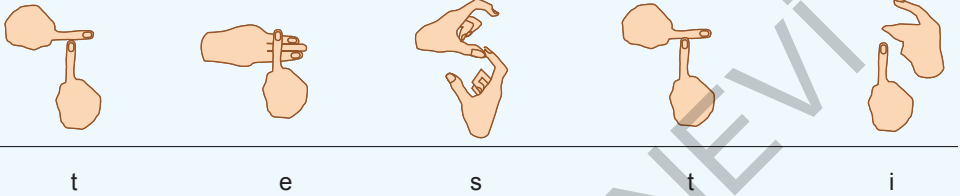


Bu şekilde belirtilen sorunla ilgili aşağıdakilerden hangisi bir çözüm önerisi olabilir?

- A) Hiç kimsenin evden çıkmamasını sağlamak ve ülkeye giriş çıkışları durdurmak
- B) Tüm memeli hayvanların etinden ve sütünden yararlanmayı bırakmak
- C) Hasta veya ölmüş hayvanlara temastan kaçınmak
- D) Tüm maymunları ve memelileri tamamen ortadan kaldırmak

ÇIKMIŞ SORU

- 22 Türk Dil Kurumunun e-sözlüğünde yer alan "testi" sözcüğüyle ilgili bazı açıklamalar aşağıda verilmiştir.

<p>testi Köken: <i>Farsça destî</i> Geniş gövdeli, dar boğazlı, emzikli veya emziksiz olabilen, toprak, cam, metal vb. maddelerden yapılan su kabı. <i>Çeşme başında dizleri üstüne çökmüş bir ihtiyar kadın, testisini dolduran genç kıza bakıyordu.</i></p>
<p>testi kırılmadan testi kırılrsa da kulpu elde kalır - testiye kıran da bir, suyu getiren de</p>
<p>"testi" Sözcüğünün Parmak Alfabetiyle Gösterilişi</p>  <p style="text-align: center;">t e s t i</p>

Buna göre "testi" sözcüğünün açıklamalarında, sözlüklerde bulunması beklenen;

- I. Sözcüğün tanımlanması ve tanıma uygun kullanımının örneklendirilmesi,
- II. Sözcüğün, içinde kullanıldığı deyim ve atasözlerine yer verilmesi,
- III. Kimi kavramların ifade ettiği anlamların resimle gösterilmesi,
- IV. Sözcüğün ortaya çıktığı dil ve o dildeki hâli ile ilgili bilgi verilmesi,
- V. Sözcüğün yöresel kullanımının belirtilmesi

niteliklerinden hangileri örneklenmiştir?

- A) I, II ve IV. B) I, II ve V. C) II, III ve IV. D) III, IV ve V.

23 ve 24. soruları aşağıdaki metne göre cevaplayınız.

Teodolit, yeryüzü koordinatları ve yatay-düşey mesafeleri ölçmeye yarayan hassas bir ölçüm aletidir. Hassas ayarların ardından koordinatları, yatay-düşey mesafeleri ve açıları ölçebilir. Ayrıca mevcut konumun deniz seviyesinden yüksekliğini veya kot farkını hesaplayabilir. Topoğrafya ve coğrafi konum çalışmalarının vazgeçilmez aletidir. Genel olarak "iki nokta arasındaki açıyı ölçmeye yarayan alet" olarak bilinir. Teodolitlerle elde edilen ölçüm değerleriyle uzaklık hesabı da yapılabilir. Elektronik teodolitler, ölçtüğü açıları doğrudan ekranda anlık olarak gösterebilir. Eski tasarım teodolitlerde açı ölçüm sonuçlarını okumak için bazı optik parçalara ihtiyaç duyulur. Basit bir anlatımla kullanımı şöyledir: Mesafe bulmak için üzerinde çok ince ölçekli çizgiler bulunan bir direk, ölçülecek noktaya konulur. Teodolitteki dürbün yardımı ile direk üzerindeki alt ve üst çizgiler arasındaki uzunluk okunur. Daha sonra özel bir formülle mesafe hesaplanır.

23 Bu parçada teodolitlerle ilgili;

- I. Kullanımı alan bilgisi gerektirmektedir.
- II. Çok yaygın bir şekilde kullanılmamaktadır.
- III. Hem açı hem de yükseklik ölçümünde kullanılmaktadır.
- IV. Koordinat hesaplamalarında kullanılan tek alettir.

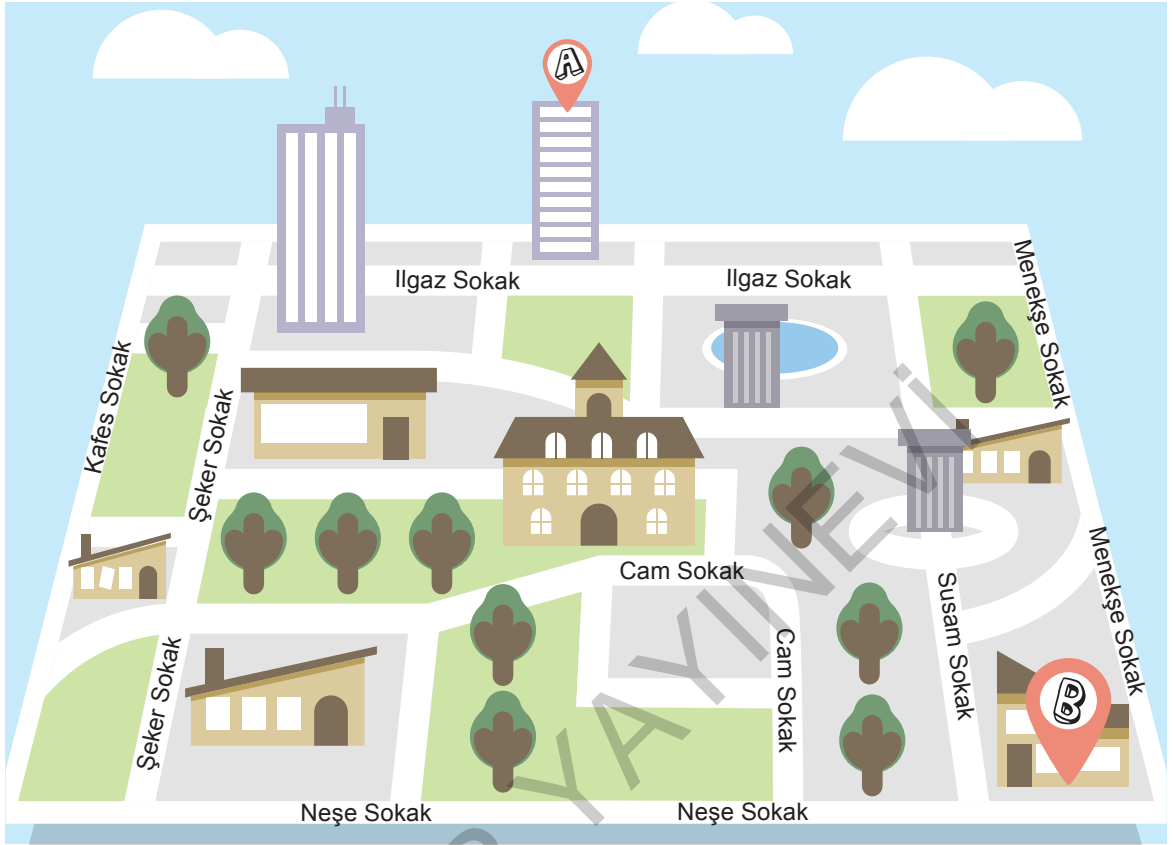
yargılarından hangilerine ulaşılabilir?

- A) I ve II B) II ve III
C) I ve III D) II ve IV

24 Teodolitlerle ilgili aşağıdakilerden hangisine değinilmemiştir?

- A) Yatay ve düşey mesafeleri ölçmek için kullanıldığına
- B) Topoğrafya ve coğrafi konum çalışmalarında çok önemli olduğuna
- C) Türlerinin bazılarının özelliklerine
- D) İlk olarak nerede kullanıldığına

- 25 B'den A'ya gidecek olan Murat, komşusu Serdar'a oraya nasıl gidebileceğini sormuştur.



Bu haritaya göre Serdar aşağıdakilerden hangisini söylerse yolu doğru tarif etmiş olur?

- A) Menekşe Sokak'a girin ve sokağın sonuna kadar hiçbir yere sapmadan yürüyün. Sokağın sonundaki sokağa girin. Karşınıza Ilgaz Sokak çıkacaktır. Ilgaz Sokak'ta bulunan A binasına kadar yürüyün.
- B) Neşe Sokak'tan Şeker Sokak'ın başına kadar yürüyün. Şeker Sokak'a girdiğinizde 1, 2, 3 değil 4. sokaktan sağa dönün. 4. sokak olan Ilgaz Sokak'tan A binasına kadar yürüyün.
- C) Neşe Sokak'tan biraz ilerleyin ve karşınıza çıkan ilk sokağa girin, bu sokağın sonunda yer alan Cam Sokak'tan girip yolun sonuna kadar ilerleyin. Karşınıza A binası çıkacaktır.
- D) Susam Sokak'la Menekşe Sokak arasındaki sokaktan ilerleyip parkın olduğu sokağa girin. Buradan da sola doğru dönüp hiçbir yere sapmadan ilerleyin. A binası ilerlediğiniz bu sokağın sonunda olacaktır.

- 26 Yeni nesil savaş teknolojilerinden birisi olan İnsansız Hava Araçları (İHA) arasında yer alan SİHA'lar, yerli ve milli olması nedeniyle büyük önem arz ediyor. Sınırlarımızı korumaya yönelik sürdürülen operasyonlarda etkin rol alan SİHA'lar, 25 saat havada kalabiliyor. Bu araçların en önemli özelliklerinden bir tanesi de uzaktan kumanda edilebilmeleri ve belirlenen rota üzerinde kendiliğinden hareket edebilen "insansız" hava uçakları olmalarıdır. SİHA'ların görüntü alma ve komuta merkezine bilgi verme, düşman hedeflerini etkisiz hale getirme gibi özellikleri bulunuyor. Ayrıca bu araçlar, silah kullanılan insansız ilk hava aracımızdır. Gövde uzunluğu 6,6 metre, kanat açıklığı 12 metre ve azami hızı 135 knott olan bu araçlar iki sınıfa ayrılır: İlki uzaktan kumanda edilerek uçan, diğeri ise kendiliğinden belli bir uçuş planı üzerinden otomatik olarak hareket edebilen uçaklardır.

Bu parçanın anlatımında aşağıdakilerden hangileri bir arada kullanılmıştır?

- A) Açıklama - Benzetme
B) Tartışma - Tanık gösterme
C) Açıklama - Sayısal verilerden yararlanma
D) Tartışma - Örneklendirme

SORULAR

TEST 2

1 - 2. soruları aşağıdaki metne göre cevaplayınız.

(I) Dünya, doğal kaynakları hızla tükenirken gittikçe artan nüfus sebebiyle çok büyük bir enerji ihtiyacıyla karşı karşıyadır. (II) Dünya'nın enerji kaynaklarını petrol, kömür gibi fosil yakıtlar oluşturmaktadır. (III) Fosil yakıtlar bitki, hayvan, dinazor gibi canlıların atıklarının milyonlarca yıl boyunca toprak altında kalması sonucu basınç etkisiyle oluşmuştur.

(IV) Oluşmaları oldukça uzun bir süre aldığı ve tüketimleri de çok daha hızlı şekilde gerçekleştiği için bu yakıtlar yenilenemez enerji kaynakları olarak nitelendirilir. (V) Bilim insanları, enerji tüketimine bu hızla devam edilirse fosil yakıtların 50 sene gibi kısa bir sürede tükeneceğini öngörmektedirler.

(VI) Fosil kaynaklar, azalmasının yanı sıra yakılmaları sonucunda çevreye de zarar vermektedir. Kömür, petrol ve doğalgaz santrallerinin kuruldukları bölgede yerel olarak tahribatları yanında küresel olarak tüm dünyayı tehdit eden etkileri de bulunmaktadır. Fosil yakıtlar yakıldığında atmosfere yayılan karbondioksit, kükürtdioksit, azotoksit, toz ve kurum yakın çevreyi kirletip ölümlere yol açarken, karbondioksit ve benzeri sera gazları küresel iklim değişikliğine yol açmakta ve tüm dünya ülkelerinde yaşamı tehdit etmektedir.

Gelecek nesillerin ihtiyaçlarını karşılayabilmek için tüm enerji süreçlerini, daha sürdürülebilir bir hâle getirmek gerekmektedir. Sürdürülebilir enerji, enerji ihtiyaçlarını karşılamak için gerekli olan kaynakları tehlikeye atmadan üretilen enerjiye denir. Bunun için en geçerli yöntem de yenilenebilir enerji kaynaklarını kullanmaktır.

1 Metinde numaralanmış cümlelerle ilgili olarak aşağıdakilerden hangisi yanlıştır?

- A) I. cümlede, aşamalı olarak büyüyen bir soruna dikkat çekilmiştir.
- B) II. cümlede nesnel bir anlatım sergilenmiştir.
- C) III. cümlede fosil yakıtların kullanım alanlarına değinilmiştir.
- D) V. cümlede koşul anlamı vardır.

2 Metindeki numaralanmış cümlelerin hangilerinde neden-sonuç ilişkisi yoktur?

- A) I ve III
- B) III ve VI
- C) I ve IV
- D) II ve V

3

I. METİN

Biz gerçekten bir kukla sahnesindeyiz
Kuklacı felek usta, kuklalar da biz
Oyuna çıkıyoruz birer, ikişer;
Bitti mi oyun, sandıktayız hepimiz

II. METİN

– Hiç bitmeyecek mi bu yazmaların, isyanların?
– Bitmeyecek.
– İnsanları hicvederken ne istiyorsun?
– Ben insanları hicvetmiyorum.
– Peki kimi veya neyi hicvediyorsun o zaman?
– !

II. metindeki konuşma aşağıdakilerden hangisiyle tamamlanırsa I. metinde verilmek istenen mesaj en doğru ifadeyle yansıtılmış olur?

- A) Tiyatro oyuncularını
- B) Kaderi
- C) Dünya düzenini
- D) Sanatı

4 Baykuş kelebeği "Amazon Yağmur Ormanları"nda yayılım gösterir. Latince ismindeki "Caligo"nun anlamı karan-

I

lıktır, şafak vaktine ve havanın kararmasına yakın aktiftir. Baykuş kelebeği denilmesinin sebebi ise kanat alt yüzeyindeki desenin bir baykuşun gözünü andırmasından dolayıdır. Zebra çatal kuyruklu kelekler, çoğunlukla

II


Kuzey Amerika'nın doğu kıyılarında bulunur; Tennessee eyaletinin ünlü kelebeği olduğunu da ekleyelim. Zekice isimlendirilmiş olan kelebek, çizgilerle kaplıdır ve üçgen şeklindeki kanatlara sahiptir. Ayrıca kuyruğu da mevcuttur. Büyük beyaz melek isimli kelebeğin üzerinde yalnızca tek bir nokta bulunmaktadır. Orange Migrant adlı

III

IV

kelebeğin geniş bir yayılım alanı vardır. 29-31 mm kanat genişliğine sahiptir. Çok sıcak havalarda uçar ve çeşitli çiçekleri ziyaret eder. Üzerinde hiçbir benek veya şekil yoktur.

Bu metinde numaralanmış kelebek türlerinin görselleri aşağıdakilerin hangisinde sırasıyla verilmiştir?



ÇIKMIŞ SORU

- 5 (I) İstanbul'un üstünde ne tür tarihî yapıların olduğu az çok bilinir ama altında ne var pek bilinmez. (II) Yerin altındaki yapılardan biri olan sarnıçlar yüzyıllarca kentin su ihtiyacının önemli bir kısmını karşılamış. (III) Yağmurlardan süzülen veya kentin kilometrelerce ötesinden su kanallarıyla getirilen sular buralarda depolanmış. (IV) Sarayın, büyük kiliselerin, askerî kışlaların, soylulara ait konakların su ihtiyaçları buralardan karşılanmıştır.

Bu metinde numaralanmış cümlelerin hangisinden sonra "Böyle önemli yapıların su ihtiyacını karşılayan sarnıçların en meşhuru Yerebatan Sarnıcı'dır." **cümlesi getirilirse metindeki düşünce akışı bozulmaz?**

- A) I. B) II. C) III. D) IV.

- 6 Zekâ, bizi birbirimizden farklı kılan biridir fakat boyumuz, kilomuz, saçımızın rengi gibi doğrudan gözlemlenemez ya da beynimizin belirli bir bölgesinde saklanmış gibi orayı bulup inceleyerek zekâ düzeyi belirlenemez. İşte bu yüzden zekânın tanımını yapmak ve zekâyı..... zor ve karmaşık bir iştir.

Bu parçada boş bırakılan yerlere sırasıyla aşağıdaki sözcüklerden hangileri getirilmelidir?

- A) benzer yönlerimizden - anlayabilmek
B) ayrıcalıklarımızdan - düzenleyebilmek
C) özelliklerimizden - ölçebilmek
D) kusurlarımızdan - hissedebilmek

- 7 Ebedî âşığın dönüşünü bekler
Yalan yeminlerin tanığı çiçekler
Artık olmayacak baharlar içinde.
Ey ömrün en güzel türküsü aldaniş!
Aldan, gelmiş olsa bile ümitsiz kış;

Bu dizelerin anlamlı ve kurallı cümleler hâline getirilmiş biçimi aşağıdakilerden hangisidir?

- A) Aldan kış gelmiş olsa da. Yalan yeminlerin tanığı çiçekler olmayacak baharlar içinde artık. Tanığıdır ömrün en güzel türküsüne aldaniş.
B) İnsan ebedî âşığın dönüşünü bekler yalan yeminlerin tanığı çiçekler. Aldan, gelmiş olsa da ümitsiz kış çünkü ömrün en güzel türküsü aldaniş.
C) Yalan yeminlerin tanığı çiçekler, artık olmayacak baharlar içinde ebedî âşığın dönüşünü bekler. Ömrün en güzel türküsü ey aldaniş! Ümitsiz kış gelmiş olsa bile aldan.
D) Ömrün en güzel türküsü aldaniştir ve yalan yeminlerin yanığı çiçekler artık olmayacak baharlar içindedir.

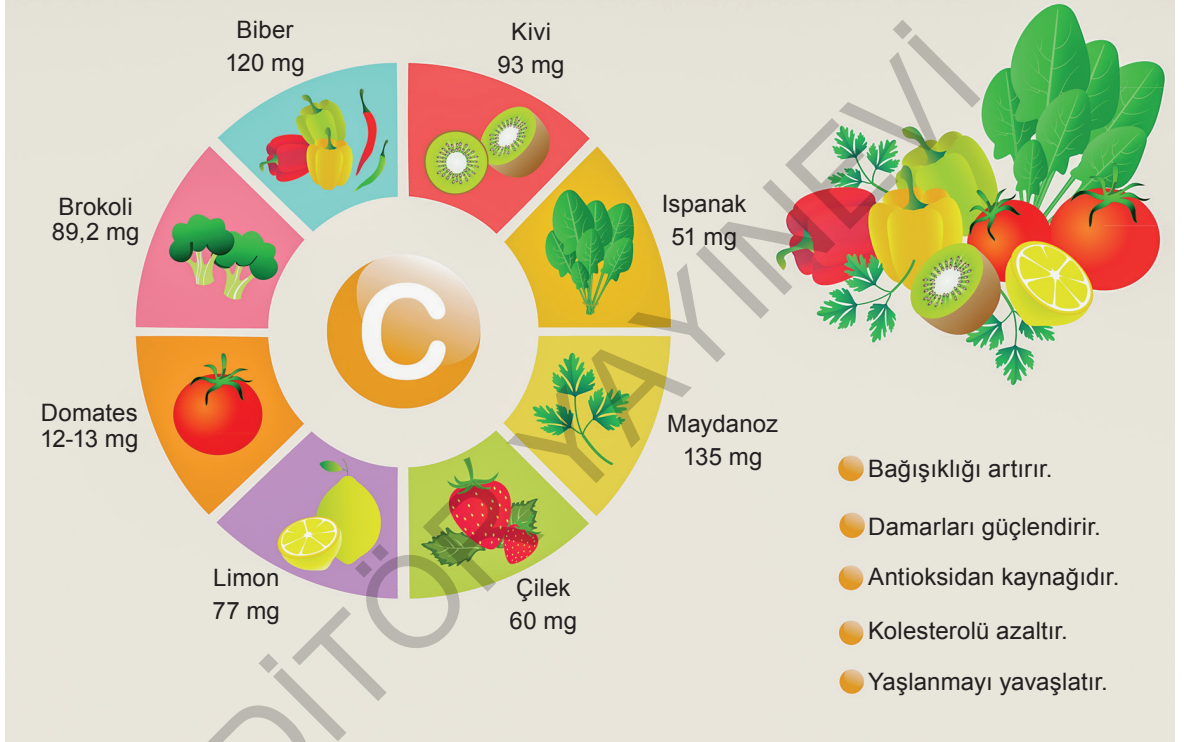
- 8 Asıl verimlerini otuzundan hatta kırkından sonra ortaya koyanlar da var. Ne yalan söyleyeyim, hikâyelerimi kaleme alırken böyle düşünmek içime su serpiyordu.

Altı çizili sözün parçaya kattığı anlam aşağıdakilerin hangisinde vardır?

- A) Garip garip davranınca ondan şüphelenmiştim, içime kurt düşmüştü.
B) Çalışmalar düşündüğümde daha hızlı gidince rahatlamıştım.
C) Onu her görüşümde içim ezilir, acınacak hâline güldüğü için daha da üzülürüm.
D) Her zaman geçmişte yaptığı hataları düşünür ve bunların gün yüzüne çıkmasından korkardı.

- 9 C vitamini askorbik asit olarak da bilinir, suda eritilebilen ve birçok görevi olan vitamin. Çoğu hayvanlar ve bitkiler, kendi C vitaminlerini glukozdan üretebilir. İnsanlar, bazı meyve yarasaları, hint domuzu ve insan benzeri primatlar C vitamini üretmediklerinden bunu besinlerden almak zorundadırlar. Uzmanlar tarafından günlük 100 mg alınması önerilmektedir.

PORTAKALDAN DAHA FAZLA C VİTAMİNİ İÇEREN 8 BESİN



Yukarıdaki bilgi ve görselden hareketle aşağıdakilerin hangisine ulaşamaz?

- A) Kivide bulunan C vitamini oranı çilektekinden fazladır.
 B) Maydanozda bulunan C vitamini oranı biberdeki C vitamini oranından fazladır.
 C) Uzmanlar tarafından önerilen C vitamini miktarını domates tek başına karşılayabilir.
 D) Brokolide bulunan C vitamini miktarı ıspanaktaki C vitamini oranından fazladır.

- 10 Bilim Şenliği'nde, geçen yılın gösterilerine ek olarak bu yıl zenginleştirilmiş matematik oyunları var. Çocuklara sorunları çözme olanağı sunan bu yeni gösteri birimleri, her yaştan çocuğun ilgisini çekti. Sabun köpükleriyle geliştirilen yeni oyunlar denenerek öğrenmenin tadı çocuklara tattırıldı.

Bu parçanın anlatımıyla ilgili aşağıdakilerden hangisi söylenemez?

- A) Deyim kullanılmıştır.
 B) Mecaz anlamlı sözcükler vardır.
 C) Karşılaştırma yapılmıştır.
 D) Benzetmelere yer verilmiştir.

11 ve 12. soruları aşağıdaki metne göre cevaplayınız.

İklim değişikliği, Kuzey Kutbu'nun simgesi olan kutup ayısının hâlihazırdaki durumu dışında başka sorunlar da ortaya çıkarıyor. Avustralya'nın Torres Boğazı'ndaki alçak adalardan birinde yaşayan esmer böğürtlen sıçanlarının son üyesinin de yok olduğu, 2016 yılında bilim insanları tarafından açıklandı. Yükselen denizler dahil hava koşullarının kurbanı olan türün tükenişi, iklim değişikliğinin yol açtığı belgelenen ilk memeli yok oluşu olarak nitelendiriliyor.

Yükselen sıcaklıklar bazı bitki ve hayvan popülasyonlarının azalmasına neden oluyor. Aynı zamanda türleri kutuplara doğru itiyor, göçleri ve davranışları değiştiriyor. Antarktika Yarımadası'nda Adelie penguenleri, Kuzey Kutbu'nda büyük kumkuşu adlı sahil kuşları azalıyor. Buz kaybı, binlerce morsu Alaska'da karaya çıkmak zorunda bırakıyor. Kayalık Dağları'ndan İsviçre Alplerine kadar dağlık ekosistemler doruklara sıkışıyor.

11 Yukarıdaki parçanın konusu aşağıdakilerden hangisidir?

- A) İklim değişikliklerinin bitki ve hayvan türlerine etkisi
- B) Beşeri faaliyetlerin iklim değişimine etkisi
- C) Küresel ısınmada insan faktörü
- D) Kuzey Kutbu'nda yaşam

12 Bu parçada aşağıda verilen sorulardan hangisinin cevabı yoktur?

- A) İklim değişikliği neticesinde nesli tükenme tehlikesiyle karşı karşıya kalan hayvan türleri hangileridir?
- B) Yükselen sıcaklıkların türlere etkisi nasıl olmaktadır?
- C) Esmer böğürtlen sıçanlarının neslinin tükenmesinin nedenleri nelerdir?
- D) Kuzey Kutbu'nda görülen iklim değişikliğinin nedenleri nelerdir?

ÇIKMIŞ SORU

13 Aşağıdaki cümlelerin hangisinde "tecrübe"yi anlatan bir söz kullanılmamıştır?

- A) Bizim takımın teknik direktörü eski kurttur, maçlarda takıma iyi taktik veriyor.
- B) Sütten ağzı yandı, yoğurdu üfleyerek yiyor; artık arkadaş seçiminde daha dikkatli.
- C) Ben insan sarrafı oldum, beni kolay kolay kandıramazlar.
- D) İnce eleyip sık dokuduğundan işlerinde başarılı oluyor.

14 Anneanne:

– Yavrucuğum sana bir öğüt vereyim mi?

Torun:

– Tabi ki anneanne.

Anneanne:

– Sen sen ol da insana kötülük etme. Peki sence insanı en çok üzen şey nedir? Ona uyguladığın kaba kuvvet mi yoksa insanın kalbini incitmek mi?

Torun:

– Hımmm? Bence kalbini incitmek. Ama ikisi de yapılmamalı tabi.

Anneanne:

– Aferin, doğru söyledin yavrucuğum! Atalarımız boşuna "....." dememiş.

Bu metinde boş bırakılan yere anlam akışına göre aşağıdaki atasözlerinden hangisi getirilmelidir?

- A) Acı söz insanı dininden çıkarır, tatlı söz yılanı deliğinden çıkarır.
- B) Dilim seni dilim dileyim, başıma geleni senden bileyim.
- C) El yarası onulur, dil yarası onulmaz.
- D) Dilden gelen elden gelse her fukara padişah olur.

15 ve 16. soruları aşağıdaki görsele göre cevaplayınız.



Türk Dil Kurumu
Sözlükleri



MILLİ MÜCADELENİN YÜZÜNCÜ YILI

Sözlük Seç
▾
🔍

ç ğ ı ö ş ü â î û

GÜNCEL TÜRKÇE SÖZLÜK

perde 🔊

Farsça perde

1. *isim* Görüşü, ışığı engellemek, bir şeyi gizlemek için pencereye veya bir açıklığın önüne gerilen örtü:
"Durmadan pencere kapatıyor, perde çekiyorum." **Adalet Ağaoğlu**
2. *isim* Üzerine bir cismin görüntüsü yansıtılan saydam olmayan yüzey:
Sinema perdesi. Karagöz perdesi.
3. *isim* Seste pes perde:
"Sonra da ince ve çok acıklı bir perdeden şarkı söylemeye başladı." **Ahmet Midhat**
4. *isim, mecaz* Doğruyu görmeye engel olan şey:
Bu sözü duyunca gözlerimdeki perde kalkıverdi.
5. *isim, tiyatro* Bir sahne eserinin büyük bölümlerinin her biri:
"Oyunun üç perdesi de böyle alkışlar içinde geçti." - **Memduh Şevket Esendal**

Atasözleri ve Deyimler

15 TDK'nin sayfasındaki açıklamaların altında verilen cümlelerin hangisinde, aratılan sözcük terim anlamıyla kullanılmamıştır?

- A) Yalnız 1 B) Yalnız 4 C) 1 ve 4 D) 2 ve 3

16 TDK sayfasında aratılan sözcük, aşağıda verilen cümlelerin hangisinde soyut anlamlıdır?

- A) Gözüne inen bu perde onun sağlıklı karar vermesine engel oluyordu.
B) Perdenin arkasındaki dolaptan istediğin kitabı alabilirsin.
C) Karşı komşumuz, gece geç saatlere kadar perdesini hiç çekmez.
D) Kaz ayaklarının perdeli bir yapısı vardır.

17 ve 18. soruları aşağıdaki metne göre cevaplayınız.

Süprüge otu, halk arasında funda bitkisi veya otu olarak da bilinir. Bilimsel adı ise "Calluna Vulgaris"tir. Çalı formunda olan bitki, yaz kış yeşil hâldedir. Yetiştirilmesi için fazladan bir özen göstermeye gerek olmayan süprüge otu, hemen her iklimde kendine elverişli ortam bulabilir. Yüzyıllardır tıp alanında kullanılan süprüge otu, sepet ve süprüge yapımında kullanıldığı için bu adı almıştır. Ana vatanı Avrupa olan bitki, ülkemizde de çok rahatlıkla yetişebilir. Bu bitkinin dikkat çeken pembe ve morumsu çiçekleri vardır.

Güneşi çok fazla sevmeyen bitki, gölgeli veya az güneşli yerlerde bir metre boyuna ulaşır. Sonbaharda çiçeklenmeye başlayan süprüge otunun pembe çiçekleri çan şeklindedir. Serin havaları seven süprüge otu, daha çok kumlu topraklarda ve ağaçlık alanlarda iyi yetişmektedir.

17 Yukarıdaki parçada süprüge otu ile ilgili aşağıdakilerden hangisine değinilmemiştir?

- A) Kullanıldığı alanlara
- B) Yetiştirme şartlarına
- C) Nerelerde iyi yetiştiğine
- D) Ülkemizde en fazla hangi bölgede yetiştiğine

18 Süprüge otuyla ilgili;

- I. Uzun yıllardır sağlık alanında kullanılmaktadır.
- II. Çiçeksiz bir bitkidir.
- III. Güneşi değil serin havaları sevmektedir.
- IV. Hassas bir bitki olduğundan özel bir bakım istemektedir.

yargılarından hangilerine ulaşılabilir?

- A) I ve II
- B) I ve III
- C) II ve III
- D) III ve IV

19 Karacaoğlan, şiirlerine 17. yüzyılda yazılmış mecmualardan beri rastlanan ünlü saz şairidir. Hayatı hakkında kesin bilgi bulunmaz ancak 17. yüzyılda Çukurova-Toroslar'da doğup, yörenin Türkmen aşiretleri arasında yaşadığı anlaşılmaktadır. Şiirleri Güneydoğu Anadolu'da 17. yüzyılda konuşulan, günlük konuşma dilinde ve hece ölçüsüdür. Doğa, aşk, sıla, özlem, yaşam, ölüm konularında şiirler söylemiş; yaşadığı dönemde Osmanlı memleketinde büyük şöhret kazanmış. Mahlasını kullandığı ve yaşamındaki mutlak sonu konu alan dizeleri şöyledir: "-----"

Bu metinde boş bırakılan yere aşağıdaki dörtlüklerden hangisi getirilmelidir?

- A) Karac'oğlan derki okuyam yazam
Keleş değilim ki kervanlar bozam
Giyinem kuşanam hoşça gezem
Ben senin dardını çekemem gönül
- B) Şu yalan dünyaya geldim geleli
Tas tas içtim ağuları sağ iken
Kaşpe felek vermez benim muradım
Viran oldum mor sümbüllü bağ iken
- C) Eteğinde kervan işler
Yükseğinde döner kuşlar
Kürk geydirir, at başışlar
Hemen beğler sende m'olur?
- D) Karac'oğlan der ki derdim pek beter
Bahçede bülbüller şakıyıp öter
Anayı atayı dün aldın yeter
Var git ölüm bir zaman yine gel

20 NBA'in efsane ismi, uzun yıllar Michael Jordan'la birlikte Los Angeles Lakers formasını terleten -kimilerine göre Michael Jordan'la birlikte tarihin en iyi basketbol oyuncusu olan- Kobe Bryant, Kaliforniya'da geçirdiği bir helikopter kazası sonucunda hayatını kaybetti.

Bu cümleye göre aşağıdakilerden hangisi kesinlikle söylenebilir?

- A) Kobe Bryant, Michael Jordan'dan sonra NBA'in en iyi oyuncusudur.
- B) Kobe Bryant ve Michael Jordan uzun bir süre birlikte aynı takımda oynamışlardır.
- C) Kobe Bryant, farklı spor dallarında adını duyurmuş efsane bir isimdir.
- D) Kobe Bryant, tarihin en iyi oyuncularından biriyle birlikte geçirdiği kazada vefat etmiştir.

21

Bazen bu bölgeye dev pandaların korunması için çalışan insanlar da giriyor. Hatta bu insanların burada yaşayan yetişkin dev pandalara yaklaşması da gerekebiliyor. İşte o zaman bu insanlar dev panda kılığına giriyor. Üzerlerine de dev pandalara özgü kokular sürüyorlar. Çünkü yetişkin dev pandaların insanların kokusuna alışmasını istemiyorlar. Bu, dev pandaların insanlardan bağımsız bir şekilde yaşamaya devam etmesi için önemli.

ANAHTAR SÖZCÜK

Yukarıdaki parçada geçen bazı sözcüklerin anlamları aşağıda verilmiştir. Bu anlamları karşılayan sözcükleri parçada bulmacaya yerleştiriniz. Sembollerle belirtilen kutulara yazılan harflerden yola çıkarak da anahtar sözcüğü bulunuz.

1- Davranışlarını, tutumunu, girişimlerini herhangi bir gücün etkisinde kalmadan düzenleyebilen, özgür, hür
 2- Olağanüstü irilikte olan
 3- Sürme, sürüp gitme, kesilmeme, bitmeme
 4- Birine, bir şeye ait olan, öze, has, mahsus

Numaralanmış kutularda yer alan harfler "ANAHTAR SÖZCÜK" bölümüne yerleştirildiğinde aşağıdakilerden hangisi oluşur?

A) M Ü Z E

B) M A N A

C) Y A S A

D) E L M A

22 ve 23. soruları aşağıdaki metne göre cevaplayınız.

Güneşten elektrik üreten yeni nesil seraların ilk mahsulleri alındı. Elektrik üreten renkli seralarda salatalık ve domatesler daha hızlı büyüyebiliyor ve %5 daha az su kullanılıyor. Elektrik üreten güneş enerjili seralar, dalga boyu seçici fotovoltaik sistemlerle donatıldı. Bu eşsiz teknoloji sayesinde daha verimli ve mevcut fotovoltaik sistemlerden daha az maliyetli sistemler kurulabiliyor. Yeni seralar şeffaf ve parlak (morumsu kırmızı) boya sayesinde ışığı şerit fotovoltaiklere yansıtarak elektrik üretiyor.

Araştırmayı yapan ekip domates, salatalık, limon, biber, çilek, ıhlamur, fesleğen gibi 20 çeşit bitkinin fotosentez ve meyve üretimini görüntüledi. Bu ürünlerden özellikle de domates ve salatalığın çok iyi büyüdüğü ifade edildi.

22 Bu metinden aşağıdaki yargılardan hangisi kesin olarak çıkarılır?

- A) Güneşten elektrik üretme fikri ilk defa seralarda hayata geçirilmiştir.
- B) Elektrik üreten seralarda yetiştirilen sebzeler diğer ürünlerden daha sağlıklıdır.
- C) Yeni nesil seralarda bazı sebzelerden daha iyi verim alınmıştır.
- D) Güneşten elektrik üreten sistemlerin maliyeti çok yüksektir.

23 Bu parçanın anlatımıyla ilgili aşağıdakilerden hangisi söylenemez?

- A) Karşılaştırma yapılmıştır.
- B) Sayısal verilerden yararlanılmıştır.
- C) Sözcükler genellikle gerçek anlamda kullanılmıştır.
- D) Benzetmelerden yararlanılmıştır.

24 Sedat, henüz yedi yaşında olmasına rağmen baba-sıyla beraber bahçeye iner, kendisini aşan ----- Biz ona bu yaramazlıkları yapmak için çok büyüdün; abi oldun dedikçe şımarrır, söz dinlemez -----; ne var ki büyümek ona hep bir düş gibi gelirdi. Ailesini usandırdıkça usandırır, annesinin ve babasının sözlerine ----- O daha küçüktü çünkü. Ama sadece işine geldiğinde. Hele kardeşinin dünyaya gelmesi onu iyice huysuzlaştırıyor, alıngan bir hâl almasına sebep oluyordu.

Aşağıdaki deyimlerden hangisi bu metinde boş bırakılan yerlerden herhangi birine getirilemez?

- A) bir kulağından girip diğerinden çıkardı
- B) kulak asmazdı
- C) boyundan büyük işlere kalkışırdı
- D) ele avuca sığmazdı

ÇIKMIŞ SORU

25 Sosyal medyanın gündelik hayata etkisi nasıldır?

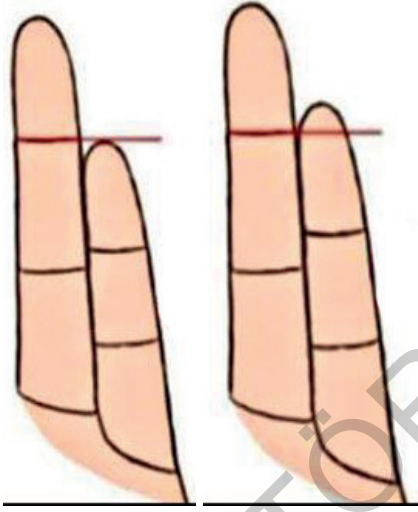
Aşağıdaki metinlerden hangisi bu soruya verilmiş bir yanıt olamaz?

- A) Asılsız haber ve içerikler sosyal medya yoluyla bilinçli veya bilinçsizce daha fazla ve hızla yayılıyor. Geleneksel medyanın da bunları kaynak almasıyla geniş toplum kitleleri yalan haberlere maruz kalıyor.
- B) Bugün dilimiz yerine parmaklarımız konuşuyor. Eskiden komşu evlerinde yapılan sohbetler şimdi sosyal medya gruplarına taşındı. Aynı evin içinde bile telefonla haberleşir oldu insanlar.
- C) Kullanıcı eğilimleri sosyal medya yazılımlarının güncellenmesine sebep oluyor. Yazılımcılar her geçen gün yeni uygulamalar geliştiriyor. Bu da sosyal medya şirketleri arasında büyük bir rekabet doğuruyor.
- D) Sosyal medya uygulamaları sayesinde gözden uzak olan artık gönülden uzak olmuyor. Araya ne kadar mesafe girerse girsin -isterseniz dünyanın öbür ucuna gidin-fotoğraflarınızı, videolarınızı sevdiğinizle paylaşabilir hatta onlara canlı yayın yapabilirsiniz.

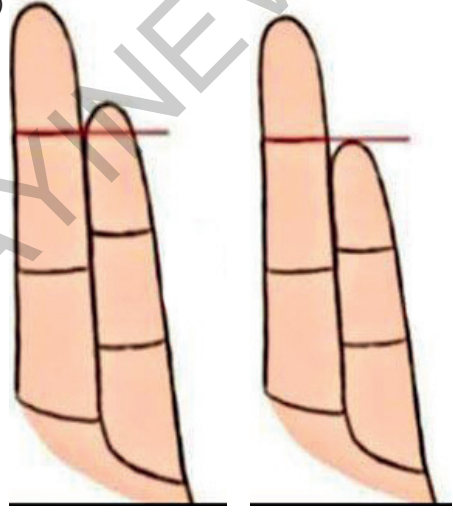
- 26 Serçe parmağınızın karakteriniz hakkında pek çok şeyi ele verdiğini biliyor muydunuz? Serçe parmağınızın uzunluğu ve biçimi kendinizi nasıl anlattığınızı gösterir. Şayet serçe parmağınız yüzük parmağınızın birinci boğumunun (tırnağın olduğu kısmın altında kalan bölüm) altında kalıyorsa kısa bir serçe parmağınız var demektir. Kısa bir serçe parmağa sahipseniz duygu durumunuz çok yoğun olduğundan kendinizi tam anlamıyla ifade edemezsiniz ve iletişim problemi yaşarsınız. Serçe parmağınızın uzunluğu yüzük parmağınızın başlangıç çizgisiyle aynı hizada ise serçe parmağınız orta uzunluktadır. Böyle bir serçe parmağa sahipseniz iç ve dış dünyaya yansımış olduğunuz nitelikleri ve düşünceleri dengeleme konusunda çok iyisinizdir. Sinirlerinizi nasıl kontrol edeceğinizi çok iyi biliyorsunuzdur. Serçe parmağınızın uzunluğu, yüzük parmağınızın birinci boğumunun başlangıç çizgisini geçiyorsa uzun bir serçe parmağınız var demektir. Uzun bir serçe parmağa sahipseniz insanlarla iletişim halinde olmayı seven sosyal bir insansınız demektir.

İnsanlarla konuşmayı seven ve bu konuda iyi olan biri ile insanlarla konuşamayan birinin parmak yapısının sırasıyla aşağıdakilerden hangisi gibi olması beklenir?

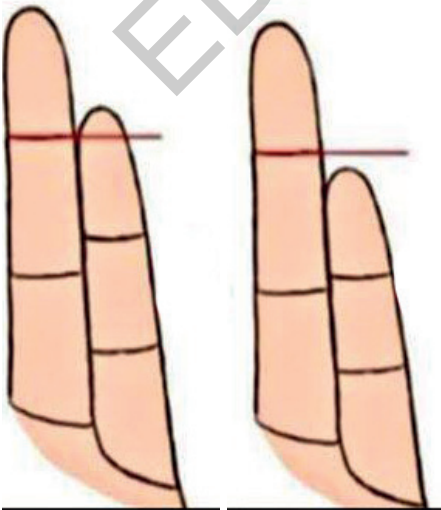
A)



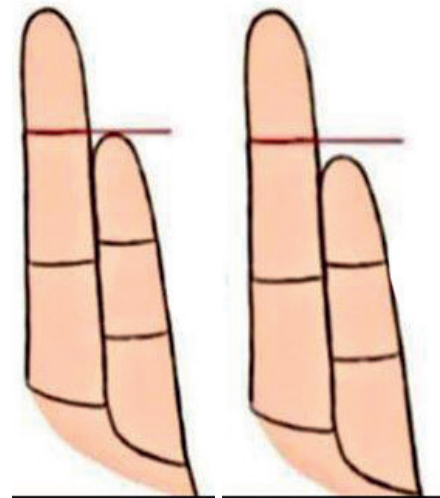
B)



C)



D)



SORULAR

TEST 3

1 - 4. soruları aşağıdaki metne göre cevaplayınız.

Absürt tiyatro, II. Dünya Savaşı'nı yaşayan insanlığın içine düştüğü saçmalıkların, boşuna çabaların, boşuna bekleme ve umutların acısından kaynaklanan bir umutsuzluk havası içinde oluştu. (I) Ama yaşamın saçmalıklarını sergilemesiyle, umutsuzluğun dehşetini göstermesiyle yeni bir umut kaynağı diye de değerlendirilebilir. Savaşın sonrasındaki bir umutsuzluk dönemi yaşanmaktaydı. (II) İnsan düşüncesi anlayamadığı güçler karşısında felce uğramıştı. Milyonlarca insanın ölmesi, kitle kıyımları, atomun parçalanması, kentlerin yakılıp yıkılması dehşet uyandırmaktaydı. (III) Korku ve güvensizlik gibi nedeni az çok bilinen duygular yerini nedensiz bir endişeye, bunalıma, boşunalık duygusuna bırakmıştı. Daha iyi bir dünya ülküsünün yerini, onarılmaz bir biçimde parçalanmışlığın kabul edilmesi almıştı. (IV) Absürt tiyatro yazarları da bu sebeple II. Dünya Savaşı'nı yaşamış olanların ruhsal durumunu dile getirdiler.

1 Bu metnin konusu aşağıdakilerden hangisi olabilir?

- A) Tiyatro ve insan ilişkisi
- B) Absürt tiyatro ve II. Dünya Savaşı
- C) Tiyatronun önemi
- D) Savaşın insan yaşamına etkisi

2 Metne göre absürt tiyatro yazarları neden II. Dünya Savaşı'nı yaşayan insanların durumunu dile getirmişlerdir?

- A) İnsanlara tiyatronun amacını ve insanla olan ilişkisini anlatabilmek
- B) Sanatın toplumdaki işlevini ve yerini tiyatro oyunları ile sergilemeye çalışmak
- C) Umutsuz bir şekilde yaşayan insanlara daha iyi bir dünyanın olabileceğini anlatmayı amaçlamak
- D) II. Dünya Savaşı sonrasında bu şekilde yeni bir tiyatro geleneği oluşturma çabası içine girmek

3 Numaralanmış cümlelerin hangisi öznel anlamı değildir?

- A) I
- B) II
- C) III
- D) IV

4 Yukarıdaki numaralandırılmış cümlelerin hangisi altı çizili cümlenin nedeni durumundadır?

- A) Yalnız I
- B) I ve II
- C) Yalnız III
- D) II ve III

ÇIKMIŞ SORU

5 Ön yargı, kişinin bir kimse veya bir şeyle ilgili peşinen varsaydığı olumlu veya olumsuz tutumların tümüdür.

Buna göre aşağıdakilerin hangisinde ön yargılı bir tutumdan söz edilemez?

- A) Emanete hıyanet olmaz.
- B) Kişi arkadaşından bellidir.
- C) İnsan yedisinde ne ise yetmişinde de odur.
- D) Çok havlayan köpek ısırılmaz.

6

Beynin Süper Yiyecekleri



Avokado

Yağlı bir besindir ama son derece sağlıklı doymamış yağ içerir.



Yaban Mersini

Dengeyi sağlar ve kısa süreli hafızayı güçlendirir.



Brokoli

İçinde bulunan K vitamini sayesinde beynin gücünü artırır. İçerisinde bulunan folik asit; gerginlik, stres, asabi davranışlar ve ilgisizlik gibi sorunların ortadan kaldırılmasına yardımcı olur.



Brüksel Lahanası

Beynin yaşlanma sürecini yavaşlatır ve duyguları büyük oranda etkiler.



Badem

Yağsız, protein sağlayan nadir gıdalardan biridir. Beynin ihtiyacı olan enerjiyi sağlar.



Muz

Yüksek düzeyde potasyum içerir. Genel sağlık için iyi bir besin. Muz, oksijeni normal seviyelerde tutmaya yardım ederek beyne potasyum sağlar.

Bu görselden hareketle beyne iyi gelen yiyeceklerle ilgili olarak;

- I. Beynin daha sağlıklı olmasını sağlar.
- II. Beynin hafıza ile ilgili özelliklerini etkiler.
- III. Duygu durumları ve ruhsal durumlar üzerinde etkileri yoktur.

yargılarından hangileri söylenebilir?

- A) Yalnız I B) Yalnız III C) I ve II D) II ve III

7 Aşağıdaki cümlelerin hangisindeki ikileme “önemsiz” anlamını içermektedir?

- A) Ağır mı ağır bir koku kaplayınca odanın içini, bu ayazda kapıları, pencereleri açmak zorunda kaldık.
- B) İvir zıvir ayrıntılarla uğraşmaktan asıl yapması gerekenleri ihmal edince işlerini bir türlü tamamlayamıyordu.
- C) Çoluk çocukla yola çıkmak ne kadar zormuş da ben bilmiyordum.
- D) Senin hakkında olur olmaz konuşmaya başlayınca çok sinirlendim ve dayanamayıp ağzının payını verdim.

8 (I) Einstein'ın bilgi yüklemeye dayanan ezberci eğitim yüzünden okul ve eğitimle arası hiç iyi olmamıştır. (II) O, öğretmenlerinin gözünde derslere ilgisiz ve tembel bir öğrenciydi. (III) Daha sonra kendisi bu durumu, “Öğrenmemi engelleyen tek şey, aldığım eğitim olmuştur.” sözleri ile dile getirecektir. (IV) Bizim ülkemizde de insanlarımızın üretmemesinin, öğrenmemesinin temelinde, uygulanan “öğretme temelli eğitim” vardır.

Parçadaki numaralandırılmış cümlelerle ilgili olarak aşağıda verilenlerden hangisi yanlıştır?

- A) I. cümlede, Einstein'ın okulu sevmeme gerekçesi açıklanmıştır.
- B) II. cümlede, öğretmenlerinin Einstein hakkındaki düşüncelerine değinilmiştir.
- C) III. cümlede, konu ile ilgili olarak Einstein'ın görüşleri aktarılmıştır.
- D) IV. cümlede, ülkemizdeki insanlar üretmediği için ezberci eğitime geçildiği dile getirilmiştir.

9 Aşağıdaki cümlelerin hangisinde deyim, açıklamasıyla birlikte verilmemiştir?

- A) Kızımız artık bolluk içinde sıkıntısız bir yaşam sürüyor, bir eli yağda bir eli balda maşallah.
- B) Bu adamın söylediğine bakma, ak dediğime kara demeyi huy edinmiştir.
- C) Ahmet sınıfımızın en zayıf, en güçsüz çocuklarından biri, bir sıkımlık canı var yavrucağın.
- D) Bu iş için çok çaba gösterip ağzıyla kuş tutsa da artık ona güvenmiyorum.

10 (I) Dünyada olduğu gibi Türkiye’de de internet kullanımını hızla artmakta, özellikle sosyal medya kullanıcılarının sayısı her geçen gün daha da çoğalmaktadır. (II) We Are Social ve Hootsuite tarafından hazırlanan “Digital in 2017 Global Overview” raporuna göre Türkiye’de 48 milyon insanın internet kullanıcısı olduğu ve bu 48 milyon kişinin aynı zamanda aktif bir sosyal medya kullanıcısı olduğu belirtilmektedir. (III) Öyle ki Türkiye’de internet kullanıcıları günlük, ortalama 6 saatten fazla bir süreyi bilgisayar başında geçiriyorken ortalama 3 saatini mobil cihazlar üzerinden internete bağlanarak, 3 saatini ise sosyal medya araçlarını kullanarak geçirmektedir. (IV) Bu açıdan baktığımızda Türkiye internet kullanımında dünya ülkeleri arasında %60’lık bir kullanım ile 21. sırada yer alırken sosyal medya kullanımında ise 12. sırada yer almaktadır. (V) Ayrıca Türkiye sosyal medyada geçirilen süre bakımından dünya ülkeleri arasında 9. sırada yer almaktadır.

Bu parçadaki numaralanmış cümlelerle ilgili aşağıdakilerden hangisi söylenemez?

- A) I. cümlede aşamalı olarak gelişen bir durumdan söz edilmiştir.
- B) II. cümlede bir araştırma sonucunun verileri aktarılmıştır.
- C) III, IV ve V. cümlelerde sayısal verilerden yararlanılmıştır.
- D) V. cümlede Türkiye’nin sosyal medya kullanımındaki başarısı dile getirilmiştir.

ÇIKMIŞ SORU

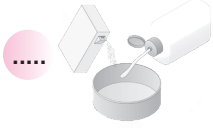
11 (I) Japonya, uzay çöplerini temizlemek için ürettiği metalik örgü ağını Uluslararası Uzay İstasyonu’na ulaştırdı. (II) 700 metrelik bu devasa ağ, bir Japon balık ağı üreticisi tarafından tasarlandı. (III) Tıpkı bir balık ağı gibi uzaya salınıp gezegenimizin çevresini büyük uzay çöplerinden temizleyecek. (IV) Metal ağ ile yapılacak denemelerin başarılı olması durumunda aynı prensiple çalışan küçük robot araçlar üretilecek.

Bu metinde numaralanmış cümlelerin hangisinde koşul anlamı vardır?

- A) I. B) II. C) III. D) IV.

12

ÇİKOLATALI PASTA TARİFİ



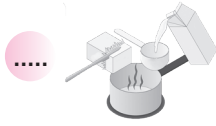
Çırtığımız yumurtanın içine sıvı yağ ve sütü ilave edip çırpmaya devam ediyoruz.

Kakao, un, kabartma tozu ve vanilyayı ekleyip yoğun bir boza kıvamı elde edene kadar çırpıyoruz.



Kek kalıbını yağlıyoruz ve hafif şeker serpiyoruz. Hamuru kalıba döküp önceden ısıtılmış 180 derece fırında pişiriyoruz.

Yumurta ve şekeri 3-4 dakika çırpıyoruz.



Keki fırına koyduktan sonra başka bir tencerede kreması için sütü ve yağı karıştırıyoruz.



Yukarıdaki görselde kek yapım aşamaları karışık bir şekilde verilmiştir. Kek tarifinin doğru olabilmesi için verilen ifadelerin anlamlı bir biçimde oluş sırasına göre sıralanması gerekmektedir.

Buna göre görselde boş bırakılan yerlere, yukarıdan aşağıya doğru sırasıyla aşağıda verilen numaralardan hangileri getirilmelidir?

A) 2 - 3 - 4 - 1 - 5

B) 2 - 5 - 3 - 1 - 4

C) 5 - 3 - 4 - 1 - 2

D) 4 - 3 - 2 - 5 - 1

13 ve 14. soruları aşağıdaki metne göre cevaplayınız.

Kendisi de şeker hastası olan genç mekatronik mühendisi, kan olmadan şeker ölçümü yapan bir cihaz icat etti. Normalde kan şekeri, parmaktan alınan kan stripleriyle ölçülüyor. Diatech adı verilen cihaz, kandaki şekeri ölçmek için özel bir dalga boyunda ışık kullanıyor. Genç Türk mühendis tarafından geliştirilen proje, diyabet hastalarının büyük ölçüde ihtiyacını karşılayabilir.

Kansız ve acısız bir biçimde kan şekerinizi ölçebileceğiniz diatech, ölçüm yapmak için ışık yolunu kullanan yerli bir üründür. Diyabet hastalarının kan ölçümleri için parmaklarını delme zorunluluğunu ortadan kaldıran bu ürün, cep telefonlarına bluetooth üzerinden bağlanarak istatistik tutabilmesi ve bu verileri bluetooth tabanlı bir sistemde depolayabilmesiyle diğerlerinden ayrılıyor. Bu da tüm verileri sürekli olarak gözlemleyebilmenize ve doktorunuzla daha iyi iletişim kurup daha sağlıklı sonuçlar elde etmenize olanak sağlıyor.

13 Diatech adı verilen cihazla ilgili;

- I. Şeker ölçümünde kullanılan geleneksel cihazlardan farklı olduğu
- II. Pahalı olduğu
- III. Özel bir dalga boyunda ışık kullanarak kan şekerini ölçtüğü
- IV. Verileri depolayabilmeye imkân sağladığı

yargılarından hangilerine ulaşılabilir?

- A) I ve II B) I ve III
C) I, III ve IV D) I, II ve III

14 Diatech adlı cihazı diğer cihazlardan ayıran özellik aşağıdakilerden hangisidir?

- A) Diyabet hastalarının büyük bir ihtiyacını karşılaması
B) İstatistik tutabilmesi ve bu istatistikleri depolayabilmesi
C) Pratik bir kullanıma sahip olması
D) Yerli bir ürün olması

15 ve 16. soruları aşağıdaki metne göre cevaplayınız.

Yeni yapılan bilimsel çalışma, iklim değişikliğinin güneşteki ısı değişimlerinden çok fazla etkilenmediğini gösterdi. Elde edilen bulgular, geçmişte sıcak ve soğuk hava periyotlarının uzunluğunun, güneş aktivitesindeki dalgalanmalardan kaynaklandığını belirten bilimsel görüşü altüst etti. Araştırma, 1800 yılına kadar gerçekleşen son 1000 yıllık iklim değişikliğinde ana etkenin volkanik patlamalar olduğunu gösterdi. Volkanik patlamalar güneş ışınlarının dünyaya erişmesini engelleyerek havanın kurumasına ve soğumasına neden oluyor. 1900'den beri ise Sanayi Devrimi'yle artışa geçen sera gazları, iklim değişikliğinin birinci sebebinin oluşturuyor.

15 Bu parçadan hareketle aşağıdakilerden hangisine ulaşamaz?

- A) Yapılan çalışmalarla daha önceleri kabul gören bir bilimsel görüş çürütülmüştür.
B) Volkanik patlamalar iklim değişikliğinde etkili olmaktadır.
C) Güneşte ısı değişimleri olmaktadır.
D) İklim değişikliği nedeniyle sera gazlarında bir artış olmuştur.

16 Parçaya göre aşağıdakilerden hangisi iklim değişikliğinin temel sebepleridir?


- A) Volkanik patlamalar ve sera gazları
B) Güneş aktivitesindeki dalgalanmalar
C) Sıcak ve soğuk hava periyotlarının uzun sürmesi
D) Atmosferde meydana gelen inceltme

17

Tüketici hakem heyetlerine şikayetlerde “perakende ticaret” başı çekti

Tüketici hakem heyetlerince bu yılın Ocak-Nisan döneminde karar verilen başvuru sayısı

191 BİN 18



Perakende ticaret	83 bin 832	<div style="width: 83.832%;"></div>
Finansal hizmetler	51 bin 422	<div style="width: 51.422%;"></div>
Abonelik hizmetleri	23 bin 294	<div style="width: 23.294%;"></div>
Ulaşım, eğitim hizmetleri	5 bin 840	<div style="width: 5.84%;"></div>
Turizm hizmetleri	Bin 264	<div style="width: 1.264%;"></div>
Diğer	22 bin 707	<div style="width: 22.707%;"></div>

TÜKETİCİ HAKEM HEYETLERİ



Tüketici hakem heyetleri 1995'ten bu yana hizmet veriyor. Tüketici hakem heyetlerince bugüne kadar karara bağlanan başvuru sayısı 14 milyonu aştı.

Bu metinde aşağıdakilerden hangisine başvurulmamıştır?

- A) Karşılaştırmaya
- B) Sayısal verilerden yararlanmaya
- C) Tanımlamaya
- D) Açıklamaya

18 Çağrışım: Bir düşünce, görüntü vb.nin bir başkasını hatırlatması.

Buna göre aşağıdakilerden hangisi "umut, özgürlük ve bilim" sözcüklerinden herhangi birini çağırır?



19 Şiir yazarken şairin ön planda tutması gereken en önemli unsur olarak içeriği gösterenler var. Bu kabul edilebilir bir şey değil. Çünkü bir şairi diğerlerinden ayıran ve onun adını nesillere taşıyan en önemli özellik, ele aldığı konu değil anlatımıdır. Çağları aşan, evrenselliği yakalamış şairlere baktığımızda hepsinde aynı özellik görülür.

Yukarıdaki parçada aşağıdaki anlatım türlerinden hangisi ağır basmaktadır?

- A) Öyküleme
- B) Betimleme
- C) Tartışma
- D) Açıklama

20 Ne zaman yeni bir resme başlasam bir tedirginlik kaplar içimi ve elim ayağım dolaşır. İlk kez fırçayı ele alıyordum gibi ayrıntıları atar, konuyu yalınlaştırıp basitleştiririm. Düşünüyorum da bu duygu hiç bırakmadı yakamı yıllardır. Çıraklık gibi ustalık da frenliyor beni. İyi eserler ancak böyle bir çalışmayla çıkıyor.

Kendisinden bu şekilde söz eden bir ressamın, eserlerindeki en belirgin özellik aşağıdakilerden hangisidir?

- A) Sade ve öz olma
- B) Hayal ürünü olma
- C) İlk bakışta anlaşılma
- D) Üstünkörü oluşturulma

21



- 1- Hastanın kolu bitişik bir masa ya da destek teşkil edecek başka bir yerden desteklenmelidir.
- 2- Nabız atışının hissedildiği yere stetoskopun tamburu yerleştirilmelidir.
- 3- Tansiyon aleti pompalayarak şişirilmelidir, pompanın anahtarı gevşetilerek yavaş yavaş boşaltılmaya başlanmalıdır.
- 4- Tansiyon aletinin arızalı olduğu tespit edildiğinde kesinlikle kullanılmamalıdır.

Tansiyon ölçümü sırasında nasıl durması gerektiğini bilmeyen bir kişi, kullanma talimatında numaralanmış ifadelerin hangisine dikkat etmelidir?

- A) 1 B) 2 C) 3 D) 4

ÇIKMIŞ SORU

22

- I. Çünkü bu tepelere değil yüklerle tırmanmak, yürüyerek çıkmak bile çok ağır bir spor gibi.
- II. Her birimizin taşıması gereken yük altı yedi kilo var.
- III. Oduncular, köküne zarar vermeyecek şekilde meşeleri kesiyor ve kızağa yüklüyorlar.
- IV. Onlar taşınacak ipleri, baltaları ve diğer malzemeleri hazırlamış; bizi bekliyorlar.
- V. Bu ağırlığın ne demek olduğunu dağa tırmandıkça daha iyi anlıyorum.
- VI. Dağdan odun indirecek odun ekibiyle buluşmak için sabah erkenden köyün meydanına geldik.

Numaralanmış cümlelerle anlamlı bir metin oluşturulduğunda hangisi dışarıda kalır?

- A) II B) III C) IV D) V

ÇIKMIŞ SORU

23

Okuru olmayan bir ülkede dergi çıkartmak, suya yazı yazmak gibidir. Tutku olmasa ne kadar da imkânsız bir iş. Bu, kitap eleştirisi üzerine çıkan bir dergiye hele... Malum, özellikle genç okurların yönelimi daha çok edebiyat ve şiir dergilerine olurken eleştiri dergileri maalesef rafların arkasında kalıyor.

Bu metinde altı çizili sözlerle anlatılmak istenenler aşağıdakilerin hangisinde sırasıyla verilmiştir?

- A) büyük çaba gerektirmek - satış amacı gütmemek
- B) kalıcı olmaya çalışmak - ilgi çekmemek
- C) boş yere uğraşmak - yeterince tercih edilmemek
- D) sıkıntılara göğüs germek - köklü bir geçmişe sahip olmak

24

- Sosyal medyada farklı iletişim ortamları bulunurken bu ortamın kullanıcıları da gün geçtikçe artmaktadır.
- Sosyal medya kavramı, 1970'lerde ortaya çıkmıştır.
- Sosyal medyanın hızla gelişmesinde bilgisayar ve internet kullanımında yaşanan gelişmeler önemlidir.

Aşağıdaki metinlerin hangisinde bu cümlelerde ifade edilenlerin tümünden söz edilmiştir?

- A) Sosyal medya; internet teknolojilerini kullanarak iletişim kurmayı, bilgi paylaşmayı ve içerik üretmeyi sağlayan bir platformdur. Sosyal medya, bireylerin internette yazdıkları yazılardan, videolardan, fotoğraflardan ve diğer materyallerden oluşur. Kullanıcı sayısı oldukça fazla olan bu platformda 1970'lerden günümüze, özellikle bilgisayar teknolojisinde yaşanan gelişmelerle birlikte, takip edilemez bir hızla gelişmeler katedilmiştir.
- B) 1990'larda internet teknolojisinde yaşanan gelişmelerle önem kazanan sosyal medya, adında medya olmasına rağmen geleneksel medyadan farklılık göstermektedir. Geleneksel medya ile sosyal medya arasındaki belki en önemli fark özgürlüktür. Geleneksel medya hükümetlerin ve reklam verenlerin baskısı altındadır ve özgürce yayın yapamaz. Sosyal medya ise kolay erişilebilir, herkes tarafından eşit düzeyde müdahale edilebilir, global bir platform olduğundan çok daha özgürdür.
- C) 1900'lerin son çeyreğinde (1970'ler) ortaya çıkan sosyal medya; metin, ses, video, resim paylaşımına olanak sağlamakta, bu özelliği ile de kullanıcılara geniş bir kullanım olanağı sunmaktadır. Artık bireyler sadece izleyici veya okuyucu değil doğrudan bilgi yayan aktörlere dönüşmüşlerdir. Sosyal medya araçlarını kullanarak insanlar; düşüncelerini, deneyimlerini dünya çapında paylaşma imkânı bulmaktadırlar.
- D) Günümüzde, sosyal medya veya yeni medya olarak adlandırılan ortamda; eskisine göre oldukça farklı iletişim ortamları her geçen gün daha da artmakta ve kullanıcı sayıları tahmin edilemez düzeyde artış göstermektedir. Sosyal medya kavramı 1970'lerde, bilgi ve iletişim tabanlı araştırmalarda; sosyal, ekonomik ve kültürel çalışmalar yapan araştırmacılar tarafından ortaya atılmış bir kavramken 90'larda müthiş bir ivme kazanan bilgisayar ve internet teknolojisi ile birlikte genişlemiş ve çok farklı boyutlara ulaşmıştır.

- 25 17 Ağustos 2009 tarihinde 2010 Ajanda Fotoğraf Yarışması için kurul üyeleri Şeniz Kabadayı, İltiş Tezer, Hilmi Etikan ve Behiç Ak (Aras Neftçi yurt dışında olması sebebiyle katılamamıştır.) saat 15.00'te Yıldız Sarayı Dış Karakol binasında toplanarak değerlendirmelerini tamamladı. 161 kişiden gelen 803 fotoğraf (28 adet dia, 775 dijital) arasında yapılan üç turlu elemelerde ajandada yayımlanacak 41 adet fotoğraf belirlendi. Ödül Töreni ve Sergi Açılışı 5 Ekim 2009 Pazartesi günü saat 17.00'de Mimarlar Odası İstanbul Büyükkent Şubesi Karaköy binasında gerçekleştirilecektir.

28 Eylül 2009 tarihinde yayımlanan bu medya metnini yorumlayan biri, aşağıdakilerden hangisini parçadan çıkarılabilecek sonuçlar arasında sıralayamaz?

- A) Fotoğraf yarışması sonucunda belirlenen fotoğraflar, birden fazla eleme aşamasında değerlendirilmiştir.
- B) 17 Ağustos 2009'da, belirtilen fotoğraf yarışması için, beş kurul üyesinin bir arada olduğu bir toplantı düzenlenmiştir.
- C) Fotoğraf yarışmasının ödül töreni ve sergi açılışı henüz gerçekleştirilmemiştir.
- D) Fotoğraf yarışmasında yüzlerce fotoğraf değerlendirilerek içlerinden sadece 41 fotoğraf 2010 ajandasında yayımlanmaya hak kazanmıştır.

26

İstanbul'da, Kıbrıs'tan göç eden bir ailenin çocuğu olarak dünyaya geldi.

"Millî Türk Talebe Birliđi Tiyatrosu"nda sahneye adım attı. Bu tiyatrodaki tanıştığı Meftin Akpınar ile ayrılmaz bir ikili hâline geldi.

"Ulvi Uraz Tiyatrosu"nda sahnelenen "Hababam Sınıfı" oyunu ile üne kavuştu.

"Sev Kardeşim" filminde canlandırdığı avukat rolüyle sinemaya giriş yaptı.

Tedavi gördüğü hastanede 8 Mayıs'ta hayatını kaybetti.

ZEKİ ALASYA

Bu metinden hareketle Zeki Alasya ile ilgili olarak aşağıdakilerden hangisine ulaşılabilir?

- A) Tiyatroya atılıp başarılı olmasını sağlayan Meftin Akpınar'dır.
- B) Tiyatroya sinemadan önce başlamıştır.
- C) Birçok tiyatro oyunu yazıp bu oyunlarda roller almıştır.
- D) Tiyatro eğitimi vererek birçok ünlü tiyatrocunun yetişmesini sağlamıştır.

SORULAR

TEST 4

1

At nalı yengeçlerinin kanı, beyazla açık sarı arasında bir renktedir ancak oksijene maruz kaldığında maviye dönüşür. Kan; içinde bulunan amebosit adlı bir madde nedeniyle, bakterilerle karşılaştığında hızlı bir şekilde pıhtılaşma özelliğine sahiptir.

Kenya'da yapılan bir araştırmanın sonuçları, zebraların siyah çizgilerinin beyaz çizgilerinden daha çok ısındığını gösterdi. Ayrıca ısı farkı oluştuğunda zebraların beyaz çizgilerini oluşturan kılları hareket ettirmeden siyah çizgilerini oluşturan kıllarını dikleştirebildiğini ve böylece vücutlarından ısıyı uzaklaştırabildiğini de ilk kez kanıtlamıştır.

Aşağıdakilerden hangisi bu metinlerin ortak yönlerinden biridir?

- A) Deyim kullanılması
- B) Kişileştirmeden yararlanılması
- C) Düşünce yazısından alınması
- D) Karşılaştırma yapılması

2 K, L, M harfleriyle gösterilen metinler bir yazının giriş, gelişme ve sonuç bölümleridir.

Yapılan bir araştırmada, su aygırlarının dışkılarını nehirlere ve göllere bırakmasının sudaki diğer canlılar için çok önemli olduğu ortaya çıktı. Mara Nehri'ndeki çalışmalar sırasında, su aygırlarının dışkılarındaki silisyumdioksit mineralinin nehirdeki silisyumdioksit oranını %76 artırdığı anlaşıldı. Bu mineral, suda bulunan tek hücreli algler için hayati öneme sahip. Algler oksijen üretir ve su ekosisteminde besin zincirinin temelini oluştururlar.

Araştırmacılar, Afrika'daki su aygırlarının sayısının avlanma ve yaşam alanlarının yok edilmesi gibi nedenlerle büyük ölçüde azaldığını belirtiyor. Son yıllarda Afrika'daki su aygırlarının yaklaşık %90'ı yok olmuş. Dışkılarından sulara geçen silisyumdioksit eksikliğinin, göl ve nehirlerdeki diğer canlıları kötü yönde etkileyebileceği belirtiliyor.

Su aygırları, Afrika'daki göl ve nehirlerin ekosisteminde önemli bir yere sahip. Geceleri otlarla beslenen su aygırları gündüzleri tehlikelerden ve güneşten korunmak için nehir ve göllerin içinde olurlar. Dışkılarını da suyun içine bırakırlar.

Buna göre aşağıdakilerin hangisinde harfler "giriş, gelişme, sonuç" şeklinde sıralanmıştır?

- A) K - L - M
- B) M - K - L
- C) L - M - K
- D) M - L - K

ÇIKMIŞ SORU

3

Bir sanatçıya, gazetecilerle yaptığı sohbet sırasında gazetecinin biri "Efendim, uzun süredir yeni bir eser vermiyorsunuz. Yoksa düşüncelerinizin üzerine kar mı yağdı?" diye sordu. Bunun üzerine sanatçı "Kışın yağan kar, toprağı örterek bitkileri şiddetli soğuktan korur. Toprağın altındaki bitki ve hayvanlar ilkbahara hazırlanır. Karlar eridiğinde tüm canlılıklarıyla hayatlarına devam eder. Evet, benim düşüncelerimin üzerine kar yağdı." şeklinde cevap verdi.

Bu metinde sanatçının "Evet, benim düşüncelerimin üzerine kar yağdı." sözüyle anlatmak istediği aşağıdakilerden hangisidir?

- A) Sanatçılar ürettikçe var olur, bu yüzden her zaman ortaya koyacakları bir eserleri olmalıdır.
- B) Eser üretmekte zorlanan sanatçılar, sanat güçlerini gittikçe kaybederler.
- C) Sanatçılar verimsiz bir dönemde gibi görünseler de yeni eserleri için zihinlerinde hazırlık yaparlar.
- D) Düşünce kısırlığı çeken sanatçılar, düşüncelerini zenginleştirmek için çok iyi gözlem yapmalıdır.

- 4 Gömdükleri yiyecekleri bulurken sincapların sadece koku duyularına güvendikleri düşünülüyordu. Ancak güncel araştırmalar, sincapların birbirine çok yakın konumlanmış stoklardan sadece kendilerine ait olanları açtıklarını ortaya çıkardı. Bu durum, sincapların yiyecek gömerken uzamsal ipuçlarından da faydalandıklarını gösteriyor. Gelişmiş olaysal (epizodik) bellekleri, koku duyusunun işe yaramadığı kar altındaki yiyeceklerini bulmada sincaplara avantaj sağlıyor. Kendilerini izleyen türdeşlerini kandırmak için kazdıkları sahte depoları da uzun süre hatırlayabilen sincapların yaşadıkları bölgenin detaylı zihinsel haritasını çıkarabildiği düşünülüyor.

Bu metinden hareketle aşağıdaki yargıların hangisine ulaşılabılır?

- A) Sincaplar, gömdüklerini koku duyusuyla bulmaktadır.
 B) Sincapların görsel hafızası çok geliştiğinden kar altındaki yiyecekleri bulmaları kolaylaşıyor.
 C) Sincaplar, görüntüleri hatırlayarak yiyecekleri bulmaktadır.
 D) Sincaplar kendi türdeşlerinin de saklamış olduklarını farklı duyularla bulmaktadır.

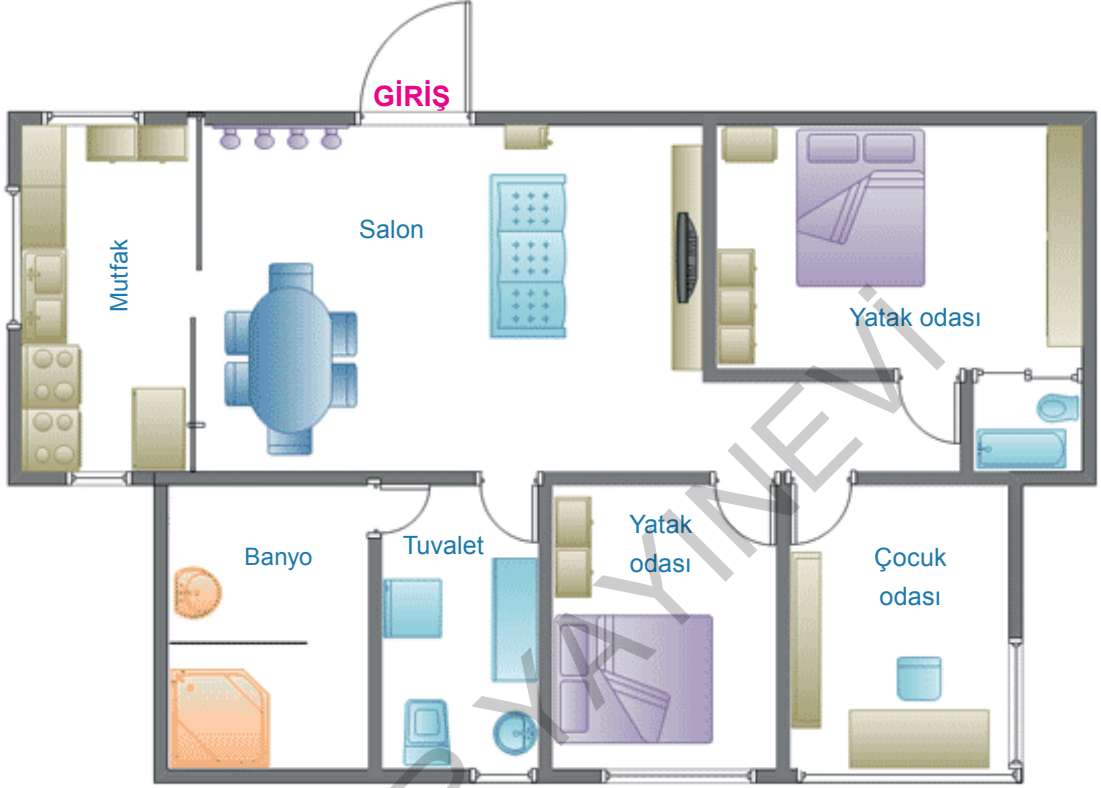
5

Söyleyenin kendi düşüncesini, duygusunu veya beğenisini içeren cümlelere öznel cümleler denir. Doğruluğu ya da yanlışlığı kişiden kişiye değişir.

Bu açıklamaya göre aşağıdaki medya metinlerinin hangisinde öznel bir anlatıma başvurulmuştur?

- A) Sivrisinekler nefes verdiğimizde çıkan karbondioksitin kokusunu yaklaşık 50 metrelik bir menzilden algılayabiliyor. Karbondioksit kaynağına yaklaştıkça, 5-15 metre arası mesafede hedefini görsel ipuçlarıyla netleştiren sivrisinekler, bir metre öteden vücut ısıımızı algılayarak bizi bulmuş oluyor.
- B) Hevesle haşladığımız taze tavuk yumurtalarını soymaya başladığımızda kabukla birlikte kalkan yumurta akları hevesimizi aşırı bir eziyete dönüştürebiliyor. Haşlanmış bayat yumurta ise şaşırtıcı derecede kolay soyulabiliyor. Bu durum, yumurtanın yapısında zamanla gerçekleşen fiziksel ve kimyasal değişimlerden kaynaklanıyor.
- C) Zeytinyağının yapısında bulunan polifenol bileşikler antioksidan işlevi görür. Oksidasyonun düşmesi de hücre hasarını önleyerek birçok hastalığın önüne geçer. Polifenoller ayrıca kan basıncını ve kolesterolü düşürerek kalp hastalığı riskini azaltır. Yüksek polifenollü zeytinyağı, metabolik sendroma sebep olan risk faktörlerinin ortaya çıkışında etkisi olduğu bilinen genlerin ifadesini olumlu yönde etkileyerek kalp sağlığını korumaya yardımcı olur.
- D) İç kulağımızda bulunan vestibüler sistemin bir parçası olan yarım daire kanalları birbirine dik konumlanmış üç kanaldan oluşur. Bu kanallardan her biri kafamızın üç boyutlu uzaydaki dönme hareketinin hangi ekseninde gerçekleştiğini algılamakla görevlidir. Kanallardaki kupula adlı çıkıntılarda bulunan tüy hücreleri, kanalı dolduran endolenf sıvısının hareketlenmesiyle savrulurken durumu sinir hücrelerine iletir.

- 6 Ev almak isteyen Nida Hanım, bir emlakçıya gitmiştir. Emlakçıya, aklındaki ev modeliyle ilgili tüm bilgileri sıralamıştır. Bunun üzerine emlakçı Nida Hanım'a dönerek istediği tüm özellikleri taşıyan bir ev taslağı göstermiştir. Emlakçının Nida Hanım'a gösterdiği ev taslağı aşağıda verilmiştir.



Buna göre Nida Hanım, emlakçıyla konuşurken istediği eve dair bilgileri belirtirken aşağıdakilerden hangisini söylemiştir?

- A) En az üç odası olmasını istediğim evimin giriş kısmı salon olacak şekilde geniş bir alana açılmalı. Girişin hemen sağında mutfak olmalı ve mutfağın kapısı direkt salona açılmalı. Banyo köşe bir noktada olmalı. Yatak odası ve çocuk odası, evin تنها bir kısmında aynı koridor üzerinde yer almalı. Aynı koridorda, misafirler için kullanacağım yatak odasına açılan kapı da yer almalı. Sizden bu özelliklere göre planlanmış bir ev istiyorum.
- B) Evimin büyükçe bir salonu olmalı. Bu salondan evin tüm bölümlerine geçiş olmalı. 2+1 olarak düşündüğüm evin iki odası da yatak odası olarak kullanılacak düzeyde büyük olmalı. Banyo ve tuvalet bir arada olabilir. Mutfak genişçe bir alana sahip olmalı. Ayrıca benim için en önemlisi diyebileceğim durum da salonun, evin hemen girişinde olmamasıdır. Giriş ve salon arasında ayrı bir bölme olmalıdır. Bu özelliklere sahip bir ev var mı elinizde?
- C) Kutu gibi tabiriyle ifade edebileceğim bu evimde, evin planı çok düzgün olmalı. Çocuğumla odamız karşılıklı olmalı. Yaşlı annem için düzenleyeceğim ikinci yatak odası, bizim odalarımızın bulunduğu koridorda olmalı. Evin hemen girişinde yer alan salonun sol alt köşesinde mutfak yer almalı. Kısacası bu özelliklere sahip bir ev arıyorum.
- D) Evimin giriş kısmının sol tarafında mutfak, sağ tarafında da odalar yer almalı. En az dört oda olarak planladığım evimde tüm odalar aynı koridora açılmalı. Bu koridorun dışında evin diğer bölümlerine açılan bir koridor daha yer almalı. Evin iki tane banyosu ve bir tuvaleti olmalı. Mutfağım kare şeklinde olmalı. Şimdi bu özelliklere sahip evleriniz varsa görmek istiyorum.

7 Kızartılmış ya da ızgarada pişirilen yiyecekleri genellikle haşlanmış olanlara tercih ederiz. Bu durum, enzimatik olmayan bir dizi tepkime sonucu ortaya çıkan lezzet ve koku bileşenlerinden sorumlu "Maillard Reaksiyonu" ile açıklanabilir. "Kahverengileşme Reaksiyonları" olarak da anılan bu tepkimeler, adını 1912 yılında proteinler ile şekerlerin etkileşimini açıklayan Louis Camille Maillard'dan alıyor. Başlangıçta şekerin karbonil grubu ile amino asitteki amino grubu tepkimeye geçerek glikozilamin bileşiğini oluşturur. Glikozilaminin molekül yapısının değişmesiyle (izomerleşme) ortaya çıkan yeni bileşik, ortamın pH değeri ölçüsünde yüzlerce farklı bileşeni ortaya çıkaracak olan tepkime zincirini başlatır. Maillard reaksiyonu 140-165°C arasında optimum düzeyde gerçekleşir. Kızartılan yiyeceklerin kahverengileşmesi, tepkimeye açığa çıkan melanoidin polimerleri ile gerçekleşir. Kızartılmış ette bulunan tiyofenler, kızarmış ekmek ve kavrulmuş kahvede bulunan pirazinler ile karamelize esmerleşmeye yol açan furanonlar bu tepkimeyle açığa çıkabilecek ürünlerden sadece birkaçı.

Bu metin aşağıdaki sorulardan hangisine cevap vermek amacıyla yazılmıştır?

- A) Kızartılmış yiyeceklerin zararlarının önlenmesi için yapılması gerekenler nelerdir?
- B) Kızartılmış yiyecekler neden daha lezzetlidir?
- C) Kızartılmış yiyecekler lokanta gibi ortamlarda hangi maddeleri barındırır?
- D) Kızartılmış yiyecekler ve yanlış yemeklerin vermiş olduğu zararlar hangi durumlarda iki katına çıkmaktadır?

8 Aşağıdaki cümlelerden hangisinin anlam özelliği yanlış verilmiştir?

- A) Bu sade dekor, ölümün manzarasını ulvi bir tablo gibi güzelleştirmiştir. → Benzetme
- B) Meslek dışında meraklarından biri, kendi tabiriyle hobisi, fotoğrafçılıktı. → Örneklendirme
- C) Onun ilk nutkunu rutubete bırakılmış bir sünger gibi iliklerime kadar içerek dinledim. → Karşılaştırma
- D) Ona göre işlemeyen, kurulmuş, bozulmuş bir saat, hastalanmış bir insandı. → Benzetme

ÇIKMIŞ SORU

9

- I. Tedirgin etmek, sataşmak
 - II. İnsanın içine işlemek, duygulandırmak, etkilemek
 - III. İlişkin olmak, ilgili olmak, değinmek
- "Dokunmak" sözcüğü aşağıdaki cümlelerin hangisinde numaralanmış anlamlarından herhangi biriyle kullanılmamıştır?
- A) Masamın üzerindeki evraklara kimse dokunmasın.
 - B) Bugün ona dokunmayın, keyfi yerinde değil.
 - C) Bu konuya dokunduklarını pek görmedim eleştirmenlerin.
 - D) Hiçbir şiirin bana bu kadar dokunduğunu hatırlamıyorum.

10

Empati (duygudaşlık), insanın kendisini bir başka insanın yerine koyarak onun duygu ve düşüncelerini anlama ya da hissetme çabasıdır.

Buna göre,

Sürücü Adayı:

– Hocam sürüş esnasında çok heyecanlandım ve bazı küçük hatalar yaptım. Sınavımı olumsuz etkilemeyeceğine inandığım ancak sizin de dikkatinizi çektiğini düşündüğüm hatalar vardı değil mi?

Öğretmen:

–

metinde, öğretmen aşağıdaki cevaplardan hangisini verirse sürücü adayıyla empati kurmuş olur?

- A) Sınava girmiş diğer arkadaşlarında da olmuş mu acaba?
- B) Yanında karar merci olarak benim bulunmama etkilenmiş olabilir misin?
- C) Sence bu heyecanının sebebi ne olabilir? Bunu düşündün mü hiç?
- D) Bu heyecanını yenmek için biraz daha fazla alıştırma yapmalısın.

11 Stres üzerine önemli çalışmalar yapan Hans Selye yaşamda tamamen stressiz bir durumun bulunmadığını ve stres karşısında bedenün üç belirgin aşamada tepki verdiğini belirtmiştir. "Genel Uyum Sendromu" adını verdiği bu sürece göre ilk aşama "alarm aşaması", ikinci aşama "strese uyum sağlama ve direnç gösterme", üçüncü aşama da "tükenme"dir. Bu başlıklar altında incelenen aşamalar aşağıda karışık olarak verilmiştir.

- I. Strese ayak uydurulmaya çalışılır. Kaybedilen enerji yeniden kazanılır ve stres ile baş edilebilir. Stres yaratan faktörün ortadan kaldırılması önemlidir.
- II. Stres yaratıcı faktör ilk kez fark edilir. Yaşanan durum karşısında kan basıncında artış, kan şekerinde yükselme, solunum ve kalp atışında artış gibi benzer bedensel tepkiler harekete geçirilir. Beden çeşitli düzenlemeler yaparak kendini korumaya hazırlanır.
- III. Yoğun stresin olağan dışı sürelerde devam etmesine dayalı olarak ortaya çıkan bedensel tepkiler ile sürekli savunma hali sonucu tükenmişlik ve beraberinde alerji, cilt hastalıkları, ülser, tiroid gibi hastalıklar ve psikolojik hastalıklar ortaya çıkabilir.

Bu aşamalar aşağıdakilerin hangisinde doğru sıralanmıştır?

- A) II - III - I B) I - III - II C) III - I - II D) II - I - III

12



Yukarıdaki medya kaynaklarında verilen ifadeler, sırasıyla hangi atasözleriyle eşleştirilebilir?

	1	2	3
A)	Yalnız taş duvar olmaz.	İşleyen demir pas tutmaz.	Sağlık varlıktan yeğdir.
B)	Ağaç yaprağıyla gürler.	El eli yıkar, iki el yüzü.	Meyve veren ağaç taşlanır.
C)	Sürüden ayrılan kuzuyu kurt kapar.	Ayağını yorganına göre uzat.	Ağaç yaşken eğilir.
D)	Sükût ikrardan gelir.	Yuvarlanan taş yosun tutmaz.	Başın sağlığı, dünyanın varlığı.

13

- Konuşturarak düşüncesini öğrenmeye çalışmak
- Önce söylediğini başka türlü anlatmak
- Bir söz herkes arasında söylenilmek

Aşağıdakilerin hangisinde bu açıklamalardan herhangi birini karşılayan bir deyim kullanılmamıştır?

- A) Gelgelelim Akif, Berlin'e gidip de oradaki kahveleri gördüğü vakit ağız değiştirmek zorunda kalır.
- B) Kolonya dökmekten, şeker tutmaktan, iyi gözü-keçeğim diye ağız etmekten yoruldu.
- C) Gazeteye yansıyan haber ağızdan ağıza geçerken açıklığını hemen hemen tamamen kaybetmiştir.
- D) Ağzımı aradı; rahat mıydım, burada okuyacağımı aklım kesmiş miydi?

14

At nalı yengecinin vücudu baş, karın ve kuyruk bölümlerinden oluşur. En büyük bölüm baş kısmıdır ve organların çoğu buradadır. Başında yedi gözü vardır. İlik bakışta görünen iki yan göz dikkat çeker, diğer gözlerin fark edilmesi zordur. Karnının iki yanı dikenlidir. Bu kısımlarda hareket etmesini sağlayan kaslar ve solunum yapmasını sağlayan solungaçlar bulunur. Üçüncü bölümü olan uzun ve sivri kuyruğunu, yüzerken kendine yön vermek ve ters döndüğü zamanlarda kendini çevirmek için kullanır. Ayrıca bu hayvanların deniz tabanında yürümek ve yüzmek için kullandığı on bacağı vardır. Dişi at nalı yengeçleri erkeklerden daha uzun ve ağırdır.

Bu metinde aşağıdaki sorulardan hangisinin cevabı yoktur?

- A) At nalı yengecinin organlarının büyük bir bölümü vücudunun neresindedir?
- B) At nalı yengecinin vücut yapısına dair özellikler nelerdir?
- C) Erkek ve dişi at nalı yengecinin en önemli farklılığı nedir?
- D) At nalı yengeci denizde yürümek ve yüzmek için hangi organını kullanır?

15

O, yazarken uzaklara, yeni iklimlere gitme eğiliminde değildir. Etrafında gördüklerini, sıradan olayları anlatırken yazdıklarına kendi boyasını vurmaktan öteye gitmez.

Bu cümlede geçen "yazdıklarına kendi boyasını vurmaktan öteye gitmez" sözüyle anlatılmak istenen aşağıdakilerden hangisidir?

- A) Olayları kişisel ve özgün bir biçime dönüştürmek
- B) Olayları sanatsal yönden zenginleştirmek
- C) Eserlerinde sürekli yenilik peşinde olmak
- D) Gözlemlerinde değişiklik yapmadan olayları aktarmak

ÇIKMIŞ SORU

16

- Kartepe Kayak Merkezi, yüksekliği 1606 metre olan bir tepenin zirvesinin altında kurulmuştur.
- Kartepe Kayak Merkezi kış aylarında yoğun bir ziyaretçi akınına uğruyor.

Bu iki cümlenin anlamca doğru bir biçimde birleştirilmiş hâli aşağıdakilerden hangisidir?

- A) Kartepe Kayak Merkezi yoğun ziyaretçi akınına uğrayan, yüksekliği 1606 metre olan bir tepenin zirvesinin altında kış aylarında kurulmuştur.
- B) Yoğun bir ziyaretçi akınına uğrayan Kartepe Kayak Merkezi, kış aylarında yüksekliği 1606 metre olan bir tepenin zirvesinin altında kurulmuştur.
- C) Yüksekliği 1606 metre olan bir tepenin zirvesinin altında kurulan Kartepe Kayak Merkezi, kış aylarında yoğun bir ziyaretçi akınına uğruyor.
- D) Bir tepenin zirvesinin altında kurulan Kartepe Kayak Merkezi, yüksekliği 1606 metre olduğundan kış aylarında yoğun bir ziyaretçi akınına uğruyor.

17

Türk Dil Kurumu Sözlükleri 

anagram Sözlük Seç 

ç ğ ı o ş u â f ö

anagram  **GÜNCEL TÜRKÇE SÖZLÜK**

isim, Fransızca anagramme

Bir kelimedeki harflerin yerleri değiştirilerek elde edilen kelime:
Bakla kelimesinin anagramı ablaktır.

Türk İşaret Dili
Parmak Alfabesiyle Gösterilişi



a n a g r a m

Türk Dil Kurumu sayfasında verilen bilgiye göre aşağıdaki cümlelerin hangisinde birbirinin anagramı olan kelimeler kullanılmamıştır?

- A) Yirmi yıldır bekçilik yapan Bahri, karakollara yapılan ihbar sayısının artmaya başladığını düşünmekteydi.
- B) Yozgat; bugün de şahinlerin yaylağı, haşin dağların uğrağı ve Türk'ün sevgisidir.
- C) Genel anlamda insanlığın kültür tarihini aydınlatmaya çalışan etnolojik çalışmalar, artık teknolojiden de yararlanmaktadır.
- D) Evin bahçeye açılan tahta kapısının üstündeki çardakta sarkan korukları, kaldıraç yardımı ile daha yükseğe kaldırdı.

18

- Brezilya o kadar büyük ve güzel bir ülke ki orada yapılacaklar say say bitmez. Ben de karnaval zamanında Rio de Jenerio'da bulunma şansı yakaladım. Zaten karnavala şahitlik edebilmek için özellikle o tarihte orada bulundum. Bu muhteşem şehirde trafiğe kapatılmış caddelerde; parti otobüsleri üzerinde canlı müzikler yapıldığına ve otobüslerin arkasından da rengârenk kostümleriyle çılgınlar gibi dans eden insan seline şahitlik ettim. Kesinlikle orada müthiş birkaç gün geçirdim.
- Kyoto, Japonya'nın tarihi dokusunu yüzyıllardır hâlâ ayakta görebileceğiniz mahalleleri, tapınakları ile güzeller güzeli bir şehir. Ben de Japonya'nın gelenek göreneklerini, kültürlerini merak ettiğimden bu şehre seyahat ettim. Gezim boyunca halkın yaşayış biçimi ve ülkenin tarihine dair birçok şey öğrendim.
- İtalya, her bir köşesi ayrı bir cennettir. Akdeniz kıyılarındaki şehirlerinde denize girebilir, Venedik'te günün tadını çıkarabilir ve Roma'da günün nasıl geçtiğini anlayamayabilirsiniz. Ben de bunları bildiğimden ve tüm bunları deneyimlemek istediğimden İtalya'ya seyahat ettim. Burada küçük bir sağlık problemi yaşamış olsam da bu, gezimi gölgeleyecek ciddiyette değildi.
- Bambaşka bir hayat tecrübesi edinmek isteyen ve kariyerlerine inşaat ve başka alanlarda bir ivme kazandırmak isteyenler, Dubai'ye seyahat edebilirler. Ben buraya ilk kez gittiğimde şirketimizin yönetici pozisyonundaydım ve şirketimiz adına birçok ihaleye girerek kendi adıma da farklı deneyimler edindim.

Farklı kişilerin bloglarından alınan bu metinlere göre aşağıdakilerden hangisi, gezilerin gerçekleştirilme amaçları arasında sayılamaz?

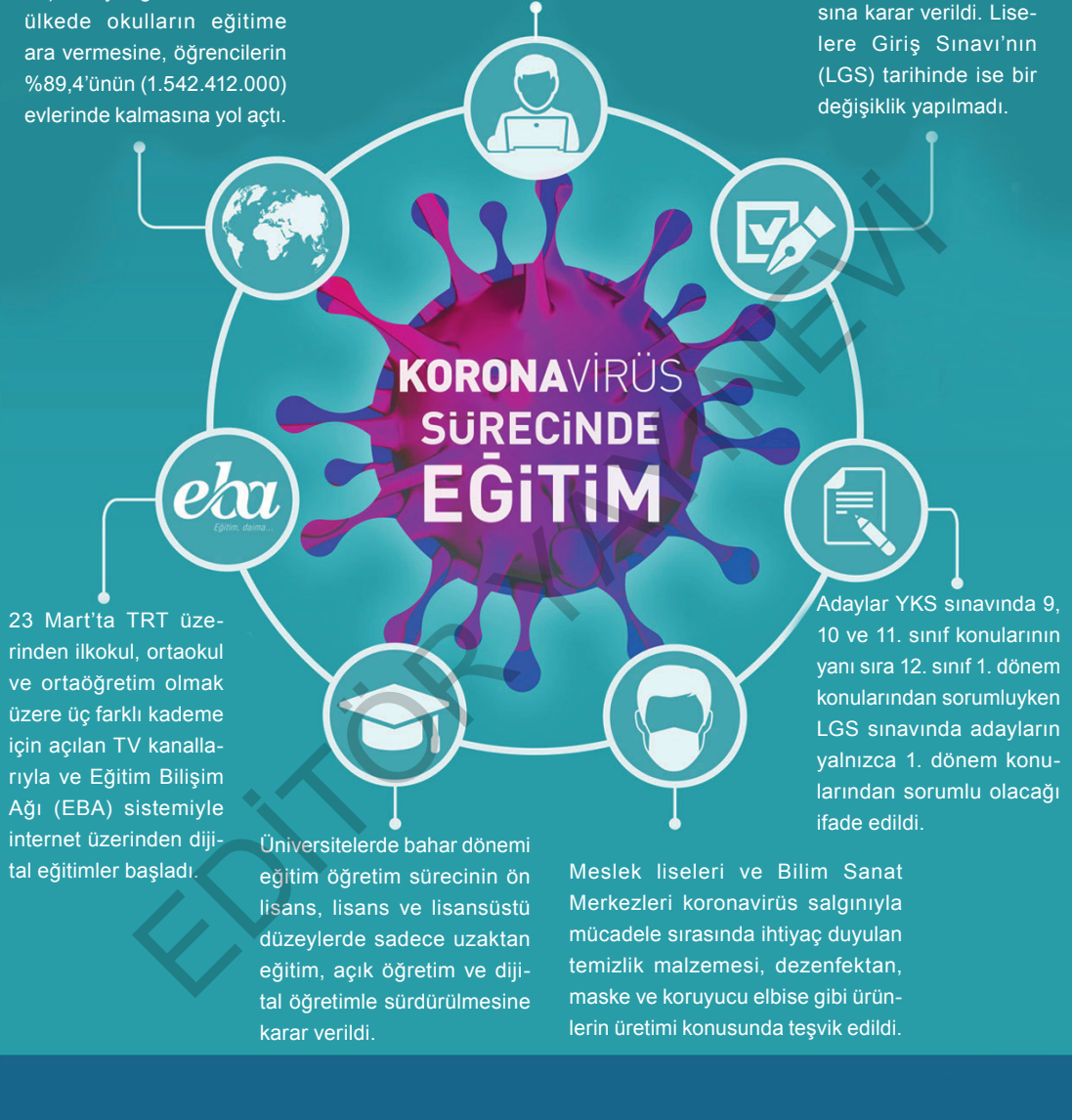
- A) Bilgi edinme B) Eğlence C) Sağlık D) İş

19

Uzak Doğu'da ortaya çıkmasından kısa bir süre sonra tüm dünyayı etkisi altına alan koronavirüs (Covid-19) dünya genelinde 185 ülkede okulların eğitime ara vermesine, öğrencilerin %89,4'ünün (1.542.412.000) evlerinde kalmasına yol açtı.

11 Mart'ta Türkiye'de ilk koronavirüs vakasının görülmesiyle birlikte 16 Mart'tan itibaren 30 Mart'a kadar yüz yüze eğitime ara verildiği açıklandı. Daha sonra vaka sayısındaki artışla okullarda eğitimin 30 Nisan'a kadar yapılmayacağı, bu süreçte eğitimlere dijital olarak devam edileceği açıklandı.

Yükseköğretim Kurumları Sınavı'nın (YKS) 25-26 Temmuz 2020 tarihlerinde yapılmasına karar verildi. Liselere Giriş Sınavı'nın (LGS) tarihinde ise bir değişiklik yapılmadı.



Bu metinde kullanılan anlatım biçimi ve düşüncüyü geliştirme yolu hangi seçenekte doğru verilmiştir?

	Anlatım Biçimi	Düşüncüyü Geliştirme Yolu
A)	Tartışma	Tanık gösterme
B)	Açıklama	Sayısal verilerden yararlanma
C)	Tartışma	Sayısal verilerden yararlanma
D)	Açıklama	Karşılaştırma

20 Tek kelimeyle belirtilebilecek bir kavramı güçlü ve etkin bir anlatım için birden fazla kelimeyle anlatmaya dolaylama denir. "Atatürk" yerine "büyük kurtarıcı" veya "Ankara" yerine "Türkiye'nin kalbi" demek, anlatımda dolaylamaya başvurmadır.

- Fenerbahçe'nin file bekçisi bugün yine göz doldurdu.
- Meşin yuvarlak hızlıca kaleyle buluştu.
- Zonguldak'ta her aileden bir kişi kara elmas ocağında çalışıyor.
- Fabrika sermayesini beş yılda ödedi.

Bu cümlelerde aşağıdakilerden hangisinin dolaylaması yoktur?

- A) Borç B) Kaleci
C) Top D) Kömür

21 Çocuğun insanî vasıflara sahip olarak yetişmesinde, ahlakî değerlerin önemli bir rolü vardır. Ahlakî değerler, çocuğun olumlu davranışlar kazanmasına öncülük ettiği gibi toplum içinde kabul görmesinin de sınırlarını belirler. Çocuğun ahlakî eğitiminden birinci derecede sorumlu olan ebeveynleridir. Ebeveynler, 3-4 yaşından itibaren çocuğun davranış gelişimini yakından takip etmeli ve çocuğun ahlakî kavramları anlamaya başladığı 7-8 yaşından itibaren de ahlakî değerleri ona kazandırmaya başlamalıdır. Çocukluk döneminden itibaren alınan ahlakî telkinler, derin bir tesir bıraktığı için bu dönemin çok iyi değerlendirilmesi gerekir. Ebeveynin çocuğuna zamanında vermediği veya eksik bıraktığı ahlakî eğitimin, ne okulda ne de toplumda hakkıyla telafi edilemeyeceği unutulmamalıdır. Zira gömleğin ilk düğmesi yanlış ilkinince diğerleri de öyle devam etmektedir.

Bu metni açıklayan en uygun atasözü aşağıdakilerden hangisidir?

- A) Çocuk düşse kalka büyür.
B) Ağaç yaprağıyla gürlür.
C) Ağaç yaşken eğilir.
D) Dağ başından duman eksik olmaz.

22 Hayata gözlerimizi açtığımızdan beri yaşadığımız her an; hayattan eksilmiş, harcanmış bir andır. Ömrümüzün her günü işi, ölüm evini kurmadır. Hayatın içindeyken ölümün de içindeyiniz çünkü hayattan çıkınca ölümden de çıkmış oluyorsunuz. Yahut şöyle diyelim isterseniz, hayattan sonra ölümdesiniz ama hayatta iken ölmektesiniz. Ölümün, ölmekte olana ettiği ise ölmüş olana ettiğinden daha derin, daha can yakıcıdır.

Aşağıdakilerden hangisi bu parçada öne sürülen düşüncelerden biri değildir?

- A) Yaşamak, bir yandan da ölmek demektir.
B) Ölümden asla kurtuluş yoktur.
C) Ölüm, doğumla birlikte başlar.
D) Yaşamak, boşa harcanmış bir emektir.

23

- Aşağı yukarı on yıl İzmir'de yaşadım.
- İçeriye sessiz sedasız girip yanıma oturdum.
- Eninde sonunda yanıma gelecek.
- Er geç bana gerçeği anlatacak.

Yukarıdaki numaralandırılmış cümlelerden hangisinde "yaklaşık olarak" anlamına gelen ikileme cümle içinde kullanılmıştır?

- A) I B) II C) III D) IV




























24 **Mevlana'nın** "Başkalarının kusurlarını örtmede gece gibi ol!" sözünde anlatılmak istenen aşağıdakilerden hangisidir?

- A) İnsanların kusurlarının örtülmesine göz yumulması gerektiği
B) İnsanların kusurlarından ötürü utandırılmaması ve mahcup edilmemesi gerektiği
C) Hata yapmanın ve kusurlu olmanın sadece insana özgü olduğu
D) Kusursuz ve hatasız insanın olmadığı

SORULAR

TEST 5

- 1 Aşağıdaki tabloda Antik Mısır alfabesi ve bu alfabedeki sembollerin Türkçedeki karşılıkları verilmiştir. Alfabenin her satır ve sütunu sayılarla numaralandırılmıştır. Bu sayılar kullanılarak bazı kelimeleri oluşturacak kodlar aşağıda verilmiştir. Kodlamaları oluşturan ilk sayı satır, ikinci sayı ise sütun numarasını gösterir. Bu iki sayının kesiştiği noktadaki harf de bu kodu karşılayan harftir.

	1	2	3	4	5	6
1	 A	 B	 B	 C	 D	 E
2	 F	 G	 H	 H	 I	 J
3	 K	 L	 M	 N	 N	 O
4	 P	 R	 S	 T	 T	 U
5	 V	 Y	 Z			













Satır 4 - 6 → Sütun U

Antik Mısır alfabesinde kelimeler soldan sağa okunur.

Buna göre;

- I. 4 - 3 1 - 1 3 - 5 → Eş Anlamlısı
- II. 5 - 2 1 - 1 3 - 1 2 - 5 3 - 5 → Zıt Anlamlısı
- III. 4 - 5 1 - 1 5 - 1 1 - 1 3 - 5 → Zıt Anlamlısı

kodlamaların karşısındaki anlamları karşılayan sözcükler aşağıdakilerin hangisinde doğru verilmiştir?

	I	II	III
A)			
B)			
C)			
D)			

2 Çalışmayı en büyük erdem olarak gören Balzac'a bir gün sormuşlar "Şu anda kıyamet kopsaydı, ne yapardınız?" Balzac, hiç düşünmeden yanıtlamış "Yoluma devam ederdim."

Bu parçada geçen "yola devam etmek" sözüyle anlatılmak istenen aşağıdakilerden hangisidir?

- A) Gerçekleşecek tehlikelere hazır olmak
- B) Dış dünyayı umursamamak
- C) En kötü koşullarda bile iyimserliği korumak
- D) Her şeye rağmen çalışmayı sürdürmek

3 Güneş sisteminin.....başka yıldızların çevresinde dolanan gezegenler ötegezegen (exoplanet) olarak adlandırılır. Tıpkı Güneş sisteminde..... gezegenlerin de etrafında dolandığı yıldızlar vardır.

Bu parçada boş bırakılan yerlere sırasıyla aşağıdaki sözcüklerden hangileri getirilmelidir?

- A) yanı sıra - bazı
- B) etrafında - kimi zaman
- C) etkisiyle - rastlanan
- D) dışında - olduğu gibi

4 Zihin okuma, bilim kurgunun favori (gözde, popüler) konularından biri. Teknolojik gelişmelerse bu konuyu kurgudan gerçekliğe taşıma (dönüştürme)

II yönünde ilerliyor. Geçtiğimiz yıl yapılan araştırmalarda zihin okumanın gerçekleştiği (tasarlandığı) üç

III deney yapıldı. Her ne kadar iletilen (aktarılan) bilgiler basit motor hareket komutları olsa da bu

heyecan verici bir gelişme.

Bu parçadaki numaralanmış sözlerden hangisinin anlamı, ayrıca içinde verilen açıklamayla uyuşmamaktadır?

- A) I
- B) II
- C) III
- D) IV

5 Gözyaşının bile görevi vardır, ardından gelecek gülümseme için temizlik yapar.

Mevlana'nın bu sözüne anlamca en yakın olan cümle aşağıdakilerden hangisidir?

- A) Üzüntü, insanın kişiliğini olgunlaştıran bir duygudur.
- B) Hayatı ağlamakla geçen insan, mutluluğun kıymetini bilir.
- C) Her üzüntünün sonunda bir mutluluk vardır.
- D) İnsan, acılarını mutluluğa dönüştürebildikçe yaşamdan zevk alır.

6 **Aşağıdakilerden hangisi** "Emin Barın, tarihi ve kültürel değerleri koruma konusunda adından söz ettiren günümüzün hat sanatı üstatlarından." **cümlesinden kesin olarak çıkarılabilecek bir yargıdır?**

- A) Tarihi ve kültürel değerler, sanatkarlar tarafından korunmaktadır.
- B) Hat sanatıyla uğraşan Emin Barın, tarihi ve kültürel değerleri koruyan biridir.
- C) Emin Barın, günümüzün en önemli hat sanatçısıdır.
- D) Günümüz hat sanatları üstatları tarihe meraklılardır.

ÇIKMIŞ SORU

7 Son yıllarda toplumumuzun görsel sanatlar sevgisinde bir kıvılcık görülmüyor. Her sanat dalı yaşama açılan pencerelerden biridir. Pencereleri hepten kapanmış binada ömür geçirmeye tahammül edenler, ruh çölünde yaşıyor demektir. Çölden dışarı adım atanlar, yaşadıkları yerlerin duvarlarına resim asmaya, heykelle ilgilenmeye, fotoğraf çekmeye başladılar. Bu, övgüye değer!

Bu metinde geçen "Pencereleri hepten kapanmış binada ömür geçirmek" sözüyle anlatılmak istenen aşağıdakilerden hangisidir?

- A) Çevresindekilerle iletişime kapalı olmak
- B) Sanattan yoksun bir hayat sürdürmek
- C) Hayata farklı açılardan bakmamak
- D) Tek bir sanat dalına yoğunlaşmak

8 Çevre kirliliğini yaratan önemli unsurlardan bir tanesi çöp sorunudur. Ülkemizde her yıl yaklaşık 5 milyon kamyon çöp atıyoruz. Oysa bu çöplerin önemli bir bölümü yeniden değerlendirilebilir. Bununla ilgili yapılabilecek çalışmalardan bazıları şunlardır:

- Geri dönüşümün ilk ve en önemli adımı; ambalaj atıklarının çöplere karışmadan, ayrı olarak biriktirilerek geri dönüşüm kutularına atılmasıdır.
- Evde ya da okulda kullanılan ambalaj atıkları çöp kutusuna değil geri dönüşüm kutusuna atılmalıdır.
- Çevrede ya da okulda geri dönüşüm kutusu yoksa belediye aranarak ihtiyaçlar istenmelidir.
- Büyüklerinizden, geri dönüşüm çalışmaları konusunda yardım isteyebilirsiniz.

Bu metne göre aşağıdaki afişlerden hangisi geri dönüşümün önemi ile ilgili değildir?



9 ve 10. soruları aşağıdaki metne göre cevaplayınız.

Sanat ne tamamen toplumsal ne de tamamen bireyseldir. Sanatı belirli kalıplara sığdırma yönünde sarf edilen çabalar havaya kılıç sallamaya benzer. Sanat özgürlüğü sever, başına buyruktur o. Şu ya da bu ol denmez sanata. Bu sebeptendir ki özgür kalabildiği her toplumda gelişen ve toplumu da geliştiren sanat, zincire vurulduğu toplumlarda yerinde saymış hatta gerilemiştir.

9 Bu parçanın ana düşüncesi aşağıdakilerden hangisidir?

- A) Hiçbir toplum sanatsız olamaz.
- B) Sanatın gelişimi her toplumda aynıdır.
- C) Sanat kendi yolunu kendisi çizmelidir.
- D) Sanatın gelişmesi için eğitime önem verilmelidir.

10 Bu parçanın anlatımıyla ilgili aşağıdakilerden hangisi söylenemez?

- A) Deyim kullanılmıştır.
- B) Kişileştirme yapılmıştır.
- C) Somutlaştırma söz konusudur.
- D) Terimlere yer verilmiştir.

ÇIKMIŞ SORU

11 Anadolu'yu köy köy dolaşmış bir gezgin olarak Maçka'yı her zaman özlerim.

Bu cümleyi dile getiren kişi için aşağıdakilerden hangisi kesin olarak söylenir?

- A) Anadolu'da en son Maçka'yı gezmiştir.
- B) Anadolu'nun dışında başka bir yer dolaşmamıştır.
- C) Gezdiği yerler içinde aklında sadece Maçka kalmıştır.
- D) Maçka'yı tekrar görmek istemektedir.

12 - 14. soruları aşağıdaki metne göre cevaplayınız.

(I) Anadolu'ya uygarlıklar cenneti desek yanlış olmaz ve bu uygarlıklar çoğu zaman bir şehre damgasını vurarak kendisini günümüze kadar taşımıştır. (II) Kimi Anadolu kentlerinin tarihi Hititlere, Friglere kadar uzanır. (III) Bu kentlerden bir bölümünün kaderini doğal ulaşım yolları belirlemiştir. (IV) Özel bir ürünle, üretimle özdeşleşenler olduğu gibi ünlerini önemli bir tarihsel olaya borçlu olanları da vardır. (V) Ankara, tarihi çok eskilere dayanmasa da bugün önemli ve stratejik bir konumdadır. (VI) "Kral Yolu" olarak bilinen yolun üzerinde olan Ankara, ünlü tiftik keçisinden sağlanan yünün işlendiği bir merkezdir aynı zamanda. (VII) Yıldırım Bayezit ile Timur'un savaştığı yer olmasının yanında bu kenti yücelten bir başka yönü de "Anadolu İhtilali"nin kalesi oluşudur.

12 Bu parçaya dayanarak aşağıdakilerin hangisine ulaşılamaz?

- A) Anadolu'da çok eski çağlardan kalan kentler vardır.
- B) Ulaşım, kimi kentler için yaşamsal bir önem taşımaktadır.
- C) Bazı tarihi olayların, kentlerin ünlenmesindeki etkisi yadsınamaz.
- D) Ankara daha çok başkent olduktan sonra büyüyüp gelişmiştir.

13 Bu parça iki paragrafa ayrılmak istense ikinci paragraf hangi cümle ile başlar?

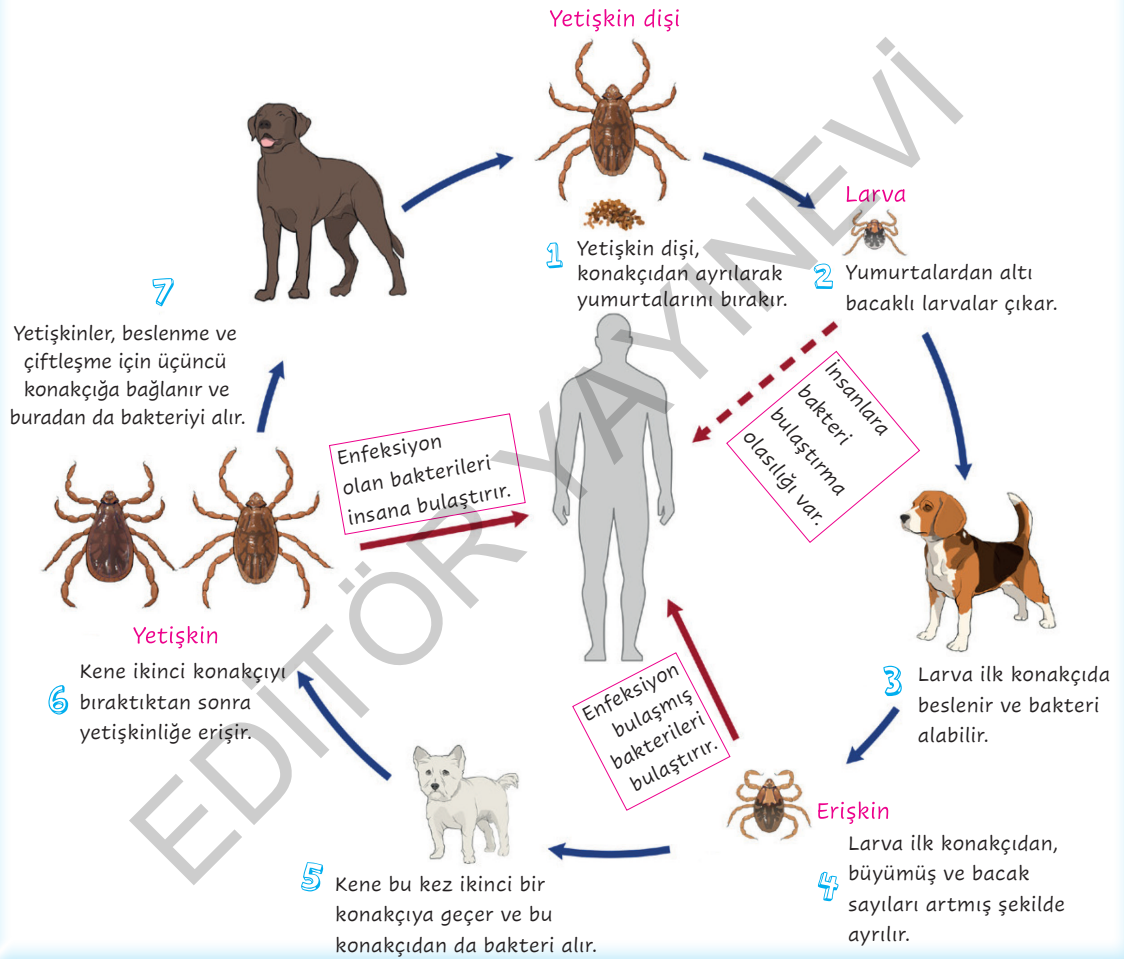
- A) II
- B) III
- C) IV
- D) V

14 Bu parçada Ankara'nın hangi özelliğine değinilmiştir?

- A) Hangi uygarlıklardan izler taşıdığı
- B) Tarihteki yeri
- C) Başkent oluşu
- D) Doğal güzelliği

15

Kahverengi Köpek Kenesinin Yaşam Döngüsü



Görselle ilgili olarak aşağıdakilerden hangisine ulaşamaz?

- A) Kenenin yumurtadan çıktıktan sonraki bacak sayısında artış ilk konakçıdan sonra görülür.
- B) Yetişkin dişi kene, konakçının üzerinde beslenir ve daha sonra burada çiftleşerek yumurtalarını bırakır.
- C) Erişkin ve yetişkin keneler, enfeksiyon kapmış bakterileri insanlara bulaştırır ama larvalar için böyle bir durum kesin değildir.
- D) Kenelerin larva dönemindeki bacak sayıları ile yetişkin dönemdeki bacak sayıları aynı değildir.

16 ve 17. soruları aşağıdaki metne göre cevaplayınız.

Thomas Edison bir gün okuldan eve geldiğinde annesine bir kâğıt verir ve “Bu kâğıdı öğretmenim gönderdi ve sadece sana vermeme tembihledi.” der. Annesi, oğlunu karşısına alıp koltuğa oturur ve kâğıdı gözyaşları içinde sesli olarak okur: “Oğlunuz bir dâhi. Bu okul onun için çok küçük ve onu eğitecek yeterlilikte öğretmenimiz maalesef yok. Lütfen onu kendiniz eğitin.” Bu mektuptan sonra küçük Edison, ailesinin desteğiyle öğrenimine devam eder, sayısız kitap okur. Aradan uzun yıllar geçtikten sonra Edison’un annesi vefat ettiğinde, o artık yüzyılın en büyük bilim adamlarından biridir ve bir gün eski aile eşyalarını karıştırırken birden bir çekmecenin köşesinde katlı hâlde bir kâğıt bulur, açıp okumaya başlar. Kâğıtta “Oğlunuz şaşkın (akıl hastası) bir çocuktur. Artık kendisinin okulumuza gelmesine izin vermiyoruz... Lütfen onu kendiniz eğitin!” yazılıdır. Edison saatlerce ağıladıktan sonra günlüğüne şu satırları yazar: “Thomas Alva Edison, kahraman bir anne tarafından, yüzyılın dâhisi hâline getirilmiş şaşkın bir çocuktur.”

16 Bu parçaya göre Edison’un bilim insanı olmasında annesinin hangi davranışı etkili olmuştur?

- A) Oğlunun okuluyla sürekli iletişim hâlinde olması
- B) Oğlunun sorunları hakkında öğretmeniyle düzenli olarak mektuplaşması
- C) Oğlunun kişiliğini incitmeden ona yeni bir eğitim ortamı hazırlaması
- D) Bilgi birikimini oğluna özveriyle aktarması

17 Bu parçadan hareketle aşağıdaki yorumlardan hangisi yapılamaz?

- A) Bireysel farklılıklar, başarmak için bir engel değildir.
- B) İyi bir aile, başarı yolunda önemli bir kazanımdır.
- C) Eğitim kurumları, öğrenciler hakkında ön yargılı olmamalıdır.
- D) Bir annenin yalan söylemesi, çocuk için çok yıkıcı sonuçlar doğurabilir.

18 Bir Kızılderili kabilesinde yaşlılardan biri kabilenin çocuklarına eğitim veriyordu. Onlara dedi ki: “İçimde bir savaş var, korkunç bir savaş... İki kurt arasında... Bu kurtlardan birisi korkuyu, öfkeyi, kıskançlığı, üzüntüyü, pişmanlığı, açgözlülüğü, kibri, kendine acımayı, suçluluğu, küskünlüğü, aşağılık duygusunu, yalanları, yapmacık gururu, üstünlük taslamayı ve egoyu temsil ediyor. Diğeri ise zevki, huzuru, sevgiyi, umudu, paylaşmayı, cömertliği, dinginliği, alçak gönüllülüğü, nezaketi, yardımseverliği, dostluğu, anlayışı, merhameti ve inancı temsil ediyor. Aynı savaş sizin içinizde de sürüyor ve diğer tüm insanların içinde de sürüyor.

Çocuklar anlatılanları anlamak için bir dakika düşündüler ve içlerinden biri, yaşlı Kızılderili’ye sordu:

– Hangi kurt kazanacak?

Yaşlı Kızılderili kısaca cevap verdi:

– Beslediğiniz...

Metinde yaşlı bilgenin anlatmak istediği düşünce aşağıdakilerden hangisidir?

- A) Her insanın karakterinde birbirine zıt özellikler vardır.
- B) Doğru ve güzel yanlarımız ortaya çıkmadıkça iyi insan olamayız.
- C) Nasıl bir insan olduğumuz, hangi duyguları güçlü tuttuğumuza bağlıdır.
- D) Koşullar ne olursa olsun doğruluktan ve iyilikten vazgeçmemelidir.

19 Duyu organları yardımıyla bir olayın ya da bir gerçeğin niteliklerini belirlemek amacıyla dikkatli ve planlı olarak yapılan incelemeye gözlem denir. Günlük yaşamda hepimiz belirli ölçüde gözlem yaparız ancak özellikle yazarlar gözlem gücü çok yüksek insanlardır. Kimsenin göremediğini görmeleri ve en küçük ayrıntıdan hareketle koskoca bir eser ortaya koymaları gözlem gücünden kaynaklanmaktadır.

Bu parçanın anlatımında aşağıdakilerden hangisi kullanılmıştır?

- A) Tartışma
- B) Benzetme
- C) Tanımlama
- D) Betimleme

- 20 Aşağıda hareketsiz bir yaşama neden olan aktiviteler, kuvvet ve esnekliği artırıcı aktiviteler, dayanıklılığı artırıcı aktiviteler ve günlük aktiviteler verilmiştir. Ayrıca bu aktivitelerle eşleştirilmiş yiyecekler ve bu yiyeceklerin porsiyonları verilmiştir.



Yukarıdaki görselden hareketle daha sağlıklı bir vücut için;

- I. Haftada üç-yedi defa hızlı yürüyüşler yapmak
- II. Günlük meyve ve sebze tüketimlerini aynı öğünlerde yapmaya dikkat etmek
- III. Her gün 2-3 porsiyon meyve veya süt ürünleri tüketmek
- IV. İşe yürüyerek gidilen günlerde, asansör kullanmak yerine merdivenle çıkıp inmek
- V. Yiyecekleri tüketirken porsiyonları olabildiğince azaltmak

uygulamalarından hangilerinin yapılması gerekir?

- A) Yalnız I B) I ve III C) III ve V D) IV ve V

ÇIKMIŞ SORU

- 21 Doğup büyüdüğüm mahallede herkes birbirini tanırdı. Kimse aç uyumaz; kimsenin düşünüy, cenazesi unutulmazdı. Pek az küslük olur, kalpler kolay kolay kırılmazdı. Bugüne kıyasla masal gibi bir yerd mahallemiz. Şüphesiz, burası eserlerimdeki konuya ve karakterlere yön verdi.

Bu metin aşağıdaki sorulardan hangisine cevap vermek amacıyla yazılmıştır?

- A) Nasıl bir çocukluk geçirdiniz?
- B) Çocukluğunuzun geçtiği yerler eserlerinizi nasıl etkiledi?
- C) Usta bir yazar, yaşadığı yeri eserlerinde ne ölçüde anlatmalıdır?
- D) Günümüzdeki toplumsal ilişkileri nasıl değerlendiriyorsunuz?

- 22 I. Herhangi bir şey ortaya çıkarmak, oluşturmak
II. Dayamak
III. Döndürmek, çevirmek, yöneltmek
- “Vermek” sözcüğü aşağıdaki cümlelerin hangisinde numaralanmış anlamlarından herhangi biriyle kullanılmamıştır?
- A) Arabanın burnunu en tenha kahvelerden birinin önünde rıhtıma verdiler.
B) Kendisi de muhakkak artistlerden, güzel eser veren, güzel konuşan, hayalleri işlek adamlardan hoşlanıyor.
C) Duvara sırtını verip çömeldi, gözünü hamamcının geleceği yola çiviledi.
D) Geçenlerde bir derginin, “Eski ünlüler ne yapıyor?” adlı bir röportajına verdiği cevapları okudum.

- 23 Bir hastanın hastalığına gereken önemi vermesi, doktorun ancak kendini o hasta ile birlikte hasta bilmesi ile sağlanabilir.

Bu cümleyi dile getiren kişi için aşağıdakilerden hangisi kesin olarak söylenebilir?

- A) Hastaların, hastanelerde birileri olmadan kalamayacağını düşünmektedir.
B) Hastane çalışanlarından şikayetçidir.
C) Hastanın hastalığını ciddiye almasının doktorların hastalarla empati yapmaları ile mümkün olduğunu düşünmektedir.
D) Doktorların, hastaların şikayetlerini tam olarak tespit edebilmeleri için kendilerini o hastanın hastalığına yakalanmış gibi düşünmeleri gerektiğini söylemektedir.

- 24 Ön yargı, bir kimse veya bir şeyle ilgili olarak belirli şart, olay ve görüntülere dayanarak önceden edinilmiş olumlu veya olumsuz yargıların tümüdür.

Buna göre aşağıdakilerin hangisinde ön yargılı bir tutumdan söz edilebilir ?

- A) At bulunur, meydan bulunmaz; meydan bulunur, at bulunmaz.
B) Aldığı abdest, ürüttüğü kurbağaya değmedi.
C) Köpek suya düşmeyince yüzmeyi öğrenmez.
D) Attan düşene yorgan döşek, eşekten düşene kazma kürek.

25



Görseli en iyi yansıtan metin aşağıdakilerden hangisidir?

- A) Paramı almak için gitmiştim yanına ama o hâlâ gelmemişti sözleştiğimiz yere. Biraz beklemeye başladım. Beklediğim yerde bir dükkânın önünde inanılmaz bir kalabalık vardı. Belli ki dükkândan bir şeyler satın alabilmek için bekliyorlardı. Az sonra bir tablacı yanaştı dükkânın önüne. Tablasındaki içecekleri kalabalığa satmaya başladı.
B) Emekli olunca İstanbul’u keşfetme vaktim çok oldu. Yine bir gün İstanbul’u gezmeye çıktım. Önünde birkaç kişinin beklediği bir dükkânın önünden geçtikten sonra elinde bir şeyler satan bir çocuk yaklaştı yanıma ve elinde bir kâğıda sarılı şeyi bana uzattı. Ben de gülümseyerek aldım ve parasını verdim.
C) Elimde bidonlarla sokaklarda dolaşmaya başladım. İlk suyu orta yaşlarda deri ceketli bir abi istedi benden. Sonrası da geldi zaten. Ardından başka biri. Bugün de bir şeyler satabilmiş olacaktım. Elim boş dönmeyecektim eve.
D) Dükkânın önündeki kalabalığı seyrediyordum uzun süre. Meraklı bakışlar ve sıcaklığın artmasıyla birlikte bunalan yüzler... Özellikle kadınların bu kalabalıkta bu şekilde sıra beklemeleri beni önce şaşırttı. Ama beni en çok şaşırtan şey ise bir kadının su satan bir çocuğu yanına çağırıp bidonu ondan satın almasıydı.

ÖĞRENCİ SERVİSİ

Türkiye’de her yıl okul servislerinde yaşanan kazalarda onlarca öğrenci hayatını kaybediyor. Bu durum servislerde yaşanan eksiklikleri ve yapılması gerekenleri gündeme getiriyor.

Okul servislerine zamanında binilmeli. Geç gelen her öğrenci şoförün hız yapmasına yol açabilir.




Servisleri kullanan öğrenciler, rehber öğretmen gözetiminde emniyet kemerini takmalıdır.



Araç sürücüleri, belirtilen güzergâh dışına çıkmamalı. Taşıtlarda görüntü ve müzik sistemleri taşıma hizmeti sırasında kullanılmamalıdır. Sürücü araçta sigara içmemeli ve içilmesine müsaade etmemelidir.



Servislerde hostes ya da rehber öğretmen bulundurulmalı. İniş ve binişler, rehber öğretmen denetiminde olmalıdır.



Yolcu indirme ve bindirme anlarında “Dur” lambası çalışır şekilde olmalıdır.



Araçlarda ilk yardım ve trafik setleri bulundurulmalıdır.

- Araçların her 6 ayda bir bakımının yapılması gerekmektedir.
- Araçlarda öğrencilerin kolayca yetişebileceği camlar ve pencereler sabit olmalıdır.



Görselle ilgili olarak aşağıdaki yorumlardan hangisinin yapılması doğru olur?

- Servislerde bulunması gereken hosteslerin sigara içmeyen kişilerden seçilmesi doğru olur.
- Servis şoförleri başka araçların kaza yapmaması için bu araçların geçiş kolaylığını dikkate alarak öğrencileri indirip bindirmelidir.
- Servis şoförleri bazı davranışlarda hem kendileri bulunmamalı hem de bu davranışların sergilenmesini engellemelidir.
- Çevredeki insanları rahatsız etmemek ve gürültü kirliliğine neden olmamak için radyo gibi aletler kullanılmamalı.

SORULAR

TEST 6

1 - 3. soruları aşağıdaki metne göre cevaplayınız.

ÇIKMIŞ SORU

Teknolojik cihazları hayatımızın her sahasında görmek mümkün. Ancak teknolojiyi bilinçsiz kullanmaktan en fazla zararı yeni nesil görüyor. Çünkü doğdukları andan itibaren akıllı cihazlar onların ellerine “elektronik emzik” niyetiyle veriliyor. Bu susturucu emzikle başlayan tanışma ileride teknoloji bağımlılığına dönüşüyor. Bu bağımlılığa dikkat çekmek için “Teknolojisiz Bir Gün” adlı sosyal sorumluluk projesi başlatıldı. Projenin çıkış noktası şöyle açıklanıyor: Teknoloji, yemek gibi bir ihtiyaç lakin yemeğin fazlasının obeziteye yol açması gibi teknolojinin fazlası da “teknoloji bağımlılığına” yol açıyor. Ekran bağımlılığı erkeklerde mobil oyun, bayanlarda sosyal medyayı kontrol etme isteğiyle ortaya çıkıyor. Ortaöğretim çağındaki bir çocuk yılda 1000 saatini okulda geçirirken 1500 saatini TV ve bilgisayar başında geçiriyor. Gençler her gün zamanlarının 229 dakikasını cep telefonu kullanarak öldürüyor. Türkiye’de bir kişi günde ortalama 6 saat TV izlerken kitap okumaya yalnızca 1 dakika ayırıyor. Bütün bunlara çözüm olarak da haftada bir gün “teknoloji diyeti” tavsiye ediliyor. Kadın, erkek, yaşlı, genç farklı kişilere “Teknolojik cihazlar olmadan, bir gününüzü nasıl geçirirdiniz?” sorusuna en fazla verilen cevap “Kitap okurum.” oluyor. Diğer cevaplarsa “Çocuklarımla vakit geçiririm, oyun oynarım, yürüyüş yaparım, resim çizerim, yeni yerler keşfederim, kütüphaneye giderim...” şeklinde sıralanıyor. Eğer siz de teknolojiyi haddinden fazla kullanıyorsanız teknoloji diyeti yaparak sevdiğinizlere vakit ayırıp neler kaçırdığınızı fark edebilirsiniz.

1 Bu metnin dil ve anlatımıyla ilgili aşağıda verilenlerden hangisi yanlıştır?

- A) Yazar, düşüncelerini sorular yoluyla anlatmıştır.
- B) Karşılaştırmadan yararlanılmıştır.
- C) Öznel ifadeler yer verilmiştir.
- D) Düşünce, sayısal verilerle kanıtlanmaya çalışılmıştır.

2 Bu metinde asıl anlatılmak istenen aşağıdaki-lerden hangisidir?

- A) İnsan, zamanını iyi değerlendirmelidir.
- B) Teknoloji bağımlılığı projelerle önlenmelidir.
- C) Bağımlılık yapan şeylerden uzak durulmalıdır.
- D) Teknoloji ölçülü kullanılmalıdır.

3 Metnin son cümlesinin ifade ettiği anlam aşağıdakilerden hangisidir?

- A) Eleştiri
- B) Öneri
- C) Varsayım
- D) Ön yargı

4 Anagram, bir sözcükteki harflerin yerleri değiştirilerek oluşturulan yeni sözcüktür. Örneğin “orman-roman” kelimeleri birbirinin anagramıdır.

Bu bilgiye göre aşağıdaki cümlelerin hangisinde birbirinin anagramı olan kelimeler kullanılmamıştır?

- A) Onun o toparlak yüzü, Akdeniz’in yazını, portakal bahçelerini, derisini anımsatıyordu.
- B) Ahmet Efendi, rüyalarında bile görüyordu define aradığı gençlik maceralarını.
- C) Bu münasebet onları oldukça isabetli bir yola sürüklüyordu.
- D) Kazdıkları kuyu onları gün geçtikçe zehirliyor, adeta sonsuz bir uyku haline geçiyorlardı.

5 Bir toplantıda ya da bitmek bilmeyen bir derste yaptığınız karalamalar, hakkınızda ipuçları veriyor. İşte rastgele çizdiğiniz şekillerin bazı anlamları aşağıda verilmiştir.

- Giderek yükselen basamaklar çiziyorsanız hayatta her daim bir hedefiniz var demektir. Hedefinize ulaştığınızda da kendinize yeni hedefler belirlemekten kaçınmayan bir yapınız var. Bulduğunuz konum size hep yetersiz geliyor ve daha fazlasını istiyorsunuz.
- En stresli toplantılarda ya da toplantıya dair bir şey düşünürken sürekli kağıda daire çiziyorsanız, evrenle uyumlu bir yapınız var demektir. İnsanlarla orta yolu bulmayı seviyorsunuz.
- Satranç tahtasını andıran siyah beyaz kutucuklar çizmek, kafanızı kurcalayan bir şeylerin olduğunu ve bu konuda düşünceli olduğunuzu gösteriyor. Sizi dalgınlığa sürükleyen bu düşünce hakkında doğru karar vermek için her şeyi iyice ölçüp biçmelisiniz.
- Karalama yaparken üçgeni tercih edenler için karar vermek çok zor bir süreçtir. Ancak verdikleri karar onlar için çok önemlidir, geri adım atmazlar. Öğrenmeye ve araştırmaya olan ilgiyi de temsil eden bu şekil, aynı zamanda güçlü bir iradeyi de temsil eder.


Tuna Hanım'ın uzun süredir çözemediği bir sıkıntısı var ve bu sıkıntısını çözebilme için uzun uzun düşünmektedir. Böyle bir günde iş yerinde bir toplantıya katılmak zorunda kalmıştır. Toplantı sırasında da önündeki kağıda istemsizce bir şeyler karalamıştır.

Bu açıklamaya göre Tuna Hanım aşağıda verilen çizimlerden hangisini yapmıştır?

A)




B)



C)



D)



- 6 Akıllı telefonlarda kullanılan fotoğraf makineleri hem kalite hem de özellik açısından (tarafından) I inanılmaz boyutlara ulaştı. Akıllı telefonlarınkiler kıyasla (göre) devasa sayılabilecek büyüklükte II olan dijital SLR fotoğraf makinelerinin pek çok işlevini, akıllı telefonlarla yapmamız artık mümkün. Buna paralel (aynı doğrultuda) olarak, akıllı telefonların yarı profesyonel ihtiyaçlar için kullanımı her geçen gün (gün geçtikçe) artıyor. IV

Bu parçadaki numaralanmış sözlere hangisinin anlamı, ayrıca içinde verilen açıklamayla uyuşmamaktadır?

- A) I B) II C) III D) IV

- 7 Düşüncelerimizi, yazı ile derli toplu anlatmalıyız. Yukarıdaki cümlede altı çizili sözle yakın anlamlı olan bir söz aşağıdaki cümlelerin hangisinde vardır?
- A) Depremde yaşadıklarını düzenli bir şekilde aktarmıştı.
B) Konser sonrası bol bol sohbet etmiştik.
C) Bunların hepsini birden alırsak kârlı çıkarız.
D) Tatil anılarını en ince ayrıntısına kadar yazdı.

- 8 I. En büyük zenginlik, insanın sahip olduklarıyla yetinmesidir.
II. Zengin olmayanlar yetinmeyi de bilmezler.
III. Elindekiyle yetinmeyi bilen insandan daha zengini yoktur.
IV. İnsan daha fazlasını istemeden ilerleyemez.
- Yukarıdaki numaralanmış cümlelerden hangileri anlamca birbirine en yakındır?**
- A) I ve II B) I ve III
C) II ve IV D) III ve IV

- 9 - 11. soruları aşağıdaki metne göre cevaplayınız.

Dünyanın karasal yüz ölçümünün sadece %7'sini (toplam yüz ölçümünün %2'sini) kaplamasına rağmen, dünya üzerindeki canlı türlerinin yarısından fazlası yağmur ormanlarında yaşar. Yağmur ormanları tropik ve ılıman bölge yağmur ormanları olmak üzere iki türdür.

Tropik ormanlar zengin bir biyoçeşitliliğe sahip ekosistemlerdir. Deniz seviyesinden itibaren 3000 metre yüksekliğe kadar olan, sıcaklığın görece yüksek ve yıl boyunca neredeyse sabit kaldığı bölgelerde bulunurlar. Tropik yağmur ormanlarının tropik ormanlardan farkı, aldıkları yıllık yağış miktarının metrekare başına 1500 milimetreden fazla olmasıdır.

İlman bölge yağmur ormanları ise yıllık ortalama sıcaklığı 0°C'nin üzerinde olan bölgelerde bulunur ve tropik yağmur ormanlarına benzer şekilde yıllık yağış miktarının yüksek olduğu alanlardır.

Dünya üzerindeki bitki türlerinin yaklaşık üçte ikisi yağmur ormanlarında bulunur. Günlük hayatta kullandığımız birçok ürünün (örneğin kakao, kahve, orkide, kauçuk) kaynağı yağmur ormanlarıdır. Sadece yağmur ormanlarında yetişen bitkilerden elde edilen bazı maddeler, ilaç üretiminde kullanılır.

- 9 Yağmur ormanlarıyla ilgili aşağıdakilerden hangisine ulaşamaz?

- A) Çeşitli türleri bulunmaktadır.
B) Canlı çeşitliliğinin fazla olduğu yerlerdir.
C) Bazı bitkiler dünya üzerinde sadece bu ormanlarda yetişmektedir.
D) Dünya üzerindeki en gür ormanlardır.

- 10 Bu parçada aşağıda verilen anlatım türlerinden hangisi ağır basmaktadır?

- A) Öyküleme B) Betimleme
C) Açıklama D) Tartışma

11 Tropik yağmur ormanlarının tropik ormanlardan farkı aşağıdakilerden hangisidir?



- A) Yıllık yağış miktarının fazla olması
- B) Daha geniş bir alan kaplaması
- C) İlaç yapımında yararlanılan bazı bitki türlerinin yetişmesi
- D) Yıllık ortalama sıcaklığın 0°C'nin üstünde olması

12

Surrealizm (Gerçeküstüçülük)

Surrealizm (gerçeküstüçülük), 20. yüzyılda Avrupa'da ortaya çıkan bir sanat akımıdır. Şair ve ressamlar I. Dünya Savaşı'nın yol açtığı yıkım karşısında dehşete kapılmış, akılcı tutuma karşı tavır alarak bilinç dışının düşsel dünyasına yönelmeye başlamışlardı. 1924'te yayımladıkları Gerçeküstüçülük Bildirgesi'nde düşüncenin aklın denetimi olmadan ve ahlâk gibi engelleri hiçe sayarak ortaya konmasını savundular. Yapıtlarında nesnelere alışılmamış biçimlerde betimleyen gerçeküstüçü sanatçılar, çoğunlukla düşlerin gizli dünyasını dile getirmeye çalıştılar. Bazen de nesnelere kendi doğal ortamlarından çıkartarak şaşırtıcı, düşsel bir ortama taşıdılar.

Aşağıdakilerden hangisi gerçeküstüçü bir sanatçı tarafından yapılmış olamaz?



ÇIKMIŞ SORU

13

- I. Mutluluğu engelleyen şeylerden biri, çok fazla mutluluk beklemektir.
- II. Mutluluk öyle bir servettir ki bölüşüldükçe çoğalır.
- III. Bilge ve iyi olmadıkça kimse mutlu olamaz.
- IV. İnsan en azla yetindiği zaman mutludur.

Yukarıdaki numaralanmış cümlelerden hangileri anlamca birbirine en yakındır?

- A) I ve III. B) I ve IV.
C) II ve III. D) II ve IV.

14

"....." diye acı bir söz vardır. Yine atalarımız "Düşenin dostu olmaz." demişlerdir. En kara günümüzde üzüntülerimizi paylaşabilen kimse, bu tür sözlerin çok ötesinde kalır. İnsanların birbiri üzerine basıp geçerek yükselmeye kalktıkları, kişisel çıkarların yarıştığı günümüzde bile gerçek dostlara rastlanabiliyor: "Bunu senin için yaptım." demeden yapıyor içtenlikle; yaptığını başımıza kakmıyor. Bu davranış, soluk alır gibi, güneşlenir gibi, yaşama yeniden doğar gibi, kendiliğinden bir olgu; öylesine sade, öylesine içten, öylesine güzel...

Bu parçanın başına düşüncenin akışına göre aşağıdaki cümlelerden hangisi getirilmelidir?

- A) İnsan, giderek dostuna benzer.
B) Felaketiniz, dostlarınızı sizden uzaklaştırır.
C) Dostluk, bu dünyadaki en güzel ilişkidir.
D) Dostlarınızı seçerken dikkatli olmalısınız.

15

(I) Bazen bir yıl, sadece bir vicdanın daha iyi sıkılmasını öğretir insana. (II) Bunlar birikirler ve hesaba kitaba gelmeyen deneyimler oluşur. (III) İş, nesiller boyu adeta sahiplerinin genlerine işler. (IV) Bu uzun yılların sabrı ve birikimi sonunda katlanarak kaliteye dönüşür, kâra dönüşür; tıpkı Çinlinin bambusu, Picasso'nun bir dakikada yaptığı tablosu gibi.

Bu parçada numaralandırılmış cümlelerin hangisinde yargı, örneği ile verilmiştir?

- A) I B) II C) III D) IV

16 ve 17. soruları aşağıdaki metne göre cevaplayınız.

(I) Ülkemiz her geçen gün çevresel etkileri biraz daha geri plana itilen ve geleceğimizle ilgili kaygılar uyandıran bir kalkınma hamlesi içerisine girmiştir. (II) Böyle bir kalkınma modelinde birçok yatırımın bugünkü kısa dönemli getirisinin gelecek nesillerin sağlıklı bir çevrede yaşaması için var olması gereken doğal sermayesini tükettiği görülmektedir. (III) Sanayileşme ve şehirleşme ile birlikte ortaya çıkan çevre kirliliği ve doğal dengenin bozulması gibi çevre sorunlarının tespiti ve çözümünde özellikle kamuoyu oluşturma, halkın katılımının ve farkındalığının artırılmasında sivil toplum kuruluşları (STK) köprü görevi görmelidir. (IV) Yetkili kurumlarca hazırlanan çevre sorunları ile ilgili çözüm stratejilerinin ve eylem planlarının yerel düzeydeki uygulamalarında verimli sonuçların alınabilmesi ancak STK'lerin bu süreçlere paydaş olarak aktif bir şekilde katılmalarıyla mümkündür.

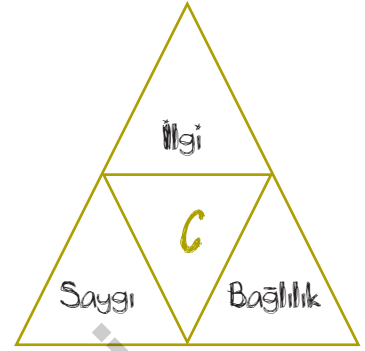
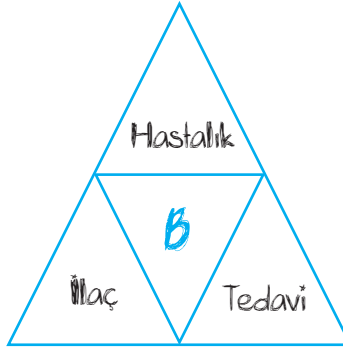
16 Bu metindeki numaralanmış cümlelerle ilgili aşağıdaki tablonun hangi satırında bilgi yanlış yapılmıştır?

	I	II	III	IV
A) Bir durumun gerçekleşmesi bir koşula bağlanmıştır.				✓
B) Bir durumun olumsuz bir seyir izlediği anlatılmıştır.	✓			
C) Aşamalı olarak gelişen bir durumdan söz edilmiştir.		✓		
D) Önem belirten ifade kullanılmıştır.			✓	

17 Metnin son cümlesindeki altı çizili söz, sivil toplum kuruluşlarının hangi anlayışla çalışmasının beklendiğini ifade etmektedir?

- A) Sorunların çözümünde paylaşımcı olmasının
B) Diğer kurum ve kuruluşlarla ortak bir tutum içinde olmasının
C) Sorumluluk bilinciyle hareket etmesinin
D) Çevre sorunlarının neler olduğunu belirlemesinin

- 18 Aşağıdaki üçgenlerde harflerle belirtilen bölümlere, çevresindeki sözcük veya söz gruplarının çağrıştırdığı en uygun kavram yazılmak istenmektedir.




Buna göre, harfle gösterilen yerlere getirilecek kavramlar aşağıdakilerin hangisinde doğru verilmiştir?

	A	B	C
A)	İletişim	Sevgi	Sağlık
B)	Sağlık	Sevgi	İletişim
C)	Sevgi	İletişim	Sağlık
D)	İletişim	Sağlık	Sevgi

ÇIKMIŞ SORU

19



Bilim insanları, tarihî mağaralardan birinin duvarında yukarıdaki şekilleri buluyorlar. Bu şekillerin bilinmeyen bir yazı sistemi olduğuna karar veriyorlar. Bu yazı sisteminde her şeklin bir sözcük olduğu ve sözcüklerin soldan sağa dizildiği sonucuna varıyorlar.

Bu bilgilere göre aşağıdaki şiirlerden hangisi mağara duvarında bulunan sembollerin düzenine uygun yazılmıştır?

- | | |
|---|--|
| A) Bu bir türkü
Toprak çanaklarda
Güneşi içenlerin türküsü | B) Görmek koklamak hissetmek
Alabildiğine koşmak
Alabildiğine koşmak gökyüzüne |
| C) Kuşlar kanat çırpıyor
Süzülüyor gökyüzünde
Gökyüzünde süzülüyor kuşlar | D) Sözlerin özlem kokulu
Beni yüreklendirir
Beni yüreklendirir sözlerin |

- 20 Hatırlarım ilk görüşümü dünyayı,
Bir midye kabuğunun aralığından.
Suların yeşili, göklerin mavisi,
Lapinaların en harelisi...
Hâlâ tuzlu akar kanım
İstiridyenin kestiği yerden.

Bu dizelerin anlamlı ve kurallı cümleler haline getirilmiş biçimi aşağıdakilerden hangisinde verilmiştir?

- A) Suların yeşili, göklerin mavisi, lapinaların en harelisi, kanım hâlâ tuzlu akar. İstiridyenin kestiği yerden, bir midye kabuğunun aralığından dünyayı ilk görüşümü hatırlarım.
- B) Bir midye kabuğunun aralığından suların yeşili, göklerin mavisi, lapinaların en harelisi, kanım hâlâ tuzlu akar; istiridyenin kestiği yerden dünyayı ilk görüşümü hatırlarım.
- C) İstiridyenin kestiği yerden dünyayı ilk görüşümü hatırlarım. Suların yeşili, göklerin mavisi, lapinaların en harelisi, kanım bir midye kabuğunun aralığından hâlâ tuzlu akar.
- D) Bir midye kabuğunun aralığından dünyayı ilk görüşümü hatırlarım. Suların yeşili, göklerin mavisi, lapinaların en harelisi... Kanım, istiridyenin kestiği yerden hâlâ tuzlu akar.

21

- I. Fatih'te yoksul bir gramafon çalıyor.
Eski zamanlardan bir cuma çalıyor.
Durup köşe başında deliksiz dinlesem
Sana kullanılmamış bir gök getirsem
- II. Sesinde ne var biliyor musun
Söylemediğin sözcükler var
Küçücük şeyler belki
Ama günün bu saatinde
Anıt gibi dururlar
- III. Kurt uzaklardan bakar dalgın görürmüş mektebi
Saldırmış ansızın yaydan boşanmış ok gibi
Lakin aşk olsun ki aldırılmaz da otlarmış eşşek
Sanki tavşanmış gelen yahud kılıksız köstebek

Numaralanmış dizelerin hangilerinde ihtimal anlamı vardır?

- A) Yalnız I
B) Yalnız II
C) I ve III
D) II ve III

- 22 Genç kral, bir gece rüyasında ulu bir çınar ağacından yedi yaprağın döküldüğünü ve daha sonra ağacın kuruyup yok olduğunu görür. Aynı rüyayı bir sonraki gece de görünce ülkedeki kâhinleri saraya çağırır. Saraya gelen üç kâhinden ilki, kralın karşısına çıkarak ondan bu gizemli rüyayı dikkatle dinler, uzun uzun düşündükten sonra tabirini izah eder "Yüce kralımız, yakın zamanda evlenecek ve yedi çocuk sahibi olacak. Ancak bu çocuklar hayattayken maalesef kralımız ölecek." Bunu duyan kral, hiddetlenerek kâhinin ölüm fermanını verir. İkinci kâhin de rüyayı aynı şekilde tabir eder ve aynı akıbete uğrar. Son kâhin, hem zeki hem bilge biridir. Kralın rüyasını şöyle açıklar: "Yüce kralımızın dünya tatlısı yedi tane çocuğu olacak. Allah evlatlarınızı size bağışlasın. Dünyanın en büyük acılarından biri evlat acısıdır ve ne mutlu size ki hayatınız boyunca hiç evlat acısı görmeyeceksiniz." Kral, kâhinin bu sözünden çok hoşlanır ve onu bir kese altınla ödüllendirir.

Bu parçada asıl anlatılmak istenen aşağıdakilerden hangisidir?

- A) Öngöründe bulunmak, cesur olmayı da gerektirir.
- B) Gerçeklere sırt çevirerek onlardan kurtulamayız.
- C) Doğruluğu kanıtlanmamış düşüncelerin peşine takılmamalıyız.
- D) Ne anlattığımızdan çok, nasıl anlattığımız önemlidir.

23

- Yaklaştıkça yüzümüze serin bir yeşillik vurdu. Kırmızı elmalar, gök armutlar, sarı ayvalar göründü. Cırcır böcekleri ötüyordu coşkuyla. Bahçenin kıyısı kalın bir böğürtlen çitiyle çevriliydi. Arkadaki yamaçta bakımlı üzüm bağları görünüyordu. Kırmızı, pembe, sarı güllerin birbirine karışan kokusu beni mest etti.

Bu parçadaki ayrıntılar seçilirken aşağıdaki duyuların hangisinden yararlanılmamıştır?

- A) Tatma
B) Görme
C) Koklama
D) İşitme

24 ve 25. soruları aşağıdaki metne göre cevaplayınız.

Bir gün Nasrettin Hoca, caminin bahçesinde oturan kalabalık bir topluluğun karşısına çıkarak “Ey ahali, beni dinleyin! Size ahlak ve maneviyatın önemini anlatacağım.” demiş. Konuşmaya başlamış fakat kısa bir süre sonra ahali onu dinlemeyip kendi aralarında sohbe dalmışlar. Bunun üzerine Hoca, “Yalnız iki kelimecik söyleyeceğim.” demiş ve hemen bir hikâye anlatmaya başlamış: Vaktiyle bir delikanlı, Niğde’den Kırşehir’e gitmek için bir eşek kiralamış. Eşeğini kiraya veren adamla -aynı yere işi düştüğü için- beraber yola çıkmışlar. Konuşa konuşa giderken öğle sıcağı basmış. Biraz dinlenmek ve öğle yemeği yemek için birlikte bir su başına çökmüşler. Ama ortalıkta gölge edecek bir şey olmadığı için eşeğin sahibi, eşeğinin yaptığı gölgeye sığınmış. Eşeği kiralayan genç buna içerlemiş, “Sen çekil, ben oturacağım oraya!” demiş. Öteki ise ne münasebet, eşek benim, deyince eşeği kiralayan “İyi ama onu ben kiraladım!” diye itiraz etmiş. Diğeri “Ben eşeği kiraya verdim, gölgesini değil!” diye devam etmiş. Derken aralarında kavga çıkmış. Sözü burasına gelince Hoca yerine oturmuş. Ahali merakla “Ee, sonra ne olmuş, söylesene Hoca, sonra ne olmuş?” diye bağrışmaya başlayınca, tekrar ayağa kalkmış: “Ey ahali! Sizin iyiliğiniz için laf edeyim dedim dinlemediniz de bir eşeğin gölgesini merak ediyorsunuz, bu ne iştir!”

24 Parçada aşağıdakilerden hangisine yönelik bir eleştiri yapılmıştır?

- A) Topluluk karşısında konuşma kurallarına uyulmamasına
- B) Bilgiye değil gereksiz ayrıntılara önem verilmesine
- C) Yapılan bir anlaşmaya uyulmamasına
- D) Konuşma yapan kişiye saygısızlık yapılmasına

25 Nasrettin Hoca ile ilgili;

- I. Karşılaştığı topluluğa öğretici bilgiler vermek istemiştir.
- II. Kalabalığın dikkatini çekmeyi başarmıştır.
- III. Cami bahçesindeki topluluğa ders vermiştir.

yargılarından hangilerine ulaşılabilir?

- A) I, II ve III
- B) I ve II
- C) I ve III
- D) II ve III

26



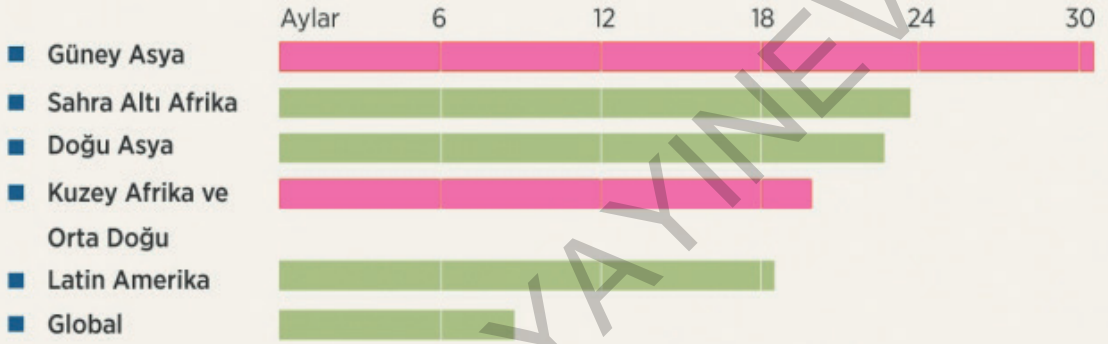
Görseli en iyi yansıtan metin aşağıdakilerden hangisidir?

- A) Yaşlı kadının amacı, caminin arka tarafındaki karmaşıklığından kurtarmaktı. Bu amaçla dalmıştı o karmakarışık otların arasına. Topladıkları önemliydi. Hepsini birer altın değerindeydi.
- B) Eski bir kilisenin bahçesinden sorumluydum. Bahçedeki yabancı otları temizler, ağaçların bakımını yapardım. Yanımda da küçük çelimsiz bir kız çalışırdı. Her zaman dediğimi yapar, hiç sözümden çıkmazdı.
- C) Küçük bir çocuktum. Evimizin bahçesini çok seviyordum. Arkadaşlarımla birlikte bahçenin altını üstüne getirirdik. Bu durum çok eğlenceliydi. Yaptıklarımızdan dolayı pişman değilim, bugün olsa yine yapardım. Sonuçta bunlar benim güzel anılarım.
- D) Yabancı otlara olan ilgim her geçen gün artıyordu. Dağlarda geziniyor, gördüğüm her otu topluyordum. Topladığım tüm otları biriktirmeye karar verdim ve hepsini evimin bodrum katına yığdım.

27

HAVA KİRLİLİĞİ NEDENİYLE DÜNYA GENELİNDE YAŞAM SÜRESİNİN 20 AY KISALACAĞI TAHMİN EDİLİYOR

Bölgelere göre ortalama kısalma süresi



Görsel ile ilgili olarak aşağıda verilen yorumlardan hangisi yanlıştır?

- A) Yaşam süresi Güney Asya'da, Latin Amerika'ya göre daha fazla kısalmıştır.
- B) Yaşam süresi en fazla Kuzey Afrika ve Orta Doğu'da kısalmıştır.
- C) Yaşam süresi Sahra Altı Afrika'da, Global'den daha fazla kısalmıştır.
- D) Yaşam süresi en az Global'de kısalmıştır.

28 Nesnel yargılar, söyleyenin duygu veya düşüncesini içermeyen; doğruluğu ya da yanlışlığı kişiden kişiye değişiklik göstermeyen yargılardır.

Bu açıklamaya göre aşağıdaki medya metinlerinin hangisinde nesnel bir anlatıma başvurulmamıştır?

- A) Tarım ürünlerindeki tarım ilacı kalıntısı; sinir sistemi, solunum sistemi, hormonal denge ve sindirim sistemi gibi yaşamsal faaliyetlerimiz açısından önemli olan sistemlerimizin görevlerinde bozukluklara neden olmaktadır.
- B) Yapılan araştırmalar antibiyotik kullanımının kontrolsüzce artması, faydalı bakterilerin kaybına neden olacak hijyen uygulamaları (örneğin antibakteriyel sabunlar ve diğer kişisel bakım ürünleri), işlenmiş gıdaların tüketiminin artması gibi sebeplerle bağırsaklardaki mikroorganizma grupları arasındaki dengeyi bozar.
- C) Hücrelerle yaptıkları deneyler sırasında kargo proteinleri olarak hücrenin ölümünü tetikleyen proteinlerin sağlıklı hücrelere zarar vermeden kanserli hücreleri öldürmekte hayli başarılı olacağı düşünülüyor.
- D) İnsan beyni, sinirler ve omurilik sayesinde merkezî sinir sistemini kontrol eder, çevresel sinir sistemini yönetir ve hemen hemen insanın tüm işlevlerini düzenler.

SORULAR

TEST 7

1 - 4. soruları aşağıdaki metne göre cevaplayınız.

(I) Rekabete dayalı toplumumuzda babaların en büyük kusuru, çocuklarından ailelerine saygınlık kazandırmalarını beklemeleridir. (II) Bunun kökleri içgüdülerde yatar ve ancak içgüdülere yönelik çabalarla giderilebilir. (III) Bu kusur, daha küçük ölçüde de olsa, annelerde de görülür. (IV) Hepimiz, içgüdüsel olarak çocuklarımızın başarılarından gurur, başarısızlıklarından da utanç duyarız. (V) Ne yazık ki bizim koltuklarımızı kabartan başarılar, çoğu zaman istenmeyecek türdendir.

Uygarlığın doğuşundan hemen hemen günümüze gelinceye kadar çocuklarının kiminle evleneceklerine ana babalar karar vermişler; çoğunlukla da, olanak buldukça, en zengin gelini veya damadı seçerek onların mutluluğunu feda edegelmişlerdir. Batı dünyasında Fransa'nın bir bölümü dışında- çocuklar isyan ederek kendilerini bu kölelikten kurtarmışlarsa da ana babaların içgüdüleri değişmemiştir.

Genelde bir babanın çocukları için istediği ne mutluluk ne de erdemdir; o yalnızca maddi başarı arzular. Onların, dostları yanında övünebileceği çocuklar olmasını ister; onların eğitimi için gösterdiği çabalarda bu istek büyük ölçüde egemendir.

1 Metnin ilk paragrafındaki altı çizili sözün cümleye kattığı anlam, aşağıdakilerin hangisinde vardır?

- A) Yarışmada birinci olduğumu duyan babam, sevinçten ne yapacağını şaşırıldı.
- B) Oğlunun televizyondaki konuşmasını gururla dinliyordu.
- C) Genç arkadaşını yere göğe sığdıramıyor, öve öve bitiremiyordu.
- D) Daha fazla çalışmaları için işçileri durmadan pohpohluyordu.

2 Metnin ikinci paragrafındaki altı çizili sözle anlatılmak istenen aşağıdakilerden hangisidir?

- A) Fransa'nın bir bölümüyle birlikte
- B) Fransa da dahil olmak üzere
- C) Fransa'nın dışında
- D) Fransa'nın bazı bölümleri hariç

3 Metindeki numaralanmış cümlelerin hangilerinde olumsuz bir eleştiri söz konusu değildir?

- A) I ve II
- B) II ve IV
- C) I ve V
- D) III ve IV

4 Metindeki numaralanmış cümlelerden hangisinin anlamı, metnin son paragrafının anlamına en yakındır?

- A) I
- B) II
- C) III
- D) IV

5 Prof. Dr. Olga Jarrett'in içten bir üslupla "Çocuğun Dünyasında Bilim" adlı kitap, bilimin penceresini öğrencilerine öğretmenlere ve çocuklarının eğitimiyle yakından ilgilenen anne babalara sesleniyor.

Bu parçada boş bırakılan yerlere sırasıyla aşağıdaki sözcüklerden hangileri getirilmelidir?

- A) dile getirdiği - sunmak isteyen
- B) birleştirdiği - aktarmak isteyen
- C) kaleme aldığı - aralamak isteyen
- D) süslediği - açmak isteyen

6 Uygur alfabesi, Soğd kökenli olup bazı değişikliklerle Türkçeye uygulanmıştır. Sağdan sola doğru yazılır.

UYGUR ALFABESİ

	BAŞTA	ORTADA	SONDA
e	⤴	⤴	⤴
a	⤴	⤴	⤴
v	⤴	⤴	⤴
o, o	⤴	⤴	⤴
z	⤴		⤴
y	⤴	⤴	⤴
l	⤴	⤴	⤴

	BAŞTA	ORTADA	SONDA
t	⤴	⤴	⤴
s	⤴	⤴	⤴
r	⤴	⤴	⤴
b	⤴	⤴	⤴
n	⤴	⤴	⤴
m	⤴	⤴	⤴
d	⤴	⤴	⤴

Bu bilgilerden hareketle aşağıdakilerden hangisi "Yemen, sade, medet, saadet" isimlerinden herhangi birinin Uygur alfabesine göre yazımı değildir?

A) ⤴ ⤴ ⤴ ⤴

B) ⤴ ⤴ ⤴ ⤴

C) ⤴ ⤴ ⤴ ⤴

D) ⤴ ⤴ ⤴ ⤴ ⤴

- 7 Ben bu kentin yitik (kayıp) bir çocuğuyum. Bundan I
elli yıl önce, bu Belediye Sarayı'nın altında durur, bu görkemli (ürpertici) yapıya bakardım. Yapının II
üzerindeki heykeller, sokakta gezinen bir çocuk olarak bana bir tehdit gibi gelirdi. Bu kent, çalışmalarımın temelini oluşturur. Yürümeyi, konuşmayı bu kentte öğrendim. İlk insan ilişkilerini bu kentte tanıdım (yaşadım). Toplumda sınıfların (farklı sos- III IV
yal tabakaların) var olduğunu bu kentte gördüm.

Bu parçadaki numaralanmış sözcüklerden hangisinin anlamı, ayraç içinde verilen açıklama ile uyuşmamaktadır?

- A) I B) II C) III D) IV

ÇIKMIŞ SORU

- 8 Nasıl başladı, ne vakit başladı bilemiyorum ama ilk belirtiler dokuz yaşımdayken ortaya çıktı. Misafirlerle bahçede oturuyorduk. Yaşlı bir adam saati sordu. Aksi gibi, kimsede saat yoktu. Eniştem içeri, saate bakmaya koştu. Ben o sırada: "Üçü yirmi geçiyor." deyivermişim.

--- Boğazdan geçen vapurlara bakıp zamanı bazen dakikası dakikasına kestirmek mümkünü. Görünürde vapur olmadığı anlaşılınca gözler fal taşı gibi açıldı ve hep bir ağızdan "----" dediler.

"Bilmem." dedim. "Dilimin ucuna geliverdi işte."

Rahmetli halam: "Tasadüf a canım!" dedi. "Attı tuttu işte. Olmaz mı böyle şeyler?"

Öbürküler de: "Evet, tasadüf." dediler. "----" diye de eklediler.

Bu metinde boş bırakılan yerlerden herhangi birine mantık akışına göre aşağıdakilerden hangisi getirilemez?

- A) Ama bu kadar olur yani!
B) Aslında saati biliyordun.
C) Saati tutturamama önce kimse şaşırmadı.
D) Peki ama nasıl bildin?

- 9 - 11. soruları aşağıdaki metne göre cevaplayınız.

Yulaf, "buğdaygiller" familyasından bir tahıl bitkisidir. Bilimsel olarak "avena sativa" adıyla bilinen tam tahıllı bir besindir. Besin değeri, diğer tahıl ürünlerine göre daha azdır. Yulaf taneleri dokunaklı olduğu için pişirmek uzun zaman alır. Bu nedenle genellikle öğütülmüş, ezilmiş veya kırılmış olarak tüketilir. Öğütülerek kullanıldığı başlıca yiyecekler arasında ekmekler ve bisküviler vardır. Yulafın taneleri, yeşil sapı ve samanı hayvan yemi olarak da kullanılır.

Yulafın içeriğinde bulunan "beta glukan" adı verilen çözülebilir lif, yulafa yüksek besin değeri katar. Bir glikoz türü olan beta glukan, bu besinin faydalarının temelini oluşturur. Yüzde 55 oranında çözünebilir, yüzde 45 oranında da çözünemez lif içeren yulaf, vücut için oldukça ideal bir lif kaynağıdır. Ayrıca çok değerli proteinler ve 8 farklı temel aminoasit içermektedir.

En iyi enerji kaynaklarından biri olan yulafın yoğurda veya süte katılarak sabah veya öğleden önce tüketilmesi tavsiye edilir.

- 9 Yulaf ile ilgili olarak;

- I. Ana vatanı Anadolu'dur.
- II. Ekmek ve bisküvilerde kullanılır.
- III. Protein açısından zengindir.
- IV. Diğer tahıl ürünlerine göre besin değeri yüksektir.

yargılarından hangilerine ulaşılabilir?

- A) I ve II B) I ve IV
C) II ve III D) III ve IV

- 10 Yulaf ile ilgili aşağıdakilerden hangisine değnilmemiştir?

- A) Tam tahıllı bir besin maddesi olduğuna
- B) Hayvan yemi olarak da kullanıldığına
- C) Vücut için ideal bir lif kaynağı olduğuna
- D) Sadece sabahları tüketilmesi gerektiğine

11 Yulaf tanelerinin genellikle öğütülerek, ezilerek ya da kırılmış bir şekilde tüketilmesinin nedeni aşağıdakilerden hangisidir?

- A) Yapısı nedeniyle pişirilmesinin uzun zaman alması
- B) En sağlıklı tüketimin bu şekilde olması
- C) Yoğurt ya da süte katılmasını kolaylaştırması
- D) İçinde bulunan lifin yüzde 45 oranında çözünmemesi

12 Hakkından fazlasını isteme, sonra elindekileri de kaybedersin.

Bu cümledeki düşünce aşağıdaki sözlerden hangisini akla getirir?

- A) Hak deyince akan sular durur.
- B) Dilencinin torbası dolmaz.
- C) Dağda gez, belde gez; doğruluğun elde gez.
- D) Deve boynuz ararken kulaktan olmuş.

13 Mademki tatlı dil, her kapıyı açan sihirli bir anahtardır; öyle ise ne duruyoruz, dilimizi tatlılaştırılmı diyeceksiniz? Ama bu ha deyince olacak işlerden değildir. Gönülleri fetheden tatlı dil, bütün gücünü gönülden alır. İnsanın dilinin tatlı olması için gönülünün tatlı, iyi olması gerekir. ---- İnsanı belki kısa bir zaman içinde aldatır ama çabucak da foyası meydana çıkar. Gerçek tatlı dil iyi insanda olur. Yüreği merhametle, sevgi ile dolu insanın dili de kendiliğinden tatlılaşır. Bu dünyada gönül yıkmanın, kalp kırmanın beyhudeliğini anlayacak kadar olgun bir hayat anlayışına varmalı ki insan, en küçüğünden en büyüğüne kadar tatlı dille, güler yüzle seslenebilsin.

Düşüncenin akışına göre bu parçada boş bırakılan yere aşağıdaki cümlelerden hangisi getirilmelidir?

- A) İnsan gönülden geçtiği gibi konuşmalı, sevdiklerinden tatlı dilini esirgememelidir.
- B) Ancak bazı iyi kalpli insanlar da tatlı dilin önemli olduğunun farkında değildir.
- C) İnsan ilişkilerinde samimiyete önem vermeli, içinden geldiği gibi konuşmalıdır.
- D) Kötü bir adamın dökeceği tatlı dil, tilkinin kargaya döktüğü tatlı dil gibidir.

14 - 16. soruları aşağıdaki metne göre cevaplayınız.

1986'da yaşanan "Çernobil Nükleer Faciası"ndan sonra binlerce insan, nükleer serpinti nedeniyle bir daha dönmek üzere evlerini terk etti. Bölgede yeni yapılan bir araştırmaya göre Çernobil'de Kanada geyiği, kızıl geyik, karaca, yaban domuzları ve kurtların sayısında artış var. Elde edilen bulgular vahşi yaşamın kendi hâline bırakıldığında eski hâline döndüğünü gösteriyor.

Çernobil'de kaza öncesinden daha fazla bir vahşi yaşam gözlemlendi. Bu durum radyasyonun vahşi yaşam için iyi olduğunu göstermiyor ancak insan yaşamının, avcılık, çiftçilik, ormancılık faaliyetlerinin veya daha kötüsünün etkilerini ortaya koyuyor. İnsan faktörü ortadan kalkınca vahşi yaşamda nasıl bir gelişme meydana geleceği bu araştırmayla gözler önüne seriliyor.

14 Bu parçadan hareketle Çernobil Nükleer Faciası ile ilgili;

- I. Ne zaman yaşandığı
- II. Neyin sebep olduğu
- III. Etkilerinin neler olduğu
- IV. Ne kadar insanın öldüğü

sorularından hangilerine cevap verilebilir?

- A) I ve II
- B) I ve III
- C) II ve IV
- D) III ve IV

15 İnsanların evlerini terk etmesinin nedeni aşağıdakilerden hangisidir?

- A) Yaban hayatının faciadan zarar görmesi
- B) Ekonomik sorunların ortaya çıkması
- C) Nükleer serpintinin olması
- D) Çiftçilik ve ormancılık faaliyetlerinin yapılamaması

16 Bu parçadan hareketle aşağıdaki yargılardan hangisine ulaşılabılır?

- A) İnsan faaliyetleri, doğal yaşamı olumsuz etkilemektedir.
- B) Hayvanlar radyasyondan etkilenmemektedir.
- C) İnsan faaliyetlerinin olmadığı yerlerde doğal yaşam gerilemektedir.
- D) Çernobil'de bazı hayvan türlerinin sayısı artarken bazılarının sayısı azalmaktadır.

17

Türkiye'nin turizm geliri arttı

Türkiye'nin turizm geliri yılın ilk çeyreğinde geçen yılın aynı dönemine kıyasla yüzde 4,6 artarak 4 milyar 629 milyon 679 bin dolar olarak gerçekleşti.



Bu görselden hareketle;

- I. 2018'in 1. çeyreğindeki gelire 2019'un 1. çeyreğindeki gelir arasında ne kadar fark olduğuna
- II. 2018 yılında en çok ziyaretçi gönderen ülkelerin ne kadar ziyaretçi gönderdiğine
- III. 2018'in 1. çeyreğindeki ziyaretçi sayısının 2019'un 1. çeyreğindeki ziyaretçi sayısından ne kadar az olduğuna
- IV. En çok ziyaretçi gönderen ülkenin ziyaretçileri en fazla hangi şehre gönderdiğine

bilgilerinden hangilerine kesinlikle ulaşılır?

- A) I ve II B) I ve III C) II ve IV D) III ve IV

18 ve 19. soruları aşağıdaki metne göre cevaplayınız.

İnsan, var olduğu günden bu yana sürekli olarak içinde yaşadığı dünyayı ve evreni tanımaya ve anlamaya çalışmış ancak bu çabası içinde en az tanıya-bildiği varlık yine kendisi olmuştur. En gelişmiş canlı olan insanın yine insan tarafından incelenmiş olması bunun başlıca nedeni olsa gerek. Üstelik konu insan davranışları olduğunda, yansız bir değerlendirme yapabilmek daha da güç. Davranışlarımızın gerisindeki dinamik mekânizmaları açıklamaya çalışan araştırmacıların yaşamlarını ve yapıtlarını karşılıklı incelediğimizde, kendi kişilik özelliklerinin, geliştirdikleri kuramlara yansımış olduğunu açık bir biçimde görebiliriz. Bu durum, insanın düşünce üretirken kendinden kopmadığını ortaya koymaktadır.

18 Bu parçada vurgulanmak istenen düşünce aşağıdakilerden hangisidir?

- A) İnsan; anlaşılması zor, değerlendirmelerinde yanlı bir varlıktır.
- B) Bilimsel araştırmalarda tarafsız olmak gerekir.
- C) İnsan davranışlarıyla ilgili araştırmalar gerçeği yansıtmamaktadır.
- D) Evreni ve dünyayı tanımaya yetecek bir teknoloji henüz gelişmemiştir.

19 Bu parçanın anlatım özellikleriyle ilgili aşağıdakilerden hangisi söylenemez?

- A) Öznel ve açıklayıcı bir anlatım sergilenmiştir.
- B) Düşünceler araştırma verilerine dayanılarak kanıtlanmıştır.
- C) Metnin sonunda bir çıkarımda bulunulmuştur.
- D) Olasılık ifade eden cümlelere yer verilmiştir.

20 Küçükken yorganın altına girip kuzenimle birbirimize korku hikâyeleri anlatmaya bayılırdık. (I) Çünkü korku hikâyeleri hep geceleri, özellikle elektrikli kesildiğinde aklımıza gelirdi; hele evde yalnız kalmışsak hem korkar hem de korkmuyormuş gibi yapardık. (II) Korkutulmayı genelde hiç sevmesem de vampir ve hayalet öyküleri hoşuma gider, hayaletlere karşı acıma ile karışık bir korku duyarım. (III) İnsanın neden korkutulmaktan zevk aldığını anlamak çok zor. (IV) Belki yaşamın sıkıcılığından bir an için uzaklaşmak isteği, belki de korkunun gerçek olmadığı düşüncesinin verdiği rahatlık...

Bu parça düşüncenin akışına göre ikiye ayrılırsa ikinci paragraf kaç numaralı cümle ile başlamalıdır?

- A) I
- B) II
- C) III
- D) IV

21 Bir gün evimizin damında fasulye ayıklıyorduk, ay ışığı vardı. Komşu kadınlar da var. Bir ara Ay ışığı kararı, silah sesleri duyuldu. Ay'a eşkıyalar inmiş, kurtaracağız, diye silahlar patladı; tenekeleler çalındı, ezanlar okundu. Sadece bunlar değil. Mesela bir zelzele oldu. Gördünüz mü az oldu çünkü sarı öküz ayağını değiştirdi. Ya başını sallasaydı Allah muhafaza, derlerdi. Bize bunları yüklediler. Sadece bunları değil, mesela cuma günü temizlik yapılacak. Örümceklere dokunamazsın kutsal hayvanlardır; evini bozamazsın, temizlik yapamazsın. Bir hastan olsa benim bir kardeşim vardı, kurşun döke döke öldürdüler. Gece dışarı çıkarsan horoz ötmeden çıkamazsın çünkü horoz ötmeden çıkarsan kapısının eşliğinden geçtiğin herhangi bir evde şeytanlar vardır; üzerine basarsan çarpılıp kalırsın.

Bu parçada yazar aşağıdakilerden hangisinden yakınmaktadır?

- A) Abartılı konuşmalardan
- B) Kötü yargıların yaygınlaşmasından
- C) Olayların olumsuz değerlendirilmesinden
- D) Gerçekten uzak söylentilerden

22

İhtiyacın
olacak

Fırın

Fırın kek
kalıbı

Un



Yumurta



Şeker



Kakao



Süt



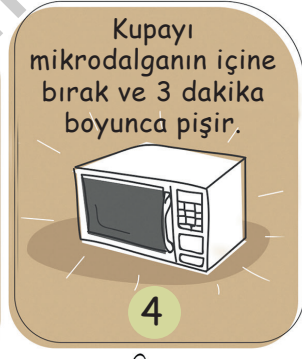
Vanilya



Tereyağı

"Çikolatalı
Kupa Kek" Nasıl Yapılır?

5 dakika



Keyfini Çıkar

Boş bırakılan yere görselle uyumlu olacak şekilde aşağıdakilerden hangisinin getirilmesi gerekmektedir?

A) Keki tabakların üzerine diz.

B) Servis tabağındaki kekleri süsle.

C) Keki bir bıçak ile kupadan ayır.

D) Keki fırına atmak için kaba boşalt.

23 Aşağıdaki cümlelerde altı çizili kelimelerden hangisi, karşısında verilen anlama uygun kullanılmamıştır?

	Cümle	Anlam
A)	Rüzgâr estikçe dal, antene <u>dokunuyor</u> .	Hafifçe değmek
B)	Burayı kötü bir koku <u>aldı</u> , durulamaz hâle geldi.	Bürümek, sarmak, kaplamak
C)	Köyden, kasabadan <u>olmayan</u> ; düveni nasıl bilebilir?	Bir yerde doğmuş, yaşamış olmak
D)	Bu iş hoşuma gitmedi, tuhafıma <u>gitti</u> .	Bir duruma, bir sonuca ulaşmak, varmak

24 Aşağıdakilerden hangisi farklı bir kişi ağızla yazılmıştır?

- A) Yarışmaya katılma isteğini unuttuğum. Türk öykücülüğünü günümüz birikimine ulaştıran yazarların öykülerini okuyor, kavramaya çalışıyor, onlarla bağlar kurmaya çalışıyordum. Öykü merakının, öykü yazma isteğine evrilmesi kiraz ağaçlarının çiçek açmasıyla başlamıştı.
- B) Eve varmak için kullanılan bu dik yokuşu birlikte inmek ne de zor, diye düşünecekti ki vazgeçti. Yalnız inmek de öyle olmalıydı ve bunu düşünmek bile istemezdi genç kadın. Apartmanın önünde, aylardır park edilmiş, öylece kullanılmayı bekleyen otomobilinin yanından geçerken bir kahkahadır koptu.
- C) Zaten alışık olduğum bu durumu yadırgamadım elbette. Kafese yeni kuşlar geldiğinde bu tedirginlik hep olurdu. Sonra birbirimize alışır, kırk yıllık dostların birbirlerine olan içten ve samimi duyguları misali kaynaşır giderdik. Bu defa da öyle oldu.
- D) Birkaç hafta sonra Nazlı iyice bitkin düşmüş, zayıflamış ve yüzü gözünü solmuştu. İkimiz de bu işin sonunu biliyor ama bundan hiç bahsetmiyorduk. Ben geceleri kafesin bir köşesine çekilip sessiz sessiz ağlamaya başlamıştım.

25

Türk edebiyatının zirve şahsiyetlerinden birisi olan Yunus Emre, şiirlerinde daha çok İslâm düşünce sistemini içine alan vahdet-i vücud felsefesine yer vermiştir. Barışın, yaşamının, doğruluğun, Allah'a varmanın kısaca insan olmanın en önemli faktörünün sevmek ve sevilme olduğunu tespit ve tayin etmiştir.

Bu metne göre aşağıdaki dördüklerden hangisi Yunus Emre'ye ait olamaz?

- A) Sufilere sohbet gerek
Ahilere ahret gerek
Mecnunlara Leyla gerek
Bana seni gerek seni
- B) Ben yürürüm ilden ile
Şeyh anarım dilden dile
Gurbette halim kim bile
Gel gör beni aşk neyledi
- C) Gördüm diyen değil, gören
Bildim diyen değil, bilen
Bilen O'dur, gösteren O,
Aşka esir olan benem
- D) Yürü yiğit yürü yoluna yürü
Ağustos'ta erir dağların karı
Gayet güzel olsa yiğidin yarı
O yiğit yanına nazınan gelir

26

Türk kültürünün ve sözlü edebiyatın zengin ürünlerinden biri de atasözleridir. Türk atasözleriyle ilgili yapılan çalışmalarda atasözlerinin, genellikle gerçek ve mecaz anlamlı şekilde ayrıldığı görülmektedir.

Aşağıdaki atasözlerinden hangisinin gerçek anlamlı olduğu söylenebilir?

- A) İyi evlat babayı vezir, kötü evlat rezil eder.
- B) Ucuz alan, pahalı alır.
- C) Alçak yerin tepeceği dağ görünür.
- D) Minareyi çalan kılıfını hazırlar.

27



Yukarıda verilen görselden hareketle aşağıdaki yorumlardan hangisinin yapılması doğru olur?

- Özel Görelilik Teorisi'ne göre ne kadar hızlı gidersen zamanın da bir o kadar yavaşladığını hissedersin.
- Uzayda zaman kavramı olmadığı için orada zaman da mekân da önemli değildir.
- Genel Görelilik Teorisi teleskop gibi basit aletlerle ispatı olabilecek bir teori değildir.
- Uzayda hafif olan her şey zamanın etkisi dışındadır ve hafif olan her şey zamanın etkisi altındadır.

SORULAR

TEST 8

1 - 3. soruları aşağıdaki metne göre cevaplayınız.

Kutuplar, gezegenimizdeki yaşam koşullarının en zor olduğu yerler. Canlılar her şeyden önce çok uzun süren kış dönemi boyunca dondurucu soğukla mücadele etmek zorunda. Kutup bölgelerinde sonbaharın bitişiyile birlikte bembeyaz bir örtüye bürünen çevrede yaşam donma noktasına gelir. Hayvanların çoğu güneye, daha uygun iklimlere göç eder. Ancak hareket edemeyen ya da göç edecek kadar uzağa gidemeyen canlılar, çok uzun sürecek karanlık ve dondurucu soğukla mücadeleye başlar.

(I) Kış yaklaştıkça denizde başlayan buzlanma karalara da yayılır. (II) Bir süre sonra havadaki nem de dahil olmak üzere her şey donar. (III) İlık donmayla birlikte bitkilerin çoğu ölür. (IV) Ancak iğne yapraklı bazı ağaçlar, örneğin çam ağaçları, bu soğuğa dayanabilir. (V) Zaten kutuplara yakın bölgelerdeki tundra yaşam kuşağında iğne yapraklı ağaçlar tayga denen orman kuşağını oluşturur. (VI) Bilindiği gibi tayga ormanları Dünya'yı kuzeyden kesintisiz olarak saran bir kuşak gibidir. (VII) Buradaki ağaçların üzerinde bazen 3 ton kadar kar birikebilir.

Çok kısa süren yaz mevsimi nedeniyle ağaçların büyüme mevsimi de çok kısadır. Bir tohumun çalıya dönüşmesi yıllar sürer. Tayga ormanlarında, daha doğrusu kutup bölgelerine yakın yerlerde yaşayan hayvanların vücutları sıcak iklimdeki akrabalarına göre çok iridir. İri vücut daha iyi ısı yalıtımı sağlar ve bu sayede hayvanlar daha az ısı kaybeder.

Kuzey Kutbu ve çevresine genel olarak değindikten sonra Antarktika'da (Güney Kutbu) yaşamın nasıl devam ettiğine bakalım. Antarktika dünyanın en soğuk yeri olarak kabul edilir. Buna rağmen burada da hayvanlar ve bitkiler yaşamlarını sürdürüyor. Bu bölgeye uyum sağlayan canlıların en ilginç olanları, vücutlarında donma önleyici antifriz molekülleri bulunan bazı balık türleri. Bu antifriz molekülleri sayesinde balıklar sıfırın altındaki sıcaklıklarda da yaşamlarını devam ettirebiliyor. Bu antifriz moleküller biyoteknolojide de kullanılıyor.

1 Metindeki altı çizili sözde kutup bölgesinde hava koşulları kötüleşince hayvanların "daha uygun iklimlere" göç ettiği söylenmektedir. Ancak bu sözde kastedilen iklim değil "bölge veya yer"dir. İklim kelimesi bölge ve yer kelimesinin yerine kullanılmış, dolayısıyla ad aktarması yapılmıştır.

Aşağıdaki cümlelerin hangisinde buna benzer bir örnek kullanılmıştır?

- A) Herkesi selamlayarak otobüsten indi ve karşı kaldırıma geçti.
- B) Domates fiyatlarındaki artışın nedenleri hakkında bilgi verilecek.
- C) Millî maç gecesinde bütün ülke tek yürek olmuştu.
- D) Sabırsız müşteriler bu standın açılması için dışarıda bekliyorlar.

2 Metnin son paragrafındaki kelime ve kelime gruplarının özellikleri hakkında aşağıdakilerden hangisi söylenemez?


- A) Özel ad niteliği taşıyan kelime ve kelime gruplarına yer verilmiştir.
- B) Terim anlam taşıyan ifadeler kullanılmıştır.
- C) "Uyum sağlamak" sözü, hayatta kalabilmek anlamında kullanılmıştır.
- D) Mecaz anlamda kullanılan ifadeler vardır.

3 Metindeki numaralanmış cümlelerle ilgili aşağıdakilerden hangisi söylenemez?


- A) I. cümlede, aşamalı olarak gelişen bir durumdan söz edilmiştir.
- B) III. cümlede, bir durum sebebiyle birlikte verilmiştir.
- C) VI. cümlede, insanlarca bilinen bir durumdan söz edilmiştir.
- D) VII. cümlede, bir durum tamamen abartılı olarak anlatılmıştır.


4

DOĞAYA SAHİP ÇIK




Pratik, tükenmez, dünyanın her yerinde kullanılabilir, yenilenebilir ve tamamen ücretsizdir. En temiz ve çevre dostu enerji kaynaklarındandır.





Kullanımıyla birlikte yola daha az ihtiyaç duyulduğundan açık alan ve yabani hayat tahribatı azalmaktadır. Gaz salımı sıfırdır ve hava kirliliğine yol açmaz.



Erozyonu önler ve toprağı kökleri ile tutarak yağışların ve akarsuların toprağı taşımasını önler.

Yukarıda verilen afişte bir simgenin altındaki açıklama bölümü boş bırakılmıştır.

Bu simge aşağıda verilen cümleler ile eşleştirilirse aşağıdakilerden hangisi boşluğa getirilebilir?

- Amonyak, nitrojen dioksit, sülfür dioksit ve ozon gibi insan sağlığını kötü yönde etkileyen gazların ortadan kalkmasını sağlar.
- İnsanların ve hayvanların hayatını tehlike altına alan çeşitli sağlık sorunlarına neden olan hava kirliliğinin azalmasını sağlayacaktır.
- Canlılar için doğal yaşam alanlarının oluşması sağlanır ve heyelan gibi doğal afetlerin oluşumunu engeller.
- Ham maddelerin azalması ve doğal kaynakların tükenmesi önlenir, böylelikle ülke ekonomisine katkı sağlanır.

5 Hemen hemen birçoğumuzun başına gelmiş ----
----- biridir arı sokması. Önce ciddi bir acı,
arkasından şişlik, ağrı, kızarıklık, kabartı oluşur.
Ağrı birkaç saat içinde geçse de şişlik ----
--- daha uzun sürer. Arı sokmasından sonra, bu
duruma alerjisi olmayan birinin başına gelebilecek
sonuçlar bunlardır. Oysa bir de bu kadar ----
---- olmayan ve arı zehrine karşı alerjisi olanlar
var. Bu insanlar için arı sokması çok daha ciddi
sonuçlara hatta ölüme bile yol açabilir.

Bu parçada boş bırakılan yerlere sırasıyla aşağıdaki sözcüklerden hangileri getirilmelidir?

- A) kötü olaylardan - kesinlikle - umursamaz
B) acı deneyimlerden - genellikle - şanslı
C) güzel anılardan - çoğunlukla - problemlili
D) önemsiz olaylardan - belki de - anlayışlı

6 Kristal yapıdaki minerallerin suda nasıl çö-
zünüldüğünü (eridiğini) anlamak isteyen araştırma-
I
cılar sıvı ile mineral arasındaki bölgeye yoğunlaştı
II
(arttı, çoğaldı). Yer kabuğunda (Dünya yüzeyinde)
III
en çok bulunan minerallerden biri olan kuvars ile
yaptıkları araştırmada, kuvars ile su arasındaki böl-
gede birden fazla tepkimenin meydana geldiği
anlaşıldı (fark edildi). Bu tepkimelerin bir kısmı eş
IV
zamanlı olarak gerçekleşirken bir kısmı art arda
gerçekleşiyor.

Bu parçadaki numaralanmış sözlerden hangisinin anlamı, araç içinde verilen açıklamayla uyusmamaktadır?

- A) I B) II C) III D) IV

7 (I) Güneye doğru indiğimizde göz alabildiğine uzanan bir ovala karşılaştık. (II) Ova, güneşli ve dalgasız bir denizden daha da düzdü. (III) Yolda gelirken gördüğümüz, çalgınca esen rüzgârların oluşturduğu tepcikler de burada yoktu. (IV) Uzaklarda, bir insan boyu yükseklikte, kubbeleştirilmiş, küçük küçük toprak yığınları vardı. (V) Merakla bu yığınlara yaklaştık. (VI) Bunların, bizim evlerimizden çok daha küçük pencerelerinden bakınca içinde yaşayan insanları gördük.

Bu parçadaki numaralandırılmış cümlelerin hangisinde karşılaştırma yapılmamıştır?

- A) I ve III B) I ve V
C) II ve III D) IV ve VI



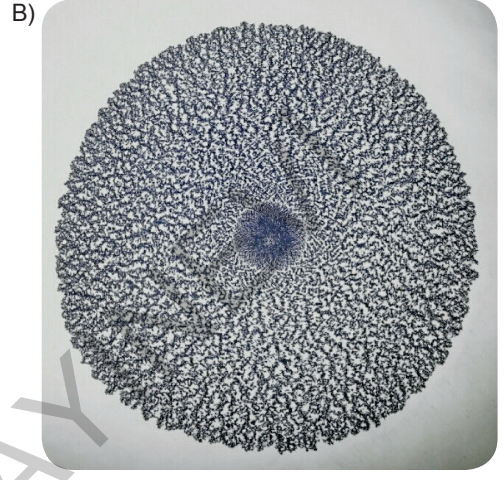
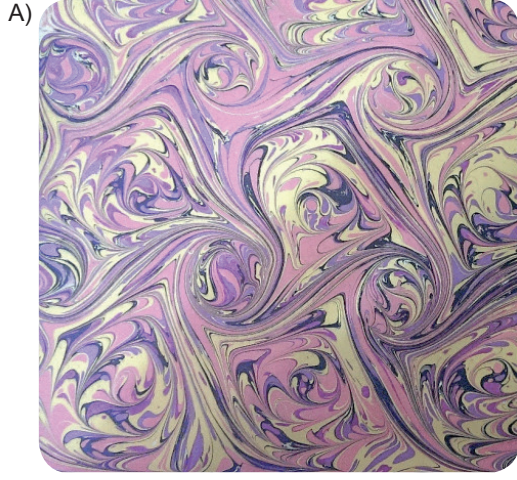
8 Günümüzde "eğitim ve öğretim" hem aileler hem de eğitimciler tarafından yaşamın gündemine oturtulmuş bir durumda. Bir çoğu, bu sektörü ticari bir kulvar olarak görüp bilgi vermekten çok para kazanmayı amaçlayarak görüntülerin kareografisi, renklerin dansı denilebilecek karton yığınları üretmektedir.

Aşağıdakilerden hangisi bu metinde eleştirilen türde bir kitap tanıtım yazısı değildir?

- A) 8. sınıflar için hazırlanmış olan bu kitap sene sonundaki sınav için bir ön çalışma niteliğinde olup klasik soru tarzlarından sıyrılmış, eğlendirerek öğretmeyi amaçlayan görsellerle oluşturulmuş.
B) Kitabın ön kapağını gördüğümde oldukça etkilendim. Geometrik desenlerdeki derinlik algısı ile uzay çağında yaşadığımızı hissettiren yapısı içeriğindeki tek düzelikle örtüşmüyordu.
C) Aralıklarla yerleştirilmiş görsel sorular çözenlerin ilgisini çekerken eksikliklerini tamamlama veya var olanı pekiştirme niteliğine pek sahip değil gibi.
D) Biraz argo olacak ama kitabın düzeyi ve konuları arasındaki tutarsızlığı, şişirme sanat yönü bile kapatamamış. Haliyle seviyenin üzerindeki sorular öğrencilerde "Ben yapamıyorum." sorusunu sorduracak mı diye düşünmüyor değilim.

- 9 Teknedeki sıvı kullana kullana kirlenerek öyle bir kıvama gelir ki atılan boyalar istense de istenmese de kum gibi nokta nokta bir görüntü almaya başlar. Sadece kumlu ebru yapımına battal ebru ile başlanmaz. Bir damla-lıkla tekneye yakın mesafeden aynı nokta veya noktalara boya damlatılır. Boya yayılmaya başlar. Atılan battal ebruya bir biz (tığ) daldırılır ve bütün tekne, birbirine paralel hareketlerle aşağı yukarı veya sola sağa gezilir. Ortaya çıkan gelgit ebruya çizgileri dik olarak kesecek şekilde tekrar aynı gelgit işlemi uygulanırsa buna da taramalı ebru denir. Taramalı ebru da bir gelgit ebru çeşididir.

Aşağıdakilerden hangisi bu metinde sözü edilen motiflerden biri değildir?



10

- I. Şikâyet ettiğiniz yaşam, belki de başkasının hayalidir.
- II. Bizi mutlu eden şeyler başkasını mutsuz edebilir.
- III. Hayattan ne istediğimizi bilmemiz gerekir.
- IV. Sahip olduğumuz şeylerin kıymetini bilmeliyiz.

Yukarıdaki numaralanmış cümlelerden hangileri anlamca birbirine en yakındır?

- A) I ve II B) II ve III C) I ve IV D) III ve IV

11 Aşağıdaki cümlelerin hangisinde yargı bir koşula bağlanmıştır?

- A) Hayat bir hikâye gibidir, ne kadar uzun olduğu değil ne kadar güzel olduğu önemlidir.
- B) Göğün her yerde mavi olduğunu anlamak, güzelliklerini keşfetmek için pek çok sıkıntıya katlandık.
- C) Sanatçı, yaşamını yaşadığı gibi anlatmamalı ama sonraları anlatacağı gibi yaşamalıdır.
- D) İnsanların çoğu küçük şeylerden başarılı olabilirlerdi, büyük hırslar peşinde koşmamış olsalardı.

12 Aşağıdaki cümlelerin hangisinde bir çıkarımda bulunulmuştur?

- A) Arkadaşlarla, birbirimize uzak oturduğumuzdan görüşemiyoruz.
- B) Soğuklardan korunabilmek için kat kat giyiniyordu.
- C) Bulutların çoğalmasından yağmurun yağacağını anlamıştık.
- D) Senin için hazırladığım böreklerin hepsini o yemişti.

ÇIKMIŞ SORU

13 "Küçük Prens'in Güzel Hikâyesi" adlı bu nefis kitap, Antonie de Saint Exupery'nin yazdığı Küçük Prens öyküsünün tam metninin yanı sıra yayımlanmayan bir bölümünü, Küçük Prens karakterinin orijinal çizimlerini ve Küçük Prens üzerine yazılmış makaleleri içeriyor.

Aşağıdakilerden hangisi bu cümlede sözü edilen eserle ilgili kesin olarak söylenir?

- A) Kahramanın hayat hikâyesini anlattığı
- B) İki bölümden oluştuğu
- C) Küçük Prens'le ilgili farklı çalışmalara yer verdiği
- D) Küçük Prens hakkında yapılan en kapsamlı çalışma olduğu

14 ve 15. soruları aşağıdaki metne göre cevaplayınız.

Yerkürenin derinliklerinde magma eriyik hâlde bulunur. Magma katı hâldeki yer kabuğu tarafından tamamen kapatılmıştır. Yerin derinliklerindeki magmanın yeryüzünde veya yeryüzüne yakın derinliklerdeki faaliyetlerine volkanizma denir. Bu tür faaliyetler daha çok yer kabuğunun kırıklı bir yapıya sahip olduğu yerlerde (fay hatları boyunca) oluşmaktadır.

Volkanizma sırasında magma katı, sıvı ve gaz hâlinde yeryüzüne çıkar. Çıkan sıvı maddelere lav, katı maddelere tüf denir. Gazların çoğu ise su buharıdır. Volkanizma ile çıkan malzemeler, çıktığı yerde birikerek volkan konilerini oluşturur.

Lavların akıcılığı az ise yüzeye çıktıktan hemen sonra katılarak dikey istikamette yükseltisi fazla olan volkan dağları oluşur. Bunlara kalkan volkanları denir.

Volkan konilerinin tepesinde bulunan çukurluğa krater denir. Bazı yanardağlarda ana koni üzerinde oluşmuş yan koniler de olabilir. Bunlara parazit koni denir. Volkanik patlamalarla bazı volkanların tepe kısmı uçarak çok büyük çanaklar oluşur. Bu çanaklara kaldera, gaz patlaması sonucunda oluşan çukurlara ise maar denir.

14 Aşağıda verilenlerden hangisi bu parçada tanımlanan kavramlardan biri değildir?

- A) Tüf
B) Magma
C) Krater
D) Kalkan volkanları

15 Volkanizma ile ilgili;

- I. Yerin derinliklerinde bulunan magmanın faaliyetleriyle ilgilidir.
- II. Volkanik faaliyetler fay hatları doğrultusunda görülür.
- III. Volkanik faaliyetler sonucu magma sadece katı hâlde açığa çıkar.
- IV. Volkanizmaya neden olan unsur volkan konileridir.

yargılarından hangilerine ulaşamaz?

- A) I ve II
B) I ve III
C) II ve IV
D) III ve IV

- 16 Aşağıdaki tablolarda mobilya malzemeleri ve bu malzemelerle yapılan bazı mobilyaların hangi mekânlar için yapıldığı verilmiştir. Hangi mekân için nasıl bir malzemeden mobilya yapıldığı “✓” işareti ile belirtilmiştir.

MOBİLYA MALZEMELERİ		
Mobilya Malzemeleri	HAM MADDE	ÖRNEK
Sunta	İnce, yuvarlak odunlar	İşlenmesi kolay ama dayanıksız.
Suntalam	Ahşap	Çizilmeye, yanmaya, suya dayanıklı.
MDF	Dal, tepe uçları	Çizilmeye, yanmaya, suya dayanıklı.
MDFlam	Metal	Çizilmeye, yanmaya ve suya dayanıksız.
Laminat	Reçine sıvısı	Çizilmeye, yanmaya ve suya dayanıksız.

Bazı İş Yerlerine Yapılan Mobilyalarda Kullanılan Malzeme Türleri		Suya dayanıksız	Çizilmeye, yanmaya dayanıklı	Suya dayanıklı	Çizilmeye dayanıksız	Yanmaya dayanıksız
KULLANILAN YERLER	Fabrika		✓	✓		
	Şantiye		✓	✓		
	Bekleme Salonu	✓			✓	✓
	Oturma Odası	✓			✓	✓

Bu tablolardan hareketle aşağıdaki olayların hangisinde mobilya yapımı konusunda hatalı davranıldığı söylenebilir?

- Oturma odası için yapılacak olan mobilya, reçine sıvısı kullanılarak yapılmıştır.
- Şantiye için hazırlanmış mobilya, MDF kullanılarak yapılmıştır.
- Fabrika için hazırlanmış mobilya, MDFlam kullanılarak yapılmıştır.
- Bekleme salonu için hazırlanmış mobilya, laminat kullanılarak yapılmıştır.

17 Aşağıdaki atasözlerinden hangisi “bir işe girmeden önce her şeyin en ayrıntılı biçimde düşünülmesi gerektiğini” ifade eder?

- A) Bin merak, bir borç ödemez.
- B) Bir musibet bin nasihatten iyidir.
- C) Ağılda oğlak doğsa ovada otu biter.
- D) Bin ölçüp bir biçmeli.

18 Uzun süredir romanlar üzerinde çalışıyorum. Nice romanı, yazar olarak titizlikle inceleyerek okudum. Bu çalışmalarımın sonunda “Bir romanın büyüklüğü nasıl anlaşılır?” sorusuna yanıt buldum. Sorarım “Hangi romanı okuduktan sonra bir kez daha okuma gereksinimi duyduunuz?”

Bu parçaya göre yazarın “büyük roman” ölçütü aşağıdakilerden hangisidir?

- A) Yazarının ününü sürdürmesi
- B) Yeniden okuma isteği uyandırması
- C) Romanın ilk günkü değerini koruması
- D) Geniş bir okuyucu kitlesini ilgilendirmesi

19 Semtin sırtlarında bir yerdeyim. Rüzgârın serinliğini, saatin tik taklarını, bir sineğin uçuşunu duyabiliyorum gün ortasında bile, öyle sessiz. Evden çıkıp yürüyerek aşağıya, sahile indiğimde canlı bir İstanbul köyündeyim. Tepedeki kalabalık yerleşim bölgesinin ötelere doğru yürüdüğümde ise kuş sesleriyle dolu bir ormana varıyorum. Zümrüt vadilerin göz alabildiğine uzandığı; servilerin, söğütlerin arasından uzak, kırmızı çatıların görüldüğü henüz yağmaya uğramamış topraklara...

Yukarıdaki parçanın anlatımıyla ilgili aşağıdakilerden hangisi söylenemez?

- A) Birden fazla duyuya seslenen ayrıntılara yer verilmiştir.
- B) Betimlemeler nesnel bir yaklaşımla yapılmıştır.
- C) Anlatım, birinci kişinin ağzından aktarılmıştır.
- D) Yansıma sözcükten yararlanılmıştır.

20 Fırsat, ilkin alınıdaki perçemini gösterir, yakalamazsan kafasının dazlak yanını çevirir ya da ilkin testinin kulpunu uzatır, sonra tutulması güç olan karnını çeviriverir. Bir işe zamanında başlamaktan, zamanında iş yapmaktan daha büyük bir erdem yoktur.

Yukarıdaki parçayı anlam yönünden en iyi biçimde özetleyen cümle aşağıdakilerden hangisidir?

- A) Her işin kendine özgü tehlikeleri vardır.
- B) Elimizden kaçan fırsatları düşünüp yılgınlığa düşmemeliyiz.
- C) Aşırı kaygılı insanlar her zaman başarısız olurlar.
- D) Başarmak, ele geçen fırsatın vaktinde değerlendirilmesine bağlıdır.

ÇIKMIŞ SORU

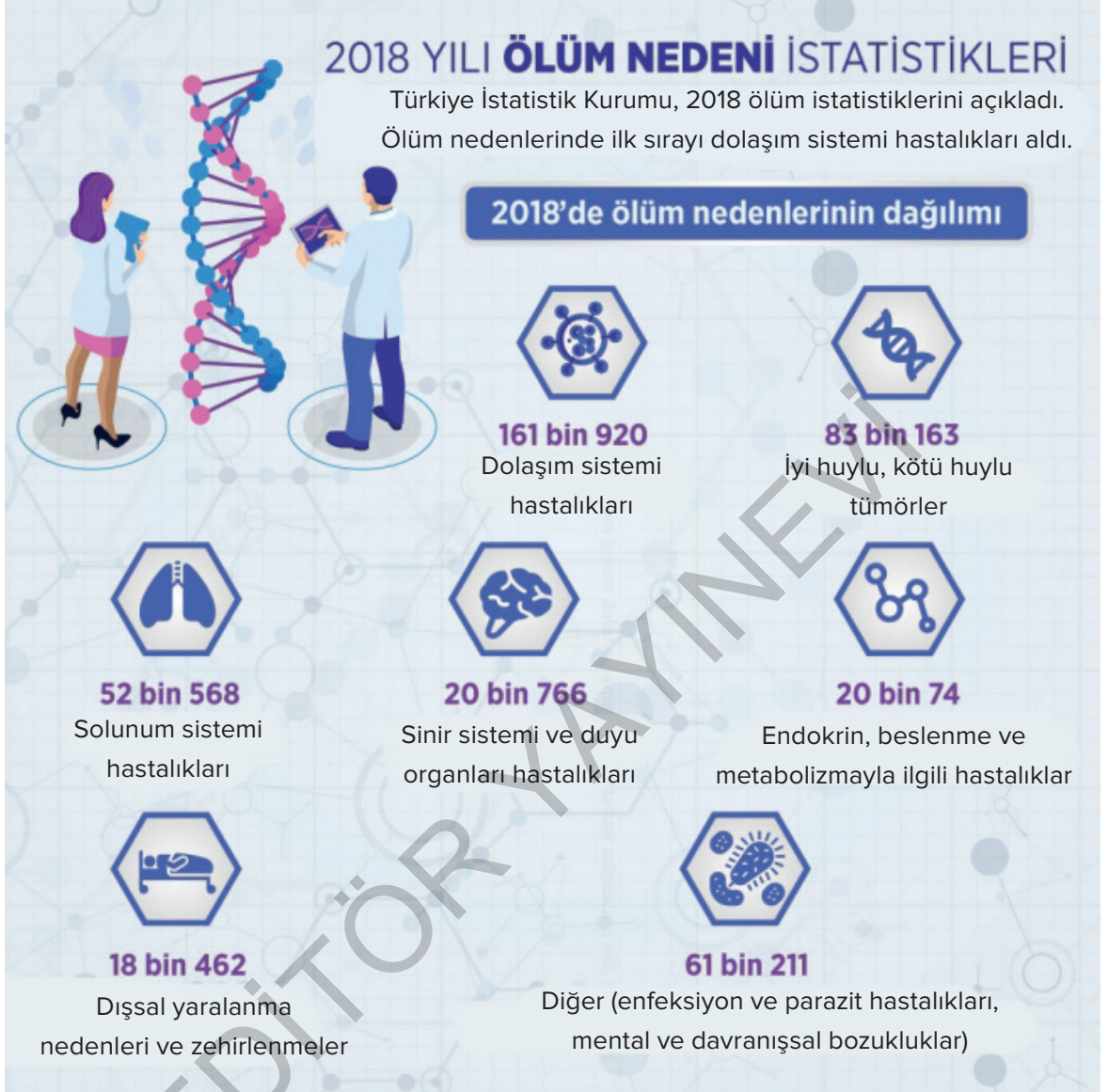
21 Koca bir ömür yaşamış tecrübeli insanlar, gençlerin umursamaz hareketlerini gördükçe onlara “---” diye nasihat etmekten geri durmazlar. Ama kaç genç bu sözün önemini kavrayabilir? Hâlbuki hayat ilerledikten sonra insanların duydukları birçok pişmanlık, gençlikte bile bile kaybettikleri imkânlar yüzündendir.

“O zamanlar niçin daha çok okumadım? Niçin daha çok çalışmadım?” diye dizlerini döven insanlara hayatta çok rastlanıyor. Bu insanların neden bu kadar üzüldüklerini gençler anlamasa bile feleğin çemberinden geçmiş yaşlılar çok iyi anlıyor.

Bu metinde boş bırakılan yere düşüncenin akışına göre aşağıdakilerden hangisi getirilmelidir?

- A) Büyüklerin sözünü dinleyin
- B) Elinizdeki olanakların kıymetini bilin
- C) Geçmişe takılıp kalmayın, geleceğe odaklanın
- D) Hayatta hep mutlu olmaya çalışın

22



Görsel ile ilgili olarak aşağıdakilerden hangisinin söylenmesi doğru olur?

- A) Tanımlamaya başvurulmuştur.
- B) Öznel bir anlatım ağır basmaktadır.
- C) Karşılaştırmaya başvurulmuştur.
- D) Tanık göstermeye başvurulmuştur.

23 Aşağıdaki cümlelerin hangisinde bir yargı gerekçesiyle birlikte verilmiştir?

- A) Geleceğiyle ilgili vereceği kararlarda her zaman ailesinin fikirlerini alırdı.
- B) Yazarın yeni romanı okuyucular tarafından büyük ilgi göreceğe benziyor.
- C) Bu mesleğin çeşitli açılardan kendisine çok uygun olduğunu düşünüyordu.
- D) Çocuğunun rahatsızlığı, çalışma disiplini olumsuz etkiliyordu.

- 24 Deyimler; bir dilin söz varlığı açısından ifade kabiliyeti, zenginliği, etkin söz söyleme gücü ve işlenmişlik seviyesi hakkında ipuçları taşır. Bizim dilimizde de sayısızca deyim olmasının dilimizin zengin çerçevesini belirtmektedir. Bazı halk şairlerimiz bu durumun farkında olduklarından şiirlerinde dilimizin zenginliklerinden biri olan deyimlere yer vermişlerdir.

Aşağıdaki şiirlerden hangisi bu açıklamaya örnek verilemez?

A) El yanında kara etmem yüzünü
Karda gezer belli etmem izimi
Hemen özü gibi bilsin özümü
Ruhsatî'yi sınar diye korkmasın
Ruhsatî

B) Evvel Allah, ahir Allah
Andan ulu gelmemiştir
Hak Muhammed'den sevgili
Hakk'ın kulu gelmemiştir
Karacaoğlan

C) El vurmam topak ile taşına
Soğuk su katmadım pişmiş aşına
Seyrânî yaratan kulun başına
Güzel çirkin başa kakmaz istemez
Seyrânî

D) Aşığına zâra çalmış
Gıya bakmış nara çalmış
Suçu ne ki kara çalmış
O gözlerin binasına
Ercişli Emrah

- 25 8. sınıf öğrencisi Serap, hayatındaki ilkleri sıraladığı bir kitapçık hazırlamaya karar verir. Bunun için resimli ve renkli kartlar oluşturur. Tüm kartları hazırladıktan sonra bebeklik dönemindeki ilkleri hatırlamadığını fark eder ve bu konuda büyüklerinden yardım ister.

Buna göre Serap, aşağıdaki kartlardan hangisini doldururken büyüklerinden yardım almamış olabilir?

A)



B)



C)



D)



SORULAR

TEST 9

1 - 3. soruları aşağıdaki metne göre cevaplayınız.

Sherlock Holmes'ü bilir misiniz? Arthur Conan Doyle'un yarattığı hayali İngiliz dedektifi... 1800'lü yılların ortalarında yaşayan bu roman kahramanı, polisiye edebiyatın en önemli figürlerindedir. Acar ve gözü pek bir dedektiftir. Tuttuğunu koparı. Ele aldığı tüm polisiye olayları sonuna kadar götürür ve çözer.

Peki, Holmes'ün bu becerisi neye dayanır? Olayları nasıl böylesine bir dantel titizliğiyle işleyerek çözebilmektedir? Onu diğerlerinden ayıran nedir? Olay yeri inceleme teknikleri mi? Hayır. Arkasında güçlü bir destek grubunun olması mı? Değil. Hatta arkadaşı Doktor Watson haricinde hiç kimsesi yoktur, arada bir ortaya çıkan ağabeyini saymazsak. Sağlam bir medyum yardımı da yoktur.

(I) Holmes'ün başarılı olmasının en büyük nedeni, onun gözlem becerisidir. Evet, gözlem becerisi. (II) Hayatta kalmamızı sağlayan, türümüzün devamının en önemli itici gücü. (III) Holmes, gördüğü her şeyi büyük bir hızla inceler, derhal kafasına kazır. (IV) Bir başka deyişle veri tabanına yerleştirir. (V) Kimsenin dikkatini çekmeyecek pek çok detay, Holmes için son derece önemlidir. Her şeyi gözlemler. (VI) Hatta 2011 yapımı "Sherlock Holmes: Bir Gölge Oyunu" filminde de arkadaşının "Ne görüyorsun?" sorusuna "Her şeyi, bu benim lanetim!" şeklinde cevap vermektedir.

Görmek fiili bence burada ana iskeleti oluşturur. ALES sınavında sorulan bir soruda, "Gözlerin açık olduğu için gördüğünü sanıyorsun" cümlesinin açıklaması istenmektedir. Konuyu ne kadar da güzel izah ediyor, değil mi?

1 Metnin ilk paragrafındaki altı çizili sözlerin ortak yönü aşağıdakilerden hangisidir?

- A) Atasözü olmaları
B) Terimsel anlam değeri taşımaları
C) Deyim olmaları
D) Özdeyiş olmaları

2 Metnin ikinci paragrafındaki cümlelerin anlatım özellikleriyle ilgili aşağıdakilerden hangisi söylenemez?

- A) Soru ve cevap yoluyla diyaloga benzeyen bir anlatım sergilenmiştir.
B) Sherlock Holmes'ün başarılarının nedeni belirtilmiştir.
C) Anlatımda konuşma diline yakın bir doğallık vardır.
D) Okuyucunun verilecek cevap konusunda merakı artırılmıştır.

3 Metnin üçüncü paragrafında numaralanmış cümlelerle ilgili aşağıdakilerden hangisi söylenemez?

- A) I. cümlede neden-sonuç ilişkisi vardır.
B) VI. cümlede düşüncüyü destekleyen bir örnek verilmiştir.
C) III. cümlede beğeni dile getirilmiştir.
D) V. cümlede sözü edilen kişinin başkalarından farklı bir yönü anlatılmıştır.

4



Görseli en iyi yansıtan metin aşağıdakilerden hangisidir?

- A) Annem ve babam yine kavga etmişti. Her biri başka yöne bakıyordu. Ben de çaresiz oturdum yan taraftaki sandalyenin üstüne. Beklediğim birbirleriyle konuşmalarını. Ama ne yazık ki her zaman olduğu gibi yine birbirleriyle konuşmadılar. Öylece oturduk bir süre.
- B) Yağmurlu bir gündü. Eşim ve çocuğumla çıkmıştık dolaşmaya. Elimizde şemsiyeler, üzerimizde de paltolarımız vardı. Hava oldukça soğuktu. Üşüdüğümü hissettim. Tam bu sırada karşı taraftan bize doğru gelen bir adam gördüm. Dikkatlice ona bakmaya başladım.
- C) Sonbaharı çok seviyorum. Yaprakların hışırtısını, yağmur damlalarının yapraklara değdikten sonra yere düşüşünü. Bugün tüm bunları en yakından hissedebilmek için çıktım dışarıya. Dolaştım sokaklarda tek başına.
- D) Annem, eşini yakın zamanda kaybetmiş olmasına karşın benim için hep dimdik durdu. Bazen acaba hiç üzülmedi mi diye de düşünürdüm. Ama onun, geceleri babamla yağmurlu havada gezinirken çektirdikleri resme bakarak ağladığını görünce bu düşüncemden utanırdım.

- 5 Yabani hayatta ----- hayvan grubu arasında yırtıcılar ilk sırada gelir. Yırtıcılar arasında büyük kedilerle ----- yırtıcı kuşlar her zaman ilgi çeker. Avcı olan bu türler için hızlı olmak, yaşamlarını ve ----- devam ettirebilmeleri için olmazsa olmazların başında gelir.

Bu parçada boş bırakılan yerlere sırasıyla aşağıdakilerden hangileri getirilmelidir?

- A) en ilgi çeken - birlikte - türlerini
B) en korkulan - beraber - hayatlarını
C) yaşayan - benzeyen - özelliklerini
D) en sevilen - anlamamayan - yuvalarını

- 6 Tıpkı insanlar gibi şehirlerin de bir yazgısı (mazisi),

I
bir ömrü, doğumu ve ölümü vardır. Zamanın karanlık katmanları arasından günümüze ulaşan antik şehirler; farklı dönemlerin, kültürlerin, inançların ve yaşama biçimlerinin tanıklığını (şahitliğini) yapar-

II
lar. Bu nedenle şehirler, uygarlıkların (medeniyet-

III
lerin) kendi öykülerini yazdıkları bir kitap gibidir. Onların sayfaları arasında, mazinin acı tatlı anıları gömülüdür ve bunların pek azı tarihin açık sayfalarına yansımıştır (aksetmiştir).

IV

Bu parçadaki numaralanmış sözcüklerden hangisinin anlamı, araç içinde verilen açıklama ile uyuşmamaktadır?

- A) I B) II C) III D) IV

7

- I. Gittiğin yol seni düşündürüyorsa yanlış yoldasın demektir.
II. İnsanın ne düşündüğü kadar ne dediği de önemlidir.
III. Doğruyu aramaktan vazgeçmemek gerekir.
IV. Doğru tercihler yapan insanın içinde tereddüt olmaz.

Yukarıdaki metinde numaralanmış cümlelerden hangileri anlamca birbirine en yakındır?

- A) I ve II B) II ve III
C) III ve IV D) I ve IV

- 8 5N 1K başlarda daha çok habercilikte kullanılan bir yöntem günümüzde birçok alanda kullanılmaktadır. Eğitimde de yöntem ve değerlendirme süreçlerinde kullanılmaktadır. 5N 1K yöntemi öğrencilerin bir olayı ya da bir kavramın anahtar noktalarını "Kim?, Ne?, Nerede?, Ne zaman?, Nasıl?, Niçin?" soruları ile ayrıntılı bir biçimde düşünüp ortaya koymasına olanak sağlar.

Bu açıklamaya göre aşağıda verilen gazete haberlerinin hangisinde "Ne?, Ne zaman?, Nerede?" sorularının yanıtı bulunmaktadır?



- 9 Eleştiri kelimesinden anladığımız sadece yeni çıkan eserler üstüne fikir veren, onlara değer biçen yazılar değildir; okurların kestireceği herhangi bir değer yargısı üzerine sistemli bir düşünme sonucu yazılmış eleştirel yazılardır.

Aşağıdakilerden hangisinde "kestirmek" sözcüğü parçadaki anlamıyla kullanılmıştır?

- A) Bebeğin sütünü limon sıkarak kestirdi.
B) Gözüne kestirdiği ne varsa hepsini aldı.
C) Rahmi, kanepenin köşesine büzülmüş kestiriyordu.
D) Sözün nereye gideceğini kestirememiştir.

- 10 Evet, yaşayışım huyumcadır. İçimden gelmiyorsa yazı yazmaya bile katlanamam. Hoşlanmadığım bir insanla oturup çene yarıştırmam. Dahası, canım istemiyorsa en sevdiğilerimden bile iki kelamı esirgerim. Keyfime göre dost tutar ya da bozuşurum. Birçoğu beni bencillikle, kendini beğenmişlikle suçlar, doğrudur. Kendini beğenmişlere, bencillikle karşı koyarım. Gerçekte dikbaşı görünüşüm, hak bellediğim ilkelere sıkı sıkıya bağlantılıdır. Benim kabalaştığım kişiler; şiire, resme, heykele, sinemaya sırt çevirenler, sözde sanatçılardır.

Bu parçada konuşan kişi altı çizili sözlerle kendine yönelik olarak neyi belirtmiştir?

- A) İnsanları küçük gören biri olduğunu
B) Bazı zamanlar iletişime girmek istemediğini
C) Bazılarını kendine eş değer görmediğini
D) Yalnızlıktan mutluluk duyduğunu

- 11 Babam, İstanbul'un Anadolu yakası doğumluydu. Benim şairlikte ilk öğretmenimdi, diyebilirim. Dedemle beraber, Anadolu insanının bitmez tükenmez acılarına yakından tanık olmuştu. Anadolu halkının dil, düşünce, hayat gerçeklerini iyice ---- babam. Onları her yönüyle benimsemişti. Günlük konuşmalarında halktan kopuk değildi ama dil bilgisi konularında yetersiz kalıyordu bence.

Bu parçada boş bırakılan yere aşağıdakilerden hangisi getirilmelidir?

- A) içine sindirmişti
B) gözden çıkarmıştı
C) göze almıştı
D) diline dolamıştı

12

Türkiye'de Kişi Başına Düşen Yiyecek ve İçecek Tüketimi



Bu bilgi ve görselden hareketle aşağıdakilerin hangisine ulaşamaz?

- A) Türkiye'de balık tüketimi et tüketiminden azdır.
- B) Türkiye'de sebze tüketimi meyve tüketiminden fazladır.
- C) Türkiye'de çay tüketimi kahve tüketiminden fazladır.
- D) Türkiye'de meyve tüketimi süt tüketiminden fazladır.

- 13** Elime ince bir kitap geçtiğinde hep tedirgin olurum. (I) Okumak için yeterli motivasyonu sağlayamam, kitabı okumak için kendimi ikna etmem zaman alır. (II) Korkarım aslında, eksik kalan bir şeyler olacak diye. (III) Zordur az sayfaya çok şey sığdırmak, maharet ister, ustalık ister. (IV) Onun için kalın kitaplar bana daha çok huzur verir.

Bu metinde numaralanmış cümlelerin hangisinden sonra "Yazarın derdini anlatması için yeterince zamanı vardır ve bir yerlerde kendini mutlaka ele verecektir." cümlesi getirilirse metindeki düşünce akışı bozulmaz?

- A) I
- B) II
- C) III
- D) IV

14 ve 15. soruları aşağıdaki metne göre cevaplayınız.

Amazon'daki yağmur ormanları yeryüzünde kesintisiz bir biçimde uzanan en geniş tropikal ormanlardır. Bu ormanlar dünyadaki birçok canlı türünü barındırmasının yanında burada bulunan birçok bitki, fotosentez yoluyla karbondioksit alıp oksijen verdiği için "dünyanın akciğerleri" sıfatını da taşıyor. Bu nedenle Amazon'daki yağmur ormanlarını çok özenli bir şekilde korumak gerekiyor. Ancak araştırmalar gösteriyor ki yağmur ormanlarına verilen zarar, öngörülenden iki kat daha fazla. Bugüne kadar tespit edilen zararlar, ekonomik nedenlerle kesilen ya da tarla açmak için yakılan ağaçlarla ölçülüyordu. Bu boş alanlar uydu aracılığıyla uzaydan çekilen fotoğraflarda görülebiliyordu. Ancak belirli bir bölgedeki ağaçlar yerine, sadece çok büyük ağaçlar kesilince bu zararı uydu fotoğraflarından görmek mümkün değil. Bu nedenle, zararın derecesini belirlemek isteyen araştırmacılar ormanda inceleme yapmış ve zararın büyüklüğünün tahmin edilenden iki kat daha fazla olduğu görmüştür.

14 Amazon yağmur ormanlarıyla ilgili;

- I. İnsan faaliyetlerinden dolayı zarar görmektedir.
- II. Amerika kıtasında bulunmaktadır.
- III. Yeryüzüne parçalı bir şekilde dağılmıştır.
- IV. Uydular tarafından uzaydan çekilen fotoğraflardan görülebilmektedir.

yargılarından hangilerine ulaşılabılır?

- A) I ve II B) I ve IV
C) II ve III D) III ve IV

15 Amazon yağmur ormanlarının dünyanın akciğerleri olarak nitelendirilmesinin nedeni aşağıdakilerden hangisidir?

- A) Birçok canlıya yaşam alanı sunması
B) Sadece bu ormanlarda görülebilecek bitkilerin olması
C) Bu ormanlarda bulunan birçok bitkinin fotosentez yoluyla karbondioksit alıp oksijen vermesi
D) Bulunduğu bölge için çok önemli su kaynaklarına sahip olması

16 Şehir içi otobüs yolcularına dikkatlice bakınca neler görürüz? Yolculardan kimileri konuşma gereksinimi duyarlar. Yanlarında oturan yabancıya, öteki yolcuları rahatsız edecek biçimde aile içi sorunlarını anlatmaktan çekinmezler. Kimileri yorgunluktan bitkin, bir an önce gideceği yere varma ya da kalkacak birinin yerine oturabilme telaşındadır. Oturduğu yerde uyuyan yolcular da vardır. Ütüsüz, yıpranmış giysililer; boyasız, çamurlu ayakkabılılar da az değildir. Eğer öğrencisi bol bir otobüse bindiyseniz o zaman gülen yüzler görebilir, içinizin aydınlandığını fark edebilirsiniz.

Bu parçada, sözü edilen otobüs yolcularıyla ilgili aşağıdakilerin hangisine değinilmemiştir?

- A) Giyim kuşama önem vermeyenlerin de bulunduğu
B) Kimilerinin görgü kurallarına uymadıklarına
C) Sıkıntılarını yansıtan bir tutum içinde olduklarına
D) Çevrelerindeki insanları küçümsediklerine

17 ---- Aslında değişmeyi başaramayan her hareketi bekleyen son da budur. Bugün, köye yeniden dönülebilir mi gibi bir soru akla gelebilir ve buna "Mümkündür." diye de cevap verilebilir. Ancak böyle bir dönüş, öncekinin hatalarını tekrarlamak üzere yeni bir denemeye girişmek için olmaz. Köy, tekrar roman konusu yapılacaksa bu dönüş mutlaka yeni bir başlangıcın habercisi olmak zorundadır.

Bu parçanın başına aşağıdakilerden hangisi getirilmelidir?

- A) Köylüyü son derece ilkel, bilgisiz ve basit bir varlık olarak görme, bu anlayışın yol açtığı bir sonuçtur.
B) Köy konusu romana, edebiyat dışı bazı faktörlerin bir sonucu olarak girmiştir.
C) Köy romanlarında dikkatle üzerinde durulması gereken noktalardan biri de "köyün gerçeğe uygun" yazıldığı iddiasıdır.
D) Köyün, hep aynı teknik ve anlayışla işlenmesinden başka, şehirleşme ve sanayileşme yönündeki gelişmeler de köy romanının sonunu hazırlamıştır.

18 Aşağıdaki afişlerin hangisinde kişisel düşünceye yer verilmiştir?



19 ve 20. soruları aşağıdaki metne göre cevaplayınız.

Çok geniş kapsamlı bir bilim dalı olan fitopatoloji (bitki hastalıkları bilimi) botanik, genetik, biyokimya, toprak bilimi, moleküler biyoloji gibi birçok bilimin bulgularını kullanmaktadır. Bitki hastalıkları konusunda insanların bilgisinin artmasını sağlayan bu bilim dalı bitki hastalıkları konusundaki materyal, ekipman ve metot gelişimi çalışmalarını içermektedir.

Bitkilerde hastalığa neden olan etmenler, insan ve hayvanlarda hastalığa neden olan etmenlerle oldukça benzerdir. Bu etmenler; virüs, viroid, bakteri gibi mikroorganizmalar ile ışık, nem, sıcaklık azlığı ya da çokluğu gibi çevresel faktörlerdir. Fitopatoloji dört bilim dalından meydana gelmektedir. Bunlar: mikoloji, bakteriyoloji, viroloji ve herbolojidir.

19 Parçada fitopatoloji ile ilgili aşağıdaki sorulardan hangisinin cevabı yoktur?

- A) Hangi bilim dallarından yararlanmaktadır?
- B) İnsanlara ne gibi bir katkı sağlamıştır?
- C) Çalışma alanı olarak neleri kapsamaktadır?
- D) İncelediği bitkilerin özellikleri nelerdir?

20 Bu parçanın anlatım özellikleri ile ilgili aşağıdakilerden hangisi söylenemez?

- A) Tanımlardan yararlanılmıştır.
- B) Açıklayıcı anlatım ağırlıklıdır.
- C) Karşılaştırma yapılmıştır.
- D) Terim anlamlı sözcükler kullanılmıştır.

- 21 Geçen hafta bir bilim dergisinde yayımlanan hem fareler hem insanlar üzerinde yürütülen bir araştırmaya göre acının/ağrının cinsiyete göre nasıl hatırlandığı ile ilgili yapılan araştırma sonuçlarında eril fareler ve insanlar, dişi fare ve insanlara göre acı çektikleri/ağrı hissettikleri anılarını çok daha net ve açık bir şekilde hatırlıyor. Bunun sonucu olarak erkek denekler (fareler ve insanlar) sonradan gelmesi muhtemel acı verici uyarıcılara karşı aşırı hassas ve yüksek ağrı beklentisi içinde oluyor ve bu beklentilerini doğrulayacak şekilde kadınlardan daha fazla ağrı hissediyorlar.

Bu metinden hareketle aşağıdaki yargıların hangisine ulaşılabilir?

- A) Erkeklerin uzun süreli hafızaları daha iyi olduğundan acı hissini dişilere göre daha geç unutmaktadır.
 B) Erkekler acı hissini daha net bir şekilde hatırladığından acı verici durumlar karşısında acıyı daha fazla hissedebiliyor ve bu duruma çok açık oluyorlar.
 C) Erkekler ile kadınlar arasında fiziksel olarak farklılıklar bulunmakta ve erkekler kadınlara göre acıyı daha fazla hissedebilmektedir.
 D) Kadınların vücudunda acıyı hisseden uyarıcılar erkeklerdeki uyarıcılara göre daha az hassas olduğundan erkekler acıyı daha fazla duyuyor.

- 22 Yön tarifi yapan kişilerin; bir resimde seçmesi kolay nesnelere akıllarında bir kaydını tuttıklarını, bunları referans noktası olarak kullanmayı tercih ettiklerini ve bu nesnelere yön tariflerindeki sözcük sıralamasını planlarken seçmesi zor nesnelere göre daha farklı konumlandıkları biliniyor. Bu strateji dinleyenlere hedefi çabuk bulmalarında yardım sağlıyor.

Bu parçada geçen "referans noktası" sözüyle anlatılmak istenen aşağıdakilerden hangisidir?

- A) Aranılan yerin, bir kimseye onun anlayabileceği şekilde sade anlatılması
 B) Bir yeri bulduktan sonra kişinin bu yerle ilgili zihninde oluşturduğu taslak
 C) Bir yeri tanımlamak için kullanılan, aranılan alanın konumunu belirtmek için seçilen yer
 D) Bulunacak olan yerle ilgili özelliklerin hafızada kolay kalmasını sağlayan kroki

ÇIKMIŞ SORU

- 23 Sosyal medya devri bazı şirketler, kendi üyelerinin verilerini işleyip kullanabilmek için bazı özel programlar geliştiriyor. Kişilerle ilgili elde ettikleri verilerden yola çıkarak da onları etkilemeye çalışıyor. 2013'te açıklanan bir araştırmaya göre bu tür programlar, kullanıcılarının karakterini beğendiği içeriklerden yola çıkarak doğru tahmin edebiliyor. Şirketler bu tip programlar sayesinde sizi, sosyal medya hesabınızdaki 9 beğeninizle bakarak bir iş arkadaşınız kadar, 65 beğeninizle bakarak bir akrabanız kadar, 225 beğeninizle bakarak ebeveyniniz kadar tanıyabiliyor. Beğendiğiniz içeriklere dayanarak yaşınızı, cinsiyetinizi, kültür seviyenizi, siyasi görüşlerinizi hatta o anki ruh hâlinizi sadece bir tıkla tespit edebiliyor.


Bu parçaya göre sosyal medya kullanımı,

- I. Kişilerin internet şifrelerinin ele geçirilmesi
 II. İnsanların, zamanlarını verimsiz kullanması
 III. İnsanları yönlendirebilecek haber ve yayınlara yer verilmesi
 IV. Kişiye özel reklamlar sunulması

durumlarından hangilerini ortaya çıkarabilir?

- A) I ve II. B) I ve III. C) II ve IV. D) III ve IV.

24



Aşağıdaki dizeler konuları bakımından bu görsellerle eşleştirildiğinde hangisi dışta kalır?

A) Evlerinin içi ayna döşeli

Ayna hatıra gözler ve sevmek

Benim aşkı bin bir köşeli ah bin bir köşeli

Bir köşe gidince bin köşe yeniden gelecek

Ayna hatıra gözler ve sevmek

B) Seher vakti habersizce girdi gara ekspres

kar içindeydi

ben paltomun yakasını kaldırmış perondaydım

peronda benden başka da kimseler yoktu

durdu önümde yataklı vagonun

C) Uçmakta, konmadan, kıyırsız bir denizde ruh;

Benzer mi böyle bir kuşa Tufan içinde Nuh?

Üstünde gök, sürekli bulutlarla, yüklüdür

Altında gür deniz ki ezelden köpüklüdür.

D) Akşam, güneş artık deniz ufkunda silindi,

Hulya gibi yalnız gezinenler köye indi

Ben kaldım, uzaklarda günün sesleri dindi

Gönlümle, hayâlet gibi, ben kaldım o yerde

25

Konya'nın gölleri ve akarsuları, Anadolu'nun ve dünyanın en önemli tatlı su balığı yaşam alanlarından biridir. Konya ili balık çeşitliliği bakımından benzersizliği ile dünya çapında çok önemli bir yere sahip. Bu balıkların bazılarının boyları çok küçük olup bu türler en az kaplanlar ve pandalar kadar tehlike altındadır. Beyşehir sirazi, kızılkanat, yağ balığı ve kaya balığı bunlardan bazılarıdır.

Yukarıdaki parçanın anlatım özellikleriyle ilgili aşağıdakilerden hangisi söylenemez?

A) Karşılaştırmalar yapılmıştır.

B) Örneklerden yararlanılmıştır.

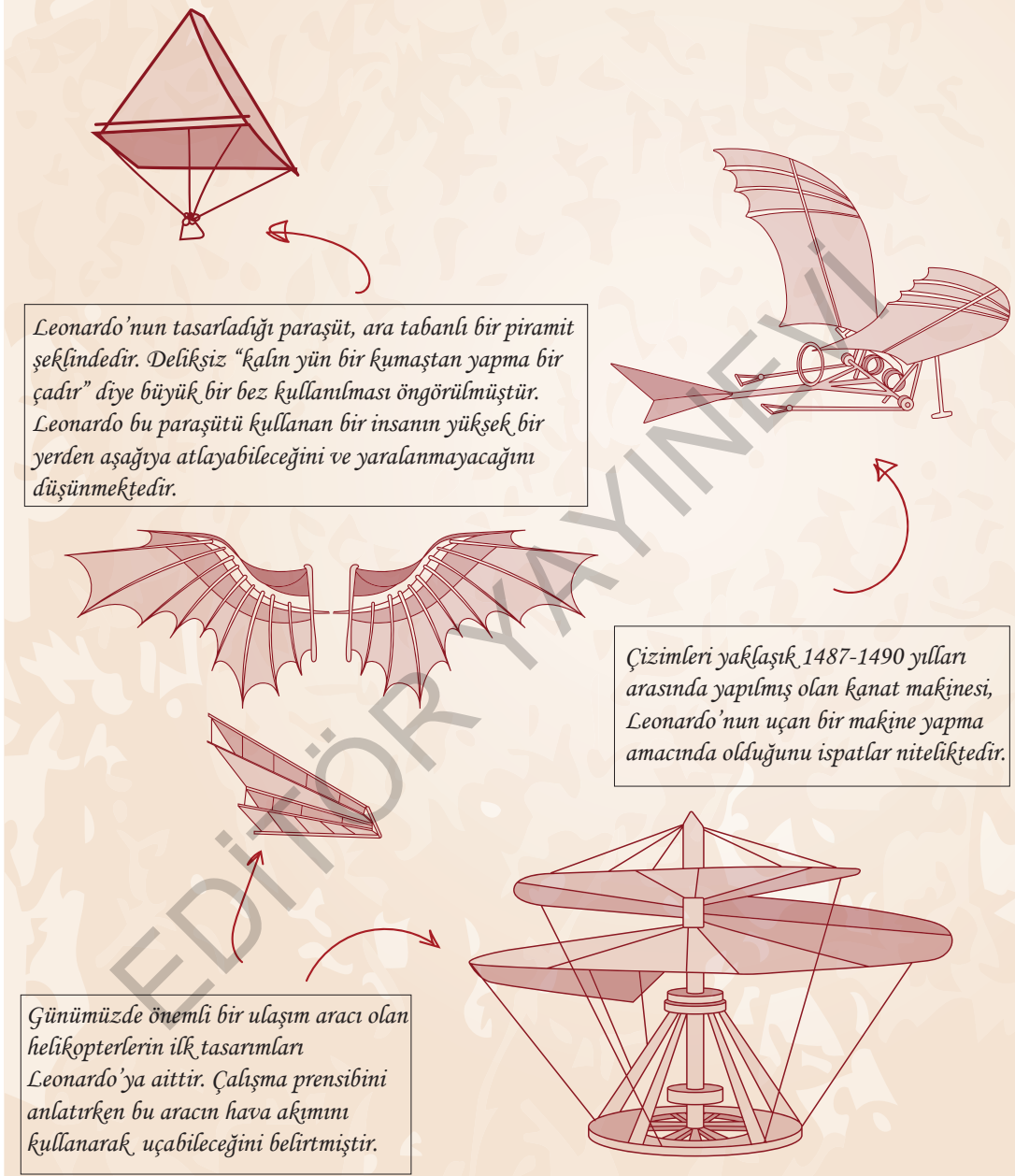
C) Açıklayıcı anlatım türü kullanılmıştır.

D) Mecaz anlamlı kelimeler yoğunluktadır.

SORULAR

TEST 10

1

**Görselden hareketle;**

- I. Leonardo, tasarladığı paraşütün bazı özellikleri ile daha önce hiç tasarlanmamış bir paraşüt taslağı denemiştir.
- II. Leonardo'nun yapmış olduğu icat, tarihte yapılmış ilk helikopterdir.
- III. Leonardo'nun yapmış olduğu tasarım, günümüzde kullanılan bazı ulaşım araçlarına ilham kaynağı olmuştur.

yargılarından hangilerine ulaşılabilir?

- A) Yalnız I B) Yalnız II C) I ve II D) II ve III

2 - 4. soruları aşağıdaki metne göre cevaplayınız.

Bir gün bir kitap okudum ve bütün hayatım değişti. Daha ilk sayfalarındayken bile kitabın gücünü öyle bir hissettim ki içimde, oturduğum masadan ve sandalyeden gövdemin kopup uzaklaştığını sandım. Ama gövdemin benden kopup uzaklaştığını sanmama rağmen sanki bütün varlığım ve her şeyimle her zamankinden daha çok sandalyede ve masanın başındaydım ve kitap bütün etkisini yalnız ruhumda değil beni ben yapan her şeyde gösteriyordu. Öyle güçlü bir etkiydi ki bu, okuduğum kitabın sayfalarından yüzüme ışık fışkırıyor sandım. Aynı anda hem bütün aklımı körleştiren hem de onu pırıl pırıl parlatan bir ışık. Bu ışıkla kendimi yeniden yapacağımı düşündüm, bu ışıkla yoldan çıkacağımı sezdim; bu ışıkta daha sonra tanıyacağım, yakınlaşacağım bir hayatın gölgelerini hissettim. Masada oturuyor, oturduğumu aklımın bir köşesiyle biliyor, sayfaları çeviriyor ve bütün hayatım değişirken ben yeni kelimeleri ve sayfaları okuyordum.

Bir süre sonra, başıma gelecek şeylere karşı kendimi o kadar hazırlıksız ve çaresiz hissettim ki kitaptan fıskıran güçten korunmak ister gibi bir an içgüdüyle yüzümü sayfalardan uzaklaştırdım. Çevremdeki dünyanın da baştan aşağıya değiştiğini o zaman korkuyla fark ettim ve şimdiye kadar hiç duymadığım bir yalnızlık duygusuna kapıldım. Sanki dilini, alışkanlıklarını, coğrafyasını bilmediğim bir ülkede yapayalnız kalmıştım.

2 Birinci paragrafta altı çizili olan "gövdemin kopup uzaklaştığını" sözüyle yazar neyi anlatmak istemiştir?

- A) Okuduğu kitabın kendisine rahatsız edici düşünceler verdiğini
- B) Okuduklarının etkisiyle kendini kaybettiğini
- C) Kitapta anlatılanlarda kendi hayatından izler bulunduğunu
- D) Hayal gücünün yerini gerçeklik duygusuna bıraktığını

3 Metinde altı çizili olan "kendimi yeniden yapacağımı" sözüyle yazarın anlatmak istediği aşağıdakilerden hangisidir?

- A) Yeni bir hayat anlayışına kavuşmak
- B) Hatalarından ve zaaflarından kurtulmak
- C) Pişmanlık duyacağı şeylerden uzak durmak
- D) Yalnızca kendi düşüncelerine önem vermek

4 Metinde altı çizili olan "kitaptan fıskıran güç" sözüyle kitabın hangi özelliği vurgulanmıştır?

- A) Etkileyici olması
- B) Öğretici olması
- C) Okuyucuyu baştan çıkarması
- D) İnsanı kendine çekmesi

5 Bilişim korsanlığı ----- her gün bir yenisi ekleniyor. Web sitesi çökertenler, resmi kurumların güvenli iç ağlarına girenler, kişisel bilgileri ve şifreleri ele geçirip banka hesaplarından para çalanlar, başkalarının bilgisayarlarındaki tüm verilere ----- ile ilgili sayısız haber okuyoruz. Bilişim korsanlarının ulaşabildiği cihazlar maalesef her geçen gün çeşitleniyor. ----- artık bazı tıbbi cihazlar da bu listede yer alıyor.

Bu parçada boş bırakılan yerlere sırasıyla aşağıdaki sözcüklerden hangileri getirilmelidir?

- A) söylentilerine - saldırı yapanlar - Nihayet
- B) yalanlarına - sahip olanlar - Sonunda
- C) olaylarına - göz koyanlar - Demek ki
- D) haberlerine - kolayca ulaşanlar - Öyle ki

6



Serumun içeriğini merak eden bir kişi, bilgi deposunda numaralandırılmış ifadelerden hangilerini okumalıdır?

- A) I ve IV B) I ve II C) III ve IV D) II ve III

7

Öznel anlatım, kişisel görüşler içerir. Nesnel anlatım ise kişisel görüşlerden uzak, kanıtlanabilir yargılarla oluşturulur.

Bu açıklamaya göre aşağıdaki medya metinlerinin hangisinde öznel bir anlatıma başvurulmuştur?

- A) Sincaplar buldukları tohumları ileride çıkarıp yemek için değişik yerlere gömerler. Bazı tohumların yerlerini unuttukları için hiç farkında olmadan her yıl binlerce ağaç dikerler.
- B) Alexander Graham Bell'in gömüldüğü gün ABD telefon sistemi ona saygı göstermek için bir dakikalığına kapatılmıştır.
- C) Üzerinde durduğunuz yer kabuğunun binlerce kilometre altında, gezegenimizin merkezinde, uydumuz Ay'ın üçte ikisi büyüklükte bir demir çekirdek vardır. Sıcaklığı 5700 dereceyi bulan katı haldeki demir çekirdeğin çevresinde, sıvı halde demir ve nikel karışımından oluşan 2000 km kalınlığında bir katman daha vardır.
- D) Moskova'daki Kızıl Meydan'ın simgesi hatta Rusya denince akla ilk gelen görüntülerden biri Aziz Basil Katedrali'nin rengârenk kubbeleridir. Rus İmparatoru Korkunç İvan tarafından 1555-1560 yılları arasında yaptırılan bu katedral, bir dini yapıdan çok bir eğlence parkını akla getiriyor.

8

- Güneş olmasa Dünya çıplak bir kaya gibi ıssız, çorak, karanlık ve donmuş bir gezegen olurdu.
- Eski toplumların birçoğu bu muazzam gücün farkına varmış ve yaşamın kaynağı olan Güneş'e tapmıştır.

Bu iki cümlede ifade edilenlerin anlamca doğru bir biçimde birleştirilmiş hâli aşağıdakilerden hangisidir?

- A) Eski toplumlar Güneş'in büyüklüğünü ve aydınlatıp canlılara yaşam verdiğini düşünerek Güneş'e tapmış ve bu gücün hiç sonlanmayacağına düşünmüşler.
- B) Dünya'nın çıplak bir kaya gibi ıssız, çorak, karanlık ve donmuş olmamasının Güneş'e bağlı olduğunu düşünen eski toplumlar Güneş'in bu muazzam gücünden korkarak ona tapmış ve gücünün her zaman farkına varmıştır.
- C) Eski toplumlar yaşamın kaynağı olan muazzam güçteki Güneş'e tapmıştır çünkü Güneş'in olmaması halinde Dünya'nın çıplak bir kaya gibi ıssız, çorak, karanlık ve donmuş bir gezegen olacağını farkına varmışlardır.
- D) Eski toplumların birçoğu Dünya'nın ayakta kalmasını sağlayan birçok varlığı kutsal saymıştır ve bu varlıklara tapmıştır; Güneş'e de Dünya'yı çıplak bir kaya gibi ıssız, çorak ve donmuş bir gezegen olarak bakıldığından bu muazzam güç kutsal sayılmıştır.

9

- I. Tam önüne bakan, başını; tam havaya bakan, ayağını vurur.
- II. Ölçülü olmayan, boyunun ölçüsünü alır.
- III. Hep ileriye değil ara sıra da dönüp geriye bakmak gerekir.
- IV. Bana ya hürriyet verin ya da ölüm.

Yukarıdaki numaralanmış özdeyişlerden hangileri anlamca birbirine en yakındır?

- A) I ve II B) II ve III
C) III ve IV D) I ve IV

10

Bilindiği gibi Fatih Sultan Mehmet, genç yaşta padişah olmuştur. Yaşı gençtir ama ileri görüşlü bir insandır. Yeni sultan olduğu yıllarda bir gün bir sefere gidilecekken ordunun başında babasının olmasını ister. Fatih'in maksadı, babasının ilminden ve tecrübesinden yararlanmaktır. Ancak babası bu teklifi kabul etmez. Bunun üzerine Fatih, babasına yazdığı mektupta şöyle der: "Eğer sen padişahsan ordunun başında bulunmalısın. Yok eğer ben padişahsam emrediyorum, derhal ordunun başına geç!" Mektubu okuyan babası Sultan Murat, başka çare bulamaz ve orduya komutanlık yapar.

Bu parçadan hareketle Fatih Sultan Mehmet'le ilgili olarak aşağıdakilerden hangisi söylenebilir?

- A) Büyük bir savaşa girmeyi göze alamadığı
- B) Babasının desteğine her zaman ihtiyaç duyduğu
- C) Padişahlık görevini yapmak istemediği
- D) Zekâsı ve ikna kabiliyetiyle krizleri çözebildiği

11

- I. Bu çakıllar ilk bakışta size fazla bir şey ifade edemeyebilir.
- II. Suyla taşınırken yeterince yuvarlanmadığı için köşeli yapısını hâlâ korumaktadır.
- III. Oysa biraz jeoloji bilgisine sahipseniz, onlar size başından neler geçtiğini çok rahat anlatabilir.
- IV. Bir dere kenarında yürürken gözünüzü bir an olsun çiçeklerden, ağaçlardan ayırıp deredeki çakıllara bakın.
- V. Örneğin, çakıl köşeliyse bu onun koptuğu kaya ile bulunduğunuz yer arasında fazla mesafe olmadığı anlamına gelir.

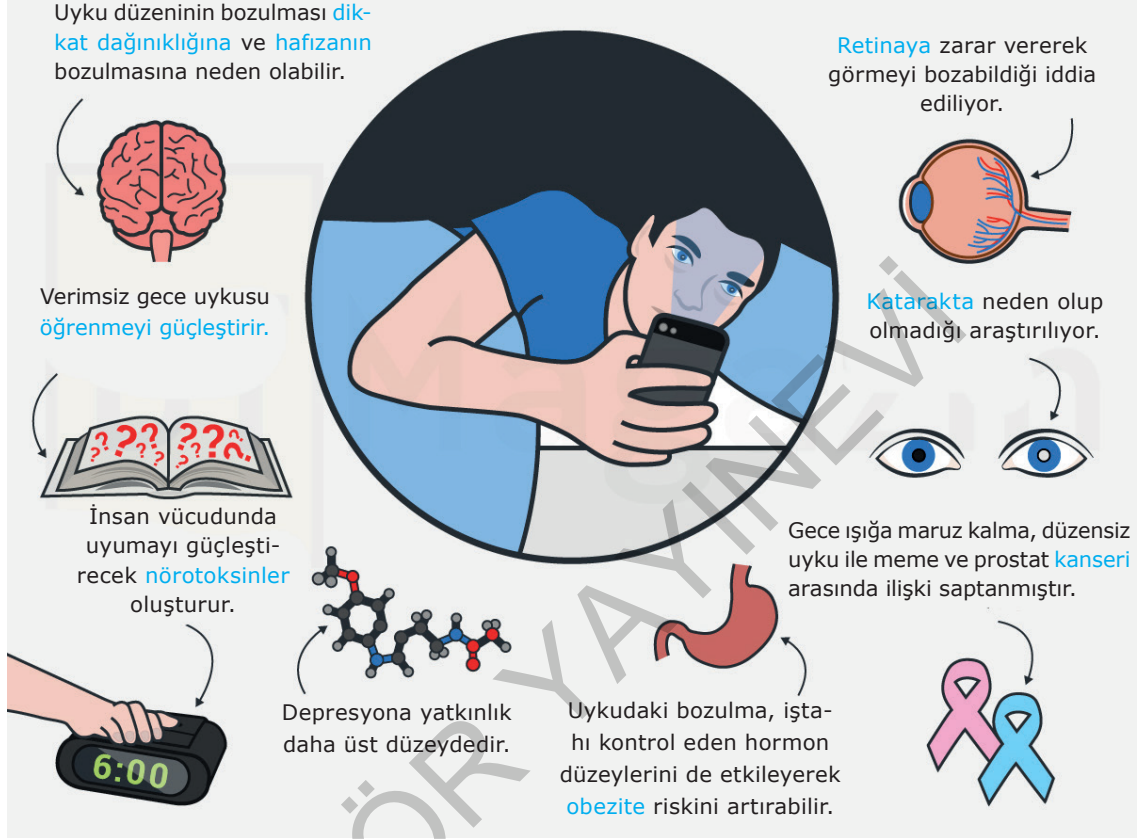
Yukarıdaki cümleler anlamlı bir bütün oluşturacak biçimde sıralandığında, hangisi baştan ikinci cümle olur?

- A) I B) II C) III D) V

12

MAVİ IŞIK VÜCUDUNUZU VE BEYNİNİZİ NASIL ETKİLİYOR?

Akıllı telefonlardan yayılan ışık **melatonin** üretimini engelleyerek uyku düzeninizi bozuyor.



Bu görselden hareketle mavi ışığa maruz kalan birinin;

- I. Karamsarlığın, umutsuzluğun güçlenmesiyle ortaya çıkan ruhsal bozuklukların oluşması
- II. Görme problemlerinin yaşanması
- III. İştahın azalması
- IV. Bağışıklık sisteminin çökmesi

sorunlarından hangilerini yaşayabileceği söylenebilir?

- A) I ve II B) I ve IV C) II ve III D) III ve IV

13

Resim, heykel, mimari ve müzik eserlerinin kendine özgü dili vardır ancak hepsinin ayrıca konuşma ve yazma dillerine ihtiyaç duydukları görülür. Bu noktada hepsinin gündemine (ilgi alanına) edebiyat girer. Bir sanat

eserinin kendi diliyle anlattıklarının ayrıca (ayrıntılılarıyla) anlatılması için yazı ve konuşma dillerinin aracılığına

(yardımına) ihtiyaç duyulur. Eleştirmenler, sanat eserlerini yazı ve konuşma diliyle inceler. Eserin çıkış noktası, örgüsü, nelerden etkilendiği, neleri etkilediği dil aracılığıyla (yoluyla) sergilenir.









Bu parçadaki numaralanmış sözlerden hangisinin anlamı, ayraç içinde verilen açıklamayla uyuşmaktadır?

- A) I B) II C) III D) IV

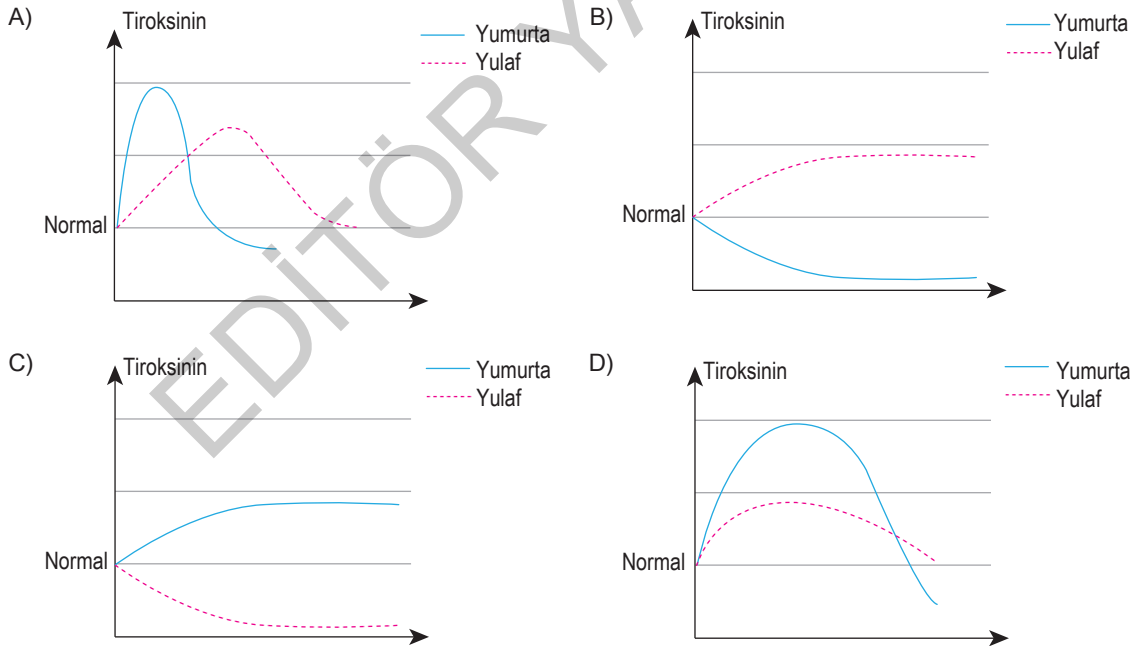
14 ve 15. soruları aşağıdaki bilgilere göre cevaplayınız.

Tiroit bezi, nefes borusu yani trakeanın ön kısmında yer alan, 25-40 gr ağırlığında ve şekli kelebeğe benzeyen bezdir. Boyutu küçük olmasına karşın salgıladığı hormonlarla vücudumuz için çok önemli işlevlere sahiptir. Bu organın temel görevlerinden biri vücut metabolizmasını ayarlayan T3 ve T4 hormonlarını salgılamaktır. Tiroit hormonlarının az salgılanması yani hipotiroidi durumunda bağırsaktan saç teline kadar bütün metabolizma yavaşlayarak saç dökülmesi, unutkanlık, uykuya eğilim, kilo alma, halsizlik, seste kalınlaşma gibi şikayetler ortaya çıkar. Bu hormonun fazlalığı yani hipertiroidi durumunda ise aşırı terleme, saç dökülmesi ve hızlı kilo kaybı görülür. İyot tiroit bezini etkileyen önemli bir besindir. Tiroit bezinden salgılanan tiroksinin hormonunun yapısına katılır. İyot eksikliği durumunda tiroit bezi iyi çalışmaz ve tiroksinin hormonu salgısı azalır. Bu durum tiroit bezinin büyümesine dolayısıyla guatr denilen hastalığın ortaya çıkmasına yol açar.

Aşağıdaki tabloda bazı gıdalar, iyot değerlerine göre sınıflandırılmıştır.

İYOT DEĞERİ DÜŞÜK GIDALAR				İYOT DEĞERİ YÜKSEK GIDALAR			
							
Yulaf	Pirinç Patlağı	Fındık	Kara Buğday	Ton Balığı	Patates	Yumurta	Kızılcık

14 Buna göre "yulaf" ve "yumurta"nın, tiroit bezi üzerindeki etkisi aşağıdakilerden hangisinde doğru gösterilmiştir?



15 Buna göre;

- I. Vücuttan atılan su miktarındaki artış,
- II. Çoğunlukla yorgun olma durumu,
- III. Yaşanmış olayların hatırlanmasında zorluk çekme,
- IV. Vücut ağırlığında meydana gelen ölçünün artışı

durumlarından hangileri bahsedilen hormonun vücut için yetersiz olduğu bir durumda meydana gelir?

- A) I ve II B) II ve IV C) I, III ve IV D) II, III ve IV

16 ve 17. soruları aşağıdaki metne göre cevaplayınız.

ÇIKMIŞ SORU

Yaşadığımız dünyaya karşı taşıdığımız sorumlulukları fark etmemiz için en ideal zamanlar ilk çocukluk yıllarımız. Yere çöp atmama, ağaçların dallarını kırmama, çiçekleri koparmama gibi birçok şey bu dönemde edindirilir. Bunda en büyük pay kitaplara ait.

Eğitim Uzmanı Bilge Buhan Musa, geri dönüşüm üzerine çıkardığı dört yeni hikâye kitabıyla çocuklara çevre bilinci kazandırmayı hedefliyor. Bilge Buhan Musa, doğanın nasıl korunabileceğini kitaplarında verdiği yöntemlerle somutlaştırıp çocukların bunu davranışa kolayca dönüştürebileceklerini belirtiyor. Eğitimci yazarın yayımlanan hikâye serisi, çocukların kitaptaki kahramanlarla empati kurmalarını sağlıyor ve gezegenimize karşı sorumluluklarını yerine getirmelerine aracı oluyor. Bu hikâye serisi dört farklı kitaptan oluşuyor. “Yaşlı Çınar Ağacı”nda kâğıdın, “Meraklı Yeşil Şişe”de camın, “Beyaz Plastik Bardak”ta plastiğin geri dönüşümü anlatılıyor. “Geri Kazanım Atölyesi”nde ise kullandığımız eşyalardan geri dönüşüme gitmeden ne şekilde faydalanabileceğimiz dile getiriliyor.

16 Bu metinden aşağıdaki yargıların hangisi çıkarılamaz?

- A) Doğayı korumada geri dönüşüm önemlidir.
- B) Kitapların, çocukların kişilik gelişiminde etkisi vardır.
- C) Olumlu davranışlar çocukken daha kolay kazandırılır.
- D) İnsanlarla sağlıklı iletişimin yolu empati kurmaktır.

17 Bu metne göre Bilge Buhan Musa'nın, kitaplarını yazma amacı aşağıdakilerden hangisidir?

- A) Çocuklara çevre bilinci aşılacak
- B) Geri dönüşümün ekonomiye katkısı hakkında bilgi vermek
- C) Ailelere çocuk eğitimi konusunda yol göstermek
- D) Kitap okuma alışkanlığı kazandırmak

18 Hayat, yönetilmesi gereken en önemli konulardan bir tanesidir. Peki ya biz bu kadar önemli olan bir konu üzerinde ne kadar duruyoruz? Hayat nasıl gidiyor sorusunu “Hayat her günkü monotonluğuyla devam ediyor.” diyerek geçiştiriyoruz. Mutlu olmak istiyorsak saatlerimizi, günlerimizi dolu dolu geçirmeliyiz. Bunu yapabilmek için de mutlaka hayatımızın direksiyonunda biz olmalıyız.

Bu parçanın son cümlesinde anlatılmak istenen aşağıdakilerden hangisidir?

- A) Hayatın zorlukları yerine, güzel taraflarını görmek gerekir.
- B) İnsan, kendi hayatına yön verebildikçe mutlu yaşar.
- C) Çalışmadan geçirilen günler, insanı mutsuzluğa iter.
- D) Hayatın sıkıcı olması birçok insanın önemli bir sorunudur.

19 Hindistan’da filleri yetiştirmek için, yavruyken kalın bir zincirle kazığa bağlarlarmış. Tabii bu yavru fillerin zinciri koparabilmesi, kırabilmesi ya da kazığı söküp atabilmesi mümkün değildir. Küçük filler önceleri bundan kurtulmak için tüm güçleriyle uğraşır, defalarca dener ama sonucu değiştiremez ve özgürlüğüne kavuşamazlar. Yıllar geçer, filler kocaman olur. Bağlı oldukları kazığın ve zincirin onlarca katına güçleri yetebilir artık. Ama filler asla böyle bir girişimde bulunmazlar.

Bu parçada anlatılmak istenen düşünce aşağıdakilerden hangisidir?

- A) Bize yardımcı olan insanlara vefa borcumuzu unutmamalıyız.
- B) İnsan, alıştığı bir ortamı kolay kolay terk edemez.
- C) Çaresizlik duygusu kendimize olan inancımızı yok eder.
- D) Özgür olmayanlar başkalarının kararlarına boyun eğmek zorundadır.

20



Görseli en iyi anlatan metin aşağıdakilerden hangisidir?

- A) Onu, ayakkabısını boyattığı sırada gördüm. Onun arkası bana dönüktü, bu yüzden de beni görmedi. Biraz daha ilerledim yanına doğru. Etrafta da ben, boyacı ve onun dışında kimse yoktu. Birkaç adım kala durdum. O da boyanmış ayakkabılarını giyinmiş kalkmak için hazırlanıyordu. Arkasını döndüğü sırada burun buruna geldik.
- B) Merdivenlerin yanına dizilmiş birkaç boyacı ve ayakta simit satan bir simitçi vardı. Yoldan geçenleri ve ayakkabı boyatanları görüyordum. Herkesin oldukça acelesi vardı ki hızlı hızlı yürüyor, ayakkabı boyatanlar boyacılara hızlı olmalarını işaret ediyorlardı. Ayakkabısını boyatanlardan birinin arkasını dönüp bana baktığını fark ettim. Onu tanıdığımı sanmıyordum ama belli ki o beni tanıyordu.
- C) Ayakkabımı boyatırken ağzım o kadar kurumuştü ki karşı taraftaki su satan çocuğa seslendim. O da koşup yanıma geldi. Bir su satın alıp hepsini içtim. Su içtikten sonra acıktığımı da hissettim. Köşedeki simitçinin yanına gidip iki simit aldım. Kaldırımın üstünde oturup ikisini de yedim.
- D) Uzun yıllardır ayakkabı boyuyordum ve her zaman yerim belliydi. Bugün yerimi değiştirip simitçilerin yoğun olduğu bir sokakta tezgahımı açtım. Hiç kimse ayakkabı boyatmak istemediğinden mi yoksa buraya yeni geldiğimden mi bilmiyorum ama kazancım hiç iyi olmadı. Açgözlülük yapmayıp, elimdekiyle yetinmeyi bilip eski yerime dönmeliydim.

21 Gazeteci: Poşet kullanıyor musunuz Selçuk Bey?

Selçuk Bey: Kullanıyorum ve bunun bir zararını görmüyorum.

Gazeteci:

Bu konuşmada boş bırakılan yere aşağıdakilerin hangisi getirilirse Selçuk Bey'in dile getirdiği durumun çevresi üzerindeki olumsuz etkisi vurgulanmış olur?

- A) Yakınlarınız nasıl bakıyor bu duruma? B) Bir yaptırımla karşılaşılabirsiniz.
- C) Bunu asla onaylamıyorum. D) Ama biz görüyoruz.

22 ve 23. soruları aşağıdaki metne göre cevaplayınız.

Bugün kimi bilim dallarının, baş döndürücü gelişmeleriyle çok geniş ve çok karmaşık terim toplamları içerdiğini, bu terimlerin karşılığını dilimizde çoğu kez bulamadığımızı yadsıyacak değiliz. Ama söz gelimi elektronik alanında, kendi dilimizde karşılıklarını bulamadığımız terimlerin de belirttikleri nesne ve olguların çok yeni olduklarını unutmamak gerekir. Nice alanlarda bilim insanları, bilimsel çalışmalarının kaçınılmaz bir gereği olarak her gün yeni yeni terimler üretiyorlar. Aynı şeyi bizim bilim insanlarımızın da yapmamaları için bir neden yok.

22 Bu parçada vurgulanmak istenen düşünce aşağıdakilerden hangisidir?

- A) Dili zengin olan uluslarda bilimsel çalışmalar daha yoğundur.
- B) Dilimize girmiş birçok terim yabancı kökenlidir.
- C) Yeni buluşlar hem bilime hem de dile katkıda bulunur.
- D) Terimlerin fazla olması dilin önemini artırır.

23 Bu parçadan hareketle aşağıdaki sonuçlardan hangisine ulaşılamaz?

- A) Bilim dalları geliştikçe yeni terimler üretilmektedir.
- B) Dilimizde karşılığı olmayan terimlerin bir bölümü de elektronik alanıyla ilgilidir.
- C) Bilimsel çalışmalar dilin kelime varlığını etkilemektedir.
- D) Bilim insanlarımız yabancı terimlere Türkçe karşılık bulma konusunda duyarlıdır.

24

- I. iyi bir yer edinmesi ve
- II. düşünülemez
- III. sanat tarihinde
- IV. çırak olmayı kabul etmeyenin
- V. geleceğe kalacak yapıtlar oluşturması

Yukarıdaki sözler anlamlı ve kurallı bir cümle oluşturacak biçimde sıralandığında, hangisi baştan üçüncü olur?

- A) I
- B) II
- C) III
- D) IV

25 Aşağıda bir dergiye abone olan dört çocuğun bu dergiye gönderdikleri mektuplardan bazı bölümler verilmiştir.

Sezen: Bu köşeni çok seviyorum. Bugüne kadar yaşanmış olan ve haberdar olmadığımız birçok konu hakkında bilgi veriyorsun bu köşende. Teşekkürler "Var mı Duymadıklarımız?" köşesi!

Faruk: Seninle birlikte gönderilen bazı hediyeleri saklayıp koleksiyon yapıyorum. Artık birçok kitap ayrıcam var!

Leyla: Sen sadece benim için değil ailemdeki herkes için muhteşem bir şanssın. Mutfakta anneme, bulmacalarıyla babama, moda sayfalarıyla ablama yeni dünyalar kuruyorsun.

Kerem: Bu yaşıma kadar en çok ilgi duyduğum şeydir kitaplar. Öneriler, okuyucuların yaptığı yorumlara yer verme gibi özelliklerinle yeni kitaplar keşfedebiliyorum artık.

Bu mektuplardan hareketle söz konusu dergiyle ilgili aşağıdakilerden hangisi söylenebilir?

- A) Her kültürden insana hitap etmektedir.
- B) Okuyucuların söz hakkına sahip olduğu bir dergidir.
- C) Farklı ilgi alanlarına yer vermektedir.
- D) Dergi ile beraber farklı hediyeler sunmaktadır.

26 Türk Dil Kurumu kişileştirme kavramını, "Cansız varlıkları veya hayvanları insanmış gibi gösterme, canlandırma" şeklinde açıklamaktadır.

Tatmadım bu kadar güzelini akşamların
Bu kadar dost bakışlı, bu kadar bilgesini
Duyarak bir bir düşen yaprakların sesini
Geçtim üstünden yağmurlu damların

Yukarıdaki dördlükte kişileştirilen varlık aşağıdaki seçeneklerin hangisinde doğru verilmiştir?

- A) Akşamlar
- B) Bilge
- C) Damlar
- D) Yağmur

27

<p>1 Tüm uyarıları okuyun.</p>	
<p>2 Yaş tavsiyesini takip edin.</p>	
<p>3 Ambalajların hepsini oyuncaktan ayırın.</p>	
<p>4 Oyunağın talimatlarını takip edin.</p>	
<p>5 Çocuklar oynarken gözünüz onlarda olsun.</p>	

Çocuğunun yaşına göre oyuncak alan bir anne hangi talimatı dikkate almalıdır?

A) 2

B) 3

C) 4

D) 5

ÇIKMIŞ SORU

- 28 Avustralya'da yaşayan Rebecca isimli bir kadın, dünyada sadece 80 kişide görülen "süper otobiyografik hafıza"ya sahip. Rebecca, bugüne kadar yaşadığı en önemsiz olayları bile gayet net hatırlayabiliyor. Çocukken okuduğu kitapların hemen hepsini cümlesi cümlesine ezbere anlatabiliyor. Çoğu insanın gıpta edileceği bu yetenek, sonradan olumsuz bir duruma dönüşebiliyor. Yeni şeyler öğrenme konusunda zaman zaman güçlükler çeken Rebecca, hatıralarıyla baş etmekte zorlanıyor. Bu özel durum, yeni öğrenmelere yer açan unutmamanın ne kadar güzel olduğunu gösteriyor.

Bu medya metninin yazılış amacı aşağıdakilerden hangisidir?

A) Olay yorumlama – Bilgi aktarma

B) Bilgi aktarma – İkna etme

C) Kültür aktarma – Olay yorumlama

D) İkna etme – Kültür aktarma

FİİLİMSİLER

SORULAR

TEST 1

1



Şehitler tepesi boş değil,
Biri var bekliyor.
Ve bir göğüs, nefes almak için;
Rüzgâr bekliyor.
Türbesi yakışmış bu kutlu tepeye;
Yattığı toprak belli,
Tuttuğu bayrak belli

Hangi seçenekte, yukarıdaki dizelerde yer almayan bir fiilimsi türü vardır?

- A) Destanını yapmış, kasideye kanmış.
Bir el ki; ahiretten uzanmış,
Edeple gelip birer birer öpsün diye fâniler!
- B) Öpelim temizse dudaklarımız,
Fakat basmasın toprağa temiz değilse ayaklarımız.
Rüzgârını kesmesin gövdeler
Sesinden yüksek çıkmasın nutuklar, kasideler.
- C) Geri gitsin alkışlar geri,
Geri gitsin ellerin yapma çiçekleri!
Ona oğullardan, analardan dilekler yeter.
- D) Yazın sarı, kışın beyaz çiçekler yeter!
Söyledi söyleyenler demin,
Gel, süngülü yiğit alkışlasınlar.
Şimdi sen söyle, söz senin.

2

- Şiir, konuşma ile susmayı bir araya getirmektir. (Thomas Carlyle)
- İnsan nedir, biliyor musun? Ağaçları kesip kâğıt yapan, sonra o kâğıda "Ağaçları Koruyun!" yazandır. (Oğuz Atay)
- Kahkahasız geçen bir gün, harcanmış bir gündür. (Charlie Chaplin)

Verilen özdeyiş panosundan hareketle hangisi söylenebilir?

- A) Özdeyiş panosunda üç fiilimsi türüne de örnek verilmiştir.
- B) Özdeyiş panosundaki isim-fiil sayısı, sıfat-fiil sayısından fazladır.
- C) Her özdeyişte eşit sayıda fiilimsi kullanılmıştır.
- D) Her özdeyişte aynı fiilimsi türüne ait yalnızca tek bir örnek vardır.

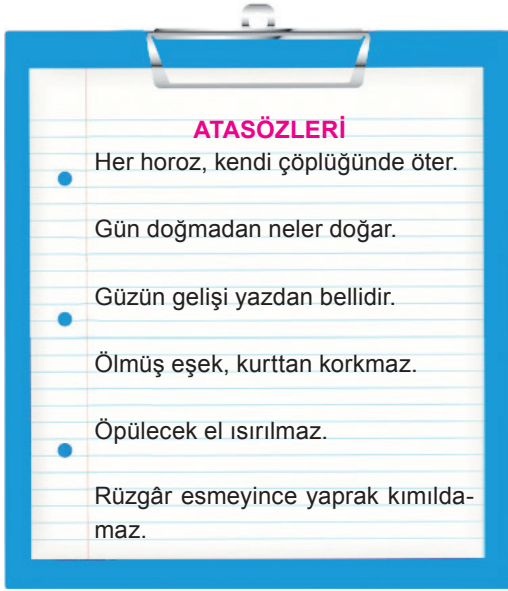
3

Bazı ekler hem zaman eki olarak kullanılır hem de fiilimsi oluşturur. Örneğin "-miş" eki fiil çekimlerinde duyulan geçmiş zaman eki olarak görev alır: "Minik kedi çok susamış." Bununla birlikte aynı ek, sıfat-fiil de oluşturabilir: "Sevgiye susamış gözlerle bana bakıyordu."

Buna göre hangi seçenekte bu açıklamayı örneklendirecek bir sözcük, fiilimsi görevinde kullanılmıştır?

- A) Çalışmayı seven insanlar yorulmak nedir bilmezler.
- B) Sen böyle kızdıkça o inadına yapmaya devam ediyor.
- C) Sokak lambaları söndü, herkes uykuya daldı.
- D) Akacak kan damarda durmaz, derdi ninem.

4 - 6. soruları aşağıdaki bilgilere göre cevaplayınız.



Edip Öğretmen, öğrencilerine yukarıdaki atasözünü listesini verir ve öğrencilerinden bu atasözlerini fiilimsi konusunda öğrendikleri ile ilişkilendirerek çeşitli tablolara dönüştürmelerini ister. Ayça adlı öğrencinin oluşturduğu tablo şu şekildedir:

İçinde Sıfat-Fiil Olan Atasözleri	İçinde İsim-Fiil Olan Atasözleri	İçinde Zarf-Fiil Olan Atasözleri
• Ölmüş eşek, kurttan korkmaz.	• Güzün gelişi yazdan bellidir. • Öpülecek el ısırılmaz.	• Gün doğmadan neler doğar. • Rüzgâr esmeyince yaprak kımıldamaz.

4 Ayça'nın tablosundaki yanlışlığı düzeltmek için aşağıdaki değişikliklerden hangisi yapılmalıdır?

- "Öpülecek el ısırılmaz." atasözünü içinde sıfat-fiil olan atasözleri sütununa alınmalıdır.
- "Öpülecek el ısırılmaz." ile "Gün doğmadan neler doğar." atasözleri yer değiştirilmelidir.
- "Güzün gelişi yazdan bellidir." atasözünü ilk sütununa alınmalıdır.
- "Ölmüş eşek, kurttan korkmaz." ile "Güzün gelişi yazdan bellidir." atasözleri yer değiştirilmelidir.

5

İçinde Sıfat-Fiil Olan Atasözleri	İçinde İsim-Fiil Olan Atasözleri	İçinde Zarf-Fiil Olan Atasözleri
•	•	•
•	•	•

Öğretmenin verdiği ödev için yukarıda verilen tablo taslağını hazırlayan Emre, tablosundaki tüm bölümleri eksiksiz doldurmak istemektedir. Fakat atasözünü listesinin tabloyu doldurmak için yeterli olmadığını fark eder. Bu durumda Edip Öğretmen'den tablosunu tamamlayacak bir atasözünü daha ister.

Hangi seçenekte Edip Öğretmen'in Emre'ye verebileceği bir atasözünü yer almaktadır?

- Arı, bal alacak çiçeği bilir.
- İki dinle, bir söyle.
- Gülme komşuna, gelir başına.
- Tok ağırlaması güçtür.

6

Edip Öğretmen'in verdiği atasözünü listesindeki tüm atasözlerini tablosunda kullanmak isteyen bir öğrenci ne yapmalıdır?

- Tablosuna "İçinde Fiilimsi Bulandırmayan Atasözleri" adlı bir sütun eklemelidir.
- İsim-fiil ve sıfat-fiil bulunan atasözlerini aynı başlık altında toplamalıdır.
- Tablosuna "İçinde Birden Fazla Fiilimsi Bulandıran Atasözleri" adlı bir sütun eklemelidir.
- Zarf-fiil ve sıfat-fiil bulunan atasözlerini aynı başlık altında toplamalıdır.

7

Kimi sözcükler isim-fiil ekleriyle türediği hâlde zamanla kalıplaşmış ve isim hâline gelmiştir. Bu sözcükler fiilimsi özelliğini kaybedip "bir varlığın adı" olmuştur.

Buna göre hangi dizelerde bir sözcük, hem fiilimsi özelliği kazanan şekliyle hem de bir varlığın adı olan şekliyle yer almaktadır?

- Yemek yemek üstüne ne düşünürsünüz bilmem Ama kahvaltının mutlulukla bir ilgisi olmalı.
- Kaldırımlar, ızdırap çekenlerin annesi, Kaldırımlar, içimde yaşamış bir insandır.
- Sular gene o sular, kıyı gene o kıyı Gene çamlar dinliyor uzaktan bir şarkıyı.
- Her zulmü, kahrı boğmaya bir parça kan yeter, Ey şark uyan yeter, yeter ey şark uyan, yeter.

8 Bu, Roma'ya üçüncü gelişimdir. Ama Roma, orada doğup orada büyüyenler için bile bitmez. Her heykel, her tablo, her anıt; size her görünüşünde güzelliğin yeni bir sırrını açacaktır. Roma'da heykel, vatandaş olmuştur. O, müzede değil, bizim gibi sokaklarda dolaşiyor, meydanlarda geziniyor, parklarda dinleniyor! Sabahleyin ağızdan sular dökülen aslanları seyrederek Doney'e gittim. Burası, büyük otellerin, şık mağazaların ve camlarından hare hare sular akan çiçeklerin sıralandığı büyük bir cadde üstünde, Via Veneto'da bir kahvedir ama Mehmet Âkif'in "Mahalle Kahvesi" değil, bir temizlik ve zarafet sergisi...

Yukarıdaki parçada kaç tane fiilimsi kullanılmıştır?

- A) 5 B) 6 C) 7 D) 8

9



1



2



3



4

Yukarıdaki uyarı levhalarında kullanılan fiilimsiler için hangisi söylenemez?

- A) Levhaların tümünde fiilimsi bulunmaktadır.
B) Üç fiilimsi türüne ait örneği de levhalarda göstermek mümkündür.
C) 4 numaralı levhada birden fazla fiilimsi vardır.
D) 1 ve 2 numaralı levhalarda aynı türden fiilimsiler yer almaktadır.

10

Kâmil iken cahil ettim alimi
Vahşi iken yahşi ettim zalimi,
Yavuz iken zebun ettim Selim'i,
Her oyunu bozan gizli zor benim...

Hangi seçenekte, yukarıdaki dördlükte yer alan altı çizili fiilimsi ile aynı türde bir fiilimsi bulunmaktadır?

- A) Yeryüzünde ben ürettim veremi.
Lokman Hekim bulamadı çaremi.
Aslı için kül eyledim Kerem'i.
İbrahim'in atıldığı kor benim...
- B) Sebep bazı Leyla bazı Şirin'di
Hatırım için yüce dağlar delindi
Bilek gücüm Ferhat ile bilindi
Kuvvet benim, kudret benim, fer benim
- C) İlahimle Mevlana'yı döndürdüm.
Yunus'umla öfkeleri dindirdim.
Günahımla çok ocaklar söndürdüm.
Mevlâ'danım; hayır benim, şer benim...
- D) Benim için yaratıldı Muhammed.
Benim için yağdırıldı o rahmet.
Evliyanın sözündeki muhabbet,
Enbiyanın yüzündeki nur benim.

11

- I. Meşe ağacından yapılmış sağlam gövdesi ile ürünümüz dayanıklıdır.
II. Bu muhteşem ürünün temizliği için sadece nemli bir bez kullanmak yeterli olacaktır.
III. Paslanmaz çelik kulplara sahip bu ürüne ücretsiz kargo imkânı ile kavuşabilirsiniz.
IV. Üstelik bu harika ürünü 12 aya varan taksit seçenekleri ile satın alabilirsiniz!

Yukarıdaki ürün tanıtımında numaralandırılan cümlelerin hangisinde diğerlerinden farklı türde bir fiilimsi kullanılmıştır?

- A) I B) II C) III D) IV

12 - 14. soruları aşağıdaki gazete haberine ve verilen bilgilere göre cevaplayınız.

Gazete

Türkiye'de daha önce görülmemiş ve küresel çapta soyu tehlikede olan Basra kamışçını, ülkenin önemli kuş cennetlerinden ve Doğu Anadolu'nun en çok kuş türü kaydedilmiş noktası olan Iğdır Aras Nehri Kuş Cenneti'nde halkalandı. Aras Nehri Kuş Cenneti'nin 290, Iğdır'ın 328 ve Türkiye'nin 486. kuş türü olan Basra kamışçını, Türkiye'de düzenli görülen büyük kamışçının yakın akrabası. Tüm ölçümleri alınan ve halkalanan Basra kamışçını, Iğdır'ın Tuzluca ilçesinin Yukarı Çıyıklı köyündeki Aras Nehri Kuş Cenneti'nin sazlıklarında başarılı biçimde doğaya geri bırakıldı.



Yukarıdaki gazete haberi metninde yer alan fiilimsiler ile ilgili olarak;

- Aynı fiil kökünden aynı fiilimsi ekini alarak türemiş üç sıfat-fiil bulunmaktadır.
- Nitelediği ismin yerine geçip adlaşmış sıfat olan fiilimsi vardır.
- Kip ve kişi eki alan fiilimsi örneği bulunmaktadır.
- Metindeki tüm fiilimsilerin cümle içindeki görevleri aynıdır.

öncülleri verilmektedir.

12 Öncüllerde doğru olanların sayıca daha fazla olması için metne hangi cümle eklenebilir?

- Basra kamışçını müjdesini alır almaz pek çok doğasever bölgeye akın etti.
- Aras Nehri Kuş Cenneti'nde bulunan Basra kamışçını Türkiye'nin en yeni kuş türü olarak kayıtlara geçti.
- Kuş sesleriyle iç içe, huzur dolu bir mekân arayanlar mutlaka bu cenneti ziyaret etmeli.
- Basra kamışçını ile beraber bölgeye özgü pek çok kuş türü, Aras Nehri'nde kuş gözlemcilerini bekliyor.

13 Buna göre öncüllerden doğru olanların karşısına D, yanlış olanların karşısına Y yazıldığı takdirde oluşacak sıralama hangi seçenekteki gibi olur?

- D - Y - Y - D
- Y - D - Y - D
- D - Y - D - Y
- Y - D - D - Y

14 Gazete haberinde yer alan "görülmemiş" sözcüğünü isim-fiile örnek olarak gösteren bir öğrenci hakkında hangisi söylenebilir?

- Şekil olarak aynı olan olumsuzluk eki ile isim-fiil ekini ayırt etmekte zorlanmaktadır.
- Tüm fiilimsilerin kök veya gövdesinin bir fiilden oluşması gerektiğini unutmaktadır.
- Bütün fiilimsi eklerinin aynı zamanda birer yapım eki olduğunu gözden kaçırmaktadır.
- İsim-fiil ekleriyle türediği hâlde kalıplaşıp bir varlığın adı olan sözcüklerin fiilimsi özelliklerini kaybettiğini unutmaktadır.

15 Umgeni Nehri Kuş Parkı'ndaki yemyeşil kuş evleri, ses tellerini açan bir şarkıcının nağmeleriyle yanıkılıyor bazen. Kim mi bu assolist? Molly adında bir papağan. Bir mavi alınlı amazon olan Molly, notaları sıralamayı eski sahibinden öğrenmiş. Durban'da (Güney Afrika Cumhuriyeti) yer alan bu hayvanat bahçesi ve üreme merkezindeki papağanların çoğu, büyük ve ilgi isteyen bir kuşa bakmanın zorluklarına kendini hazırlamamış insanlarca terk edilmiş. Papağanlar gürültücü ve yıpratıcı olmakla kalmıyor; bazıları üç yaşındaki bir çocuk kadar zeki olabiliyor, bazıları da 80 yıl yaşayabiliyor.

Hangi seçenekteki özelliği taşıyan bir örnek, metinde yer almamaktadır?

- Fiillerin olumsuzluk ekini almış bir fiilimsi
- İsim çekim eki almış bir fiilimsi
- Ek fiil alıp yüklem görevi üstlenen bir fiilimsi
- Bir edat ile birleşen fiilimsi

16 - 18. soruları aşağıdaki metne ve verilen bilgilere göre cevaplayınız.

(1) Olasılık, bir şeyin olma ihtimalini analiz etmek için mantık ve aritmetiği kullanan bir matematik dalıdır. (2) Bir labirentte hangi yöne dönmek gerektiğini tahmin etmekten dışarı çıkarken şemsiye alıp almamaya karar vermeye kadar her şeye uygulanabilir.

(3) İnsanların çoğu, arkasındaki matematiği düşünmeden olasılık hakkında konuşur. (4) Fakat sigorta uzmanları gibi bazı insanlar, olasılık üzerinde çok daha dikkatlice düşünür. (5) Örneğin; bir sigorta uzmanı, hayat sigortası masraflarını hesaplamak için bir insanın ne kadar yaşama ihtimali olduğunu belirlemelidir. (6) Bu, o kişinin yaşı, sağlığı ve yaptığı iş gibi faktörlere dayanır.

Şifreleme Kuralları:

- İsim-fiil için "S", sıfat-fiil için "E", zarf-fiil için "V" harfi seçilmiştir.
- Fiilimsi türü cümlede ilk defa görüldüğü an ilgili harf yazılır.
- Bir fiilimsi birden fazla görülse de ilgili harf tekrar yazılmaz.

- 16 Metnin cümleleri, içerdikleri fiilimsilere göre şifreleme kuralları göz önünde bulundurularak incelenecektir ve her cümleye harflerden oluşan kodlar verilecektir.

Buna göre aşağıdakilerden hangisi söylenmez?

- Metindeki cümlelerin tümü bu kurallara göre kodlanabilir.
- Metinde "SE" koduna sahip iki cümle bulunmaktadır.
- Metnin yalnızca tek bir cümlesi üç harf ile kodlanabilir.
- Metinde tek harfli koda sahip iki cümle bulunmaktadır.

- 17 Metindeki fiilimsileri doğru ve eksiksiz bulan Begüm, sıfat-fiillerden birinin diğer sıfat-fiillerden farklı bir fiilimsi eki aldığını fark etmiştir.

Bu fiilimsi metnin hangi cümlesinde yer almaktadır?

- 1
- 3
- 5
- 6

- 18 **Metinde geçen** "İnsanların çoğu arkasındaki matematiği düşünmeden olasılık hakkında konuşur." **cümlesindeki fiilimsinin benzeri aşağıdakilerden hangisinde vardır?**

- Affetmek ve unutmak büyük insanların intikamıdır.
- Akşam eve gelirken iki tane ekmek alır mısın?
- Yolculuğa çıkmak için henüz erken değil mi?
- Gerçekten hiç evden çıkacak hâlim yok bugün.

- 19 İsim-fiiller ve sıfat-fiiller fiilimsi özelliğini yitirip kavram adı olabilir. Fiilimsi özelliğini yitirip kavram adı olan sözcüklerle fiilimsileri karıştırmamak için olumsuzluk ekinden yararlanabiliriz. Fiilimsilerin olumsuz yapılabılır ancak fiilimsi özelliğini yitirmiş kalıcı adların olumsuz yapılamaz. Örneğin "Evde hiç içecek kalmamış." cümlesindeki "içecek" sözcüğünü olumsuz yapamayız.

Veysel Öğretmen bu açıklamayı yaptıktan sonra aşağıdaki cümleleri tahtaya yazar. Öğrencilere "Numaralandırdığım cümlelerden hangisinde fiilimsi kavram adı olmamıştır?" diye sorar.

- Sağlıklı kalmak için her gün spor yapmalıyız.
- Canınız hafif bir tatlı istiyorsa dondurmayı tercih edebilirsiniz.
- Dolabımda doğru dürüst giyecek kalmamış.
- Maaşının bir kısmını yakacak giderleri için ayırdı.

Buna göre öğrenciler hangi cümleyi seçerlerse Veysel Öğretmen'in sorusuna doğru cevap verirler?

- IV
- III
- II
- I

CÜMLENİN ÖGELERİ

SORULAR

TEST 1

1 (1) Birden canı sıkılıvermişti Halime Kaptan'ın. (2) Kendini bu kadınlardan ayrı cinste bir yaratık gibi görüyordu. (3) Konuşacak bir konusu kalmamıştı onlarla. (4) Mavzerden, tabancadan hoşlanıyordu artık. (5) İnebolu'da, Halil'in Boyran altında tente çekip içinde nöbet beklediği sandalda, sandalın başaltında çadır bezine sarılı kız gibi dört mavzeri vardı, bir iki sandık da fişeği... (6) Ambarı cephe-dekilerin işine yarar şeylerle doldurup pupa yelken yola düzülmeliydi.

Metindeki cümlelerin hangilerinde deyim, yüklem görevinde kullanılmıştır?

- A) 1 ve 6
B) 4 ve 6
C) 2 ve 3
D) 1 ve 5

2 Bu ihtiyar büyük nine tam doksan yedi yaşında idi. Köşelerin hafif karanlıklarından bazen uyanır gibi ayrılan gözlerini ara sıra, karşısında kitap okuyan genç kıza -bu torununun torununa- atfediyordu... Birden, üç dişi kalan buruşuk ağzını açtı. Esnedi. Bir mumya uzvu kadar sararmış, katılaştırmış elini başına götürdü.

Parçadaki cümleler ögelerine ayrıldığında hangi seçenekteki öge dizilimi elde edilemez?

- A) Zarf tamlayıcısı / Nesne / Yüklem
B) Nesne / Yer Tamlayıcısı / Zarf tamlayıcısı / Yüklem
C) Nesne / Yer Tamlayıcısı / Yüklem
D) Özne / Yüklem

3

sizi	fırlattı	ağlayarak	
gece	evde	bekleyecek	
yere	bebeği	bırakmış	

Yukarıdaki tablonun her sütunundan yalnızca bir sözcük seçilerek anlamlı üç cümle elde edilecektir.

Bu cümleler daha sonra aynı öge dizilişine sahip olacak şekilde düzenleneceğine göre tablonun boş sütunu nasıl doldurulmalıdır?

- A) arıyor
annesine
gülerek
- B) topu
koşmuş
Onlar
- C) topu
annesine
bu sabah
- D) Biz
annesine
bu sabah

4

(1) İki gece sonra, saat on ikiye doğru odanın penceresinden dışarı baktım. (2) Mehtap harikulade güzeldi, evin karşı tarafındaki yol gümüş gibi ışıldıyordu. (3) Ortalık aydınlıktı. (4) Manzaranın sessizliğine koyuldum fakat kırmızı gürgenler altında bir şeyin kımıldadığını fark ettim... (5) Ay ışığı çıktığı zaman ne olduğunu anladım: (6) Koca kemikleri dışarı fırlamış, ağzı siyah, dişleri meydanda, kızılımtırak tüylü, dana kadar büyük dev bir köpekti.

Açıklama: "Edatlar ile kurulmuş sözcük grupları, cümlede genellikle zarf tamlayıcısı olarak kullanılır."

Yukarıdaki parçanın hangi cümlelerinde, verilen açıklamayı örnekleyen bir zarf tamlayıcısı yer almaktadır?

- A) 1 ve 2
B) 2, 3 ve 4
C) 4 ve 5
D) 1, 3 ve 6

5

- I ve II. cümlede, yer tamamlayıcısı aynı görevdeki sözcük grubundan oluşturulmuştur.
- III. cümledeki özne, I. cümledeki aynı söz grubundan oluşturulmuştur.
- IV. cümledeki nesne II. cümledeki yer tamamlayıcısıyla aynı söz grubundan oluşturulmuştur.

Aşağıdakilerden hangisinde sözcükler bu açıklamaya göre düzenlenmiştir?

	I	II	III	IV
A)	Tarlaların içinden yürüyerek yola doğru ilerliyor.	Bir çocuk, belki bir daha göremeyecek?	Bu sözün hatırıma gelince burnumun direği sızladı.	Ali Rıza Bey, Adapazarı'nda on beş günden fazla tutunamadı.
B)	Toprak yolun üstünde araçların ezmediği ve iyi düzeltilmemiş yerlerde papatyalar büyümüşü.	İzmir Fuar'ında halka açık olan kitap sergisinde çok sayıda kitap satılmıştı.	Bir ara yavruların yüzlerinden düşmüş, arada yapışıp kalmış bir gülümseme gördüm.	Araştırmacılar bu genç kuşağın zor bir tüketici kitlesini oluşturduğu görüşündedir.
C)	Kovayı doldurmak için musluğa gidince aynada ister istemez yüzümü görüyorum.	Yıllardır bu tek adanın kiriyile tozuyla savaşıyorum.	Konuşma sırasında telefon olabildiğince baştan uzak tutulmalıdır.	Çocuklar gittikçe artan şekilde elektromanyetik radyasyona maruz kalmaktadır.
D)	Bu konu kitabın sonunda yer aldığından aklımda daha çok kaldı.	Etkili bir konuşmada jest ve mimiklerin ustalıkla kullanılması oldukça önemlidir.	Kelimeler, şiirdeki kullanımlarına bağlı olarak söyleyiş ve sesin yardımıyla yeni anlamlar kazanır.	Bu teknikte karakterlerin düşünceleri olduğu gibi ifade edilmeye çalışılır.

6

"İçeri, dışarı, yukarı" gibi yön bildiren sözcükler bir yüklemden önce yalın olarak kullanıldığında zarf tamamlayıcısı olur. Bu sözcükler ad durum eklerinden birini alırsa nesne ya da yer tamamlayıcısı olur."

Buna göre;

- Sorgusuz sualsiz, kapıyı çalmadan içeriye girmiş.
- Yukarı bakın, bir leylek sürüsü var!
- Şu sokaktan geri dön.
- Hafta sonu arkadaşları ile dışarıya çıkacak.
- Ağaçtan inmeden önce aşağıyı kontrol et.

İfadelerindeki yön bildiren sözcükler, cümledeki görevleri bakımından ikiye gruplandırıldığında hangisi açıkta kalır?

- A) I B) II C) III D) V

7

"Yardımcı ve açıklayıcı bir öge olarak cümlenin içine giren ve çıkarılması cümlenin anlamında eksiklik ya da bozulma meydana getirmeyen sözler ara söz denir. Bazı ara sözler, cümle içerisindeki bir ögenin açıklayıcısı konumunda bulunabilir. Ara sözlerin bazıları ise müstakil, bağımsız birer cümle şeklindedir."

Buna göre hangi seçenekte ara söz, bir ögenin açıklayıcısı konumundadır?

- Âşık Veysel Şatıroğlu, nur içinde yatsın, Anadolu kokan bir halk ozanıydı.
- İki dünya bir araya gelse, emin ol, verdiğim bu kesin karardan dönmem.
- Siz -kim ne derse desin ne yaparsa yapsın- kitap okumaktan asla vazgeçmeyin.
- Olaya şahit olanlardan biri -Öğretmen Zübeyde Hanım- kibarca söz aldı.

8 - 10. soruları aşağıdaki cümlelere göre cevaplayınız.

1. Yılanın başı küçükken ezilir.
2. Acemi katır kapı önünde yük indirir.
3. Öfke baldan tatlıdır.
4. İyilik eden iyilik bulur.
5. İnsanın canı, acıyan yerindedir.
6. Her yiğidin bir yoğurt yiyişi vardır.

8 Verilen atasözleri ögelerine ayrılarak aşağıdaki sorulara cevap verilecektir.

Yalnızca özne ve yüklemden oluşan atasözü / atasözleri hangileridir?

Sözde öznenin kullanıldığı atasözü / atasözleri hangileridir?

Üç öğe eden oluşan atasözü / atasözleri hangileridir?

Zarf tamlayıcısının kullanıldığı atasözü / atasözleri hangileridir?

Buna göre hangi atasözü, bu sorulardan herhangi birinin doğru cevabı olamaz?

- A) 1 B) 2 C) 5 D) 6

9 Verilen atasözlerinden hangilerinde ikiden fazla öge bulunmaktadır?

- A) 1, 4 ve 5 B) 2 ve 6
C) 1, 2, 3 ve 4 D) 1, 2 ve 3

10 “Bir cümlede yüklem çekimli bir eylemden oluşabileceği gibi çekimli bir addan da oluşabilir.”

Bu bilgiye göre atasözleri listesi incelendiğinde hangi sonuca ulaşmak mümkündür?

- A) 2 ve 5 numaralı atasözlerinin yüklemeleri aynı sözcük türlerinin çekimi ile oluşmuştur.
B) Çekimli addan oluşan yüklemeler ile çekimli eylemden oluşan yüklemeler sayıca eşittir.
C) 3 ve 6 numaralı atasözlerinin yüklemeleri farklı sözcük türlerinin çekimi ile oluşmuştur.
D) Çekimli addan oluşan yüklemeler, çekimli eylemden oluşan yüklemelerden azdır.

11 Tarık Öğretmen, öğrencilerinden içinde yüklemi olmayan cümle örneği olan paragraflar bulmalarını ister.

Buna göre aşağıdaki seçeneklerde verilen metinlerden hangisi Tarık Öğretmen’in istediği türde bir paragraf değildir?

- A) Sırtüstü uzanıp gözlerimi Keşiş Dağı'nın üzerinde parlayan yıldızla diktim. Kenan'ın yıldızı bu, birlikte seçmiştik. Yıldızla baka baka geçen günleri düşündüm. Geçen yazı, ırmakta tuttuğumuz balıkları, aşağı mahalleyi 6-2 yendiğimiz maçı...
B) Sohbetimizin orta yerinde akşam ezanı okunuyor. Kısacık bir şarkı gibi... Kızıl, mavi, mor ve güzel bir şarkı... Ardından kapımızın zili çalıyor. Kuşlar havalanıyor, ben zıplıyorum. Babam gelmiş.
C) Gölün suyu azaldı. Çevresi kıraç, yaşanmaz bir hâl aldı. İnsanlardan bazılarının yaptıklarının cezasını o bölgedeki bütün insanlar çekiyor şimdi. Yazın o sıcak günlerinde başlarını sokacak küçücük bir gölge bulamamanın hüznüyle ter döküyorlar...
D) Gözlerimi açtığımda başucumda bir paket... Üzerinde bir kâğıt var. Babamın yazısı bu. Uykulu gözlerle okuyorum, “Çok sevdiğim oğluma, hediye.” yazıyor kâğıdın üzerinde. Boğazıma bir şeyler düğümleniyor.

CÜMLE TÜRLERİ

SORULAR

TEST 1

- 1 (I) İstanbul martıları, balıkçılardan çaldıkları midyeleri kırmak için Kız Kulesi'ne götürürler. (II) Kule'nin çatısına konarak, gagasındaki midyeyi bırakan martıyı, aşağıda nefis bir ziyafet beklemektedir. (III) Boğaz'ın ortasındaki kayalıklara deniz feneri olarak inşa edilmiş olsa da Kız Kulesi martılar için bir midye tabağıdır. (IV) Martıların konmayı sevdiği yerlerden biri de gemi direkleridir... (V) Kentin iki yakasını bir araya getirmek için gün boyu çalışan vapurlarda yolculuk yapan İstanbullular, martı çığlıklarını duyarlar duymasına ama bu seslerde gizlenen öyküyü anlayamazlar.

Metindeki cümle türleri ile ilgili hangisi söylenemez?

- A) Olumlu cümleler, olumsuz cümlelerden fazladır.
B) V. cümle tek yargı bildiren olumlu bir cümledir.
C) I ve II. cümleler olumlu cümlelerdir.
D) Bütün cümleler birden fazla yargı barındırır.

- 2 Bir zamanlar insanların sayısı sürekli artıyordu. Daha fazla insan, daha fazla ev demektir ve herkes şehir merkezlerinde yaşamak istiyordu. Önce tek ve iki katlı binalar yaklaştı. O kadar yaklaştılar ki birbirlerinin güneşini kesiyorlardı. Fakat bu da insanlara yetmedi. Binaların yakınlığı artmaya devam ederken yükseklikleri de artmaya başladı. Merkezlerdeki insan sayısı artıyor, binalar yükseliyordu. Durmaya ise hiç niyetlenmiyorlardı.

Metinde hangi cümle türünün örneği yoktur?

- A) Tek yargı bildiren cümle
B) Olumsuz isim cümlesi
C) Olumlu fiil cümlesi
D) Olumsuz fiil cümlesi

- 3 Şunu öğrendim ki balıkların çoğu yaşlanınca, ömürlerini boşuna geçirdiklerini söyleyip yakınırlar. Sürekli sızlanıp herkesten şikâyet ederler. Ben bilmek istiyorum, hayat gerçekten bir avuç yerde durmadan dönüp durmak, sonra da yaşlanıp ölüp gitmek mi? Yoksa bu dünyada başka türlü yaşamak da mümkün mü?

Metindeki cümle türleri hakkında hangisi söylenemez?

- A) Birden fazla soru cümlesi vardır.
B) Bütün cümleler yüklem yeri bakımından benzer özellik gösterir.
C) Tek yargı bildiren cümleler bulunmaktadır.
D) İsim cümlesi örneği vardır.

- 4 (I) Minik bir göçmen kuşun çığlığında yakaladım sabahı. (II) Ne gece ne sabahtı zaman. (III) Sonsuzluğun gri örtüsünü yırtmak üzereydi güneşin ilk ışıkları. (IV) Öylesine bir günü kucaklamak üzereyken aydınlık, evrenin sonsuzluğunda bir nokta gibiydim. (V) Başımı pencereye çevirince, göz göze geldik denizle ve denizin eşsiz mavisi ile. (VI) Henüz uyanmamıştı martılar, gemiler, balıkçı tekneleri, kayıklar. (VII) Her şey, her yer uykudaydı.

Aybüke, yukarıdaki metni inceleyerek şekildeki olumlu olduğu hâlde anlamca olumsuz olan cümleler ile hem şekilde hem anlamca olumsuz olan cümlelere birer adet örnek göstermek ister.

Buna göre Aybüke metindeki hangi cümleleri örnek olarak gösterebilir?

- A) I ve III
B) II ve VI
C) III ve V
D) IV ve VII

5 ve 6. soruları aşağıdaki metne göre cevaplayınız.

(I) Güler yüzün çözemeyeceği hiçbir mesele yoktur. (II) Buzlar güneş karşısında nasıl erirse çetin meseleler de işe güler yüzle başlayan ve öylece devam eden insanların elinde çözümlür. (III) Asık surata kapanan kapılar güler yüze açılır. (IV) Bektaşi'nin hikâyesini bilirsiniz:

(V) 80 yaşında öldüğü hâlde mezar taşına "5 sene yaşadı" diye yazdırmış. (VI) Bu beş sene onun hayata gülerek baktığı, neşe içinde yaşadığı, gam nedir bilmeden hoşça vakit geçirdiği senelermiş. (VII) Hayatınızı uzatabilmek için her anınızı gülerek geçirmeniz gerekir.

5 Aşağıda özellikleri verilen cümle türlerinden hangisi bu metinde yer almamaktadır?

- A) İçinde fiilimsi bulunan / Olumsuz / İsim
B) İçinde fiilimsi bulunan / Olumlu / Fiil
C) Tek yargı bildiren / Olumsuz / Fiil
D) İçinde fiilimsi bulunan / Olumlu / İsim

6 Muzaffer, yukarıdaki metinde verilen cümlelerin türlerini değiştirmeye karar verir. Bu işe başlamadan önce değişimi nasıl yapacağına dair aşağıdaki kuralları belirler.

- Cümle olumlu ise kurallı olumsuz soru cümlesine dönüştürülecektir.
- Cümle olumsuz ise devrik olumlu soru cümlesine dönüştürülecektir.

Buna göre hangi seçenekteki cümle değişimi Muzaffer'in belirlediği kurallardan herhangi birine uygundur?

- A) Bu beş sene onun hayata gülerek baktığı, neşe içinde yaşadığı, gam nedir bilmeden hoşça vakit geçirdiği seneler değil miymiş?
B) Güler yüzün çözemeyeceği hiçbir mesele yok mudur?
C) Her anınızı gülerek geçirmeniz gerekmez mi hayatınızı uzatabilmek için?
D) Güler yüze açılmaz mı asık surata kapanan kapılar?

7 ve 8. soruları aşağıdaki metinlere göre cevaplayınız.

I. Metin

Nerede, ne zaman ve nasıl doğacağınızı seçemezsiniz. Nerede, nasıl öleceğinizi de seçemezsiniz. Ama nerede ve nasıl yaşayacağınızı pekâlâ seçebilirsiniz.

II. Metin

Gençler, yaşlıların ne düşündüğünü ve hissettiğini bilmezler ama eğer ihtiyar adamlar genç olmanın nasıl bir şey olduğunu unuturlarsa o zaman suçludurlar.

III. Metin

Ok, ancak geri çekilerek atılır. Hayat seni zorluklarla geri çekiyorsa seni daha büyük bir şeye fırlatacağı içindir. Nişan almaya devam et...

7 Metinlerin içerdikleri yargı sayısı ile ilgili olarak hangisi söylenebilir?

- A) Yargı sayısı en fazla olan metin üçüncü metindir.
B) İkinci metindeki yargı sayısı, üçüncü metinden fazladır.
C) Yargı sayısı en az olan metin ikinci metindir.
D) Üçüncü ve ikinci metnin yargı sayıları eşittir.

8 Hangi metinlerde "Kitap seçimi, tıpkı arkadaş seçimi gibi ciddi bir iştir." cümlesindeki yüklem türü ile eş bir yüklem vardır?

- A) I ve II
B) Yalnız II
C) II ve III
D) I ve III

9 - 11. soruları aşağıdaki metne göre cevaplayınız.

(1) Evimiz sokağın başında. (2) Yatıp kalktığım odanın penceresinden bakınca, bir baştan bir başa bütün sokağı görüyorum. (3) Bir saat sonra yola çıkacağım. (4) Odamda öteberi eşyayı bavulumla yerleştirmiş doğruluyordum ki sokaktan gelen bir çocuk ağlaması beni pencerenin önüne çekti.

(5) Çocukların ağlamasına dayanamam. (6) Bir fena olurum, duydum mu. (7) Çocuklar boş yere ağlamaz. (8) Şu dünyada çocukların ağlaması ne kadar azalır bilin ki kötülükler o kadar azalmıştır. (9) Ağlayan bir çocuk sesi duyar da ilgilenirseniz bilin ki şu bozuk düzenin sizi üzecek bir olayıyla karşılaşacaksınız.

9 Metindeki cümlelerden hangisi yüklem yeri bakımından diğerlerinden farklıdır?

- A) 1 B) 4 C) 6 D) 9

10 Metindeki cümle türleri ile ilgili olarak hangisi doğrudur?

- A) 2. cümle, birden fazla yargı bulunan olumlu bir fiil cümlesidir.
B) 3. cümlenin içinde birden fazla yargı bulunmaktadır.
C) 5. cümle olumlu, kurallı, fiil cümlesidir.
D) 7 ve 8. cümlede yargı sayısı birden fazladır.

11 Metindeki numaralandırılmış cümlelerden hangilerinde birden fazla yargı yoktur?

- A) 1, 2 ve 5 B) 1, 3 ve 7
C) 3, 4 ve 7 D) 2, 5 ve 6

12 “Yazar edebî türlerdeki eserlerini dört kitapta toplamamış.” cümlesinin olumlu soru hâli aşağıdakilerden hangisidir?

- A) Edebî türlerdeki eserlerini dört kitapta yazar toplamamış mı?
B) Edebî türlerdeki eserlerini dört kitapta yazar mı toplamamış?
C) Yazar edebî türlerdeki eserlerini dört kitapta toplamış.
D) Yazar edebî türlerdeki eserlerini dört kitapta toplamış mı?

13 Aşağıdakilerin hangisinde verilen dizeler tek yargı bildirmektedir?

- A) Ne zaman seni düşünsem
Bir ceylan su içmeye iner.
B) Bir dala konmuştu karga cenapları;
Ağzında bir parça peynir vardı.
C) Benim bu gidişe aklım ermiyor,
Fukara hâlini kimse sormuyor.
D) Aydınlıklar, esenlikler, mutluluklar
Hiçbiri gözlerin kadar anlamlı değil.

14 “Uyanın kuşlar!” diye bağırdım. Hey, bütün kuşlar uyanın! Hiçbirinden ses yoktu.

Uyanın da size mavi gökleri anlatayım. Güneşin sıcaklığını, derelerin şırıltısını... Size sabahın buğusunu, dağlardaki ateşi, yapraktaki teri anlatayım. Bütün bunlar dışarıda sizi bekliyor. Hey kuşlar, başınızı kaldırın!

Metindeki cümle türlerini tespit ederken hangi seçenek kullanılamaz?

- A) Emir cümlesi / Olumlu cümle
B) İstek cümlesi / Eksiltili cümle
C) Uyarı cümlesi / Devrik cümle
D) Ünlem cümlesi / Olumsuz isim cümlesi

FİİLDE ÇATI

SORULAR

TEST 1

1 (1) Yaz seferlerine çıkacak olan Osmanlı orduları Edirne'de toplanmış bir zamanlar. (2) Padişahı beklerken erler boy ölçüşür, küçük birliklere baş olacaklar seçilirmiş böylece. (3) Bugün Anadolu insanı için yurdunu savunmadan başka amaçla savaşmak yiğitlik sayılmıyor. (4) Güreş kardeşçe ve yiğitçe bir oyundur onun için. (5) Ama bu oyuna, atalardan kalma özel bir saygısı vardır.

Parçadaki numaralandırılmış cümlelerden hangilerinde çatı özelliği aranmaz?

- A) 1 ve 2
- B) 3 ve 4
- C) 3 ve 5
- D) 4 ve 5

2 **Aşağıdaki cümlelerin hangisinde özne-yüklem ilişkisi bakımından diğerlerine göre farklı çatıda bir fiil kullanılmıştır?**

- A) Arap kâşif İbn Battuta'nın macerası 1325'te Fas'ın Tanca kentindeki evinden yola çıkmasıyla başlar.
- B) Gezmeyi çok seven İbn Battuta, evine ancak 24 yıl sonra dönebilir.
- C) Ünlü seyyah, gezilerini Rihlet-ü İbn Battûta adlı seyahatnamesinde anlatmıştır.
- D) Dünyanın pek çok yöresinin 14. yüzyıldaki hâli bu değerli kaynak sayesinde bilinir.

3 Geçişsiz çatılı eylemler nesne almayan / alamayan eylemlerdir.

Aşağıdakilerin hangisinde geçişsiz çatılı bir eylem vardır?

- A) Postacı kapıyı iki kere çalar.
- B) Geçen yıl Edirne'yi gezmiştik.
- C) Bahçedeki zararlı otları teker teker yolduk.
- D) Bütün gün dışarıda yürümüş.

4 Tuğrul, fiil çatılarına göre iki farklı örüntü hazırlamaya karar verir. Bu örüntüleri oluşturacak kuraları şu şekilde belirler:

- İlk örüntüde yer alan tüm fiiller nesne alabilir.
- İkinci örüntüde aynı fiil kökünün sırasıyla etken-edilgen çatıları yer almaktadır.

Buna göre hangi seçenekte Tuğrul'un hazırlayacağı örüntüler peş peşe verilmiştir?

A)	Yapmış - Yaptırmış - Yaptırtmış	Tuttum - Tutuldu
B)	Uyumuş - Uyutmuş - Uyutturmuş	Baktım - Bakındım
C)	Kaçtı - Kaçırıldı - Kaçtırttı	Bilmiş - Bilinmiş
D)	Aradı - Arattı - Arattırdı	Buldum - Buluştuk

5 ve 6. soruları aşağıdaki metne göre cevaplayınız.

(I) Karıncalar 100 milyon yıldan uzun süredir dünya üzerinde bulunmakta ve gezegenin her yerine yayılmış durumdadır. (II) Dünya'nın bilinen en eski karınca fosili bir amberin içinde korunmuş şekilde bulunmuştur. (III) Dünya üzerinde 35 bin karınca türü mevcuttur. (IV) Çoğu karınca türü sıcak iklimlerde yaşar. (V) Yaklaşık 9 bin 500 karınca türü bilinmektedir. (VI) Bilim adamları bunun yaklaşık iki katının henüz keşfedilmeyi beklediğine inanmaktadır. (VII) Bugün yaşayan tüm karıncaların toplam ağırlığı, yaşayan tüm insanların ağırlığından daha fazladır.

5 Metinde numaralandırılmış cümlelerin hangilerinde "karınca" sözcüğünün geçtiği söz öbeği, sözde özne olarak kullanılmıştır?

- A) I ve III B) II ve V
C) V ve VI D) VI ve VII

6 Metinde numaralandırılmış cümlelerin hangilerinde çatı özelliği aranır?

- A) II ve III B) I, IV ve VII
C) II ve IV D) II, V ve VI

7 (I) Sonbahar gecesinin ilerleyen saatlerinde o sevgili çadırdan çıkmak zorunda kalan Yüzbaşı Erdene, başını kaldırıp gökyüzündeki aya baktı. (II) Ay, solgun ışığını Sarı Özek üzerine yayıyordu. (III) Yüzbaşı dışarı çıkınca kendini yalnız, yapayalnız hissetti. (IV) Oradan hiç ayrılmamayı, Togulan'ın ve oğlunun yanına dönmeyi ne kadar isterdi.

Metnin hangi cümlesi nesne-yüklem ilişkisi bakımından diğerlerinden farklıdır?

- A) I B) II C) III D) IV

8 "Bazı cümlelerde fiiller geçişli olduğu hâlde nesne bulunmayabilir. Çünkü geçişli fiiller nesne alan ya da nesne alabilen fiillerdir." diyerek arkadaşlarını uyaran Kemal, hangi seçenekte verilen cümleyi bu duruma örnek olarak gösterebilir?

- A) Hızlı adımlarla geçti köy kahvesinin önünden.
B) Kelepçeyi yeni vurdukları hâlde bilekleri morarmıştı.
C) Sofra örtüsünü çektiler dizlerinin üstüne.
D) Babası eve almıyordu Haşim Bey'den çekindiği için.

9 Dilek Öğretmen, öğrencilerine "Geçişsiz fiiller, geçişli fiil hâline getirilebilir." bilgisini vererek onlardan bu durumu örnekleyen bir tablo oluşturmalarını ister. Öğrenciler, arkadaşlarının doldurması için tablonun bazı kısımlarını boş bırakacaktır. Aşağıda bir öğrencinin hazırladığı tablo verilmiştir:

	Geçişsiz Fiil	Fiilin Geçişli Hâle Getirilmiş Şekli
	uyumak	uyutmak
1	kurumak	
2		okutmak
3	kaçmak	
4		ısırmak
5	beklemek	

Buna göre tablonun numaralandırılmış satırlarından hangilerinde uygun fiiller yer almamaktadır?

- A) 1 ve 4 B) 2, 4 ve 5
C) 1, 3 ve 5 D) 2 ve 3

- 10 (I) Kütüphaneci okulun demir kapısından içeriye girdiğinde 1998'in bir Eylül günüydü. (II) Demir kapının sol tarafında bulunan beyaz renkli güvenlik kabinindeki görevliyle selamlaştı. (III) Havanın sakinliğine inat, işe başlamanın heyecanı ve karmaşık duyguları içinde çalışacağı mekâna, okulun kütüphanesine doğru yürümeye devam etti. (IV) Acele etmeden merdivenleri çıktı.

Yukarıdaki metnin hangi cümlesinde çatı özelliği aranmaz?

- A) I B) II C) III D) IV

- 11 Modern kentlerde ulaşım sorunu, esas olarak metro sistemiyle çözülmüştür. İlk metro 1863 yılında Londra'da çalışmaya başlar. İstanbul'da Karaköy ile Beyoğlu arasında çalışan "Tünel" adını verdiğimiz raylı sistem dünyanın ikinci metrosudur. Açılışı 17 Ocak 1875'te yapılmıştır.

Metinde yer alan cümleler özne yüklem ilişkisi bakımından incelenecek ve aşağıda verilen işaretler ile metindeki cümleler sırasıyla kodlanacaktır.

Etken Çatılı: ▲	Edilgen Çatılı: 	Çatı Aranmaz: x
-----------------	---	-----------------

Buna göre doğru kodlama hangi seçenekte verilmiştir?

- A)  ▲  x  B) ▲    C)  ▲  x D) ▲   

12

		Özne - Yüklem İlişkisi Bakımından	Nesne - Yüklem İlişkisi Bakımından
1	Kara haber tez duyulur.	Edilgen	Geçişsiz
2	Irmaktan geçerken at değiştirilmez.		
3	Eğri ata binen tez iner.		
4	Demir tavında dövülür.		
5	Isıracak it dişini göstermez.		
6	Acele ile yürüyen yolda kalır.		
7	Gülü seven dikenine katlanır.		
8	Güneş balçıkla sıvanmaz.		

Yukarıdaki tabloda yer alan atasözlerinin çatı özellikleri örnekteki gibi doğru bir şekilde tamamlandığında aşağıdaki atasözü çiftlerinden hangilerinin karşısında yazan bilgiler aynı olmaz?

- A) 2 ve 4 B) 4 ve 8 C) 6 ve 7 D) 4 ve 5

ANLATIM BOZUKLUĞU

SORULAR

TEST 1

- 1 Etrafımıza şöyle bir baktığımızda maalesef tebesüm eden, birbirlerine güler yüzle yaklaşan insanlar yerine asık suratlı insanlarla karşılaşyoruz. Öğrencisinden otobüs şoförüne, bakkalından genel müdürüne kadar herkesin yüzü asık. Bir iş için postaneye girdiğimizde oradaki görevliden güler yüz bekleriz. Görevli ise belki de her gün aynı işi yapmanın verdiği isteksizlikle adeta robot gibi işini yapmaktadır. Biz görevliden, o da bizden anlayış ve güler yüz beklemektedir. Herkes ilk adımı karşısındaki atmasını beklemektedir.

Hangi seçenekte yer alan anlatım bozukluğu ile metinde bulunan anlatım bozukluğunun sebebi aynıdır?

- A) Bazen onlar bize, bazen de biz onlara gideriz.
B) O kadar yoruldu ki dizlerim sızlıyorlar.
C) Arkadaşımı sever, güvenirim.
D) Kardeşimin saçları çok hızlı büyür.

- 2 Okuma alışkanlığı erken yaşlarda kazanılan bir alışkanlıktır. Çocuklarınızın yaşına ve zevkine uygun olan masal ve hikâye kitapları ile çocuklarınız için kitap okumayı keyifli hâle getirebilir, onların küçük yaşta kitap okumasını sevmelerini sağlayabilirsiniz. En güvenilir yayınevlerine ait binlerce çocuk kitabı, çocuğunuzun keyifle okuyacağı en güzel hikâyeler için sizleri mağazamıza bekliyoruz.

Metinde yer alan anlatım bozukluğu nasıl düzeltilebilir?

- A) "Alışkanlığı" sözcüğü metinden çıkarılarak
B) "Okumasını" sözcüğü yerine "okumayı" sözcüğü getirilerek
C) "Sizleri" sözcüğündeki çoğul eki atılarak
D) "onların" sözcüğü yerine "çocukların" sözcüğü getirilerek

- 3 Ortak yükleme bağlanamayan birden çok cümlelerin tek yükleme bağlanmasıyla ortaya çıkan anlatım bozukluğuna yüklem eksikliği denir.

Aşağıda verilen dörtlüklerin hangisinde açıklaması verilen anlatım bozukluğu vardır?

- A) Gizli dertlerimi sana anlattım
Çalıştım sesimi sesine kattım
Bebe gibi kollarımda yaylattım
Hayali hatır et beni unutma
- B) Benim her derdime sen ortak oldun
Ağlarsam ağladın gülersem güldün
Sazım bu sesleri turnadan mı aldın
Pençe vurup sarı teli sızlatma
- C) Sen petek misali Veysel de arı
İnleşir beraber yapardık balı
Ben bir insanoğlu sen bir dut dalı
Ben babamı sen ustamı unutma
- D) Ay geçer yıl geçer uzarsa ara
Giyin kara libas yaslan duvara
Yanımdan göğsünden açılır yara
Yâr gelmezse yaraların elletme

- 4 Aşağıdaki cümlelerin hangisinde bir anlatım bozukluğu vardır?

- A) Çocukların oyun oynayacak yerleri yoktu, bu sebeple sokakta oynuyorlardı.
B) Sen içeri giriyorsun ben dışarı doğru çıkıyorum.
C) Ekonomik kriz böyle devam ederse ben işimden olacağım sen de parandan olacaksın.
D) Asıl felaket bu pınara sırt çevirmek, bu pınarın gözlerine taş tıkamak değil de ne olurdu?

5 Mehmet amca, 21 Mart 1963 yılında Anadolu'nun şirin bir köyünde doğmuş. Köyünden ayrılıp İstanbul'un göbeğindeki bu mahalleye geleli hemen hemen yirmi yıl olmuş. Geldiği günden beri de gerek dürüstlüğü gerek yardımseverliği ile mahal-
lelinin göz bebeği olmuş. Kendisi son beş yıldır mahallemizde manavlık yaparak geçimini sağlıyor. Ben de onu tanımaktan, komşu olmaktan mutluluk duyuyorum.

Bu metinde aşağıdaki anlatım bozukluklarından hangisi yapılmıştır?

- A) Deyim yanlışlığı
- B) Özne-yüklem uyumsuzluğu
- C) Çatı uyumsuzluğu
- D) Öge eksikliği

6 Güzel bir sabah. Kuşlar cıvılcıvılcıvı ötüyorlar. Kuşların korosunu dinleyerek balkonumda tek başıma oturuyorum ve bu satırları yazıyorum. İnsanın her şeye kırıldığı anlar gelip geçicidir. Benimkiler de gelip geçti. Mazinin yaralarını unutmaya kararlıyım.

Yukarıdaki metinde hangi kurala aykırı bir kullanım söz konusudur?

- A) İnsan dışındaki varlıkların çoğul şekilleri özne olduğunda yüklem daima tekil olmalıdır.
- B) Çoğul anlamı taşıyan bir sıfattan sonra gelen ad tekil olmalıdır.
- C) Cümledeki ögeler arasında veya kelime grupları arasında bazen dil kurallarının bilinmemesinden kaynaklanan uyumsuzluklara dikkat edilmelidir.
- D) İçinde fiilimsi bulunan cümlelerde veya sıralı cümlelerde aynı özneyi alan yüklem-lerin her ikisi de etken veya her ikisi de edilgen olmalıdır.

7 "....." cümlesinde özne ile yüklem arasında tekil-lik-çoğulluk uyumu yoktur. Çünkü özel durumlarda dışında, özne tekilse yüklem de tekil; özne çoğulsa yüklem de çoğul olur. Yukarıdaki cümlede bir çokluk ifade eden "birçoğu" belgisiz zamirinden sonra yüklem-
in tekil kullanılması gerektiği gözden kaçmıştır.

Yukarıda verilen boşluğa aşağıdaki cümlelerden hangileri getirilmelidir?

- A) Bir insan için güzel olanın, daha birçoğu için de güzel olması pek muhtemeldir.
- B) Birçoğu yıllardır emek verdiğimiz bu işin önemini kavramıyorlar.
- C) Yine içimizden birçoğu, güzelliği kendi gözleriyle değil başkalarının gözlerine inanarak kabul etmek ister.
- D) Birçoğu onu memleketin mukadderatına yabancı bulmuştur.

8 Nesnenin eksik ya da yüklem-lerin tümüne uygun kullanılmaması anlatımı bozar.

Aşağıdaki cümlelerin hangisinde bu durumu örnekleyen bir anlatım bozukluğu vardır?

- A) Bağına, bahçene, suyuna, toprağına veda ederek geri gidiyorum.
- B) Gazetelerin yazdıklarına inanmıyor fakat okumaktan da geri kalmıyordu.
- C) Kadri o adamlardandır ki iyi davranmaya, yüz vermeye gelmez.
- D) Baygın da olsa yabancı bir kadını böyle kucağında tutmak ona pek ayıp bir şey gibi geldi.

9 Aşağıdaki cümlelerin hangisi, **ayraç içinde verilen anlatım bozukluğuna örnek olamaz?**

- A) Kişiler düşünceleri birbirinden farklı olabilir. (Tamlayan eki eksikliği)
 B) Babam bu konuda beni uyarmış ama onu dinlememişim. (Ek-fiil eksikliği)
 C) Öğretmenlerimize ne kadar saygı göstersek azdır çünkü hep bizim iyiliğimizi düşünürler. (Yer tamlayıcısı eksikliği)
 D) Oğuz, o sabah erkenden kalkıp yola çıktı. (Çatı uyumsuzluğu)

10 Herkes sorumluluğunu biliyor, görevini aksatmıyor.

Bu cümledeki anlatım bozukluğu aşağıdaki değişikliklerin hangisiyle giderilir?

- A) "sorumluluğunu" ifadesi ile "biliyor" sözcüklerinin yeri değiştirilerek
 B) "görevini" sözcüğünden önce "kimse" ifadesi getirilerek
 C) "görevini" sözcüğü cümleden çıkartılarak
 D) "biliyor" ifadesinden sonra "herkes" sözcüğü getirilerek

11 Okuldan eve, kedime duyduğum özlemle geliyorum; içeri girdiğimde karnı tok, uzanmış keyif yaparken bulduğumda kalbime ferahlık doluyordu.

Bu cümledeki anlatım bozukluğunun nedeni aşağıdakilerden hangisidir?

- A) Yer tamlayıcısı eksikliği
 B) Nesne eksikliği
 C) Özne-yüklem uyumsuzluğu
 D) Yüklem eksikliği

12 (I) Telefon ve iş yoğunluğunun haddini aştığı saatlerde ortaya çıkan ufak tefek gerginlikleri yatıştırmak için, upuzun boyuyla uyumlu, bir sandalın küreklerini andıran uzun ve ince kollarını açarak Ermeni aksarıyla kurduğu kararlı, sert, kısa cümlelerin soğukluğunu ve ürkütücülüğünü tanımlamaya uzun bir sessizlik bile yetmeyebilir. (II) Odasından olan biteni, herkesi inceden inceye izliyor; ters giden şeyler olduğunda da hemen uyarıyor. (III) Şu geçen zaman içinde ondan henüz bu türde bir uyarı almadım ve bir şey demedi. (IV) Aksine, bir gün odasına çağırıp çabalarımı takdir ettiğini ve böyle devam etmemi beklediğini söyledi.

Yukarıda verilen cümlelerin hangisinde yer tamlayıcısı eksikliğinden kaynaklı bir anlatım bozukluğu bulunmaktadır?

- A) I B) II C) III D) IV

13 (1) Bir fincan kahvenin kırk yıl hatırı varmış... (2) Bir yudum çayın hatırı da ondan eksik değildir herhâlde... (3) Rize'de içtiğim çayların hatırına bir ömür yeter mi acaba? (4) Ne çayının tadını ne hatırını ne de dost insanlarını unutamayacağım, bunu bilerek ayrılıyorum bu güzel yerden.

Seçeneklerde anlatım bozukluğu yapılan cümle ve ne tür bir anlatım bozukluğu yapıldığı belirtilecektir.

Buna göre hangi seçenekte, anlatım bozukluğu yapılan cümle ve sebebi doğru belirtilmiştir?

Cümle	Anlatım Bozukluğu
A) 1 →	Özne eksikliği
B) 2 →	Çatı uyumsuzluğu
C) 3 →	Nesne eksikliği
D) 4 →	"Ne... ne" bağlacının yanında yüklem yanlışı çekimi

14 Aşağıdakilerin hangisinde tamlayan ile tamlananın birbirine uygun kullanılmamasından kaynaklanan bir anlatım bozukluğu vardır?

- A) Hiçbir zaman mebusluktan çekilmek niyetinde değilim.
- B) Benim ile onun düşüncesi örtüşmüyor.
- C) Kendilerine iyi bir çalışma fırsatı verdim.
- D) Fotoğraf makinesi ışık almış, film yanmış.

15 "Paragraf soruları çözüp bu sorulara çözümler yazılacak." cümlesinde bulunan anlatım bozukluğunun nedeni aşağıdakilerden hangisidir?

- A) Çatı uyumsuzluğu
- B) Nesne eksikliği
- C) Özne eksikliği
- D) Özne-yüklem uyumsuzluğu

16 "Bütün güçlülere göğüs gerdi, başa çıktı." cümlesindeki anlatım bozukluğu aşağıdakilerin hangisinin yapılmasıyla düzeltilebilir?

- A) "Bütün" sözcüğü ile "göğüs" sözcüğünün yeri değiştirilmelidir.
- B) "başa" sözcüğünden önce "onlarla" ifadesi getirilmelidir.
- C) "gerdi" sözcüğünden sonra "güçlülere" ifadesi getirilerek
- D) "Bütün" ifadesi cümleden çıkartılarak

17 Aşağıdaki cümlelerin hangisinde anlatım bozukluğu vardır?

- A) Beni "Konya Lezzet Lokantası"na götürdü, orada bana âlâ bir öğle yemeği çaktı.
- B) Tartsaydınız kırk kırk beş kilodan fazla çekmezdi.
- C) Yorganınızı başınıza çeker ve uykunuza devam edersiniz.
- D) Yeğeni ile çok benzemese de yeğenin çeken bir yönü vardı ki...

18 Yüklem ortaklığı söz konusu olmadığı hâlde, cümlede yüklemün uygun yer ve sayıda kullanılmaması, anlatım bozukluğuna yol açar. Yüklemün, ilgili kavramlara anlamca da uygun olması gerekir.

Yukarıda açıklaması verilen anlatım bozukluğu aşağıdaki cümlelerin hangisinde vardır?

- A) Geceleri yaylalar ayaz olur, adamı üşütür.
- B) Yazın ben yaylaları, oğlum da sahil yörelerini sever.
- C) Bu el soğuktı ve titriyordu.
- D) Bu soğuk ve yavan sözler, zevkimi rencide ediyordu.

19 I. Ali Bey, kurula bir rapor sunmuş; kurulla onu görüşmüştü.

II. Geçen hafta diktirdiği elbiseyi, ilk kez o gece giyindi.

III. Sergiyle ilgili hazırlıklar tamamlanmış, sanatseverlerin beğenisine sunulmuştu.

IV. Sanatçının son kasetini dinleyen hayran oluyordu.

Yukarıda verilen cümlelerin hangisinde özne eksikliğinden kaynaklı bir anlatım bozukluğu bulunmaktadır?

- A) I
- B) II
- C) III
- D) IV

20 Birden çok yüklemün bulunduğu cümlede ortak kullanılan nesnenin her iki yükleme de uymaması, anlatım bozukluğuna neden olur. Böyle hâllerde cümleye bir başka nesne eklemek gerekir.

Aşağıda verilen cümlelerin hangisinde yukarıda açıklaması verilen anlatım bozukluğu vardır?

- A) Bunu ona kabul ettirmek için uğraştık ama ikna edemedik.
- B) Özellikle şu bavulları dikkatli arayın, patlayıcı olabilir.
- C) Makaleyi beğenmedim, pek çok mantık yanışı var.
- D) Doğduğu yerleri görmek hatta yerleşmek istiyor.

DİL BİLGİSİNİ ÖLÇME

SORULAR

TEST 1

1 - 3. soruları aşağıdaki metne göre cevaplayınız.

(I) Yürüyüşlerin anlam ve mahiyetini hiç tahlil ettiniz mi? (II) Eğer sokakta, tramvayda yahut önünden kalabalığın aktığı pencerede zihninizi bir yere takılı değilse zamanınızı eğlenceli ve faydalı geçirmek için bunu tavsiye ederim. (III) Yürüyüşleri durmadan gözlerinizle dinlemeye alıştınız. (IV) Çünkü her yürüyüş öyle bir dildir ki mahiyetleri sözden daha açık ifşa eder.

Bu dil ancak gözlerle iştiliyor. Fakat kulakla duyulan sözlerden daha samimi oluyor. Yürüyüş adeta bünyenin dili, kişiliğin iradesiz ifadesidir. Hiç tanımadığınız birinin yürüyüşünü şöyle birkaç dakika hatta birkaç saniye izleyiniz. Onunla birkaç saat konuşmuş olsanız bu kadar tanımayacaktınız. Yürüyüşlerin çeşitli belirtilerine kısaca göz gezdirelim: Başı havada, burnu yukarıda yürüyüş ya azamet in ya ahmaklığın ifadesidir ki ikisi bir yola çıkar. Çokça kazanmaya başlayanlarda, yeni bir mevkiye geçenlerde, kendilerine kıymet veya şöhret yakıştıranlarda bu duruma rastlanır. Göğüs çıkık, burun delikleri açık olduğu oranda gurur fazladır.

1 Metnin ilk paragrafındaki altı çizili fiilimsilerin türleri aşağıdakilerin hangisinde yanlış verilmiştir?

A) yürüyüşlerin / sıfat-fiil

B) aktığı / sıfat-fiil

C) durmadan / zarf-fiil

D) dinlemeye / isim-fiil

2 Metnin ilk paragrafındaki numaralanmış cümleler arasında aşağıdakilerden hangisine örnek yoktur?

A) Olumlu, fiil cümlesi

B) Devrik, soru cümlesi

C) Olumlu, kurallı cümle

D) Kurallı, soru cümlesi

3 Metinde geçen "Onunla birkaç saat konuşmuş olsanız bu kadar tanımayacaktınız." cümlesindeki anlatım bozukluğunun nedeni aşağıdakilerden hangisidir?

A) Özne eksikliği

B) Özne-yüklem uyumsuzluğu

C) Yer tamlayıcısı eksikliği

D) Nesne eksikliği

4

FİİLİMSİLER

Kök veya gövdeleri fiil olan fakat aldığı ekler yardımıyla cümlede isim, sıfat ya da zarf görevinde kullanılan sözcüklere fiilimsi (eylemsi) denir. Fiilimsilerin ortak özelliği fiilden türemiş olmalarıdır.

İsim-Fiil

Sıfat-Fiil

Zarf-Fiil

.....

.....

.....

Bir öğretmen öğrencilerinden görselde verilen boşlukları uygun cümlelerle doldurmalarını istemiştir.

Buna göre aşağıdaki cümlelerden hangileri boşluklara getirilmelidir?

- A) 1: Bu yapraklar güneşin altında solmuş.
2: Gün doğarken şehre varmıştım.
3: Yağmur çiseleyerek yağıyordu.
- B) 1: Bahçede gezmeyi bırak da sofraya gel.
2: Sana söyleyecek sözüm kalmadı.
3: Gazetecileri çağırıp onlara bir açıklama yaptı.
- C) 1: Bardaktan boşanırcasına yağmur yağıyordu.
2: Bu sevimli insana kanım kaynadı.
3: Evi temizleyerek annesine yardımcı oldu.
- D) 1: Okuyacak bir şey bulamamıştım.
2: Kitap okumadan uyuyamıyordu.
3: Şiir okuyuşunu hiç beğenemedim.

5 ve 6. soruları aşağıdaki metne göre cevaplayınız.

İnsanlar vardır, yemeği tadına varamadan hızla tüketir ya da asansörün gelmesi için birkaç dakika bekleyeceği yerde derhal merdivenlere yönelir, hem de ışınlanmışçasına çıkarak... Nereye yetişmeye çalıştıkları sorusunun cevabı "Yaşamın amacı ölümdür." ilkesinde bulunabilir. Bir başka deyişle, bu insanlar yaşamlarını bir an önce bitirme ve ölüme ulaşmak istercesine tüketme eğilimindedirler. Gerçekten de içinde buldukları anı yaşamayan ve yaşama etkin bir biçimde katılmayan insanlarda ölüm korkusu oldukça yaygındır.

5 Bu parçadaki altı çizili kelimelerle ilgili, aşağıdaki tablonun hangi satırında yanlış işaretleme yapılmıştır?

	I	II	III	IV	V	VI	VII
A) Sıfat-fiil görevinde kullanılan			✓				
B) Zarf-fiil görevinde kullanılanlar	✓						✓
C) İsim-fiil ekiyle kalıcı isim hâline dönüşen	✓			✓			
D) İsim-fiil görevinde kullanılan					✓	✓	

6 Metindeki "Bir başka deyişle, bu insanlar yaşamlarını bir an önce bitirme ve ölüme ulaşmak istercesine tüketme eğilimindedirler." cümlesiyle ilgili aşağıdakilerden hangisi söylenemez?

- A) Birden fazla yan cümlecigi vardır.
- B) Yüklemi isimden oluşmuştur.
- C) İçinde fiilimsi bulunan cümledir.
- D) Üç fiilimsi türüne de örnek vardır.

7 ve 8. soruları aşağıdaki metne göre cevaplayınız.

(I) Cimri adamın biri, tüm mal varlığından emin olmak için her şeyini satar ve altına çevirip bir yere gömer. (II) Gönlünü de altınlarla birlikte gömdüğünden her gün gelip toprağı kazarak altınlarıyla hasret giderir. (III) Bu hareketi, işçilerinden birinin dikkatini çeker. (IV) Efendisini takip ederek altınların yerini öğrenen işçi, bir gece altınları çalar. (V) Cimri adam, ertesi gün altınlarının yerinde yeller estiğini görünce dövünür, ağlayarak saçını başını yolar. (VI) Onu böyle perişan gören komşusu "Ne ağlıyorsun be adam? Bir taş alıp aynı çukura koy ve o taşın altınların olduğunu düşün. Nasıl olsa kulanmayacaksın." der.

7 Parçada aşağıdakilerden hangisi yoktur?

- A) Zarf-fiil
- B) Sıfat-fiil
- C) Kurallı cümle
- D) Devrik cümle

8 Parçadaki IV numaralı cümle, aşağıdakilerin hangisinde öğelerine doğru bir şekilde ayrılmıştır?

- A) Efendisini / takip ederek / altınların yerini / öğrenen işçi / bir gece / altınları / çalar.
- B) Efendisini takip ederek altınların yerini öğrenen / işçi / bir gece / altınları / çalar.
- C) Efendisini takip ederek altınların yerini öğrenen işçi / bir gece / altınları / çalar.
- D) Efendisini takip ederek / altınların yerini öğrenen işçi / bir gece / altınları çalar.

- 9 Öznesi ortak sıralı ve bağlı cümlelerde, ortak özne; yüklemelerin tümüne anlam yönünden uygun değilse özne eksikliğinden doğan anlatım bozulduğu meydana gelir.

Aşağıdakilerin hangisinde bu açıklamaya uygun bir anlatım bozukluğu vardır?

- A) Kimse dışarı çıkmasın, burada beklesin.
B) Nikâhtan bu kadar keramet bekleme!
C) Bilgi yarışmasında attı ama tutturamadı.
D) O ne söylese sinirli sinirli ve tabii olmayan gülüşü ile gülüyordu.

ÇIKMIŞ SORU

- 10 Birden çok yüklemli cümlelerde öznenin bütün yüklemlemlerle uyumlu olması gerekir. Aksi takdirde özne eksikliğinden kaynaklanan anlatım bozukluğu meydana gelir.

Aşağıdakilerin hangisinde bu açıklamayı örnekleyen bir anlatım bozukluğu vardır?

- A) Tarlaya tohumlar ekimde atılacak, ürün hazırlanıyor.
B) Bu hastalığın tedavisi bulunmalı, insanlığa tehdit olmaktan çıkarılmalı.
C) Yazarın her kitabını okuyorum ve takdir ediyorum.
D) Her akşam bizimle ilgilenir, yemek getirirdi.

- 11 (I) Nerede olduğumuzu bilmiyoruz. (II) Üstelik zamanımızın neredeyse yarısını derin uykuda geçiriyoruz. (III) Kendimizi akıllı sanıyoruz ve görünüşte bir düzen kuruyoruz. (IV) Gerçekten de derin düşünen ve hırslı ruhlara sahip insanlar.

Bu parçadaki numaralanmış cümlelerle ilgili aşağıdakilerden hangisi söylenemez?

- A) I. cümle olumlu bir cümle değildir.
B) Bütün cümlelerin öznesi aynı kişidir.
C) Fiil cümlesi olan en az iki cümle vardır.
D) Bütün cümlelerde fiilimsi kullanılmıştır.

12

olumsuz

kurallı

fiil

basit

Bu özellikleri taşıyan cümle aşağıdakilerden hangisidir?

- A) Gecenin bu saatinde dışarı çıkmak istemiyorum.
B) Bu olanları kimseye anlatmayın.
C) Tozdan, gürültüden göz gözü görmüyordu.
D) Yardım teklifimizi düşünmeden reddetti.

13

Her bilimsel araştırma öncekilerin bir eksikliğini giderir. Bu nedenle hiçbir çalışma, belli bir konuda son sözü söylemiş sayılmaz. İşte bunun için benim dille ilgili bu çalışmaya da bitmiş gözüyle bakılmaz. Elbette bunun da birçok eksikliği var. Bu eksikleri gidermek de dilcilerin, bu alanda yetişmiş kişilerin işidir. Çünkü herkes bir dil konuşur ama hiçbir zaman konuştuğu o dilin uzmanı değildir. Uzmanlık, bir dili konuşmak anlamına gelmez; o konuda eğitim görmüş olmayı gerektirir.

Bu parçada;

- I. isim-fiil
II. sıfat-fiil
III. zarf-fiil

fiilimsilerinden hangileri yoktur?

- A) Yalnız I
B) I ve II
C) Yalnız III
D) I, II ve III

14

Geçişli fiiller "Neyi?, Kimi?, Ne?" sorularına mantıklı bir şekilde cevap verebilen fiillerdir. Bu nedenle geçişli fiillere nesne alabilen fiiller de denir. Örneğin "Ayşe kitap okudu." cümlesinde "okudu" fiiline özneyi bulduktan sonra "Ne?" sorusunu sordumuzda "kitap" cevabını alırız. Dolayısıyla "okumak" fiili geçişli bir fiildir.

Bu açıklamaya göre aşağıdaki cümlelerden hangisinde yüklem olan fiil geçişlidir?

- A) Kadının kucığındaki bebek etraftaki insanlara gülüyordu.
B) Sorduğu soruya cevap alamayınca yerine oturdu.
C) Yorgun olduğundan erkenden uyudu.
D) Masadaki yemeklerin hepsini yedi.

15 “Öğretmenimiz bugün sınıfa bir misafir getirecek.” cümlesinde “getirecek” sözcüğü “çekimli bir fiil”dir ve cümlenin yüklemidir. “Bana gazeteyi getirecek kimse yok mu?” cümlesinde ise “getirecek” sözcüğü fiil anlamını korumakla birlikte sıfat görevinde olduğu için “sıfat-fiil”dir.

Bu açıklamaya göre aşağıdaki cümlelerin hangisinde sıfat-fiil kullanılmamıştır?

- A) Dönülmez akşamın ufkundayız, vakit çok geç.
- B) İşleyen demir pas tutmaz.
- C) Kışın açan çiçeklerin ömrü az olur.
- D) Seninle akşamları yürüyüşe çıkardık.

16 Etken fiiller, öznesi belli olan ve fiilin bildirdiği işi bizzat öznenin kendisinin yaptığı fiillerdir. Örneğin “Ahmet yarın Antalya’ya gidecekti.” cümlesinde özne bellidir ve özne “Ahmet”tir. Edilgen fiilli “Sınıfın eski tahtası boyandı.” cümlesinde ise özne yani tahtayı boyayan belli değildir.

Buna göre aşağıdaki cümlelerin hangisinde etken fiil vardır?

- A) Köyümüzün dağlarında tavşan görüldü.
- B) Günlerdir balkonda asılı duran çamaşırlar toplandı.
- C) Bugün yağmur yağıyor şırıl şırıl.
- D) Hastanedeki odalar dün sabah temizlendi.

17 Aşağıdaki cümlelerin hangisi, yay araç içinde verilen kavrama uygun bir örnek değildir?

- A) Gözlerini sıktı ve dört gün evvel Refika’sını gömdüğünü ağlayarak söyledi. (zarf-fiil)
- B) İçeride anahtarın acı bir gıcırtyla döndüğünü duydum. (sıfat-fiil)
- C) Gözlüklerini takmadan okumaya kalktı. (zarf-fiil)
- D) Ne zaman kalkacağını, nereye gömüleceğini bilmek, bildirmek mümkün değil. (isim-fiil)

18

- I. Her insan duygu ve düşüncelerini, bilgilerini aktarmak için iletişim kurar.
- II. Şehirlerde giderek artan bir betonlaşma hareketi vardı.
- III. Annem de bunun etkisinde kalarak yine hayallere dalmıştı.
- IV. İnsan topluluklarının gelişmesi, her şeyden önce dil ve edebiyatlarının ilerlemesine bağlıdır.

Yukarıdaki numaralı cümleler ile ilgili aşağıdakilerden hangisi söylenemez?

- A) I. cümlede hem sıfat-fiil eki hem de isim-fiil eki vardır.
- B) II. cümlede farklı türden fiilimsiler vardır.
- C) III. cümlede yalnızca zarf-fiil vardır.
- D) IV. cümlede birden fazla isim-fiil vardır.

19

Öznesi belli olmayan ya da nesnesi özne gibi görünen fiiller edilgen fiillerdir. Fiilin bildirdiği işi özne değil de başkası yapıyorsa özne bu işten etkileniyorsa fiil edilgendir. Örneğin “Sınıflar boyandı.” cümlesinde sınıfı boyayan belli değildir. Bu cümlenin fiili edilgendir.

Bu açıklamaya göre aşağıdaki cümlelerden hangisinde edilgen fiil vardır?

- A) Ne zamandır beklenen yazı yazıldı.
- B) Bugün harıl harıl sınava çalıştım.
- C) Annem iftarda güzel yemekler yapmış.
- D) Çalışarak tüm hedeflerine ulaştı.

SORULAR

TEST 2

1 "Ne zaman?, Ne?, Nereden?" sorularının cevaplarını sırasıyla veren cümle aşağıdakilerden hangisidir?

- A) O yıl piyade taburu, bizim ilçeden kalktı.
- B) İskele memuru; zayıf, kuru, sinirli bir adamdı.
- C) Hemen hepsi para çevrelerinin adamlarıydı.
- D) Bu kadar insan bir anda nereye kaybolabilir!

ÇIKMIŞ SORU

2 Eğer yere uzanmış, hareketsiz, sessiz bir geyik yavrusu görürseniz endişelenmeniz gereken bir durum yoktur çünkü mutlaka annesi yakınlarda olmalı.

Bu cümledeki anlatım bozukluğunu gidermek için aşağıdaki değişikliklerden hangisi yapılmalıdır?

- A) "yakınlarda olmalı" sözü yerine "yakınlardadır" kelimesi getirilmeli.
- B) "endişelenmeniz" kelimesi yerine "endişe duymanız" ifadesi getirilmeli.
- C) "sessiz" kelimesi cümleden atılmalı.
- D) "uzanmış" kelimesi yerine "yatmış" kelimesi getirilmeli.

3 "Geç fark ettim taşın sert olduğunu; Su insanı boğar, ateş yakarmış."

Yukarıdaki dizeler için aşağıdakilerden hangisi söylenemez?

- A) Olumlu cümle vardır.
- B) Devrik cümle kullanılmıştır.
- C) Kurallı cümle kullanılmıştır.
- D) Olumsuz cümle kullanılmıştır.

4 "Amazon'daki yağmur ormanları, yeryüzünde kesintisiz bir biçimde uzanan en geniş tropikal ormanlardır." cümlesinin yüklemi aşağıdakilerin hangisinde doğru belirtilmiştir?

- A) en geniş tropikal ormanlardır.
- B) Amazon'daki yağmur ormanları, yeryüzünde kesintisiz bir biçimde uzanan en geniş tropikal ormanlardır.
- C) kesintisiz bir biçimde uzanan en geniş tropikal ormanlardır.
- D) yeryüzünde kesintisiz bir biçimde uzanan en geniş tropikal ormanlardır.

5 Aşağıdaki cümlelerin hangisi yapıcı farklıdır?

- A) Annem, onu yarın alacağımızı söyledi.
- B) Onu daha önce gördüğünüzü bana neden söylemediniz?
- C) Yarın hava düzeldiğinde denize açılalım.
- D) Çok dikkatli bakıyor ve gözünü bile kırpmıyordu.

6 (I) Gavurğa kavurmak için tüm tertibatlar alınmış, taşlarla örülen ocak tutuşturulmuştu. (II) Ateşi iyice harlandıran Emine teyze nohudun, mısırın ve çetenin olduğu tabağı kenara koydu. (III) Küçük ekmeğin sacını ters çevirerek içine taşlı gavurğa toprağını koyduktan sonra toprağın ısınmasını bekledi. (IV) Daha sonra tabaktaki malzemeleri toprağın içine döktü.

Numaralı cümlelerin hangisinde zarf-fiil kullanılmıştır?

- A) I
- B) II
- C) III
- D) IV

7 İçerisinde tek bir duygu, düşünce veya yargının ifade edildiği bu cümlelerde, yalnızca bir tane çekimli fiil veya ek fiil almış bir isim vardır. Yüklemdeki yargıyı destekleyecek fiilimsi gibi yan cümlecikler kesinlikle bu cümle türünde bulunmaz.

Aşağıdakilerden hangisi, parçada açıklaması verilen cümle türüyle aynı türdedir?

- A) Ağır ağır rıhtıma yanaşıyordu, yorgun bir vapur.
- B) Ben geçerken onun telaşı, sizi dürtmesi gözümünden kaçmadı.
- C) Nedim divanında bir kaside vardır; müjgân üstüne, hicran üstüne, umman üstüne kafiye-leri ve redifleriyle akar.
- D) Bazı akşamlar bakarım Halil savuşur, nereye gittiğini de kimseye söylemez.

8 Cümledeki işi, hareketi, yargıyı bildiren çekimli unsura yüklem denir. Yükleme, cümlede yargı bildiren çekimli öge de diyebiliriz. Yüklem, cümle-lerin temel ögesidir yani yüklem olmadan cümle de oluşmaz.

Bu açıklamaya göre aşağıdaki cümlelerin hangisinde "yüklem" yanlış gösterilmiştir?

- A) Bu arada köy yaşamından çeşitli sahneleri, uğraşları canlandıran oyunlar vardır.
- B) Arkadaşlarına yardımcı olmak arzu ve gayreti onu acıklı bir duruma düşürüyordu.
- C) Servet denen şey çok defa paradan ibarettir.
- D) Konuşma kesilmiyor, şimdi yabancı sesleri daha iyi fark etmekteyim.

9 **Aşağıdaki cümlelerin hangisinde geçişsiz bir fiil vardır?**

- A) Öç almanın fırsatını yakalamış gibi konuştuğunu fark etti.
- B) Sıcak basınca sırtındaki ceketini attı.
- C) Kalemî kâğıdı elime alıp sabaha kadar yazdım.
- D) Öğleden sonra Şişli'den Beyoğlu'na kadar uzandım.

10 **Aşağıdaki cümlelerin hangisinde altı çizili bölüm diğerlerinden farklı bir ögedir?**

- A) Eline geçen paranın çoğu İstanbul'da çoluğa çocuğa gidiyor.
- B) Dedeye yeni şakirdiniz efendim, diyerek çekilip gidince kız odanın ortasında kala kaldı.
- C) En şiddetli münakaşa, kumpanyanın ismi için oldu.
- D) Nasrettin Hoca'nın hemen hemen bütün fıkraları, insanla vicdan arasındaki münasebete ilişkindir.

11 Dişimi sıkıp da altı yedi fıkradan birden çıkartırsam gazetenin yazıları aksamayacaktı.

Bu cümleyle ilgili,

- I. Olumlu fiil cümlesidir.
- II. İçinde fiilimsi olan bir cümledir.
- III. Kurallı bir cümledir.

yargılarından hangileri söylenebilir?

- A) Yalnız I
- B) Yalnız II
- C) I ve II
- D) II ve III

12 Onu denizden çıkarmak istediler ama biri, yargıç ve doktor gelmeyince ölümlere dokunulmaz, deyince bu işten vazgeçtiler.

Bu cümlelerin özellikleri aşağıdaki seçeneklerin hangisinde doğru verilmiştir?

- A) Olumlu - kurallı - fiil - Tek yargı bildiren
- B) Olumsuz - kurallı - fiil - İçinde fiilimsi olan
- C) Olumlu - kurallı - fiil - Bağlaçla bağlanmış
- D) Olumsuz - kurallı - isim - İçinde fiilimsi olan

13 Adlaşmış sıfat-fiil kavramını tanımlayacak olursak, “sıfat-fiil eklerinden birini alan fiil kök veya gövdelerinin, kendisinden sonra gelen isimleri yutarak onların yerini tutması” diyebiliriz. Yani sıfat-fiillerin, kendisinden sonraki ismi içine almasıdır. Adlaşmış sıfat-fiiller, adlaşmış sıfatların bir türüdür. Normalde sıfat-fiillerden sonra mutlaka bir isim gelmelidir. Fakat adlaşmış sıfat-fiillerde bu isim kaybolur.

Bu açıklamaya göre aşağıdaki cümlelerin hangisinde adlaşmış sıfat-fiil kullanılmıştır?

- A) İyi aileden gelme çocuk.
- B) Çok geçmeden odaya çevredeki komşular dolmaya başladı.
- C) Perihan nine evde kalacak, baklava açacak, dolma yapacaktı.
- D) Galiba en küçükleriydi çaresiz hastalığa yakalanan.

14 “Kitapta yazılanlara inanmak, inanmamaktan çok daha kârlıdır.” cümlesi; “kârlıdır” yüklemi isim olduğu için yüklem türüne göre isim cümlesi, yüklem sonda olduğu için yüklem yerine göre kurallı cümledir.

Bu bilgiye göre aşağıdakilerden hangisi kurallı bir isim cümlesidir?

- A) Bu başın bir kadına değil, bir hamala ait olduğuna inanmak zor değildi.
- B) Dostumuza güvenmeyelim de düşmanımıza mı güvenelim?
- C) Bilgin’in bu çekingen tavırlarını kusurlu ve zayıf oluşuna verdi.
- D) Sesimi duyan Ayça da geliyor yanıma, kardeşinin tersine ilgiyle sokuluyor bana.

15 “Sevgili Behçet Necatigil, şiirimizin vazgeçilmez ışıklarından biri olarak ayrıldı aramızdan.”

Bu cümlenin öge dizilişi aşağıdakilerin hangisinde sırasıyla verilmiştir?

- A) Özne - Nesne - Yer tamlayıcısı - Yüklem
- B) Özne - Yüklem - Yer tamlayıcısı
- C) Özne - Zarf tamlayıcısı - Yüklem - Yer tamlayıcısı
- D) Nesne - Zarf tamlayıcısı - Yüklem - Yer tamlayıcısı

16 “Bizim şairlerimiz sanatın sanat için olduğuna inanırlar.” cümlesinde “inanmak” sözcüğü çekimli fiildir ve cümlenin yüklemidir. “Dile kolaydı; o yandan bu yana hayatı monotonlaşmış, yirmi yılı inanılmaz bir sakinlik içinde geçirmişti.” cümlesinde “inanılmaz” sözcüğü fiil anlamını korumakla birlikte kendisinden sonra gelen ismi nitelediği için sıfat-fiildir.

Buna göre aşağıdakilerin hangisinde sıfat-fiil kullanılmamıştır?

- A) Karısının bu ikinci ihtarı ile biraz bozulan adam salıncaktan atladı.
- B) O romanlarda kırılan, atılan yerler var mıdır?
- C) Biçare adam on günde limon sarısına dönmüş, incelmış, bitmiş.
- D) Aşağıda daimi akislerle seslenen gürültülü, derin yarlar tehlike hissini kalbimizden ayırmıyordu.

17 **Aşağıdaki cümlelerden hangisinin yüklemi geçişli olduğu hâlde cümlede nesne kullanılmamıştır?**

- A) Döndüğümde karımın mezarını dolduran otları, baldıranları kendi elimle ayıkladım.
- B) Yasak oyunum bu rejimde aklandı, Ulvi Uraz onu ramp ışığına çıkardı.
- C) Gençlerin tenkitlerini gördü, yeni çıkardıkları edebiyat tarihlerini karıştırdı.
- D) Bütün gece uyumadan okudu.

18 **Aşağıdaki cümlelerin hangisinde üç farklı türde fiilimsi kullanılmıştır?**

- A) Genellikle bağda bahçede olan kadınlar; fırsat bulunca bir araya geliyor, oturup laflıyorlardı.
- B) Uzun süren çalışmalardan sonra devrilen traktörün altından çıkarılan Ali, artık yaşamıyordu.
- C) Kumsalda güle oynaya müzik dinlemek, her sabah yaptığı bir işti.
- D) “Bundan sonra hiçbir şey eskisi gibi kalmayacak!” derken sesinin kademeli olarak yükselmesi bilinçli bir reklam numarası gibi, âdeta bir sihirbazın ‘prestij’ manevrasını sunması gibiydi.

SORULAR

TEST 3

1 - 3. soruları aşağıdaki metne göre cevaplayınız.

(I) Bildiğimiz gibi enfeksiyonlar, vücuda çeşitli yollardan bulaşan mikroorganizmalar ile ortaya çıkıyor. Bunlar kimi zaman bakteri, kimi zaman virüs, kimi zaman mantar ve kimi zaman da parazit olabiliyor. Bakteri kaynaklı olanlar, görülme sıklığı en yüksek ve tedavisi de en güç olan enfeksiyonlardır.

(II) Antibiyotikler tüm dünyada maalesef en sık kullanılan ilaçların başında geliyor. Bir yandan uzun yıllardır enfeksiyon tedavisi için kullanılırken diğer yandan yoğun ve uygunsuz kullanılıyor olması hastanelerde antibiyotik direncine sebep oluyor. Ardından da hastane enfeksiyonları kaçınılmaz hâle geliyor. Yani hastane enfeksiyonlarında antibiyotiklere dirençli mikroorganizmalar başrolde.

(III) Dirençli bakteri, antibiyotik karşısında hayatta kalarak çoğalmaya devam ediyor ve hastalığın daha uzun sürmesine yol açıyor. Bu da tedavinin uzamasına ve maliyetinin artmasına sebep oluyor. En önemlisi, ölümlerle sonuçlanan vakalar olabiliyor.

(IV) Antibiyotiğe dirençli bakterilerin -adları yüzünden- tek bir antibiyotiğe direnç gösterdikleri sanılabilir. Oysa genellikle birden fazla antibiyotiğe dirençlidirler. Örneğin metisiline dirençli MRSA, aynı zamanda tüm betalaktamlara ve makrolidlere, kinolon gibi birçok antibiyotiğe de direnç gösteriyor.

1 Metnin ilk üç paragrafında geçen fiilimsiler, her paragrafta farklı türden olmak üzere seçilerek aşağıdaki tabloda gösterilmiştir. Buna göre;

- I. paragraftan sıfat-fiiller,
- II. paragraftan zarf-fiiller,
- III. paragraftan isim-fiiller seçilecektir.

Bu işlem sırasına göre aşağıdaki tablonun hangi satırında hatasız bir fiilimsi seçimi yapılmıştır?

	I. paragraf	II. paragraf	III. paragraf
A)	bildiğimiz bulaşan olanlar görülme olan	olması kaçınılmaz kullanılırken	kalarak sürmesine çoğalmaya sürmesine uzamasına
B)	bildiğimiz bulaşan olanlar olan	kullanılırken	çoğalmaya sürmesine uzamasına artmasına
C)	bildiğimiz bulaşan olanlar olan	kullanılırken kaçınılmaz	çoğalmaya sürmesine uzamasına artmasına
D)	bildiğimiz bulaşan olanlar olan	kaçınılmaz	çoğalmaya sürmesine uzamasına artmasına

2 Metinden alınan “Bakteri kaynaklı olanlar, görülme sıklığı en yüksek ve tedavisi de en güç olan enfeksiyonlardır.” cümlesinin öğeleri sırasıyla aşağıdakilerden hangisidir?

- A) Özne - yer tamlayıcısı - yüklem
B) Özne - zarf tamlayıcısı - nesne - yüklem
C) Nesne - zarf tamlayıcısı - özne - yüklem
D) Özne - yüklem

3 Metindeki numaralanmış paragrafların dil ve anlatım özellikleriyle ilgili aşağıdaki tablonun hangi satırında yanlış işaretleme yapılmıştır?

	I	II	III	IV
A) Terimsel anlam değeri taşıyan sözler	✓	✓	✓	✓
B) Kurallı cümle	✓	✓	✓	✓
C) Ara söz		✓		✓
D) İsim cümlesi	✓	✓		✓

ÇIKMIŞ SORU

4 “Dedesinin elini öptü.” cümlesinde “öptü” sözcüğü çekimli fiildir ve cümlenin yüklemidir. “Dedesinin öpülesi ellerini hatırladı.” cümlesinde ise “öpülesi” sözcüğü fiil anlamını korumakla birlikte kendisinden sonra gelen ismi nitelediği için sıfat-fiildir.

Buna göre aşağıdakilerin hangisinde sıfat-fiil kullanılmıştır?

- A) Meyvesiz ağaca kimse taş atmaz.
B) Menfaatleri için küçülmeyen insan büyüktür.
C) Hayat ancak yaşayarak tecrübe edilir.
D) Öğrenmenin sınırlarını genellikle kendiniz koyarsınız.

5 ve 6. soruları aşağıdaki metne göre cevaplayınız.

Konuşma engelli insanlar için üretilen pek çok farklı cihaz var. Bunlara bir yenisi daha eklendi: nefesi sese çeviren cihaz. İngiltere’de bilim insanlarının oluşturduğu ve AAC adını verdikleri cihaz, kullanıcının sadece nefesinden kelimeleri tayin ederek konuşmayı sese çeviriyor. Bu cihaz, ağız-burun maskesinin hortumuyla bilgisayara bağlanıyor. Hasta özel bir desene nefes aldığı anda, özel yazılım bu şablonu algılayarak bir sözcüğe ya da cümleye çeviriyor. Kullanıcı başta hangi şablonların hangi sözcüğe denk geleceğini seçiyor, sonrasında yazılım bunu öğrenerek bu bağlamda hareket ediyor.

Araştırmacılar, sisteme nefes sinyallerini %97,5 başarıyla tanıtmayı başardı. Bu cihaz sayesinde sadece suni solunum maskesi kullanarak güç harcamadan iletişim kurmak mümkün.

5 Parçada yer alan “Araştırmacılar, sisteme nefes sinyallerini %97,5 başarıyla tanıtmayı başardı.” cümlesinin öğeleri aşağıdakilerin hangisinde doğru verilmiştir?

- A) Özne - zarf tamlayıcısı - yüklem
B) Nesne - yer tamlayıcısı - yüklem
C) Özne - yüklem
D) Özne - yer tamamlayıcısı - nesne - yüklem

6 Bu parçada;

- I. isim-fiil
II. sıfat-fiil
III. zarf-fiil

fiilimsilerinden hangileri yer almaktadır?

- A) I ve II
B) I ve III
C) II ve III
D) I, II ve III

- 7 (1) Geçtiğimiz günlerde beyin ameliyatı geçiren İbrahim Tatlıses yavaş yavaş sağlığına kavuşuyor. (2) Ünlü türkücüyu bu zor günlerinde dostları bir an olsun yalnız bırakmıyor. (3) Sanatçının ilk ünlü ziyaretçisi ise iki gün önce Amerika'ya giden Sibel Can'dı. (4) Tatlıses, bu sürpriz ziyaretten duyduğu mutluluğu twitter hesabından tüm sevenleriyle de paylaştı.

Yukarıdaki parçada numaralanmış cümlelerden hangisi fiil cümlesi değildir?

- A) 1 B) 2 C) 3 D) 4

- 8 Annem yerinden kalktı, yanıma geldi, bir kolunu uzatarak omzuma doladı.

Bu cümlenin özellikleri aşağıdakilerin hangisinde doğru verilmiştir?

- A) Olumlu - isim - kurallı
B) Olumlu - fiil - kurallı
C) Olumsuz - isim - kurallı
D) Olumsuz - fiil - devrik

- 9 Aşağıdaki cümlelerden hangisi yapısı yönünden diğerlerinden farklıdır?

- A) Cesaretin değeri tehlikelerle karşılaşınca anlaşılır.
B) Bu eserde konuşma dili çok iyi kurgulanmış.
C) Bir elin verdiği gibi öbür elin duymasın.
D) Kış hazırlıklarımıza bir an önce başlamalıyız.

10 ve 11. soruları aşağıdaki metne göre cevaplayınız.

(I) Bir romana başlamak sanıldığı kadar kolay bir iş değil. (II) En azından benim için bu böyle. (III) İlk cümleleri ararken kendimi dilini bilmediğim bir ülkede hisseder, yolları şaşırırmaktan ürkerim. (IV) Aylar, yıllar boyu yazacaklarımı inceden inceye planlamış, dahası romanın bitmiş hâlini görmeye başlamışumdur. (V) Ama gelin görün ki yine de harita yabancı, karışık, çıkmış gözünür görünür gözüme.

- 10 Bu parçadaki numaralanmış cümlelerin hangilerinde fiilimsi kullanılmamıştır?

- A) I, II ve IV B) II ve V
C) III ve V D) II, III ve IV

- 11 Numaralanmış cümlelerden hangilerinin yüklemde çatı özelliği aranmaz?

- A) I ve II B) II ve III
C) III ve IV D) I ve V

ÇIKMIŞ SORU

- 12 Özne; yüklem bildirdiği işi yapan, yüklem bildirdiği durumu üzerine alan ögedir. Nesne ise cümlede öznenin yaptığı eylemden etkilenen ögedir. "Selim çantasını masaya bıraktı." cümlesinde bırakma işini yapan "Selim"dir ve cümlenin öznesidir. Selim'in bırakma işinden etkilenen ise "çanta"dır ve cümlenin nesnesidir.

Bu açıklamaya göre aşağıdakilerin hangisinde altı çizili öge cümlenin öznesidir?

- A) Pencerenin önündeki ağacın çiçekli dalları rengârenk bir kelebeği ağırılıyordu.
B) Sağlı sollu ırmaklar kasabadaki doğuya meyilli sokakları canlandırmıştı.
C) İlbahar rüzgârıyla neşelenen martılar ses-sizliğe bürünen sokağı çınlatıyordu.
D) Derme çatma kır bahçesini genç bir dut ağacının gölgesi koruyordu.

- 13 Etken çatılı fiillerin yüklem olduğu cümlelerde fiili gerçekleştiren bellidir.

Buna göre aşağıdaki cümlelerden hangisinde işi yapan kişinin belli olduğu söylenemez?

- A) Betimleme, kelimelerle resim çizme şeklinde tanımlanır.
B) Berna, ev işlerini bitirip yanımıza geldi.
C) Akıllı insan, başkalarının tecrübelerinden yararlanmayı bilir.
D) Babam günlük altı saat uyurdu.

- 14 Sisli bir gün Eminönü'nden araba vapuru ile karşıdan karşıya geçiyordum. Araba vapuru yalnız kendi ışığının düştüğü yerde suyu buluyor ve yol alıyordu. Vapur birden hızlandı ve ben düşmemek için korkuluklara tutundum. Benimle birlikte sallanan korkuluklar hiç de sağlam yapılmamıştı. Kadıköy iskelesinde büyük bir kalabalıkla birlikte ben de vapurdan indim.

Bu parçada aşağıdakilerden hangisinin örneği yoktur?

- A) Sıfat-fiil
B) Edilgen fiil
C) Zarf-fiil
D) Geçişli fiil

- 15 Aşağıdaki cümlelerin hangisinde yüklem edilgen çatılıdır?

- A) Güvenlik görevlisi binanın her yerini kontrol etti.
B) Sınavdan yüksek puan aldığını öğrenen arkadaşım çok sevindi.
C) Patronu kendisine bağırmağa başlayınca telefonu kapattı.
D) Bahçe duvarına lambalar takılarak yol aydınlatıldı.

- 16 Aşağıdaki cümlelerin hangisinde yan cümlecik temel cümlenin nesnesi görevindedir?

- A) Ateş olmayan yerden duman çıkmaz.
B) Damlaya damlaya göl olur.
C) Sürüden ayrılanı kurt kapar.
D) Minareyi çalan kılıfını hazırlar.

17



(I) Anı yazmak öteki türleri yazmaktan daha kolaydır. (II) Bununla birlikte anı yazmanın da kendine özgü nitelikleri vardır. (III) Eli kalem tutan herkes geçmişteki yaşantısını yazabilir. (IV) İyi de yazsa kötü de yazsa anıdır bunlar.

Bu parçada numaralanmış cümlelerle ilgili, aşağıdakilerden hangisi yanlıştır?

- A) I. cümle, kurallı ve içinde fiilimsi bulunan cümledir.
B) II. cümle, bir ad cümlesidir.
C) III. cümle olumlu bir cümledir.
D) IV. cümle olumsuz bir cümledir.

18

(1) Sağlıklı beslenme; yeterli ve dengeli beslenmedir. (2) Vücudumuzu oluşturan hücrelerin düzenli ve dengeli çalışması için besin öğelerinden yani yağlar, karbonhidratlar, proteinler, vitaminler ve minerallerden yeterli miktarda almalıyız. (3) Vücudumuzun tüm besin maddelerine ihtiyacı vardır. (4) Tek taraflı beslenmek yani sadece protein veya karbonhidratla beslenmek yanlıştır.

Bu parçada numaralanmış cümlelerden hangisi isim cümlesi değildir?

- A) 1
B) 2
C) 3
D) 4

19 - 21. soruları aşağıdaki metne göre cevaplayınız.

(I) Gecenin geç saatlerinde, her şeyin sustuğu, havanın durulduğu anlarda bir köşeye çekilip şiir okurum. (II) İçime dolan mısralarda, atan kalbini duyarım onların. (III) Bu duyuş, beni benden alır, götürür. (IV) Kapalı pencereler ansızın açılır, uyuklayan perdeler uçuşmaya başlar. (V) Odaya taze bir ışık dolar, ilkbahar meltemiyle birlikte. (VI) Bu dünyadan değilmişim gibi hafif ve huzurlu bulurum kendimi.

En çok şairlerim beni bu saatlerde çağırırlar. İşte yıllardır okuduğum şiirler... Her defasında başka görünüyorlar, insanı alıp götürmesini biliyorlar. Ne var bu şiirlerde? Neden çevremdeki sınırlar birden böyle akıverdi, bilmiyorum. Yalnız onlarda sessizliğin verdiği bir şey var. Belli ki bu şiirler sessizlikten doğmuşlar, onun için de bu kadar sonsuzluğa gidiyorlar.

Şairin içi de odası gibi sessizlikle dolunca uyuklayan her şey uyanır, o zamana kadar bilinmiyen bir varlığı yaşamaya koyulur. Sandalye üzerinde unutulmuş bir mektup, bir köşeye atılmış bir oyuncak, saatin çalışması, havada perde perde sönüşü insanlık macerasını anlatan birer şiire döner.

Gürültü, insanın kendini kaybettiği yerde başlar, bulduğu yerde biter. Bu yerde, dakikalar saat yelkovanının ötelinde akar, görünen şeyler görünmez olur ama için için duyulur. İşte şiirin iklimi budur. Biliyorum, kendi dışlarında yaşayan bazı kişiler "Yine mi fildişinden kule!" diyecekler. Bunlar, kendi içlerinde yaşayan şairleri, insanlardan, onların alın yazısından kopmuş sanacak kadar uykudadırlar. Tabiat sevgisinin, insan sevgisinin, Allah sevgisi gibi derinleşen bir sessizlik ve yalnızlık içinde gelişip serpiildiğini görmezler.

19 → İçinde fiilimsi bulunan cümle

→ Devrik cümle

☆ → Tek yargı bildiren cümle

△ → Öznesi isim-fiille oluşmuş cümle

▽ → Birden çok yüklemli cümle

Metindeki numaralanmış cümleler, yukarıdaki simgelerle belirtilen özelliklere göre aşağıdaki tabloda sınıflandırılmıştır.

Bu bilgilere göre tablonun hangi satırında doğru bir sınıflandırma yapılmıştır?

	<input type="checkbox"/>	<input type="radio"/>	☆	△	▽
A)	I-II-III	II-V-VI	V-VI	III	III-IV
B)	II-III	I-IV-VI	V-VI	III	I-IV
C)	III-IV	I-V-VI	V	II-III	II-V
D)	III-IV	II-V	I-VI	III	I-VI


20 Metnin ikinci paragrafındaki altı çizili cümlede bulunan anlatım bozukluğu, aşağıdaki değişikliklerin hangisi yapılarak giderilebilir?

- A) "çağırırlar" sözcüğündeki çokluk takısı atılarak
 B) "en çok" sözü "beni" sözcüğünden sonra getirilerek
 C) "Şairlerim" sözü cümlenin başına getirilerek
 D) "saatlerde" sözcüğü yerine "vakitlerde" sözcüğü getirilerek

21 Metnin üçüncü ve dördüncü paragraflarındaki altı çizili sözlerden hangisinde yazım yanlışı yapılmıştır?

- A) içi de
 B) her şey
 C) bilinmiyen
 D) Yine mi

1



Bir bilgisayar oyununda görselde verilen labirentten çıkışa kadar yıldızların toplanması ve bu yıldızların altında yazılı olan anlatım bozukluğu konusuyla ilgili cümle kurulması istenmiştir.

Bu oyunu oynayan bir kişi labirentten çıktıktan sonra aşağıdaki cümlelerden hangisini kurmuş olamaz?

- A) Düşman, kenti bombaladı ama giremedi.
- B) Bu yoldan hiç sapmadan gidilirse aradığınız binanın önüne çıkarsınız.
- C) Babaannem, bize masal okur, uyutmaya çalışırdı.
- D) Korkular üzerine gidildikçe azalır.

2 - 4. soruları aşağıdaki metne göre cevaplayınız.

Kibirli, kendini beğenmişle aynı ailedendir, onun amcazâdesidir. Bununla beraber, kendini beğenmişlik hususunda birbirlerine benzeyen bu iki kişi, önemli bir noktada ayrılır. Kibirli, öyle bir düzine konuşmaz, konuşurken de yapmacık davranmaz. Sadece her fırsatta, kendi gururunu tatmin etmek için çalışır. Övünmekten son derece hoşlanır, birisinin kendisine iltifatta bulunmasını dört gözle bekler. Karşısındakilerin bu işi yeteri kadar yapamayacaklarından korktuğu için kendi kendine iltifatta bulunmak ihtiyacını duyar. Konuşmaları, kendi zaferlerini ifade eden bir melodiden başka bir şey değildir.

Daha yanına yaklaşır yaklaşmaz, size kendisinden bahseder; bundan başka onu hiçbir konu ilgilendirmez. Servetinden, ev hayatından, ahbablarından, ailesinden bahseder. Kendi şahsiyetini belirtecek en küçük bir noktayı bile ihmal etmez. Eğer fazlaca ahmak değilse zekânın servetten ve asaletten üstün olduğunu anlar ve bu sefer size meziyetlerinden, kabiliyetlerinden dem vurur. Kibarlığına, zarafetine dikkatinizi çeker. Elbiselerinin şıklığını, kumaşının ve terzinin çok güzel olduğunu söylemenizi bekler. Paris'in en büyük terzisinde elbiselerini yaptırdığını, sanki önemsiz bir şeymiş gibi, aldırış etmeden söyler. Biraz pahalı olduğunu fakat taşradakilere nazaran Paris terzilerinin ne kadar üstün olduklarını ilave etmeyi de unutmaz! Kibirli bir adam gördüm, konuşurken kravatını görsünler diye boynunu uzatıp duruyor ve şöyle diyordu:

2 Metnin ikinci paragrafındaki altı çizili fiilimsilerin türleri aşağıdakilerin hangisinde sırasıyla doğru verilmiştir?

- A) Zarf-fiil, sıfat-fiil, isim-fiil, zarf-fiil
- B) Sıfat fiil, isim-fiil, sıfat-fiil, zarf-fiil
- C) Zarf-fiil, sıfat-fiil, isim-fiil, isim-fiil
- D) İsim-fiil, sıfat-fiil, isim-fiil, zarf-fiil

3 Altı çizili olan cümle için aşağıdakilerden hangisi söylenemez?

- A) Birleşik yapılı sözcük kullanılmıştır.
- B) Üç fiilimsi türü de kullanılmıştır.
- C) Dönüşlülük zamiri kullanılmıştır.
- D) Olumlu bir fiil cümlesidir.

4 Metinden seçilen aşağıdaki cümlelerden hangisi yalnızca yer tamlayıcısı ve yüklemden oluşmuştur?

- A) Konuşmaları, kendi zaferlerini ifade eden bir melodiden başka bir şey değildir.
- B) Elbiselerinin şıklığını, kumaşının ve terzinin çok güzel olduğunu söylemenizi bekler.
- C) Servetinden, ev hayatından, ahbablarından, ailesinden bahseder.
- D) Sadece her fırsatta, kendi gururunu tatmin etmek için çalışır.

ÇIKMIŞ SORU

5 “Lavanta kokulu Kuyucak köyü, ziyaretçileri büyülüyor.” cümlesi; “büyülüyor” yüklemi fiil olduğu için yüklem türüne göre fiil cümlesi, yüklem sonda olduğu için yüklem yerine göre kurallı cümledir.

Bu bilgiye göre aşağıdakilerden hangisi kurallı bir fiil cümlesidir?

- A) Güneşli, güzel günlerin hayalini kuruyorum.
- B) Adım atmaya mecalsiz bir ihtiyar oluyor böyle anlarda zaman.
- C) Soframıza bereket katan şey sıcak bir tebessümdür.
- D) Yapraklarından utanan solgun bir gül taşıyorum göğsüme.

6 “Ayrılma durum eki (-den) alan sözcükler genellikle yer tamlayıcısı görevinde kullanılır.”

Aşağıdaki cümlelerin hangisinde ayrılma durum ekini alan sözcük yer tamlayıcısı görevinde kullanılmamıştır?

- A) Konağın bahçeye bakan duvarından sarmaşıklar dökülüyordu.
- B) Yaz güneşiyle kavranan sokaktan kimsecikler geçiyordu.
- C) Arabanın ön tekerleğinden tuhaf bir cızırtı geliyordu.
- D) Vaktimiz olmadığından bu kasabada fazla kalamadık.

7 ve 8. soruları aşağıdaki metne göre cevaplayınız.

Güneş enerjisi, bireylerin temiz enerji üretimine katılmalarının en kolay yolları arasındadır. (I) Güneş enerjisine geçiş yapmak isteyen ev sahipleri için birçok seçenek var. (II) Bu teknolojiyi üretmek, kurmak ve çalıştırmak gün geçtikçe daha da ucuzluyor. Tesla firmasının tanıttığı güneş enerjisi üreten kiremitler gibi ürünler sayesinde enerji üretimi daha estetik bir hâl de almış oluyor. (III) Güneş enerjisi kullanımı, güneş enerjisi üretimi için gerekli araçların 2040 yılına kadar %66 oranında ucuzlayacağı düşünüldüğünde artarak devam edecek. Bloomberg tarafından yayınlanan bir rapora göre sadece dört yıl içinde, güneş enerjisi neredeyse her yerde kömürden daha ucuz olacak. (IV) Raporda ayrıca, 2040 yılına kadar Brezilya'nın enerji üretiminin yüzde 20'sinin, Almanya'nın ise yüzde 15'inin güneş enerjisinden elde edileceği belirtiliyor.

7 Bu parçada yer alan numaralanmış cümlelerden hangisinde çatı özelliği aranmaz?

- A) I B) II C) III D) IV

8 Altı çizili söz grubu, içinde bulunduğu cümlenin hangi ögesidir?

- A) Öznesi B) Nesnesi
C) Yer tamlayıcısı D) Zarf tamlayıcısı

9 Aşağıda verilen cümlelerden hangisinin ögeleri "özne - zarf tamlayıcısı - nesne - yüklem" şeklinde sıralanmıştır?

- A) Gökyüzünde gerçekleşen olaylarla ilgili araştırmalar yapıyor.
B) Gün ağarmadan önce dağın zirvesine ulaşmalıydık.
C) Uzman doktor az önce hastayı kontrol etti.
D) Çektiği fotoğraflara herkes hayran kalmıştı.

10 (I) Ruslar, Eflak ve Boğdan'ı işgal ederek Tuna'ya doğru ilerlediler. (II) Doğuda da Kars ve Ardahan'ı ele geçirdiler. (III) 1829 yılında Erzurum'u aldılar. (IV) Batıda ise Silistre'yi alarak Edirne'ye kadar geldiler.

Bu parçadaki numaralanmış cümlelerden hangileri içinde fiilimsi bulunan cümledir?

- A) I ve II B) II ve III
C) I ve IV D) III ve IV

11 Aşağıdaki cümlelerden hangisi biçimce olumsuz değildir?

- A) Pazar yerinde hırsızlık yaptığını polise itiraf etmişti.
B) Yeni taşınan komşularımız pek sıcakkanlı değil.
C) Sınavda 40'ın üzerinde not alan yokmuş.
D) Ona hiç kötülük yapmadık ki.

12 Aşağıdaki cümlelerden hangisi yüklemine türüne göre "İnsanlar için hayal kurmak, düşüncük ve hissetmek çok önemlidir." cümlesiyle aynıdır?

- A) Komşumuz Ahmet amca yalnız yaşayan bir insandı.
B) Zor günlerini daha çok çalışarak atlattılar.
C) Bu söylentiler gölge düşürüyor onun başarısına.
D) Yüksek dağlar fırtına çekermiş.

13 Aşağıdaki cümlelerin hangisi yapıcı içinde fiilimsi bulunan, anlamca olumlu bir fiil cümlesidir?

- A) Konuklarımıza yemeklerimizden ikram ettik.
B) Gözlerin kapanıyor, senin uykun var.
C) Otobüsten inince bizi dayımlar karşıladı.
D) Bu şehrin geceleri oldukça soğuktur.

- 14 Ayrılık kurşun kadar ağır
Gülüştün kadar felaketydi yaşamın
Yine de bir adın kalmalı geriye
Bütün kırılmış şeylerin nihayetinde
Yukarıdaki dörtlükte sırasıyla hangi iki fiilimsi türü kullanılmıştır?
- A) İsim-fiil, sıfat-fiil B) İsim-fiil, zarf-fiil
C) Sıfat-fiil, zarf-fiil D) Sıfat-fiil, sıfat-fiil

- 15 "Kimseye aldırmadan işini yapmaya devam ediyordu." **cümlesi için aşağıdakilerden hangisi söylenemez?**
- A) Zarf-fiil eki fiilin durumunu belirtmiştir.
B) Üç fiilimsi çeşidine de örnek vardır.
C) Cümlede adlaşmış sıfat-fiil yoktur.
D) Cümlede isim-fiil eki almış sözcük vardır.

- 16 "Havalar ısındıkça çalışan insanların performansları da gittikçe düşüyor." **cümlesindeki anlatım bozukluğu aşağıdaki değişikliklerden hangisi yapılarak düzeltilebilir?**
- A) "Havalar" sözcüğündeki çoğul eki kaldırılarak
B) "çalışan" sözcüğünden önce "dışarıda" sözcüğü getirilerek
C) "gittikçe" sözcüğü cümleden çıkartılarak
D) "düşüyor" kelimesi yerine "kayboluyor" kelimesi getirilerek

- 17 "Bulduğumuz ortama uygun bir konuşma tutumu ortaya koyarak dinleyenleri etkileyebiliriz." **cümlesindeki fiilimsiler aşağıdaki cümlelerin hangisinde sırasıyla verilmiştir?**
- A) Zarf-fiil / isim-fiil / zarf-fiil / isim-fiil
B) Sıfat-fiil / zarf-fiil / sıfat-fiil / sıfat-fiil
C) Sıfat-fiil / isim-fiil / zarf-fiil / sıfat-fiil
D) Zarf-fiil / isim-fiil / zarf-fiil / sıfat-fiil

18 - 20. soruları aşağıdaki metne göre cevaplayınız.

(I) Türkçeyi iyi kullanan bir yazar olduğum söyleniyor ama ben kendimi sözcüklerin ustası olarak görmüyorum. (II) Hâlâ çırakmışım gibi kendimi acemi ve toy hissediyorum. (III) Çekingen bir yabancı gibi bakıyorum, doldurduğum sayfalara. (IV) Sanki onların var olabilmeleri için yol gösteren beceriksiz bir kılavuz, ışıltıları ortaya çıksın isteyen kaba bir yontucuyum.

- 18 Bu parçadaki numaralanmış cümlelerle ilgili aşağıdaki tablonun hangi satırında yanlış bir işaretleme yapılmıştır?

	I	II	III	IV
A) Yükleme isimden oluşmuş cümle				✓
B) İçinde fiilimsi olmayan cümle		✓		
C) Kurallı cümle	✓	✓	✓	✓
D) Hem olumlu hem olumsuz yargı içeren cümle	✓			

- 19 Bu parçada numaralanmış cümlelerin hangisinde sıfat-fiil kullanılmamıştır?

A) I B) II C) III D) IV

- 20 Numaralanmış cümlelerin hangisinde bir anlatım bozukluğu vardır?

A) I B) II C) III D) IV

SORULAR

TEST 5

1 - 4. soruları aşağıdaki metne göre cevaplayınız.

(I) Konuşurken söze başladığınız sırada karşınızdakinin kaşlarını çattığını, asık bir suratla sizi dinlediğini görürseniz konuşmak hevesiniz kırılır. Lafı kısa kesip bu tatsız sohbeti bir an önce bitirmeye bakarsınız. Bir de karşınızdakinin sizi güler yüzle dinlediğini hatta araya biraz da tatlı söz karıştırarak sohbele renk verdiğini göreceksanız konuşukça konuşacağınız gelir.

(II) Güler yüz herşeyden önce insana cesaret verir. Çünkü güler yüzlü insanlar her kusuru hoş gören, affeden insanlardır. Dünyada ilk adımlarını yeni atmaya başlamış bir çocuğa herkes güler yüzle bakar. Onun her kusuru yapabileceğini ve bütün kusurların affedilmeye layık olduğunu önceden kabul ettiğimiz için çocuk karşısında da gülümser bir yüz takınırız.

(III) Olgun insanlar yalnız çocuklara değil, herkese affedici, kusura pek aldırmayıcı bir yüzle bakarlar. Bu dünya öyle çatık kaşla dolaşmaya, şunun bunun kalbini kırmaya değer bir dünya değildir. Güler yüzlü insanlar arasında yaşayanların hayatı daha tatlı geçer.

(IV) Bazı kimseler vardır, gülümsemeyi aklı başında adamın ciddiliğini bozan bir hâl sayarlar. Yüz göz olmasınlar diye çocuklarına gülmezler; laubali demesinler diye komşularına gülmezler. Kaşları sanki kudretten çatılmıştır. Çalışırken çatık, konuşurken çatıklar. Hatta kendilerine ettikleri zulüm yetmiyormuş gibi gülenlere de kızarlar. Hayatı böyle saymak çok yanlışır.

1 I numaralı paragrafta altı çizili fiilimsilerin türleri aşağıdakilerin hangisinde doğru bir sırayla verilmiştir?

- A) Sıfat-fiil / isim-fiil / zarf-fiil
- B) Zarf-fiil / isim-fiil / sıfat-fiil
- C) İsim-fiil / zarf-fiil / sıfat-fiil
- D) Sıfat-fiil / zarf-fiil / isim-fiil

2 III numaralı paragrafta altı çizili cümlenin öge sıralanışı aşağıdakilerden hangisiyle benzerdir?

- A) Son zamanlarda sosyal medya bağımlılığı oldukça yaygınlaştı.
- B) Pencerenin kenarında duran büyük saksı birdenbire düştü.
- C) Sağlam karakterli insanların mutlu bir aile hayatı olur.
- D) Derslerinin akşama kadar süreceğini bana söylememişti.

3 II numaralı paragrafta altı çizili ifadelerin hangisinde bir yazım yanlışı yapılmıştır?

- A) herşeyden
- B) affeden
- C) yapabileceğini
- D) karşısında da

4 IV numaralı paragraftaki altı çizili cümle ile ilgili olarak aşağıdakilerden hangisi söylenemez?

- A) Geçişli bir fiil vardır.
- B) Etken bir fiil vardır.
- C) Olumlu bir isim cümlesidir.
- D) Kurallı bir cümledir.

5 ve 6. soruları aşağıdaki metne göre cevaplayınız.

(I) Her yazma deneyimi, öncelikle kendi karanlığını keşfetme yolculuğuyla başlar. (II) Yola çıkarken insan, hayatının o noktasından olabildiğince uzaklara, geri dönülmez bir yerlere doğru gitmek isteği duyar. (III) Bütün riskleri göze alarak umut ve delilikten oluşan yeni bir yere, yazının evrenine taşınır. (IV) Bu bir kaçış da sayılabilir ama gerçeğin yadsınması anlamına gelmez.

5 Bu parçadaki numaralanmış cümlelerle ilgili aşağıdaki tablonun hangi satırında yanlış bir işaretleme yapılmıştır?

	I	II	III	IV
A) Tüm fiilimsi türlerinin bulunduğu cümle		✓		
B) Birden fazla yüklemi olan cümle				✓
C) "Özne-zarf tamlayıcısı ve yüklem"den oluşan cümle			✓	
D) Öznesinde isim-fiil olan cümle	✓			

6 Numaralanmış cümlelerle ilgili aşağıdakilerden hangisi söylenemez?

- A) I. cümlede hem türemiş hem de birleşik yapı sözçük vardır.
- B) II. cümlede basit yapı birden fazla sözçük vardır.
- C) III. cümle tek yargılı bir fiil cümlesidir.
- D) IV. cümlede isim-fiil vardır.

7 (I) Evin değişik yerlerinde üst üste yığılmış kitaplar durur. (II) Uzunca bir süre göz göze geldiğimiz hâlde bende hemen okuma isteği uyandırmayanları, gelecekte okumak umuduyla ayrı raflara kaldırıyorum. (III) Bir kitabı aylarca ya da birkaç yıl sonra yeniden keşfetmek hoşuma gider. (IV) Hepsinin okumaya ömrümün yetmeyeceğini bilirim. (V) Özenle ayırıp seçtiğim kitapları okumayı tercih ederim.

Bu parçadaki numaralanmış cümlelerin hangileri yalnızca "nesne" ve "yüklem"den oluşmuştur?

- A) III ve IV
- B) IV ve V
- C) II ve IV
- D) I ve V

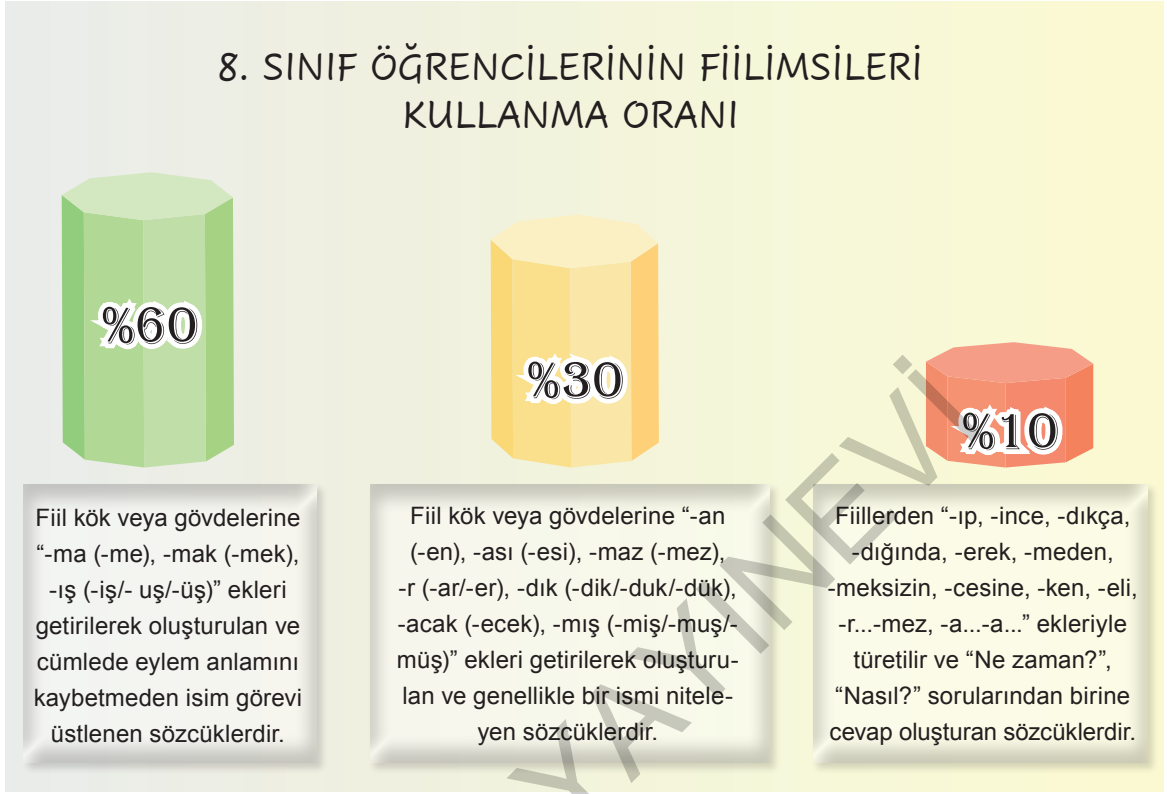
8 Aşağıda verilen cümlelerin hangisinde öğelere ayırmada bir yanlışlık yapılmıştır?

- A) Avlanmak için denize açılan küçük balıkçı tekneleri / fırtınadan dolayı / alabora oldu.
- B) Elindeki kitabı / yıllar önce / bir sahafta / görmüştüm.
- C) Annem / davete / sade bir elbise giyerek / katılmıştı.
- D) Genç mühendisin / konuşması / oldukça / etkileyiciydi.

9 Aşağıdaki cümlelerin hangisinde anlatım bozukluğu vardır?

- A) Öğrencileri rahat edecekleri odalara yerleştirmiş, bütün imkânları sağlamıştı.
- B) Destanlarda olay ve kişiler olmak üzere iki unsur ağırlıktadır.
- C) Fuzuli'nin şiirlerinde en çok işlediği tema ayrılıktır.
- D) Merak etme duygusu, insanın hoşça vakit geçirme arzusunu karşılar.

- 10 Aşağıda 8/E sınıfının, fiilimsileri cümlelerinde kullanma oranları verilmiştir.



Aşağıda verilen cümlelerden hangisini %30'luk dilimdeki öğrencilerden birinin yazdığı söylenebilir?

- A) Kendimi bildim bileli bu mahallede yaşıyordum.
 B) Kurumuş yaprakların olduğu bir yolda yavaş yavaş yürüyorduk.
 C) Toprağı kazmayı bilmiyorsun ama ben iyi bir çiftçiyim diyorsun.
 D) Yemeğinizi yer yemez yola çıkmazsanız yarına kadar oraya ulaşamazsınız.

- 11 Özne; yüklem bildirdiği işi yapan, yüklem bildirdiği durumu üzerine alan ögedir. Yer tamlayıcısı ise yüklem sorulan "Neye?, Neyde?, Neyden?, Kime?, Kimde?, Kimden?, Nereye?, Nerede?, Nereden?" sorularının cevabını verir. Örneğin "Benim çiçeklerime kimse zarar veremez." cümlesinde; "zarar veremez" yüklem, "Neye?" sorusuna cevap veren "Benim çiçeklerime." yer tamlayıcısı, yüklem bildirdiği durumu üzerine alan "kimse" ise öznedir.

Bu açıklamaya göre aşağıdaki cümlelerde altı çizili olan ifadelerden hangisi yer tamlayıcısı değildir?

- A) Dün akşam fırından iki ekme aldım.
 B) Yemekleri korumak için kapan kurmuşlar.
 C) Yerlerde kurumuş yapraklar vardı.
 D) Durumu onlara hemen anlat.

12 "Lisedeki tarih öğretmenimizi hatırlıyorum. Der-
sin çizgisinin az ya da çok dışına çıkmayı sever,
bağlantıyı koparmadan değişik konulara sıçardı.
Anlattığı konuları olağan görüntüsünden uzaklaş-
tırır ve çelişkileri yakalamaya önem verirdi."

**Bu parçada aşağıdaki cümle çeşitlerinden han-
gisinin örneği yoktur?**

- A) İsim cümlesi
- B) Birden fazla yüklemli cümle
- C) Fiil cümlesi
- D) Bağlaçla bağlanmış cümle

13 **Aşağıdaki cümlelerin hangisinde fiili gerçek-
leştiren, işi yapan unsur belli değildir?**

- A) Sanatçı bu şiirinde yoğun bir şekilde söz sanatlarına yer vermiş.
- B) Makale, belirli bir alanda araştırma yapılarak yazılır.
- C) Aydınlar, toplumsal buhranların yaşandığı dönemlerde topluma yol gösterirler.
- D) Ünlü futbolcu, yardım kampanyalarına bağışta bulunuyor.

14 "Günlük hayatta kullandığımız pek çok taşınabilir cihaz, enerji ihtiyacını pillerden karşılıyor." **cümlesinin öge dizilişi aşağıdaki cümlelerin hangisinde doğru verilmiştir?**

- A) Yer tamlayıcısı - özne - nesne - yüklem
- B) Özne - nesne - yüklem
- C) Özne - nesne - yer tamlayıcısı - yüklem
- D) Yer tamlayıcısı - özne - zarf tamlayıcısı - yüklem

15 **Aşağıdaki cümlelerin hangisinde isim-fiil kullanılmamıştır?**

- A) Birinin çıkıp onu uyarmasına, nasıl görüldüğünü söylemesine ihtiyacı vardı.
- B) Köşede bir piyano, piyanonun üstünde çiçekler...
- C) Fabrikayı boşaltmaları için dışarıdan çağrı yapılırken kaçma arzusuyla yanıp tutuşanlar oldu.
- D) Bu genç kadında, kendisini büyüleyen şeyin ne olduğunu bulmaya uğraşiyor.

16 **Didem:** Çok çalışsa da bir türlü yüksek puan alamıyor.

Şenay: İleride başarılı bir yazar olacağınızdan kuş-
kum yok.

Necla: Yarışmadaki birinci eser, bir Elazığ türküsüydü.

Hale: Söylediklerinizi anlamıyor değilim.

Yukarıda verilen cümlelerle ilgili olarak aşağıdakilerden hangisi söylenemez?

- A) Didem'in cümlesi devrik bir fiil cümlesidir.
- B) Şenay'ın cümlesi olumsuz bir isim cümlesidir.
- C) Necla'nın cümlesi tek yüklemi olan bir isim cümlesidir.
- D) Hale'nin cümlesi biçimce olumsuz, anlamca olumlu bir cümledir.

17 “İzleyicilere duygulu sözlerle hitap ettikten sonra selamladı ve salondan çıktı.” **cümlesindeki anlam bozukluğunun nedeni aşağıdakilerden hangisidir?**

- A) Özne eksikliği
- B) Özne-yüklem uyumsuzluğu
- C) Yer tamlayıcısı eksikliği
- D) Nesne eksikliği

18 “İyi bir cümlede gereksiz sözcük bulunmaz. Bunu şöyle anlayabiliriz: Cümleden bir sözcüğü attığımızda cümlenin anlam ve anlatımında bir daralma oluyorsa o sözcük gerekli, olmuyorsa gereksizdir.”

Buna göre aşağıdakilerden hangisi iyi bir cümle değildir?

- A) Neşeli, sağlıklı, şen bir görünüşü vardı.
- B) Yağmur, sabaha kadar aralıksız yağdı.
- C) Bütün gün tarlada hiç ara vermeden çalıştık.
- D) Doğadaki canlılar üzerinde sayısız inceleme yapıldı.

19

- I. Kâğıtların hepsini torbaya koyduk.
- II. Âşıklar sazlı sözlü atışiyordu.
- III. Annem bize kızdığı için bütün gün söylendi.
- IV. Yanımızdan büyük bir öfkeyle geçip gitti.

Yukarıda numaralanmış cümlelerde aşağıdaki eylem çatılarından hangisinin örneği yoktur?

- A) Etken
- B) Edilgen
- C) Geçişli
- D) Geçişsiz

20 Soğuk bir kasım sabahı ayrıldım baba ocağından, çaresizce.

Bu cümlenin öge dizilişi aşağıdakilerin hangisinde doğru verilmiştir?

- A) Zarf Tamlayıcısı - Yer Tamlayıcısı - Yüklem - Zarf Tamlayıcısı
- B) Zarf Tamlayıcısı - Yüklem - Yer Tamlayıcısı - Zarf Tamlayıcısı
- C) Yüklem - Yer Tamlayıcısı - Zarf Tamlayıcısı
- D) Zarf Tamlayıcısı - Yüklem - Yer Tamlayıcısı

21 (1) Faruk Nafiz Çamlıbel, Beş Hececiler’in önde gelen şairlerindedir. (2) Heceyi ve aruzu ustaca kullanmış; hikâye, roman ve tiyatro türünde eser vermiştir. (3) Anadolu’nun gerçeklerini konu alan şiirler yazarak “memleket edebiyatı” anlayışına öncülük etmiştir. (4) Aşk, tabiat sevgisi, vatan ve millet aşkı en çok işlediği temalardır.

Faruk Nafiz’in anlatıldığı numaralanmış cümlelerden hangisi yapısına göre diğerlerinden farklıdır?

- A) 1
- B) 2
- C) 3
- D) 4

22 **Aşağıda verilen cümlelerin hangisinde çatı özelliği aranmaz?**

- A) İş görüşmesi yapmak için başvuruda bulundu.
- B) Annesinin kendisine verdiği yüzüğü kaybetmişti.
- C) Sakin kafayla düşünerek ne yapacağına karar verdi.
- D) Bu sırrını paylaşabileceği kimse yoktu.

SORULAR

TEST 6

1 ve 2. soruları aşağıdaki metne göre cevaplayınız.

Forbes dergisi hayatımızın bir parçası hâline gelen kablosuz internet ve cep telefonları konusunda son araştırmayı yayımladı.

Anne-babaların çoğu cıva, egzoz dumanı, haşere ilaçları gibi zehirli kimyasallardan çocuklarını uzak tutar. Bunun sebebi bunların Dünya Sağlık Örgütü'nün "Kansere Sebep Olan Maddeler" (Class 2B Carcinogens) listesinde yer alan 250 maddeden biri olmalarıdır. Oysaki aynı listede televizyon, radyo, mikrodalga fırın, cep telefonu ve kablosuz internet bağlantıları (Wi-Fi) tarafından yayılan radyo ve elektromanyetik dalgalar da yer alır ama bu maddeler kadar dikkat çekmez. Ancak son yıllarda yapılan araştırmalara göre mümkün olduğunca çocukları bu dalgalardan korumamız şart.

Elektromanyetik dalgalara uzun süre maruz kalan kişilerde kanser riski artıyor, sperm sayısı düşüyor. (I) Ayrıca başka hastalıklara da kapı aralanıyor. (II) Maruz kalınan elektromanyetik dalgaların kansere dönüşme süresi 30 yıl ya da daha fazla olarak hesaplanıyor. (III) Bir zamanlar sigara için "zararsız" denilip yıllar sonra kanser patlamasıyla bilinçlenme yaşandığı gibi elektromanyetik dalgalar konusunda da bundan 30-40 yıl sonra benzer bir durumun yaşanabileceği belirtiliyor. (IV) "Wi-Fi Bizi Yavaş Yavaş Öldürüyor mu?" makalesini yazan Mark Gibbs'e göre 50-100 yıl sonra dönüp baktığımızda cep telefonu ve kablosuz internetin nasıl insanlık tarihinin en büyük sağlık krizine sebep olduğuna şaşırabiliriz.

1 Yukarıdaki parçada altı çizili olan fiilimsilerin türleri, aşağıdakilerden hangisinde sırasıyla doğru verilmiştir?

- A) Sıfat-fiil / zarf-fiil / sıfat-fiil / isim-fiil / sıfat-fiil
- B) Zarf-fiil / zarf-fiil / sıfat-fiil / zarf-fiil / sıfat-fiil
- C) Sıfat-fiil / sıfat-fiil / isim-fiil / zarf-fiil / isim-fiil
- D) Sıfat-fiil / sıfat-fiil / isim-fiil / zarf-fiil / sıfat-fiil

2 Yükleme edilgen çatılı fiil olan cümlelerde işi asıl yapanın kim olduğu anlaşılmaz ve özneyi bulmak amacıyla yükleme yöneltilen "Kim?, Ne?" sorularına asıl görevi nesne olan ögeler cevap verir. Bu durumda, nesne olduğunu bildiğimiz bir ögeyi, özne olarak kabul ederiz. Bu tür özneler de sözde özne denir.

Metindeki numaralanmış cümlelerden hangileri bu tanımlamaya uygun bir örnek sayılabilir?

- A) Yalnız I
- B) Yalnız IV
- C) II ve III
- D) I, II ve III

ATATÜRK ORTAOKULU 2018-2019 EĞİTİM ÖĞRETİM YILI 8. SINIF I. DÖNEM 3. TÜRKÇE YAZILISI

1. Aşağıda verilen cümleleri ögelerine ayırınız.

- a) O, mutluluğun büyük çabalar, verimli çalışmalar, kişisel küçük hesaplara dayanmayan özveriler pahasına elde edilebileceğine yürekten inanıyordu.

• O, mutluluğun büyük çabalar, verimli çalışmalar, kişisel küçük hesaplara dayanmayan özveriler pahasına elde edilebileceğine yürekten inanıyordu.
 Özne
 Dolaylı Tümeleşme
 Yüklem

- b) Ülkenin günlük siyasal olaylarını ve toplumsal bozukluklarını eleştirel bir yaklaşımla ve etkileyici bir biçimde yansıtır.

• Ülkenin günlük siyasal olaylarını ve toplumsal bozukluklarını eleştirel bir yaklaşımla ve etkileyici bir biçimde yansıtır.
 Belirtili Nesne
 Zarf Tümeleşme
 Yüklem

2. Aşağıdaki cümlelerin hangisinde yer tamlayıcısı yoktur?

- A) Gürül gürül suların aktığı bir köyde çok güzel insanlar yaşamış.
 B) Hepimiz yaşadığımız yeri oldukça iyi bildiğimizi düşünürüz.
 C) Dağların arkasında güneşin bıraktığı koyu kızılılık uzanmaktaydı.
 D) Bu vadide, birbirinden güzel ve sayısız çiçek türü vardı.

Yer tamlayıcısı yerine "Dolaylı tümeleşme", zarf tamlayıcısı yerine de "Zarf tümeleşme" ifadesini kullanabilirsiniz.

Yukarıda verilen yazılı kâğıdında öğrencinin cevaplarıyla ilgili olarak aşağıdakilerden hangisi söylenebilir?

- A) b cümlesinde "Ülkenin günlük siyasal olaylarını" ifadesi "özne" olarak belirtilmeliydi.
 B) 2. sorunun cevabı A seçeneği olacak şekilde işaretlenmeliydi.
 C) a cümlesinde "yürekten" ifadesine dolaylı tümeleşme değil, zarf tamlayıcısı yazılmıyordu.
 D) b cümlesinde yüklem "eleştirel bir yaklaşımla ve etkileyici bir biçimde yansıtır" ifadesinin tamamı olmalıydı.

4

- I. Babasıyla arasında gizli bir anlaşma vardı.
- II. Herkesin onu dinlediğini görünce arkasına yaslanıp kendinden gayet emin bir tavırla elindeki verileri sıraladı.
- III. Nitekim çocuklarımin bile kullandıkları hesap makineleri, bunların küçük modelleridir.
- IV. Kafam her an bir konu bulmak için bin bir çeşit şeye müracaat ediyor.

Yukarıda verilen cümlelerin hangilerinde çatı özelliği aranmaz?

- A) I ve II B) I ve III
C) II ve III D) II ve IV

5

- I. Salondaki gülüşmeler buradan duyuluyor.
- II. Akla sığmaz kahramanlıklar gösteriyor.
- III. Romanım bitince size gönderirim.

Bu cümlelerdeki altı çizili sözcükler için aşağıdakilerden hangisi söylenemez?

- A) Fiil kökünden türemişlerdir.
B) Yan cümlecik kurmuşlardır.
C) Eylemsi türündelerdir.
D) Aynı tür eylemsilerdir.

6

Bir ülkenin gelişmişlik düzeyini, o ülkedeki bebek ölümlerinin sayısına bakarak anlayabiliriz.

Bu cümlelerin öğeleri, aşağıdakilerin hangisinde doğru sıralanmıştır?

- A) Belirtili nesne, yer tamlayıcısı, yüklem
B) Yer tamlayıcısı, zarf tamlayıcısı, yüklem
C) Zarf tamlayıcısı, belirtili nesne, yüklem
D) Belirtili nesne, zarf tamlayıcısı, yüklem

7

Ey, bu topraklar için toprağa düşmüş asker!
Gökten ecdâd inerek öpse o pâk alnı, değer.
Sana dar gelmeyecek makberi kimler kazsın?
“Gömelim gel seni tarihe” desem, sığmazsın!

Yukarıdaki dördlükte kaç tane fiilimsi kullanılmıştır?

- A) 4 B) 3 C) 2 D) 1

8

(I) İnsanlar arasında anlaşmayı sağlayan bir araçtır dil. (II) Dil olmadan insanların birbirleriyle iletişim kurması çok zordur. (III) Dil; sözcüklerden, söz gruplarından oluşan canlı bir varlıktır. (IV) Bu yüzden, dilden söz edebilmemiz için sözcüğün olması şarttır.

Bu parçadaki numaralanmış cümlelerle ilgili olarak aşağıda verilenlerden hangisi yanlıştır?

- A) I. cümle olumlu, devrik, isim cümlesidir.
B) II. cümle olumsuz, fiil cümlesidir.
C) III. cümle kurallı, isim cümledir.
D) IV. cümle olumlu, kurallı cümledir.

9

Üniversitedeyken yazdığım bir şiiri dün gece okudum, gençliğimi yaşattı bana.

Bu cümledeki anlatım bozukluğunun nedeni aşağıdakilerden hangisidir?

- A) Özne eksikliği
B) Nesne eksikliği
C) Yer tamlayıcısı eksikliği
D) Ek eylem eksikliği

- 10 (I) Kültür eserleri, dilin belli bir yer ve zamanda donmuş şekilleridir. (II) Bu bakımdan, bu eserlerin abidelerden hiçbir farkı yoktur. (III) Bu nedenle kütüphaneler dil abidelerini toplayan müzelerdir. (IV) İnsanların hayat tecrübelerini, inanç ve değerlerini bu kültür eserlerinden öğrenebiliriz.

Bu parçada numaralanmış cümlelerin hangisinde çatı özelliği aranabilir?

- A) I B) II C) III D) IV

- 11 I. İşleyen demir pas tutmaz.
II. Değirmene gelen nöbet bekler.
III. Veren el, alan elden üstündür.
IV. Aç tavuk, kendini tahıl ambarında sanır.

Yukarıdaki atasözlerinin hangisinde sıfat-fiil yoktur?

- A) I B) II C) III D) IV

- 12 Soyut kavramlar, çoğul durumda özne olduklarında bunların yüklemeleri tekil olur.

Aşağıdaki cümlelerin hangisinde bu kurala uyulmamıştır?

- A) Bu düşünceler açıkça dile getirilmez.
B) Bazı şüpheler, insanı dönülmez hatalara sürükleyebilirler.
C) Bu sözlerim, işini tam olarak yapmayanlar içindir.
D) Bu küçük kasabada aylar, yıllar geçirmiştik.

- 13 "İlık bir temmuz sabahı..." cümlesi aşağıdakilerden hangisiyle sürdürülürse cümlenin öğeleri sırasıyla "zarf tamlayıcısı - nesne - zarf tamlayıcısı - yüklem" şeklinde olur?

- A) babamla ben balığa çıkmıştık.
B) işe giderken antikacı dükkânına uğradım.
C) onu koşuştururken gördüm.
D) gördüğüm bu adam bana birini anımsattı.

- 14 Yazın yaşamımda beni her zaman destekleyen ve güç veren pek çok dostum vardı.

Bu cümledeki anlatım bozukluğunun nedeni aşağıdakilerden hangisidir?

- A) Nesne eksikliği
B) Yer tamlayıcısı eksikliği
C) Ek eylem eksikliği
D) Tamlama yanlışlığı

- 15 Öykülerin yalın, abartıdan uzak ve sıcak bir dille yazılmış olması, okurun kitabı bir çırpıda, rahatça bitirmesini sağlıyor.

Bu cümle için aşağıdakilerden hangisi söylemez?

- A) Cümlenin öznesi, sözde öznedir.
B) Öznesi söz öbeğinden oluşmuştur.
C) Yüklemi çekimli bir eylemdir.
D) Özne, nesne ve yüklemden oluşmuştur.

- 16 Nesne alıp alamamalarına göre fiiller "geçişli" ve "geçişsiz" olmak üzere ikiye ayrılır. "Neyi?, Kimi?, Ne?" sorularına cevap veren fiiller geçişli, bu sorulara cevap vermeyen fiiller geçişsizdir.

Bu açıklamaya göre aşağıdaki cümlelerden hangisinin yüklemi geçişsiz bir fiildir?

- A) İlk önce kitaplarını istedi annesinden.
B) Sınavdan önce öğretmenimi görmüştüm.
C) Trenin sesini duyan yolcular, istasyona girdiler.
D) Bu bitkiler bol miktarda su ister.

- 17 (I) İnsanoğlunun gökyüzüne bakıp gördüklerini yorumlamaya çalışması tarih öncesi dönemlere kadar gidiyor. (II) O zamandan günümüze kalan Mısır ve Sümer gibi uygarlıklara ait anıtlarda bu gözlemlerin ve çalışmaların izleri var. (III) Bu toplumlar, gökyüzündeki cisimleri günümüzde olduğundan çok farklı yorumlamış, yeryüzünde yaşanan doğa olaylarını bu cisimlere ve onların hareketlerine bağlamış. (IV) Asırlar sonra bu çalışmalar sayesinde Güneş'in ve Ay'ın hareketleri takip edilebilmiş ve bu hareketler temel alınarak çeşitli takvimler geliştirilmiştir.

Bu parçadaki numaralanmış cümlelerden hangisinin yüklemi edilgen çatılı bir fiildir?

- A) I B) II C) III D) IV

ÇIKMIŞ SORU

18 Açıklama

Cümlede durum veya zaman bildiren fiilimsiler zarf-fiildir.

Örnekler:

Murat Nehri donunca gençler, üzerinde top zaman bildiren zarf-fiil oynuyormuş.

Gözlerini kitaptan ayırmadan sorduğum durum bildiren zarf-fiil soruya cevap verdi.

(I) Yaz aylarında tamamen kuruyan Kara Muğla Deresi'nin yatağını takip ederek Saburhane Meydanı'na ilerliyorum. (II) Saburhane'nin sürprizli sokaklarına doğru yol alırken yüzleri ısıtan neşeli ilkbahar güneşinin ağaçlara can verdiğini hissetmek zor olmuyor. (III) Kim bilir üst üste kaç kat kireç atılmış bembeyaz boyalı evleri keşfetmek için sokak aralarına dalıyorum. (IV) Evlerin ahşap bölümleri, Saburhaneli kadınların titizliğiyle siline siline özgün ve büyümlü bir sanat eserine dönüşmüş sanki.

Bu parçada numaralanmış cümlelerin hangisinde zarf-fiil yoktur?

- A) I B) II C) III D) IV

19 Aşağıdaki cümlelerin hangisinde bir anlatım bozukluğu vardır?

- A) Onu ne çok özlediğimi bir ben bilirim bir de annem.
B) İnsanoğlu düşünen bir varlıktır ama düşünmekten korkar.
C) Sen de arkadaşların gibi spor yapmalısın.
D) Gençliğin geleceği, bir yerde toplumun da geleceğidir.

20 ve 21. soruları aşağıdaki cümleye göre cevaplayınız.

Büyüyen şehirler ve ekonomik gelişmeyle birlikte pek çok inşaat ve yapım faaliyetlerimiz doğal arazilerin, verimli toprakların daralmasına ve bunların üzerinde yer alan doğal bitki örtüsünün yok olmasına sebep olmaktadır.

20 Bu cümledeki altı çizili fiilimsilerin türleri aşağıdakilerin hangisinde sırasıyla verilmiştir?

- A) Sıfat-fiil / isim-fiil / isim-fiil / sıfat-fiil
B) Sıfat-fiil / zarf-fiil / isim-fiil / sıfat-fiil
C) Zarf-fiil / isim-fiil / sıfat-fiil / sıfat-fiil
D) Sıfat-fiil / zarf-fiil / zarf-fiil / sıfat-fiil

21 Metinde bulunan anlatım bozukluğu, aşağıdaki değişikliklerden hangisiyle giderilebilir?

- A) "sebeptir" sözü yerine "sağlamaktadır" sözcüğü getirilerek
B) "birlikte" kelimesi yerine "beraber" kelimesi getirilerek
C) "birlikte" kelimesinden sonra "başlayan" kelimesi getirilerek
D) "faaliyetlerimiz" kelimesindeki çokluk eki atılarak

YAZIM VE NOKTALAMA BİLGİSİNİ ÖLÇME

SORULAR

TEST 1

1 - 3. soruları aşağıdaki metinlere göre cevaplayınız.

A

Kahve severmisiniz? Kahvenin Türkiye'de yetişmeyen bir bitki olduğunu daha önce duymuş muydunuz? Türkiye'de yetiştirilmeyen bir bitkinin ülkemizde bu kadar çok tüketilmesi sizce hangi etmenlere bağlıdır?

I II III IV
V VI

B

Peki, kahvenin yada Türkiye'de yetiştirilmeyen veya üretilmeyen her hangi bir ürünün Türkiye'ye nasıl getirildiğini hiç düşündünüz mü? Şimdi bu soruların yanıtlarını arıyalım.

I II III IV
V VI

C

Binlerce yıl öncesinden bugüne kadar geçen süreç içerisinde insanların ekonomik faliyetleri de büyük değişimler geçirmiştir. Tarih öncesi dönem, insanın yer yüzündeki var olma mücadelesiydi. İnsanların temel gereksinimleri beslenme ve barınmaydı. Bu dönem de insanlar barınma gereksinimini mağara, doğal taş oyukları ve ağaç kovuklarıyla gidermişlerdir.

I II
III IV
V VI

1 A paragrafında numaralanmış kelimelerin hangilerinde yazım yanlışı vardır?

A) I, III ve IV

B) II, IV ve V

C) I, IV ve VI

D) II, III ve IV

2 B paragrafında numaralanmış kelimelerin hangilerinde yazım yanlışı vardır?

A) I, IV ve V

B) II, V ve VI

C) I, III ve V

D) I, III ve VI

3 C paragrafında numaralanmış kelimelerin hangilerinde yazım yanlışı yoktur?

A) I ve III

B) I, IV ve V

C) II, III ve VI

D) I, II, IV ve V

4 ve 5. soruları aşağıdaki metne göre cevaplayınız.

Değişik ülkelerden bir araya gelecek binlerce insan önümüzdeki 25 yıl içinde uzaya göçe başlayacaklar ve orada o zamana kadar yapımı bitmiş olan uzay gemilerinde yaşayacak ve çalışacaklardır (I) Daha önceki gemilerde olduğu gibi bu gemilerde daracık kapsüller olmayacak (II) bu gemiler içlerinde göçmenlerin kendi evlerinin yanında bahçe, ırmak, dağ ve (III) bulutların bulunacağı hafifçe eğik, kilometre uzunluğunda bir kara parçası olacaktır.

1960'lı yılların sonunda bu konudaki zayıf düşüncelerden ilk hesaplar ortaya çıkmıştır. O zaman ben bir kaç öğrencimle beraber fizik derslerinin bir egzersizi olarak bunları ele almıştım (IV) İlk anda bir eğlence olarak başlayan bu çalışmalar, hesaplar mantıklı sonuçlar vermeye başlayınca yerini ciddi araştırmalara bıraktı. Hayali görünen bir düşünceden, sonunda gerçekçi bir proje çıkmış oldu.

4 Bu parçada yer alan yazım yanlışları aşağıdaki değişikliklerden hangisiyle giderilebilir?

- A) "göçe başlayacaktır" ifadesi "göçe başlayacaktır" şeklinde bitişik yazılmalıdır.
- B) "bir kaç" sözcüğü "birkaç" şeklinde bitişik yazılmalıdır.
- C) "egzersizi" sözcüğü "ekzersizi" şeklinde yazılmalıdır.
- D) "proje" sözcüğü "piroje" şeklinde yazılmalıdır.

5 Bu parçada belirtilen numaralanmış yerlerden hangisine herhangi bir noktalama işareti getirilemez?

- A) I
- B) II
- C) III
- D) IV

6

- Uzun cümlelerde yüklemden uzak düşmüş olan özneyi belirtmek için konur.
- İki kenden fazla eş değer öğeler arasında virgül bulunan cümlelerde öznenin sonra konur.
- Alıntılarda başta, ortada ve sonda alınmayan kelime veya bölümlerin yerine konur.

Aşağıdaki cümlelerin hangisinde noktalama işaretleri bu kullanım alanlarından herhangi biriyle kullanılmamıştır?

- A) Yakınıyorum sanmayın, biliyorum ki bana yol gösterenler eş dosttan birkaç kişinin salığı ile ... daha dayanıklı kitaplardı.
- B) Sonu görünmeyen bir birliktelik; erginliği, almazlığı, varlığı veya ulaşılmazlığı ile bir o kadar da muhabbet vaat ediyordu.
- C) Dranas, "Ağrı Dağı" adlı şiirinde o işini soran "büyüklük" duygusunu bir an içinde somutlaştıran dağa bakarken her şeyin bilinmezler içinde olduğunu görür.
- D) Romanda takıldığım Sabahattin Ali'nin birkaç yerde gereği yokken söze karışması: Romanın başlarında küçük Anadolu şehirlerindeki evlenmelerden söz ederken, askere alınan delikanlıları anlatırken...

7

Mısır'ın Büyük Giza Piramiti'nde yüksek teknolojilerle taramalar yapan bilim insanları gizli bir oda buldu (I) Nature dergisinde yayımlanan bir makalede bu boşluktan ilk defa söz edildi (II) 19 yy.dan beri yapılan en büyük keşif olduğu söylenen oda sayesinde firavunların yaşamına dair yeni bulgular elde edilebilir. Bu bulgular arasında şunlar vardır (III) firavunların özel odaları, toplantı salonları, halka seslendikleri alanlar (IV)

Yukarıdaki parçada numaralanmış yerlere sırasıyla aşağıdaki noktalama işaretlerinden hangileri getirilmelidir?

- A) (.) (.) (:) (...)
- B) (.) (.) (;) (...)
- C) (.) (:) (:) (.)
- D) (.) (.) (:) (.)

8

Soru bildiren ancak soru eki veya sözü içermeyen cümlelerin sonunda kullanılır.

Soru ifadesi taşıyan sıralı ve bağlı cümlelerde soru işareti en sonda kullanılır.

Soru eki veya sözü içeren ve soru anlamı taşıyan cümle veya sözlerin sonunda kullanılır.

Bilinmeyen, kesin olmayan veya şüpheli karşılanan yer, tarih vb. durumlar için kullanılır.

Aşağıdaki öğrencilerden hangisinin cümlesi görselde verilen açıklamalara ters düşmektedir?

A)



Yunus Emre (1240?-1320) tasavvuf şiirinin en önemli temsilcisidir.

B)



Çok yakından mı bu sesler, çok uzaklardan mı?

C)



Akşam oldu mu sürülerle döneriz?

D)



Ne zaman tükenecek bu yollar, arabacı?

- 9 Şiir düzyazıdan bambaşka bir kimliğe sahiptir. Şiir-
I
rin asıl yakın olduğu sanat dalı musikidir. Şiir de
II
önemli bir yeri olan nefes ve ses unsurları, şiiri
ahenk bakımından musikiye yaklaştırır. Şiir, musi-
III
kide olduğu gibi kulağı bir sesle doldurulmalıdır.
IV

**Yukarıdaki parçada numaralanmış sözcükler-
den hangisinin yazımı yanlıştır?**

- A) I B) II C) III D) IV

- 10 "Alacağını tahsil etmek için telefon etmiş, sonuç alamayınca kendisi gitmek zorunda kalmıştı." **cümlesinde virgül, aşağıda verilen hangi işlevde kullanılmıştır?**
- A) Eş görevli sözcükleri ayırmak
B) Sıralı cümleleri ayırmak
C) Yüklemden uzak düşen özneyi belirtmek
D) Cümle içinde ara sözleri ayırmak

- 11 Oyun ve oyuncak () çocuğun kendi dünyasında özgürce davranabilmesini sağlayan iki önemli unsurdur () Oyun oynayan çocukların yüzündeki mutluluğu başka hiç kimsede göremezsiniz () Işıl-dayan gözler, heyecanlı minik eller ve bir şeyler yapma arzusu ()

Yukarıdaki parçada ayraçlarla () belirtilen yerlere sırasıyla aşağıdaki noktalama işaretlerinden hangileri getirilmelidir?

- A) (,) (.) (?) (.) B) (,) (:) (.) (...)
C) (,) (.) (.) (...) D) (,) (?) (.) (...)

- 12 **Aşağıda verilen cümlelerin hangisinde yazım yanlışı yapılmıştır?**

- A) Koridorlarda çıkan gürültüden hepimiz rahatsız olmuştuk.
B) 19 Mayıs 1919 tarihi Türk milleti için dönüm noktasıdır.
C) Bahar mevsiminde İstanbul Boğazı'nın seyrine doyum olmazdı.
D) Yaptığım antrenmanlar işe yaramıştı, yarışta birinci olmuştum.

ÇIKMIŞ SORU

- 13
- Başka bir kimseden veya yazıdan olduğu gibi aktarılan sözler tırnak içine alınır. Tırnak içindeki alıntının sonunda bulunan işaret tırnak içinde kalır.
 - Özel olarak vurgulanmak istenen sözler tırnak içine alınır.
 - Cümle içerisinde eserlerin ve yazıların adları ile bölüm başlıkları tırnak içine alınır. Bunlara getirilen çekim ekleri tırnağın dışında kalır.

Bu açıklamalara göre aşağıdakilerin hangisinde tırnak işaretinin kullanımıyla ilgili yanlışlık yapılmıştır?

- A) İnsanın "sevgi" açlığı, maddi değerlere bağımlılığını artırıyor.
B) Çoğu arkadaşım Attila İlhan'ın "Ben Sana Mecburum" şiirini ezbere biliyor.
C) Atatürk'ün "Bilgi kuvvettir." sözü günümüz çağının anahtarındır.
D) Kurtuluş Savaşı'nı anlatan "Küçük Ağa'yı" okuduğumda çok etkilendim.

- 14 **Aşağıda verilen cümlelerin hangisinde yay ayraçla belirtilen yere kesme işareti getirilemez?**

- A) Anadolu()nun çok eski bir yerleşim merkezi olduğu bilinir.
B) TBMM()de bu konuyla ilgili çalışmalar tüm hızıyla devam ediyor.
C) Azerbaycan()ın yeni devlet başkanı bu hafta seçilecek.
D) Ankara Üniversitesi()ni kazanmak istiyordu.

- 15 Gökyüzünde uçan kuşlara baktıkça kendini özgür hissediyordu () Alabildiğine mavi () alabildiğine uçsuz ve bucaksız () Beyaz bulutlar arasında yaşamak, gri beton yığınları arasında yaşamaktan çok daha güzel olmalıydı ()

Yukarıdaki parçada yay ayrıçlarla () belirtilen yerlere sırasıyla aşağıdaki noktalama işaretlerinden hangileri getirilmelidir?

- A) (.) (,) (...) (.) B) (.) (,) (.) (!)
C) (:) (,) (...) (.) D) (.) (,) (!) (...)

16

- Sayılardan sonra sıra bildirmek için kullanılır.
- Tarihlerin yazılışında gün, ay ve yılı gösteren sayıları birbirinden ayırmak için kullanılır.
- Kitap, dergi vb.nin künyelerinin sonunda kullanılır.

Aşağıdaki cümlelerin hangisinde noktanın (.) bu işlevlerinden herhangi birinin örneği yoktur?

- A) Bu kaçınıcı senesiydi vefatının bir türlü hatırımında tutamam.
B) Türkçe Sözlük (2005). Ankara: TDK Yayınları
C) Okuduğumuz metnin 4. paragrafındaki altı çizili tamlama isim tamlamasıdır.
D) Bir milattı o tarih: 01.09.1991.

- 17 Aşağıda verilen cümlelerin hangisinde sayıların yazımıyla ilgili bir yanlışlık yapılmıştır?

- A) Salonda yer kalmayınca izleyiciler bazı koltuklara ikişerli oturmuşlardı.
B) Ünlü atlet, yarışı 2'inci sırada bitirince hepimiz çok şaşırдық.
C) 17 Ağustos'ta büyük bir felaket yaşamıştık.
D) Bu akşam yürüdüğü mesafe 10 kilometreydi.

- 18 Sanatçı kendi dönemini bilmeli (I) çağdaşlarının özelliklerini tanımalı (II) kuşaklar arasında köprü kurup (III) geleceğe uzanmalı (IV) üslubunu halkın anlayacağı tarzda şekillendirmelidir.

Yukarıdaki parçada numaralanmış yerlerden hangisine virgöl getirilemez?

- A) I B) II C) III D) IV

ÇIKMIŞ SORU

- 19 Aşağıdaki cümlelerin hangisinde noktalama işaretlerinin kullanımıyla ilgili bir yanlışlık yapılmıştır?

- A) Hey, Gebzeli Hasan! Bu çayların parasını kim ödeyecek?
B) Nükhet'in en büyük korkusu, samimi olduğu ve kendisini yanlarında huzurlu hissettiği insanlardan uzun süre ayrı kalmaktı.
C) Zeki (!) çocuk tüm parasını bir günde bitirdi, ayın geri kalanını harçlıksız geçirdi.
D) Hep beklenmedik zamanlarda gelir, planlarımı, çabalarımı boşa çıkarırdı.

- 20 Aşağıdaki cümlelerin hangisinde üç nokta (...) işareti yanlış kullanılmıştır?

- A) Annesinin öğütleri bitmiyordu: Çalış, erken kalk, erken gel...
B) Sonra alabildiğine uzanan yemyeşil bir ova...
C) ... derken savaş alanında gezen İhsan Çavuş duyduğu bir iniltiyle durakladı.
D) Bundan böyle, ben bu evin hiçbir işine karışmam...

SORULAR

TEST 2

1

1
Seslenme ve hitap için kullanılan sözcüklerden sonra konur.

2
Tırnak içinde olmayan alıntı cümlelerinden sonra kullanılır.

3
Kendisinden sonraki cümleye bağlı olarak ret, kabul ve teşvik bildiren sözcüklerden sonra kullanılır.

Aşağıdaki cümlelerden hangisinde virgül (,) yukarıda verilen işlevlerinin dışında kullanılmıştır?

- A) Dostlar, lütfen beni dikkatlice dinleyin!
 B) Kafa karışıklığı iyidir, insan bir kafası olduğunu anlar, dedi.
 C) Gidip de gelmemek, gelip de görmemek var.
 D) Evet, seninle bu yolda yürümeye razıyım.

2 Aşağıda büyük harflerin kullanıldığı yerlerle ilgili bazı kurallar verilmiştir:

- Akrabalık bildiren kelimeler küçük harfle başlar.
- “Tanrı, Allah, İlah” sözleri özel ad olarak kullanılmadıklarında küçük harfle başlar.
- Dünya, güneş, ay kelimeleri gezegen anlamı dışında kullanıldıklarında küçük harfle başlar.
- Özel ada dâhil olmayan gazete, dergi, tablo vb. sözler büyük harfle başlamaz.

Bu kurallara göre;

- I. Türk Dili Dergisine üyeliğim bittikten sonra bir daha dergi üyeliği oluşturmadım.
 II. Köprüye kadar kendi dünyaları içinde ne tatlı, ne özlü konuşurlardı.
 III. İnsanlar tanrı rahmeti olan yağmurun yüzünü çoktan unutmuşlardı.
 IV. Hatırda kalan şey değişmez zamanla / Ne vefalı komşumuzdun sen Fahriye Abla!

cümlelerinden hangilerinde yazım yanlışı yapılmıştır?

- A) I ve II B) I ve III C) II ve III D) II ve IV

3 Güney Kutbu gezisindeki araştırmacılar midelerini kalbi yerine kullanan bir canlı keşfettiler. Bu deniz örümceği türünün, sindirim kanalını vücudundaki hücrelere oksijen taşımak için kullandığını farkettiler.

Normal örümcek ve böceklerde, genellikle, damar ve bizimki gibi bir kan yoktur. Bunun yerine, vücutlarını sanki bununla yıkar gibi hücrelere oksijen ve enerji dağıtan, hemolenf denilen bir madde vardır. Tüp şeklinde bir kalp, bu sıvının vücuttaki her yeri dolaşmasını sağlar. Deniz örümcekleri 10-12 bacağı sahiptirler, Akdeniz ve Karayip denizlerinde yaşarlar. Kutup okyanuslarında ise neredeyse 90 cm büyüklüğe kadar ulaşabilmektedir.

Bu parçada yer alan yazım yanlışları aşağıdaki değişikliklerden hangisi yapılarak giderilebilir?

- A) "keşfettiler" sözcüğü "keşif ettiler" şeklinde ayrı yazılmalıdır.
 B) "farketttiler" sözcüğü "fark ettiler" şeklinde ayrı yazılmalıdır.
 C) "Güney Kutbu" söz grubunda yer alan "Kutbu" sözcüğü küçük yazılmalıdır.
 D) "Kutup okyanuslarında" söz grubunda yer alan "okyanuslarında" sözcüğü büyük yazılmalıdır.

4 Öykülere adı verilen Dede Korkut; İslâm öncesi

Oğuzlarda ozan denilen şair, kâhin, hekim,

şaman... gibi özellikleri taşıyan bir kişiliğin, İslami-

yet'ten sonra da alperen diye anılan ve Anadolu'nun Türkleşmesinde büyük rolleri bulunan deriş - gazi kişiliğine geçişin örneğidir.

Yukarıda numaralandırılmış yerlerin hangisinde bir noktalama yanlışlığı yapılmıştır?

- A) I B) II C) III D) IV

5 ve 6. soruları aşağıdaki metne göre cevaplayınız.

Kızıl gezegen Mars (I) uzunca süredir popüler gök bilim gündeminde önemli bir yer tutuyor (II) Bunda Mars araştırmalarına yönelik çok sayıda (III) projenin ve bu projeleri tanıma etkinliklerinin kuşkusuz büyük payı var (IV) Ancak bunlarında ötesinde Mars artık insanlık için Dünya dışında kurulabilecek bir yaşama dair hayallerin sembolü hâline gelmiş durumda.

5 **Bu parçada numaralanmış ayrıçardan hangisine herhangi bir noktalama işareti getirilemez?**

- A) I B) II C) III D) IV

6 **Parçadaki altı çizili kelimelerden hangisinin yazımında yanlışlık yapılmıştır?**

- A) gök bilim B) bunlarında
 C) Dünya D) sembolü

7 **Aşağıdaki cümlelerden hangisinin sonuna soru işareti (?) getirilmelidir?**

- A) Bu konudaki kararı ne olacak, bilmiyorum
 B) İşin sonu nereye varacak, hep birlikte göreceğiz
 C) Beni gördü mü koş koş yanıma gelirdi
 D) Bunları yapması için ona kim yetki vermişti

- 8 Halit Ziya Uşaklıgil; Aşk-ı Memnu, Mai ve Siyah gibi romanlarında () Saray ve Ötesi () Kırk Yıl gibi hatıralarında insanı ve çevresini gözlemci olarak yalın bir anlatımla yansıtmıştır ()

Yukarıdaki metinde boş bırakılan yerlere sırasıyla gelebilecek en uygun noktalama işaretleri aşağıdakilerden hangileridir?

- A) (.) (-) (.) B) (-) (.) (;)
C) (;) (:) (.) D) (;) (.) (.)

- 9 Aşağıdaki cümlelerin hangisinde iki nokta (:) yanlış kullanılmıştır?

- A) Her zaman sepetinde yiyecek bulunurdu: elma, portakal gibi.
B) Aliye şaşkınlıkla sordu: Beni tanımadınız mı?
C) Ders zili çalarken öğretmen kızdı: Daha içeri girmediniz mi?
D) Maçın son saniyelerinin oynandığı anda: Doksan üçüncü dakikada, golü yedik.

- 10 Aşağıdakilerden hangisi kısa çizgi (-) işaretinin kullanım alanlarından biri değildir?

- A) Sözcüklerin kök ve ek ayrımında kullanılır.
B) Satır sonundaki sözcüklerin bölünmesinde kullanılır.
C) İkilemelerde sözcüklerin arasında kullanılır.
D) Ara sözlerin başında ve sonunda kullanılır.

- 11 - 13. soruları aşağıdaki metinlere göre cevaplayınız.

A

1522 (I) 1523 yıllarında (II) Kanuni Sultan Süleyman döneminde yapılmış olan Çengel han (III) ilk yıllarda kervansaray olarak kullanılmış. O dönem Ankara (IV) İpek yolu üzerinde çok önemli bir ticaret merkeziydi. Çengel Han da Han'lar Bölgesi diye bilinen bölgedeki en pahalı dört handan biriydi.

B

Üst kattaki odalar, yolculuk yapan tüccarların konaklaması için tasarlanmış. Alt katın orta kısmı pazar yeri olarak kullanılıyordu. Onun etrafındaki küçük odalarda dükkân olarak kullanılmış. En alt katta ise binek hayvanların bağlandığı develik denilen bölüm vardı. Ancak han olarak kullanımı 20. Yüzyıl başlarında sona ermiş ve ardından tiftik ve ham deri satışı yapılan bir toptancı merkezine dönüşmüştü.

- 11 A metnindeki numaralanmış ayrıçardan hangisine virgül işareti getirilemez?

- A) I B) II C) III D) IV

- 12 A metnindeki altı çizili sözlerden hangisinin yazımında yanlışlık yapılmamıştır?

- A) Çengel han B) kervansaray
C) İpek yolu D) Han'lar Bölgesi

- 13 B metnindeki numaralandırılan kelimelerin hangilerinde yazım yanlışı yapılmıştır?

- A) I ve II B) II ve III
C) I ve IV D) I ve III

14 Aşağıdaki cümlelerden hangisinde noktalama yanlışlığı yapılmamıştır?

- A) Adana'lı iş adamları toplantıda bir araya geldiler.
- B) Çok fazla çalışıyor, İngilizce sınavında başarılı olmak istiyordu.
- C) O'nun kararlı ve güçlü duruşu, milletimize cesaret vermiştir.
- D) İnsanı, büyüleyen bir renk cümbüşü yaratmış ressam.

15 Aşağıdaki cümlelerin hangisinde, ayrıca gösterilen yere iki nokta (:) konulmalıdır?

- A) Öyle bir insan ki () eksiklerimizi, yetersizliklerimizi açıkça gösteriyor.
- B) Televizyonda ölçüsüzlük dediğimiz şey () sanat haberlerinde olduğu gibi spor haberlerinde de kendini göstermiştir.
- C) Öğretmenlere düşen görevlerden biri de () öğrenciler arasındaki üstün yetenekli gençleri bulup yönlendirmektir.
- D) Bu olay onun şu iki yönünü açığa çıkarmıştır () eleştirilere karşı hoşgörüsüz olma ve duygularını denetleyememe.

16 Aşağıdaki cümlelerden hangisinin sonuna üç nokta (...) konulmalıdır?

- A) Her insanın bir öyküsü vardır ama her insanın bir şiiri yoktur
- B) İlk kez gurur duymuştu oğluyla, uzun boylu bu çocuğu hiç böyle görmemişti
- C) Ak saçlı, kısa boylu, elli beş yaşlarında bir adam masamıza oturmuştu
- D) Yaşama sınırsız tutunmak için sebep o kadar çok ki: denizin ışıltısı, çocukların masum bakışları, güllerin tomurcuğu

ÇIKMIŞ SORU

17 Ay ve gün adları belirli bir tarih bildiriyorsa büyük harfle, bildirmiyorsa küçük harfle başlar.

Bu açıklamaya göre,

- I. 2018'de ziyaret ettiğim Kuzey Ege'nin sevimli köyü Assos'u gezmek için Mart belki de en doğru zaman.
- II. Macar bir mimarın grafik resimlerinden oluşan "Türkiye'deki Macar İzleri" başlıklı sergi 2017'nin Eylül ayına kadar ziyaret edilebilecek.
- III. Şebiarus töreni için 15 Aralık çarşamba günü Konya'ya gideceğim.

cümlelerinin hangilerinde yazım yanlışı vardır?

- A) Yalnız I.
- B) Yalnız II.
- C) I ve III.
- D) II ve III.

18 Aşağıdaki cümlelerin hangisinin sonuna soru işareti konmaz?

- A) Ben de bu kitabı alayım mı bilmiyorum
- B) Ankaralı ya da İzmirli bir farkı var mı
- C) İstanbul'daki Yerebatan Sokağı'nı gördün mü
- D) Nereye giderdi, kimlerle arkadaşlık yapardı

19 Toplantımız 27 temmuz 2018'de Belediye Kültür Merkezi'nde Avukat Selim Özgören başkanlığında saat 15:00'da yapılacaktır.

Bu cümlede aşağıdakilerden hangisi ile ilgili yazım yanlışı yoktur?

- A) Saat ve tarihlerin yazımı
- B) Kurum ve kuruluş adlarının yazımı
- C) Eklerin yazımı
- D) Bağlaçların yazımı

SORULAR

TEST 3

1

I Bazı kısaltmaların sonuna konur.

II Sayılardan sonra sıra bildirmek için konur.

III Arka arkaya sıralandıkları için virgülle veya kısa çizgiyle ayrılan rakamlardan yalnızca sonuncu rakamdan sonra konur.

IV Saat ve dakika gösteren sayıları birbirinden ayırmak için konur.

Geçmişte Karamanoğlu Mehmet Bey'in uyandırdığı dil bilincinin 20. asırda Türk Dil Kurumunun da kurucusu olan Mustafa Kemal Atatürk tarafından devam ettirildiğini, 2017 yılına gelindiğinde ise dönemin cumhurbaşkanı tarafından aynı şuurun paylaşılarak Türk Dili Yılı ilan edildiğini söyledi. 12 Temmuz'un Türk Dil Kurumunun kurulduğu gün olduğunu belirten Prof. Dr. Gülsevin; Kurumun çalışmalarını o günden bu yana aynı özveriyle sürdürdüğünü, 1982'de Atatürk Kültür, Dil ve Tarih Yüksek Kurumu bünyesine dâhil edilmesiyle de durumun değişmediğini ve Türk dili çalışmalarının aksamadan devam ettiğini söyledi.

Bu metinde nokta, numaralanmış görevlerinden hangisiyle kullanılmamıştır?

- A) Yalnız I B) Yalnız II C) I ve II D) III ve IV

2 Aşağıdaki cümlelerin hangisinde büyük harflerin yazımıyla ilgili yanlışlık yapılmıştır?

- A) İnsanlar Tanrı nimeti olan kelimaları peygamberler aracılığıyla öğrenmişlerdir.
- B) Ama onlar da bu kaymakamın -Ali Bey'in- ne çetin ceviz olduğunu henüz bilmiyorlardı.
- C) Kim bilir, nene Hatun'u unutmak kadar nan-körce başka bir tavır var mıdır bu bölgede?
- D) Öğretmenler Günü bu yıl da sınıfımızda dolu dolu geçti.

3 Necip Fazıl'ın Sakarya adlı şiirinde, Sakarya nehri,

kardeşleri Tuna'yı ve Nil'i kaybettiği için yastadır. Su, ister durgun olsun, isterse aksın, geçmişin hafızası olmaya, toplayıp saklamaya devam etmektedir. Budin'in evleri, Peşte'nin ufukları, Tuna'nın Meriç'in hafızasında durmakta, aynasında yansımaktadır.

Bu parçada numaralanmış bölümlerin hangisinde yazım yanlışlığı yapılmıştır?

- A) I B) II C) III D) IV

4 Aşağıda büyük harflerin kullanıldığı yerlerle ilgili bazı kurallar verilmiştir:

- Düşünce, hayat tarzı, politika vb. anlamlar bildirdiğinde doğu ve batı sözlerinin ilk harfleri büyük yazılır.

UYARI: Bu sözler yön bildirdiğinde küçük yazılır.

- Yer adlarında ilk isimden sonra gelen ve deniz, nehir, göl, dağ, boğaz vb. tür bildiren ikinci isimler büyük harfle başlar.

Bu kurallara göre;

- Onun için batıda bunlara birer fonksiyon buluyorlar.
- Yol üzerindeki Boğazları işgal ederek ordunun başında bunları takip ediyordu.
- Gölün üstünde güneşin doğuşuna batışına, aylı gecelere doyum olmuyordu.
- Ancak ne var ki bugün Iodos değil de gün doğusu esiyordu.

cümlelerinden hangilerinde yazım yanlışı yapılmıştır?

- A) I ve II B) II ve III
C) I ve IV D) III ve IV

5 Kısaltmalarla ilgili bir çalışmada, kısaltmaların farklı yöntemlerle oluşturulduğu ifade edilmektedir. Bu yöntemlerden bazıları şunlardır:

- Her kelimenin ilk harfinin büyük olarak yazılmasıyla yapılır.
- Kelime veya kelime gruplarının kısaltılmasında, ilk harfle birlikte kelimeyi oluşturan temel harfler dikkate alınır.
- Bazen kelimelerin, özellikle son kelimenin birkaç harfi kısaltmaya alınır.

Aşağıdakilerden hangisi, bu metinde sözü edilen birinci öncüldeki yönteme göre oluşturulmuştur?

- A) cm² (santimetrekare)
B) TBMM (Türkiye Büyük Millet Meclisi)
C) Vet. (Veteriner)
D) ÇUKOBİRLİK (Çukurova Pamuk Tarım Satış Kooperatifleri Birliği)

6 Aşağıdaki cümlelerin hangisinde yazım yanlışı yoktur?

- A) Suya en baş köşeyi ayırmalarının nedeni de iyi suyun, hemen hemen memleketimizin dört bucağından fışkırmasıdır.
B) Burası o kadar ayak altı idi ki değme polis hafiyesinin aklına gelmezdi.
C) Gözlerini yumdu ve kendini ağır aksak seyreden bir rüyanın içinde buldu.
D) Akşam üstü salona çıktığında kapının altından atılmış bir bildiri buldu.

7 Kelimelerden her ikisi veya ikincisi, birleşme sırasında anlam değişmesine uğradığında bu tür birleşik kelimeler bitişik yazılır.

Aşağıdakilerin hangisinde bu kurala uyulmasından kaynaklanan bir yazım yanlışı vardır?

- A) Altın baş genellikle Ege bölgesinde yetişen, kabuklu güzel bir tür kavundur.
B) Cisimlerin ağırlığı yer çekiminin bir sonucudur.
C) İnsan tehlike karşısında ancak ana diliyle feriyat edebiliyor.
D) Düven tahtasının altına çakmak taşlarını yerleştiriyordu.

8 Aşağıdaki cümlelerin hangisinde "ki"nin yazımı yanlıştır?

- A) Belki bir sabah vakti, belki bir gece yarısı / Artık nefes almayı bırakıp gideceğiz.
B) Siz ki beni tanırırsınız, niçin böyle düşünüyorsunuz?
C) Ama o bir şey yapmamıştı ki onun hiç kabahati yoktu.
D) Şu ana kadar ki tüm toplantılarımızda bu meseleyi konuştuk ve çözümünü için uğraştık.

9

Görselde verilen kişilerden hangisinin atması olduğu tweette yazım yanlışı vardır?

- A) Kerim Akan ve Yakup Yavuz
- B) Niyazi Mercan ve Yakup Yavuz
- C) Yiğit Alp ve İremnur Demir
- D) Kerim Akan ve Yiğit Alp

10

(I) Şu an durduğum rafın önünde genelde yalnızca ben olurum. (II) Kitapçının sahibi Mükerrer Bey önemli bir işi yoksa “Yine mi yayımlamadı şah eserini köftehorlar?” diye yanıma gelir; sırtımı iki sıvazlar, saçlarımı eliyle dağıtıp “Olacak, olacak sakın vazgeçme!” der. (III) Her ayın son cuma akşamı tekrarlanır bu sahne. (IV) Yeni çıkmış bir kitabı raflarda bulamayan bir müşteri keyfimizi kaçırana değin, Mükerrer Bey’le dergilerin sayfalarını karıştırırız. (V) Bir şiirim ilk kez yayımlandığında yaşadığım mutluluğu, Mükerrer Bey’e sarılışımı, onunsa “Bunu ıslatalım evlat!” diyip bana oralet ismarlayışını hep anımsarım.

Bu parçada numaralanmış cümlelerin hangilerinde yazım yanlışı vardır?

- A) I ve III
- B) II ve V
- C) III ve IV
- D) III ve V

11

Düzeltilme işareti; nispet ekinin, belirtme durumu ve iyelik ekiyle karışmasını önlemek için kullanılır.

Buna göre aşağıdaki cümlelerin hangisinde düzeltilme işaretinin kullanımıyla ilgili yanlıştır?

- A) Herkes, vicdan, dinî inanç ve kanaat hürriyetine sahiptir.
- B) Fizik ilmi mekanik, ısı, ışık, elektrik ve manyetizma bölümlerine ayrılır.
- C) Kâmuran hemen hemen resmî tavırla hafifçe eğildi.
- D) Sonra subay salonunda, askerî okul yargıcının karşısına çıkardılar.

12

- I. Kapının zincirini salıvererek kanadı arkasına kadar açtı.
- II. Bunun içindirki dal budak saldı, yemiş vermeye başladı.
- III. Bir takım resmi sıfatlı insanlar onun varlığını lüzumsuz ilan ettiler.
- IV. Gece sabaha kadar düşündüğü şeyleri babasına anlatmak isterdi.

Numaralanmış cümlelerin hangisinde yazım yanlışı yoktur?

- A) I
- B) II
- C) III
- D) IV

13 Ellilerin sonu yahut altmışların başı olmalı. Bu fotoğrafta en solda, çizgili pijaması kendisine büyük olan, boyu arka taraftaki teyzenin çenesinin hizasına gelen oğlanın adı Ali. Ali, Kafkas cephesinin ne olduğunu biliyor muydu yahut Cemal Gürsel'in adını duymuşmuydu? Pek sanmıyorum. Zira babası Jandarma Hüseyin henüz "Almancı" olmamıştı, radyoları yoktu. Çıçıplak bozkırın ortasında idi Ali'nin köyü, garipde bir adı vardı: Tatar-yeğenağa.

Bu parçada aşağıdakilerden hangisiyle ilgili bir yazım yanlışı yoktur?

- A) Büyük harflerin yazımı
- B) Soru edatının yazımı
- C) Bağlaç olan "de"nin yazımı
- D) Birleşik sözcüklerin yazımı

14

- Ali'nin hikâyesi, Mehmet Akif'in "Hasta" şiirindeki şu dizeyi getiriyor aklıma: "Bence doktor onu siz bir de soyarak dinleyiniz / Hastalık çünkü değil öyle ehemmiyetsiz."
- Yeni ev, Rüstem Efendi'ye kiraya verildi.
- Yaz Yağmuru'nu ilkin 1995 Aralık'ta okudum ama sonrasında 2-3 defa daha okumuşumdur.

Bu cümlelerde kesme işaretinin (') aşağıdaki işlevlerinden hangisinin örneği yoktur?

- A) Özel adlara getirilen iyelik, durum ve bildirme ekleri kesme işaretiyle ayrılır.
- B) Kişi adlarından sonra gelen saygı ve unvan sözcüklerine getirilen ekleri ayırmak için konur.
- C) Belirli bir tarih bildiren ay ve gün adlarına gelen ekleri ayırmak için konur.
- D) Sayılara getirilen ekleri ayırmak için konur.

15 **Aşağıdakilerin hangisinde satır sonu hece bölünmesi yanlış gösterilmiştir?**

- A)band-rol ...
- B)müdafa-a ...
- C)Mersin'in ...
- D)ilko-kul ...

16

- I. Arka arkaya sıralandıkları için virgülle veya çizgiyle ayrılan rakamlardan yalnızca sonuncu rakamdan sonra konur.
- II. Uzun cümlelerde yüklemden uzak düşmüş olan özneyi belirtmek için konur.
- III. Ögeleri arasında virgül bulunan sıralı cümleleri birbirinden ayırmak için konur.
- IV. Cümle içinde virgüllerle ayrılmış tür veya takımları birbirinden ayırmak için konur.

Numaralanmış cümlelerde aşağıdaki noktalama işaretlerinden hangisine ait bir özellik verilmemiştir?

- A) Nokta
- B) Virgül
- C) İki nokta
- D) Noktalı virgül

17

Ömer Seyfettin () in önerilerinden sonra Türk kültür hayatımızda iki büyük kültür hareketi gerçekleşmiş () önce Harf Devrimi (1928) ardından Dil Devrimi (1932) yapılmış () Türk Dil Kurumu kurulmuş () sözlük çalışmaları başlatılmış, mesele artık devlet katında dile getirilmeye başlanmıştır.

Aşağıdaki noktalama işaretlerinden hangisi bu cümledeki yay ayrıçlardan herhangi birinde kullanılamaz?

- A) İki nokta
- B) Noktalı virgül
- C) Virgül
- D) Kesme işareti

SORULAR

TEST 4

1 - 3. soruları aşağıdaki metinlere göre cevaplayınız.

A

Herkesin kendisine yakın bulduğu ressam () yazarlar () şairler () besteciler vardır. Zamanla bunlar değişir () bunların yerini yenileri alır. Sonra onlar da değişir. Sanatta ölene değin bir yapıya ya da sanata bağlı kalmaktan söz edilemez. Hatta zaman zaman, yaşamda olduğu gibi sanatta da () Ben bu yazarın, bu ressamın nesini sevmişim () () diye eski bir aşka dudak bükülebilir.

B

Cimriliğiyle tanınmış İskoçların sınavları da ilginçtir () İskoçya'da polis okulundaki sınavda polis adayına "Büyük bir olay çıktı. Kalabalık birbirine giriyor () silahlar patlıyor. Bu olayda halkı nasıl dağıtırsın ()" diye sorarlar. Genç polis adayı () Hemen boynuma bir kutu asar, bağış toplamaya başlarım. () cevabını verir.

C

Yeni () bilmediğim bir çevrede her şeyi sil baştan keşfedecektim () kelimeleri, sesleri, eşyaları, insanları () İzmir'de sonbahar bitmek bilmiyordu. İnanılmaz irilikte bir güneşin () batıya devrilirken karabatakların teyellediği körfezi kana boyadığını görüyorum () Yumuşak bir rüzgâr camları okşamaktadır. Yıldız yağmurları beni şaşırtıyor. Hele sabaha karşı ayın, bir mavi ve yeşil çılgınlığı ortasında battığını görmek () Ne kadar mutluydum, anlatamam ()

1 A metnindeki boş ayrıtlara sırasıyla aşağıdaki noktalama işaretlerinden hangileri getirilmelidir?

A) (.) (.) (.) (.) (") (?) (")

B) (.) (;) (.) (...) (") (?) (")

C) (;) (.) (.) (.) (") (.) (")

D) (.) (...) (.) (.) (?) (.) (.)

2 B metnindeki boş ayrıtlara sırasıyla aşağıdaki noktalama işaretlerinden hangileri getirilmelidir?

A) (!) (.) (?) (-) (-)

B) (...) (.) (?) (") (")

C) (.) (;) (!) (") (")

D) (.) (.) (?) (") (")

3 C metnindeki boş ayrıtlara sırasıyla aşağıdaki noktalama işaretlerinden hangileri getirilmelidir?

A) (.) (;) (...) (.) (.) (...) (!)

B) (;) (;) (...) (.) (.) (!) (.)

C) (.) (;) (.) (.) (.) (...) (...)

D) (.) (;) (...) (.) (.) (.) (!)

4 Aşağıdaki öğrenci yazılarının hangisinde hiç yazım yanlışı yapılmamıştır?

A)

Her dilin sözcüklerinde, toplum yaşamında kullanılması gerekli yada gelenek olan ve dilbilimle ilişkili sözleri yada kalıp sözler olarak adlandırılan "günaydın, teşekkür ederim" gibi sözler bulunmaktadır.

B)

Sanatkâr olmayan insanlarda kelimeleri bir örgü içinde kullanırlar. Dil tek tek kelime değil kelimeler arasında kurulan bir örgüdür. Dilin asıl tadında bu örgü içinde varabiliriz.

C)

Cami avlusunda, abdest almak için düzenlenmiş sabit tabureler ve onların önündeki musluklardan şırıl şırıl akan sular buz gibiydi.

D)

Birden gövdesini şımartmış olduğunu farketti. Onun isteklerine boyun eğdiği sürece sorun çıkmıyordu. Ama onun taleplerine karşı koyduğunda çekişme başlıyordu.

5 Kısaltmalarla ilgili bilgi verilen bir metinde, kısaltmaların farklı yöntemlerle oluşturulduğu dile getirilmiştir. Bu yöntemlerden bazıları şöyle sıralanmıştır:

- Numara sözünün kısaltması da kelime gibi okunduğundan getirilecek olan ek okunuşa göre getirilecektir.
- Sert ünsüzle biten kısaltmalar, ek aldıkları zaman okunuşta sert ses yumuşatılmaz.
- Sonunda nokta bulunan kısaltmalarla üs işaretli kısaltmalara gelen ekler kesmeyle ayrılmaz. Bu tür kısaltmalarda ek noktadan ve üs işaretinden sonra, kelimenin veya üs işaretinin okunuşuna uygun olarak yazılır.

Aşağıdakilerden hangisi bahsedilen metinde sözü edilen kısaltma kurallarından birine aykırı olarak yazılmıştır?

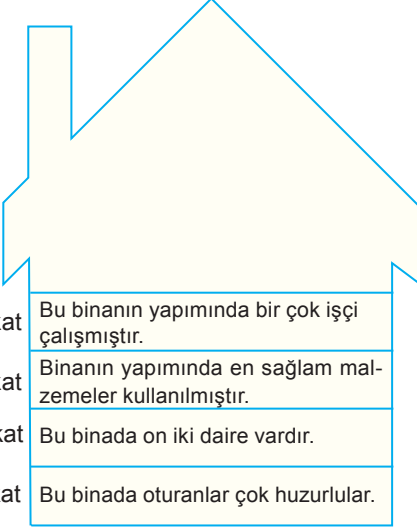
A) Alm.dan

B) vb.leri

C) RTÜĞ'e

D) No.lu

6



4. kat	Bu binanın yapımında bir çok işçi çalışmıştır.
3. kat	Binanın yapımında en sağlam malzemeler kullanılmıştır.
2. kat	Bu binada on iki daire vardır.
1. kat	Bu binada oturanlar çok huzurlular.

İnşaat Mühendisi Aykut Bey, yaptığı binayla ilgili bazı bilgiler vermiştir.

Buna göre kaçınıcı kattaki açıklamada yazım yanlışı vardır?

- A) 1. B) 2. C) 3. D) 4.

7 Aşağıdaki cümlelerin hangisinde bir yazım yanlışı yoktur?

- A) Annem bana süpriz bir hediye aldı.
 B) Orjinal ürünler almaya gayret edelim.
 C) Sınav klavuzu yayımlanmış, diyor.
 D) Kravatını takip derse girdi.

8 Aşağıdaki cümlelerin hangisinde bir yazım yanlışı yoktur?

- A) Amcam, 20 Temmuz 1970'de doğmuş.
 B) Saat 11.30'da sizi bekliyorum.
 C) 10 haziran Cuma günü sınavım var.
 D) Dicle nehri boyunca dolaştık.

9

Dört yaşındasınız ve size bir çikolata veriliyor. Ancak çikolatayı hemen yemez ve beklerseniz daha büyük bir çikolata kazanacağınız söyleniyor. Ne yaptınız? Daha büyük bir çikolata için beklemiydiniz yoksa "Küçük de olsa tadını çıkarırım." deyip yermiydiniz? Çok basit gibi görünsede bir çocuğun böyle bir durumda sergileyeceği davranış, yaşamının geri kalanında başarılı olup olmayacağı hakkında çok önemli ip uçları veriyor.

Bu parçada aşağıda verilenlerden hangisiyle ilgili bir yazım yanlışı yoktur?

- A) Birleşik kelimelerin yazımı
 B) Bağlaçların yazımı
 C) Soru ekinin yazımı
 D) Sayıların yazımı

10 Aşağıdaki cümlelerden hangisinde "birleşik fiillerin yazımı" ile ilgili bir yazım yanlışı vardır?

- A) Yaşlı kadına yardım etmeliyiz.
 B) Kedim geçen hafta kayıp oldu.
 C) Uzun zaman önce onu terk etmiş.
 D) Teklifimizi yine reddetti.

11 1918 İspanyol Gribi pandemisi bir seneden az zamanda 40 ila 100 milyon civarında insanın yaşamını yitirmesine sebep olmuştur. Bu rakam I. Dünya Savaşı'ndan ölenlerden çok daha fazladır. Daha sonraki yıllarda yaşanacak olan 1957 pandemisinde %0,02-%0,003 ve 1968 senesinde %0,01-0,02 dolaylarında olan ölüm oranı, 1918'de %2,5'idi.

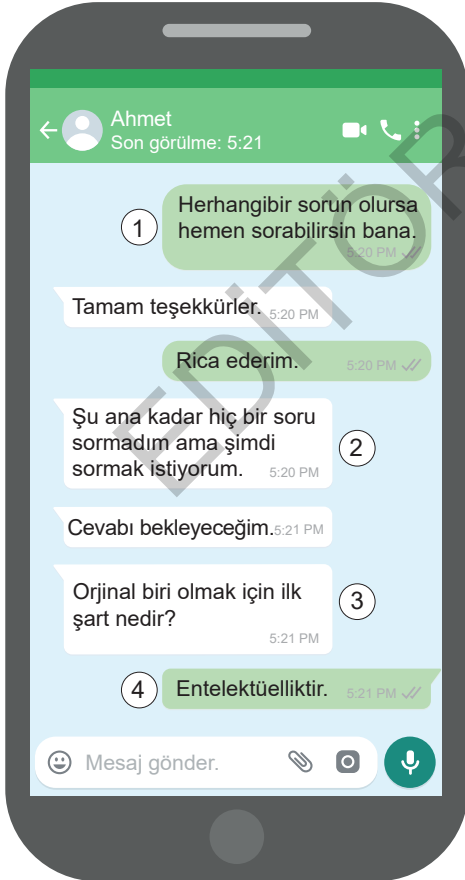
Bu parçada, aşağıda işlevi verilen noktalama işaretlerinin hangisinin örneği yoktur?

- A) Kısaltmalara getirilen ekleri ayırmak için kesme işareti konur.
 B) Sayılardan sonra sıra bildirmek için nokta konur.
 C) Arasında, ve, ile, ila, ...-dan, ...-e anlamlarını vermek için kelimeler veya sayılar arasında kısa çizgi kullanılır.
 D) Anlam olarak tamamlanmış cümlelerin sonuna nokta konur.

12 Aşağıdaki cümlelerin hangisinde bir yazım yanlışı yoktur?

- A) Minik kedisi "boncuk" kaybolmuş.
- B) Karanfil caddesinde yeni bir dükkân açmış.
- C) Iraklı çocuklar ülkemizi ziyarete gelecek.
- D) Sosyal sigortalar kurumuna dilekçe yazdım.

13



Bu yazışmada numaralanmış bölümlerin hangisinde bir yazım yanlışı yoktur?

- A) 1
- B) 2
- C) 3
- D) 4

14

- I. Sabahleyin 08.30'da görüşelim.
- II. Gerçekleri Mehmet Bey'den öğrendik.
- III. İzmirli bir tanıdığımız vardı.
- IV. Türkiye'nin Kuzeyi ormanla kaplıdır.

Yukarıdaki numaralandırılmış cümlelerin hangisinde bir yazım yanlışı vardır?

- A) IV
- B) III
- C) II
- D) I

15 Aşağıdaki cümlelerin hangisinde virgül kaldırılsa cümlenin anlamı değişir?

- A) Kitap, yazarını kısa sürede meşhur etti.
- B) Kardeşim, yeni aldığı oyuncacı çok seviyor.
- C) Misafirler, bizde üç gece kalacakmış.
- D) Yaşlı adam, fırının önünde otobüs bekliyor.

16 Zehra: "Urfa'ya, peygamberler şehrine, yarın gideceğim." Bu cümlede virgül ara sözü belirtmek için kullanılmıştır.

Metin: "Çocuk, kıyafetlerini dolabına güzelce koydu." Bu cümlede virgül anlam karışıklığını gidermek için kullanılmıştır.

Zeynep: "Kır atın yanında duran ya huyundan ya suyundan ..." Üç nokta tamamlanmamış bir cümlenin sonunda kullanılmıştır.

Mert: "Arkadaşım sınıfın en zeki (!) öğrencisidir." Ünlem işareti; heyecan, korku bildirmek için kullanılmıştır.

Hangi öğrencinin verdiği bilgi ile kullandığı cümle uyuşmamaktadır?

- A) Mert
- B) Zeynep
- C) Metin
- D) Zehra

ÇIKMIŞ SORU

17 1897 yılının Nisan ayı başlarında Ömer Şevki bey, oğlunu o günlerde subay çocukları için açılan Eyüp Sultan Askerî lisesinde özel bölüme yatılı olarak yerleştirir. Yeni usule göre öğretim yapılan bu okul da eğitim dili Fransızcaydı.

Bu metinde aşağıdakilerin hangisiyle ilgili bir yazım yanlışı yapılmamıştır?

- A) Kişi adlarından önce ve sonra gelen unvanlar, saygı sözlere
B) Belli bir tarih bildiren ay ve gün adları
C) Bulunma durum eki "-da, -de"nin yazımı
D) Kurum, kuruluş ve kurul adları

18

- I. Çetin oniki yaşına girdi.
II. TBMM'ne dilekçe vereceğim.
III. 1973'de büyük bir deprem olmuş.
IV. Rüzgâr kuzeydoğudan esiyor.

Yukarıdaki numaralanmış cümlelerin hangisinde altı çizili sözcük doğru yazılmıştır?

- A) I B) II C) III D) IV

19 **Aşağıdaki cümlelerin hangisinde bir yazım yanlışı vardır?**

- A) Masamdaki bardağı kim aldı?
B) Yerdeki çöpleri temizlemelisin.
C) Oysaki ben seni çok özlemiştim.
D) Biliyorumki sende beni çok özlemişsindir.

20 ve 21. soruları aşağıdaki metinlere göre cevaplayınız.

A

İnsan oğlunun on iki bin yıldan daha uzun bir

I II

süreden beri koruyucusu, yardımcısı, arkadaşı, sırdaşı, kahramanı ve can dostu olan köpekler; kendilerine yöneltilen sevgiye ve ilgiye yüksek

III

sadakatle karşılık verir.

IV

B

Bu canlılarla insanlar arasındaki bağ o kadar kuvvetlidirki köpekler sahiplerinin birtakım şeylerden

I

II

rahatsız ve huzursuz olduğunu hatta bazen hasta olduklarını onlardan çok daha önce hisseder. Fizik-

III

sel ve duygusal olarak insanların birçok ihtiyacını karşılayan köpekler, artık başarılı bilimsel çalışmalara da katkı sağlıyor.

IV

20 **A metnindeki altı çizili ifadelerin hangisinde yazım yanlışı yapılmıştır?**

- A) I B) II C) III D) IV

21 **B metnindeki altı çizili ifadelerin hangisinde yazım yanlışı yapılmıştır?**

- A) I B) II C) III D) IV

SORULAR

TEST 5

1 - 4. soruları aşağıdaki metinlere göre cevaplayınız.

A

Bisiklet turu, yapanın anlatamadığı, yapmayanın tam olarak anlayamadığı bir şeydir. Gezi tecrübeleriyle ilgili yeni ve özgün bir şey söylemek ne kadar zor! Avcı toplayıcı ilk insandan konargöçer atalarımıza, İbni Batuta'ya, Marco Polo'ya, Evliya Çelebi'den modern gezginlere kadar binlerce seyahatname yazarı, içlerindeki coşkuyu, yolda olmalarının nedenini ve yaşadıkları olağan üstü anları ne derece kelimelere dökebilmiştir ki!

B

Shakespeare'in dediği üzere () Hayat bir oyun sahnesi! () Biz bu sahnede figüran olmak yerine baş rolde oynamayı ve uzun metraj bir yol filmi çekmeyi tercih ettik () İş () ev () alışveriş üçgeninde geçen hayatımızda hayaller hep erteleniyordu () 2005 yılında bu tekere bir çomak soktuk. Tüketim çılgınlığına ara verip dünyaya olan borcumuzu ödemek için ulaşım araçlarının en masumu olan bisikletle yollara düştük. Bu seçim kendi kendini gerçekleştiren bir kehanet oldu. Önce Akdeniz sonra Karadeniz sahillerinde döndü tekerleklerimiz.

C

Türkiye turlarından sonra hayallerimizi süsleyen ve az sonra okuyacağınız satırların da konusu olan İran-Pakistan-Hindistan-Nepal rotasındaydı gözümüz. Doğu Beyazıt'tan Pokhara'ya uzanan bu yolculuğumuzda topraklarından geçtiğimiz 5 ülkede sadece bedenimizi değil, ruhumuzu da uzun bir seyahate çıkardık. İnsanlığın yazgısına tanık olduk. Daha yola çıkmadan günlüklere dökülmeye başladı bilinçaltımızda harmanlanan düşünceler, duygular. Hüzün-mutluluk, yoksulluk-zenginlik, huzur-endişe her ülkede kılık değiştirerek farklı yüzleriyle tekrar tekrar çıktı karşımıza.

1 A metnindeki altı çizili ifadelerin hangisinde yazım yanlışı yapılmıştır?

- A) I B) II C) III D) IV

2 B metnindeki boş ayraçlarla belirtilen yerlere sırasıyla aşağıdaki noktalama işaretlerinden hangileri getirilmelidir?

- A) (") (") (.) (.) (.) (.)
B) (;) (") (.) (") (.) (!)
C) (") (") (;) (.) (.) (...)
D) (;) (") (") (.) (.) (.)

3 B metnindeki altı çizili kelimelerin hangisinde yazım yanlışı yapılmıştır?

- A) I B) II C) III D) IV

4 C metnindeki altı çizili sözlerde kullanılan kısa çizgi işaretinin kullanılış amacı aşağıdakilerden hangisidir?

- A) Cümle içinde ara sözleri göstermek
B) Kelimelerin kökleri, gövdeleri ve eklerini birbirinden ayırmak
C) Eş görevli sözleri sıralamak
D) "ve, ile" anlamında, birbiriyle ilgili sözleri belirtmek

5 - 7. soruları aşağıdaki metne göre cevaplayınız.

Her ulusun atasözleri kendi varlığının ve benliğinin aynasıdır. Atasözlerinde bir ulusun düşünceleri, yaşayışı, inanışları ve geleneklerine dair her şey görülebilir.

Atasözleri ulusların zekâlarındaki keskinliği, hallerindeki genişliği, duygularındaki inceliği gösteren

en değerli örneklerdir. Bu sözler derin manalardan başka güzel buluşlarla, parlak nüktelerle, ince alaylarla, sert taşlamalarla doludur. Böylece her atasözü kendi ulusunun damgasını taşır.

Aynı zamanda atasözleri, hayatla iç içedir. Hayattaki tecrübelerin kısa ve özlü olarak söze dökülmesidir. Biz Türkler () () Gülü seven dikenine katlanır () () deriz () Fransızlar bu atasözünün eş anlamlısı olarak “Beni seven köpeğimi de sever.” şekliyle Türkçe'ye aktarılan bir söz kullanırlarmış.

5 Metindeki altı çizili kelimelerden hangisinde bir yazım yanlışı yapılmıştır?

- A) I B) II C) III D) IV

6 Metinden seçilen “Atasözlerinde bir ulusun düşünceleri, yaşayışı, inanışları ve geleneklerine dair her şey görülebilir.” cümlesindeki virgül işaretinin kullanılış amacı aşağıdakilerden hangisidir?

- A) Cümledeki öğelerden birini belirgin hâle getirmek
B) Bir sözün vurgu değerini artırmak
C) Eş görevli kelime ve kelime gruplarını sıralamak
D) Ara sözleri cümle yapısı içinde göstermek

7 Metinde boş ayraçlarla belirtilen yerlere sırasıyla aşağıdaki noktalama işaretlerinden hangileri getirilmelidir?

- A) (:) (“) (.) (“) (!)
B) (;) (“) (.) (“) (...)
C) (.) (“) (.) (“) (.)
D) (.) (“) (.) (“) (...)

8 Bugün döndüm Ankara'ya. Yine dokuz saat motorlu tren (1) yine yorgunluk, yine gürültü (2) İnsan trende ne yapacağını bilemeyince vakit geçirmek için boyuna kahve içiyor (3) şunu bunu yiyor. Sinirlerinin bozulduğu yetmiyormuş gibi midesini de bozuyor. Birkaç gün sonra bir daha gideceğim İstanbul'a (4) yine bir hafta kalacağım. O yorgunluğu düşünüyorum da şimdiden ürperiyorum.

Yukarıdaki parçada numaralanmış ayraçlardan hangisine diğerlerinden farklı bir noktalama işareti getirilmelidir?

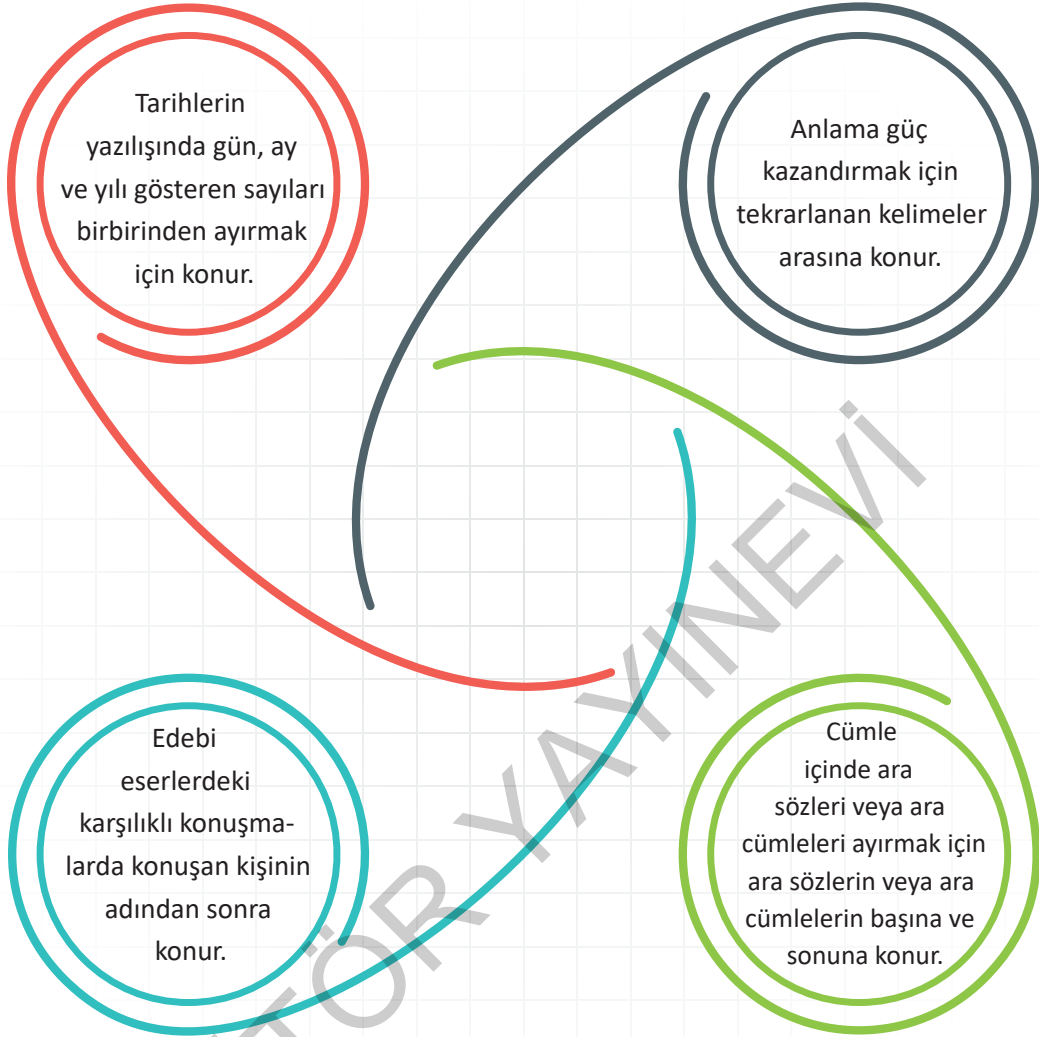
- A) 4 B) 3 C) 2 D) 1

9 Cahiller üçe ayrılır () bilmeyenler () bildiğini zannedenler ve yanlışında diretenler ()

Yukarıdaki cümlede parantezlerle () belirtilen yerlere sırasıyla aşağıdaki noktalama işaretlerinden hangileri getirilmelidir?

- A) (.) (.) (.) B) (:) (.) (...)
C) (:) (:) (.) D) (:) (.) (.)

10



Numaralanmış cümlelerde aşağıdaki noktalama işaretlerinden hangisine ait bir özellik verilmemiştir?

- A) Virgül B) İki nokta C) Nokta D) Noktalı virgül

11

- Anlatım olarak tamamlanmamış cümlelerin sonuna konur.
- Kaba sayıldığı için veya bir başka sebepten dolayı açık yazılmak istenmeyen kelime ve bölümlerin yerine konur.
- Alıntılarda başta, ortada ve sonda alınmayan kelime veya bölümlerin yerine konur.

Üç nokta (...) aşağıdaki cümlelerden hangisinde bu işlevlerinin dışında kullanılmıştır?

- A) ...derken ancak gece yarısı varabildik.
- B) Bu işin ... çıktı ben sana söyleyeyim.
- C) Düğün el ile harman yel ile...
- D) – Yabancı yok!
– Kimsin!
– Ali...
– Hangi Ali?

ÇIKMIŞ SORU

- 12 (I) Çayın hikâyesi yaklaşık beşbin yıl evvel Çin'de başladı. (II) Efsaneye göre İmparator Shen Nung bir öğle istirahatindeyken hizmetkârları, içmesi için ona bir kaptı su kaynatıyorlardı. (III) Bu sırada tatlı bir rüzgâr, sıcak suya birkaç çay yaprağı düşürdü. (IV) İmparator, bu suyu içince öyle beğendi ki çay bir içecek olarak keşfedilmiş oldu.

Bu parçadaki numaralanmış cümlelerin hangisinde yazım yanlışı vardır?

- A) I B) II C) III D) IV

- 13 Aşağıdaki cümlelerin hangisinde ikilemelerin yazımıyla ilgili bir yanlışlık yapılmıştır?

- A) Gençlik yıllarımı hayal meyal hatırlıyorum.
B) Pırıl pırıl, güzel günler bizi bekliyor.
C) Sınav sonuçlarını açıkladığı an kalbim heyecandan kütküt atıyordu.
D) Şenliğe konu komşu davet edildi.

- 14 Aşağıdakilerden hangisinde büyük harflerin kullanımı ile ilgili yanlış bir bilgi verilmiştir?

- A) Tarihi belli, gün ve ay isimleri büyük harfle başlar.
B) Kitap, dergi isimleri büyük harfle başlar.
C) Kurum, kuruluş adları büyük harfle başlar.
D) Teyze, dayı, amca gibi akrabalık belirten sözcükler her zaman büyük harfle başlar.

- 15 Aşağıdaki dizelerin hangisinde "da/de"nin yazımıyla ilgili bir yanlışlık yoktur?

- A) Benimde bir zamanlar gençliğim vardı.
B) Gözüm de kulağım da hep sende olur.
C) Şiirlerim rüzgârdır uzak diyarlar da esen.
D) Hep yanımda otur, gönlüm de kal.

- 16 Tiyatro () sanatların en zevklisidir () yetenek gerektirir () Buna karşılık müzik hem ruhun gıdası hem de iyi bir öğretmendir ()

Yukarıdaki cümlede parantezlerle belirtilen yerlere sırasıyla aşağıdaki noktalama işaretlerinden hangileri getirilmelidir?

- A) (,) (:) (.) (.) B) (,) (:) (:) (:)
C) (:) (,) (.) (.) D) (,) (:) (.) (.)

- 17 Aşağıdaki cümlelerin hangisinin sonuna soru işareti getirilemez?

- A) Bu kadar hatayı nasıl yaptım bilmiyorum
B) Bütün işleri o beceriksiz mi yapmış
C) Seni ne kadar özlediğimi biliyor musun
D) Sabahtan beri ne kadar yol almıştık

- 18 Aşağıdaki cümlelerin hangisinde kısaltmaların yazımı ile ilgili bir yanlışlık yapılmıştır?

- A) Rektörler YÖK'teki toplantıya katıldı.
B) Sevdâ'nın babası TTK'da çalışıyor.
C) Birçok sanatçı TRT'de sahne almıştır.
D) TV'deki yarışmayı izledik.

- 19 Aşağıdaki cümlelerin hangisinde üç noktanın kullanımıyla ilgili bir yanlışlık yapılmıştır?

- A) ... ortam bir anda sessizleşti.
B) Yeni aldığımız eşyalar bugün geldi...
C) Akşam, yine akşam, yine akşam...
D) Dargınlıklar, kırgınlıklar, çatışmalar hepsi birden...

20

Sende git,
Sende unut,
Kimler unutmadığı?

Yukarıdaki şiirde kaç tane yazım yanlışı bulunmaktadır?

- A) 1 B) 2 C) 3 D) 4

21 Aşağıdakilerden hangisinde kısa çizgi yanlışı kullanılmıştır?

- A) Ankara-İstanbul arası üç saate indi.
B) "Okul-lar-da" sözcüğü hem çokluk eki hem de hâl eki almıştır.
C) Sınav 20-06-2020 tarihine ertelendi.
D) Türkiye-İngiltere maçının hangi kanalda yayınlanacağı hâlâ belli değil.

ÇIKMIŞ SORU

22 Shenzen şehri 1980'lerde uygulanmaya başlanan SEZ (Özel Ekonomik Bölge) projesiyle kurulmuş ve bu projeden sonra gelişmiş bir şehir. Shenzen sokaklarını adımlar ve teknolojik dünyanın enerjisini hissederken hep aynı tipler çıkıyor önünüze: düşlerinin peşinden koşan girişimciler, ilham peşindeki sanatçılar, kişilik arayışına çıkmış kayıp ruhlar...

Bu metindeki noktalama işaretlerinin işlevi aşağıdakilerin hangisinde yanlışı verilmiştir?

- A) İki nokta, kendisiyle ilgili örnek verilecek cümlelerin sonuna konmuştur.
B) Virgül, birbiri ardınca sıralanan eş görevli kelime ve kelime gruplarının arasında kullanılmıştır.
C) Yay ayraç, cümledeki anlamı tamamlayan ve cümlelerin dışında kalan ek bilgileri belirtmek amacıyla konmuştur.
D) Üç nokta, herhangi bir sebepten dolayı açık yazılmak istenmeyen kelime ve bölümlerin yerine konmuştur.

23 ve 24. soruları aşağıdaki metinlere göre cevaplayınız.

A

Türküler (I) şiirler (II) filmler (III) kitaplar (IV) Hepsi birer kapıdır içimizden uzaklara, uzaklardan içimize açılır. Yaşadığımız dünyada fakiri olduğumuz ve başka zamanlarda, mekânlarda bulduğumuz pek çok şeyi o dünyadan kelimelerle taşıyız kendi âlemimize.

B

İrlandalı şair James Clarence Mangan'a Türk
I
coğrafyasını hiç görmediği ve Türk'lerle hiçbir kan
II III
bağı olmadığı hâlde Türkçe şiirler yazdıran ancak
bu türden bir muhabbet, dostluk olsa gerek.
IV

23 A metninde numaralanmış ayraçlardan hangisine diğerlerinden farklı bir noktalama işareti getirilmelidir?

- A) I B) II C) III D) IV

24 B metnindeki altı çizili kelimelerin hangisinde yazım yanlışı yapılmıştır?

- A) I B) II C) III D) IV

METİN TÜRLERİ VE ANALİZİ

SORULAR

TEST 1

1 Anı; bir kişinin yaşadığı veya tanık olduğu olayları, üzerinden zaman geçtikten sonra anlattığı yazı türüdür.

Buna göre aşağıdaki metinlerden hangisi açıklaması verilen edebi türe örnek olabilir?

- A) Vecihi Hürkuş; 1914 yılında Türk havacılığının büyüklüğünü göstermek için İstanbul'dan Kahire'ye yapılan uçuşta Fethi, Nuri ve Sadık beylerin şehit olmalarından çok etkilenmiş ve Türk havacılığını yükseltmek amacı ile havacı olmaya karar vermiştir. Yeşilyurt Tayyare Makinist Mektebinden 1915 yılında mezun olmuştur. Uçak makinisti olarak Birinci Dünya Savaşı'nda Bağdat Cephesi'ne tayin edilmiştir. 2 Şubat 1916 tarihinde bir tecrübe uçuşunda gerçekleşen kazada yaralanarak İstanbul'a dönmüştür.
- B) İbni Sina, 980-1037 yılları arasında yaşadı. 57 yıl süren yaşamı boyunca hiç ara vermeden çalıştı. 14 yaşına geldiğinde birçok alanda bilgi sahibiydi. 21 yaşında, bulunduğu ülkenin en ünlü doktorlarından biri oldu. Yalnız tıp değil; mantık, din, psikoloji, ahlak, müzik, matematik, astronomi, fizik konularında da eserler verdi. 150'den fazla kitap yazdı. Bu kitaplar hâlâ kaynak olarak kullanılmaya devam ediyor.
- C) Ben Gönen'de doğdum. Yirmi yıldır görmediğim bu kasaba, düşümde artık bir serap gibiydi. O zaman genç bir yüzbaşı olan babamla her zaman önünden geçtiğimiz Çarşı Camisi'nin karşısındaki küçük, harap şadırvanı, içinde binlerce kereste tohumu yüzen nehirciği, bazen yıkanmaya gittiğimiz sıcak sulu hamamın derin havuzunu şimdi hatırlamaya çalışıyorum. (...)
- D) Annem bana ayağımla A harfini çizmeyi öğrettikten sonra bütün alfabeyi öğrenmeye karar verdim. O zamanlar çok zorlanıyordum. Çok iyi hatırlıyorum ki bir gün Peter'ın okul kitabında rastladığım bir kelimeyi öğrenmek için kendimi çok zorluyordum. Annemin yardımı olmadan o kelimeyi öğrenmek istiyordum. Çok uğraştım ve o kelimeyi ayağımla yazmayı başardım. Bir anda zafer çılgınlıkları atmaya başladım. Annem hemen yanıma koştu. Onayını almak için ona bakıyordum ama o öylece kalakalmıştı. Bana döndü ve gülümsedi. O gün yazmayı başardığım kelime "A-N-N-E" idi. Annem çok duygulanmıştı.

ÇIKMIŞ SORU

2 Bizim zamanımızda şiir, hayatımızın içinde yer alan ve ruhumuzu ince söyleyişleriyle besleyen bir türdü. Şiirin etkisi, on beş yirmi sene öncesine göre çok çok azaldı. İnternet üzerinden de dolaşıma girmesine rağmen şiirin etkisi azalmaya devam etmektedir. Bunun temel sebebi, hayatın bugünkü koşullarının heyecan, zevk, merak unsurlarını anlık duygular hâline getirmesidir. Şairin ilham aldığı bir melek yok artık! Melekler hayatımızdan çekildi! Onları hayatımızdan çekilmeye zorladık. Artık ilhamı, içi boş şeylerden alıyoruz.

Bu metnin yazıldığı türle ilgili aşağıdakilerden hangisi doğrudur?

- A) Bir kişinin başından geçen olaylar aktarılmıştır.
- B) Düşünceler bir olay örgüsü çerçevesinde dile getirilmiştir.
- C) Düşünceler kanıtlama amacı güdülmeden öznel bir üslupla ifade edilmiştir.
- D) Bir konuyla ilgili tespitler bilimsel gerçekliğe uygun olarak anlatılmıştır.

3



Aşağıdaki metinlerin hangisi bu görseli tam ve doğru olarak yansıtmaktadır?

- A) Havaalar gittikçe soğuyordu artık. Dağların yamaçları boydan boya sis ile kaplanmıştı. Havanın soğukluğu bu köyde yaşayan insanları henüz etkilememiş gibi görünüyordu. Serin suda ağ ile balık tutmaya çalışan kız çocukları mı dersin, sırasıyla dereye çırılçıplak atlayan çocuklar mı dersin hepsi havanın serinliğine inat oynuyorlardı. Evlerin ahşap balkonları, kiremit çatıları, sazlıkların yeşili, ağaçların sararmış yaprakları hepsi bir tablo gibiydi adeta. Köy halkı geçimini hayvancılıkla sağlıyordu. Çobanlık yapan Edward ise köpeğiyle birlikte derenin yanından ilerliyordu köye doğru.
- B) Sıcakların kendisini hissettirmesine daha vardı. Bazı dağ köylerinde huzurlu geçirdi bu zamanlar. Çocuklar, yaz sıcaklarının henüz gelmemiş olmasına ve suyun serinliğine aldırış etmeden bir bir atlıyorlardı dereye. Etraftaki sazlıklar yeşilin en güzel tonlarını gösteriyordu bize. Köy çocuklarının bazıları olta atmış balık tutuyor bazıları ise köprünün üzerinde bir yerlere yetişmeye çalışıyordu. Bir ara Hasan amcanın sesi işitilir gibi oldu. "Burada olta ile balık tutulur mu? Bu suyun akışına ancak ağ gerek." Suyun sesini de bahane ederek bu öğüde pek aldırış etmediler.
- C) Bahar gelmiş, bütün ağaçlar çiçeklenmişti. Çatısındaki kiremitleri dökülmüş, harabeye dönmüş evleri olan birkaç köyden biriydi burası. Yeşilin bütün tonları, mavinin bütün hissettirdikleri bu köydeydi. Çocukların neşe içerisinde oradan oraya koşuşturmaları; koyunların, tavukların çayırlıklarda otlamaları hepsi dağ yamaçlarıyla, derenin rengiyle, ağaçların rüzgârdaki dansıyla bütünleşmişti bu köyde. Suyun sesi diğer bütün sesleri bastırıyordu.
- D) Bu dağ evlerinin birçoğu henüz medeniyetle karşılaşmamış insanlarla doluydu. İnsanlar hâlâ kabile hayatı yaşıyorlardı. Evler; ağaçtan ve sazlardan yapılmış, bir rüzgârla yerle bir olacak gibiydi. Evlerin arka tarafından yükselen dağlar insanın içini ürpertiyordu. Kadınlar dere kenarında çamaşır yıkarken çocuklar yanı başlarında oyunlar oynuyorlardı. Sürüsü dağılan çoban ve köpeği bir yerlere yetişmek istercesine koşuyordu asma köprüden.

- 4 Bir sınıfta tam kırk çocuk dizili;
Bir kara tahta, üstünde bir üçgen;
Bir koca daire, sağır, çekingen;
Merkezi güm güm eder davul gibi.
Dilsiz, vatansız harfler küme küme,
Bekleşiir dururlar, azap içinde.

Bu dizelerde aşağıdaki söz sanatlarından hangileri kullanılmıştır?

- A) İntak - Kişileştirme
B) Benzetme - Tezat
C) Kişileştirme - Benzetme
D) Tezat - İntak

5 Aşağıdaki metinlerden hangisi yay araç içinde verilen türde yazılmamıştır?

- A) İnsanın kendi kendisi ile baş başa kalabilmesi öyle pek kolay işlerden değildir. Bir yandan toplumun tepkisini çekmek, öbür yandan kendi boşluklarına yuvarlanmak korkusu, birçok yazarı ne iseler öyle olmaktan alıkoymuştur. Bu bakımdan, yalnızlıkla kahramanlık bir gibidir. (Deneme)
- B) Savrulan otlar, çöpler yüzüne çarpıyor; gözlerine ve burun deliklerine kar taneleri giriyordu. Kan ter içinde kalmıştı küçük Mine. Bir yandan ateş gibi yanıyor, bir yandan da soğuk rüzgâr karşısında tir tir titriyordu. (Hikâye)
- C) Balıkçıların uğrak yeri olan adada iki uzun dalgakıranın tekneleri dalgalardan koruduğu büyük bir liman var. Karadeniz'de kötü hava koşullarında çaresiz kalan gemiler için ideal bir sığınak olan limanı balıkçıları da kullanıyor. Kefken Adası amatör su altı avcılarının da uğrak yeri. (Gezi yazısı)
- D) Arıların olmadığı bir dünyada yaşamak zorunda kaldığımızı düşünelim. Muhtemelen açlıktan ölmezdik ama çok sevdiğimiz bazı meyvelerden ve hem insanlar hem de hayvanlar için besin kaynağı olan bazı bitki türlerinden mahrum kalırdık ya da o bitkileri bulmakta çok zorlanırdık. (Fabl)

- 6 Kuzey Kutbu'nda son 9 ayda Türkiye kadar buzul eridi. Amerikan Havacılık ve Uzay Dairesi NASA'nın araştırmalarına göre Kuzey Kutbu'daki buzullar eskisinden daha hızlı eriyor. NASA'nın 2004 ve 2005 uydu verilerine göre Kuzey Kutbu'nun tüm yıl boyunca kalan daimî buzulları %14 oranında azaldı. NASA uzmanları bunun, Türkiye'nin yüz ölçümü kadar bir buzul kütlelerinin erimesi anlamına geldiğini belirtiyorlar.

Bu metnin türü aşağıdakilerden hangisidir?

- A) Haber yazısı
B) Biyografi
C) Anı
D) Deneme

- 7 Doğu Karadeniz yaylaları yemyeşildir, çayır çimenlerdir, ışıklıdır, soluk alınıp verilesidir. Kimi zaman boğucu olabilen, sıcağa karşı duran serinliğin evidir. Kimi zaman sisin yatağıdır. Burada yaylaya gününbirlik çıkmak, yemek yiyip birkaç saat geçirmek, kırlarında dolaşip eve dönmek yaylayı yaşamak değildir. Böylesine "yayladan yolcu geçmek" deriz biz. İşin bir başka yüzü şu ki yayladan ayrılmak da zordur, yaylaları anlatan bir yazıyı bitirmek de! Anlatacak ne çok şey var oysa... Son cümlelerimi yazmak için bir yayla evinin kapısının önüne oturdum. Biraz sonra yanıma küçük bir çocuk yaklaştı. Yaylada misafir olduğu giyim kuşamından belliydi. Söyleşmeye başladık. Üniversitede öğretim üyesi olan babası onu buraya, dedesinin yanına bir haftalık tatil için yollamıştı. Tam o sırada bir kuş öttü. Çocuk gözlerini kocaman açarak "Aaa, kapı çaldı!" dedi. İşte o zaman daha iyi anladım; geleceğimiz, çocuklarımız için ...

Bu metnin türü ile ilgili verilen bilgilerden hangisi yanlıştır?

- A) Gözlem gücüne dayanır.
B) Düşünceler kanıtlama amacı güdülerek nesnel bir anlatımla ifade edilir.
C) Anlatılanlar gerçektir, kurguya dayanmaz.
D) Gezilip görülen yerler edebî bir üslupla anlatılır.

8

Olay	Yaşlı bir adamın otobüs yolculuğu
Yer	Otobüs
Zaman	Öğleden sonra
Kişiler	Kadın ve çocuğu, yaşlı adam
Anlatıcı	1. kişi

Aşağıdaki metinlerden hangisi bu yapı unsurlarına uygun olarak kurgulanmıştır?

- A) Sınavı öğleden sonra saat 14.30'daydı. Sınavı yetişebilmesi için taksi ya da otobüs kullanması gerekiyordu ancak taksiye verecek parası yoktu. Otobüs de zaten durağa yanaşmıştı. Bir iki adım ilerledi. Önünde de bir anne ile çocuğu onların önünde de yaşlı bir çift vardı. Hepsini birlikte sırasıyla otobüse bindi.
- B) Vakit öğleyi epey geçmişti. Otobüse bineli birkaç saat olmuştu. Pencereden dışarıya bakmaktan canım sıkıldığından mıdır nedir, gözüm çaprazımda oturan kadın ve onun dört yaşlarındaki oğluna kaydı. Onları uzun süre izledim ve bunun farkına, çocuğun annesine "Bu dede bize neden bakıyor?" şeklindeki sorusundan sonra vardım. Çok utanmıştım hemen önümü döndüm ve bir daha da kafamı kaldırmadım.
- C) Öğleden sonra yetişmesi gereken bir toplantı vardı ancak etrafta hiç taksi yoktu. Mecburen otobüse bindi. Otobüsle giderken bir durakta yaşlı bir adam ve bir kadınla küçük çocuğu bindi otobüse. Ayakta kalmıştı ikisi de ama hiç kimse onlara yer verecek gibi gözüküyordu. Sonra kendisi kalktı. Hangisinin oturacağını merakla bekledi.
- D) Akşama doğru yani yemeğe yakın bir vakitte markete gittim ve kendime yemek yapmak için malzemeler aldım. Tam marketten çıkacaktım ki önümde bir kedi yavrusu gördüm. Kedi yavrusuna yaklaşmama fırsat kalmadan iki çocuk gelip onu kucakladı. Arka taraftaki -ayakta bile zor duran- yaşlı bir adama götürdüler. Çocuklar bana biraz yaklaşınca sordum onlara kediyi neden ona verdiklerini.

9

Aşağıda bazı söz sanatlarının açıklaması verilmiştir:

- Mübalağa (abartma); bir niteliği, olduğundan çok üstün veya aşağı gösterme sanatıdır.
- Tezat (karşıtlık), birbirine zıt kavram veya durumların bir arada kullanılmasıyla oluşan sanattır.
- İntak (konuşturma), insan dışındaki bir varlığın konuşturulmasıyla oluşan sanattır.

Aşağıdakilerin hangisinde, açıklaması verilen sanatlardan herhangi birine yer verilmemiştir?

- A) Kimdir bana gülümseyen yeşillik balkonundan?
Demek gecelerden sonra nihayet gün doğuyor.
Bir gülüşündür gençliğimi döndürdü yolundan;
Yanan şu alnım elinin gölgesiyle soğuyor.
- B) Güneş her akşam batıp her gün doğuyorsa
Çiçekler solup solup tekrar açıyorsa
En derin yaralar kapanıyorsa
En büyük acılar unutuluyorsa
Neden korkular hayatta söyleyin bana
- C) Gel benim sarı tamburam,
Sen ne için inilersin?
İçim oyuk, derdim büyük,
Ben anın'çin inilerim
- D) İstanbul'u dinliyorum, gözlerim kapalı
Önce hafiften bir rüzgâr esiyor;
Yavaş yavaş sallanıyor
Yapraklar ağaçlarda;

10

Çanakkale'nin Gelibolu ilçesine bağlı Ilgardere bölgesinde orman yangını çıktı. Çanakkale İskele Meydanı başta olmak üzere birçok noktadan görülen yangın nedeniyle dumanla kaplanan Çanakkale Boğazı, çift yönlü trafiğe kapatıldı. Yoğun dumanların yükseldiği bölgede Orman Bölge Müdürlüğü ekiplerinin söndürme çalışmaları sürüyor. Yangın rüzgârın etkisiyle Gelibolu'daki tarihi alanlara yaklaşıyor. Tarım ve Orman Bakanı; yangına 2 amfibik uçak, 20 helikopter, 107 arazöz, 7 dozer 400 personelle müdahale edildiğini açıkladı. Helikopter filosunun büyük kısmının bölgeye gönderildiğini kaydeden Bakan, gelişmeleri yakından takip ettiklerini söyledi.

Bu metnin türü aşağıdakilerden hangisidir?

- A) Deneme
B) Gezi yazısı
C) Haber yazısı
D) Hatıra

ÇIKMIŞ SORU

- 11 I. Başınız ağrıyorsa “Kendinizi hangi konuda yargılıyorsunuz, uğraşıp baş edemediğiniz düşünceleriniz nelerdir?” sorularının cevabını bulmalısınız. Baş ağrılarının çoğu kendini acımasızca eleştirme, öz güven kayıpları ve kişinin, yaptığı her şeyi değersiz görmesiyle ilgilidir.
- II. Migren türü baş ağrısı kendine ve her şeye kızan, oldukça mükemmeliyetçi olan, kendilerine acımasızca baskı yapan kişiler tarafından yaratılır. Migrende, yoğun olarak bastırılmış kızgınlık vardır.
- III. Boyun fitiği ve ağrıları; düşüncelerimizde esnek olmamak, yaşadığımız sorunların öteki yüzünü görememek, başka bir kişinin bakış açısını anlayamamaktan kaynaklanır.
- Bu üç metinden çıkarılabilecek ortak sonuç aşağıdakilerden hangisidir?**
- A) Vücuttaki ağrıların temel nedeni öfke duygusunun bastırılmasıdır.
- B) İyi bir dinlenme, stresin neden olduğu tüm hastalıklardan kurtulabileceğimiz ideal bir süreçtir.
- C) Olumsuz duygu, düşünce ve tutumlar bazı hastalıklara yol açar.
- D) Her şeyi en iyi şekilde yapma çabası vücut sağlığını tehdit eder.

12 **Aşağıdaki metinlerin hangisinde olay birinci kişinin ağzından anlatılmıştır?**

- A) Kadın ayağa kalktı, pencereye doğru yürüdü. Açık olan pencereden uzaklara baktı uzun uzun. Derin derin düşündü.
- B) Avcı, sevinç içinde gizlendiği yerden çıktı. Onu gören güvercinler kurtulabilmek için çırpındı fakat onların bu çabaları boşa gitti.
- C) Yaşlı adam, kapıyı açtı, etrafa baktı; kimseyi göremedi. “Zile basan çocuklardır.” diye düşünüp konağa geri döndü.
- D) Konser başlamadan salondaki yerimizi aldık. Herkes gibi biz de büyük bir heyecanla konserin başlamasını bekliyorduk.

- 13 Bir gün aslan kırdı uyuyormuş. Bir ara sırtında bir şeyin gezindiğini hissetmiş. Pençesini atınca üzerinde gezen şeyi yakalamış. Bu, ufacık bir fareymiş. Fare yalvarmaya başlamış:

– Ne olur beni bağışlayın efendim! Belki günün birinde ben de size bir iyilikte bulunurum. Aslan bu söze gülmüş:

– Ama senin bana ne yardımın olabilir ki? Gülerim doğrusu, deyip fareyi salıvermiş.

Günün birinde aslan, ormanda gezinirken bir tuzağa düşmüş ve ağlar içinde kalmış. Aslanın kükremesini duyan fare hemen gelmiş. Dostunun tuzağa yakalandığını görünce üzülmüş ve:

– Siz hiç üzülmeysin ben şimdi dönerim, diyerek oradan uzaklaşmış. Fare, dostlarını toplayıp aslanın yanına gelmiş. Fareler hep birden ağın iplerini kemirmeye başlamış ve aslanı tuzaktan kurtarmış.

Yukarıdaki metnin türünde yazılan yazılarda ağırlıklı olarak hangi söz sanatına yer verilir?

- A) İntak
B) Teşhis
C) Mübalağa
D) Benzetme

14 **Aşağıdaki parçaların hangisinde olaylar üçüncü kişi ağzıyla anlatılmıştır?**

- A) Bir yandan tıraş oluyor, bir yandan ne yapacağımı kendi kendime soruyordum. Gidip denize girmeye karar verdim. Tramvaya binip limandaki deniz hamamına gittim. Suya daldım.
- B) Gün biraz daha ilerledi. Çatıların üzerinde, gökyüzü kızıştı ve ilk karartılarla birlikte, sokaklar da canlandı. Sokaklara dökülenler arasında zarif bayı tanıdım.
- C) Daha sonra biraz büyüyünce yine burada, eklecek tohumlara bekçilik etmeye başladım. İlkbaharda yaylaya çıkan sürüler buradan geçerlerdi. Çocukluğumun kaygısız, pek neşeli günleriydi o zamanlar.
- D) Bir yandan da oğluna bu ilk görevini nasıl ballandıra ballandıra anlatacağını kuruyordu kafasında. Gözlerinin önünde ise subayın öfkeli ve şaşkın yüzü vardı hep. Öfkeyle gerilen dudaklarının arasından bembeyaz dişleri görünüyör, bıyıkları kıpırdaşıp duruyordu.

ÇIKMIŞ SORU

- 15 Deneme, bir konu üzerinde yazarın kesin yargılara varmadan, kanıtlama amacı gütmeyen kişisel görüşlerini ifade ettiği yazı türüdür.

Aşağıdakilerden hangisi bu açıklamayı örneklendiren bir metindir?

- A) Bir melodi duyduğumuzda beynimizde, farklı işlevleri olan birçok bölge etkinleşir. Bir müzik aleti çaldığımızda ise bu etki çok daha belirgindir. Çünkü bir müzik aleti çalabilmek için kas hareketlerinin kontrollü ve uyum hâlinde olması gerekir. Bunun için de beyin daha aktif çalışır.
- B) Herkes kendi hayatından bilir ki her gün birbirini görmenin tadı başka, ayrılıp kavuşmanın tadı başkadır. Ayrılıklar benim yakınlarıma sevgimi tazeler, ev hayatımın tadını artırır. Unutulmamalı ki sevginin kolları, birbirimizi dünyanın bir ucundan bir ucuna kucaklayabilecek kadar uzundur.
- C) Şefika Kutluer adına 1-21 Aralık tarihleri arasında uluslararası festival düzenleniyor. "Sihirli Flüt" unvanlı, Türk sanatçı Şefika Kutluer adına düzenlenen bu festivale bu yıl ABD, Çin, Portekiz, Slovakya, Polonya, Avusturya ve Filistin'den sanatçılar katılacak.
- D) On yıl kadar önce, annemin gençlik arkadaşı Bedia Muvahhit'le karşılaşmıştım bir lokantada. Yanına gittim, eğildim "Bedia Teyze, yetmişimi aştım." diye fısıldadım kulağına. Bu münasebetsiz lafımla onun da yetmişini çoktan aştığını söylemek istediğimi hemen anladı. "Sus kız! Herkese ilan edeceksin." diye beni şakadan azarladı.

- 16 Ovada kızıl bir granit seli,
Bir heykel uzaktan Munzur Dağları!
Sanki bir canavar, hançer pençeli,
Göklere sıçrayan Munzur Dağları!..

Şiirin iki ve üçüncü dizelerinde ağır basan söz sanatı aşağıdakilerden hangisidir?

- A) Tezat
B) Konuşturma
C) Benzetme
D) Kişileştirme

17

- Her konuda yazılabilir.
- Samimi bir üslupla yazılır.
- Anlatımda içtenlik, yalınlık, duruluk esastır.
- Bir görüşü kanıtlama amacı gütmeyiz.
- Konuya öznel bir bakışla yaklaşır.

Yukarıda özellikleri verilen yazı türü aşağıdakilerden hangisidir?

- A) Fıkra
B) Makale
C) Deneme
D) Röportaj

- 18 Türkiye'nin eşsiz gölleri ve sulak alanları birer birer yok oluyor. Son 50 yılda Türkiye'nin sulak alanlarının yarısı kaybedildi. Doğa Derneği Sulak Alanlar Koordinatörü Hatice Sarısoy, 50 yıl önce yaklaşık 2,5 milyon hektar sulak alana sahip olan Türkiye'nin 1 milyon 300 bin hektarlık sulak alanını kaybettiğini söylüyor.

Yukarıdaki metnin türü aşağıdakilerden hangisidir?

- A) Deneme
B) Makale
C) Roman
D) Söyleşi

- 19 İstasyonun serin bir köşesinde, rahat bir koltukta dalmışım, bir elin omzuma değmesiyle sıçradım. Üniformalı, tanımadığım bir adam "Avni Bey?" diye sordu. Tereddütle "Evet!" diye cevap verdim. "İnci Hanım gönderdi beni." dedi. "Gümrük kontrolünü hemen yaptırması gerektiği için buraya gelemiyordum. Lütfen, siz gideceksiniz." Koltuktan ağırca doğruldum, sonra durdum birden. Peki ama diye düşündüm, bu kadar insan arasında böylesine tereddütsüz nasıl buldu bu adam beni?

Bu hikâye kesitinde hikâye türünün hangi unsuruna yer verilmemiştir?

- A) Zaman
B) Olay
C) Yer
D) Kişiler

20 Aşağıdaki metinlerden hangisinde olay, farklı bir açımdan anlatılmıştır?

- A) Annemi o gün ben karşıladım. Yüzünde her zamankinden farklı bir durgunluk olduğunu sezdim. Konuşmayı denedim ama benimle konuşmadı.
- B) Böbreklerimden çok rahatsızdım. Acıdan kıvranıyor, ne yapacağımı bilmiyordum. Bir kağıt ile Eskişehir'e, oradan da trenle Ankara'ya gittim.
- C) Küçükken babam bir şiiri çok duygulu okudu. Bana "Sen de okumak ister misin?" diye sordu. Hemen kabul ettim. Günlerce o şiiri babam gibi okumak için uğraştım.
- D) İçeriye genç bir adam girdi. Elinde bir sopa vardı. Sopyayı demirciye uzattı, sopanın ucuna halka geçirilmesini istedi. Demirci, duvardaki halkaları sopyaya geçirdi.

- 21** Akşamüzeri hapis haneye bir sürü adam getirdiler. Hepsi elli kadar vardı. Nizamiye kapısından girince avluda sıra oldular. Bir gardiyan, elindeki kâğıdına bakarak yoklama yaptı. Ondan sonra duvar kenarına dizilerek çömeldiler, konuşmadan beklemeye başladılar. Kılıkları pek perişandı. Poturları parça parça sarkıyordu. Çoğunun ayağında kunduraya benzer bir şey bile yoktu. Sırtlarında deve tüyü çuldan kısa ve parça parça cepkenler, bunun altında lime lime olmuş mintanlar vardı.

Bu hikâye metninin dil ve anlatımıyla ilgili olarak aşağıdakilerden hangisi söylenemez?

- A) Öyküleyici ve betimleyici anlatım türleri kullanılmıştır.
- B) İki kelimeye yer verilmiştir.
- C) Örneklemeler yapılmıştır.
- D) Olay, gözlemci bakış açısıyla aktarılmıştır.

- 22** Kuyucaklı Yusuf, okuduğum Türk romanları içinde ayrıntıların en mükemmel, en ustaca kullandığı romanlardan biri. Sabahattin Ali'de inanılmaz bir gözlem gücü, inanılmaz bir bellek var; Kuyucaklı Yusuf'ta çizdiği dünyanın böylesine renkli, sıcak ve inandırıcı olması, bence büyük ölçüde yaşantısından gelen gözlemlere, ayrıntılara bağlı.

Bu metin aşağıda açıklaması verilen anlatım biçimlerinden hangisine örnektir?

- A) Burada amaç okuru olayın içinde yaşatmak ve yaşamın belli bir kesitini belli bir olay içinde anlatmaktır.
- B) Bir konu hakkında bilgi vermek ve öğretmektir amaç. Yazar sanatlı bir üslup kullanmaktan kaçınır.
- C) Herhangi bir şeyin sahip olduğu özellikler ve bu özelliklerin yazarda bıraktığı izlenim okurun zihninde canlanacak şekilde anlatılır.
- D) Yazar kendi görüşünü okurunun zihnine yerleştirmeye çalışır ve onu etkilemeyi amaçlar.

- 23** Ahşap evde geçirdiğim son gecem çok defa rüyalarımın girmişti. Bütün gece eşyalarımızı toplamakla uğraşmış, sandıkları sepetleri doldurmuş ancak gece yarısına doğru yatabilmiştik. Bir türlü uyuyamıyordum, gözlerimi kapıyor, uyumaya çalışıyordum, uyuyamıyordum. Aklıma korkunç düşünceler, acayip hayaller geliyor, odanın her köşesinden üzerime birtakım garip şeyler fırlayacakmış gibi ürperiyordum. Gözlerimin önüne yarın bir daha hiç gelmemek üzere terk edeceğimiz ahşap ev geliyor, onun her yanını, odalarından tavan arasına kadar hayalen dolaşıyordum.

Bu metinde hikâyeyi oluşturan yapı unsurlarından hangi ikisi arasındaki ilişki vurgulanmaktadır?

- A) Zaman - mekân B) Mekân - kişi
- C) Olay - zaman D) Kişi - olay

24 ve 25. soruları aşağıdaki numaralanmış metinlere göre cevaplayınız.

- I. Sabahın erken saatlerinde kurumuş çalıların örttüğü dar bir patikadan geçerek kalenin giriş kapısına kadar yürüdük. Buraya belli ki pek gelen giden olmuyor. Kale duvarlarına kırmızı boya ile yazılan birkaç yazı olmasa buraya yüzyıllardır insan uğramamış sanırsınız.
- II. Şiir olmasa hayatımız nasıl olurdu? Bu soruya yanıt vermeden önce şekersiz çayın, tuzsuz çorbanın, kokusuz çiçeğin neye yaradığını düşünmenizi öneririm. Hayat çok sıkıcı ve tatsız olurdu, dediğinizi duyar gibiyim.
- III. Gelişen teknolojiler ve artan bilgi birikimi beyin araştırmalarını hızlandırmış olsa da hâlâ beyne dair bütüncül bilgilerden büyük ölçüde yoksunuz. Beynin bir bütün hâlinde nasıl çalıştığı, hangi hücre kümelerinin hangileriyle ne tür bağlantılar kurduğu bilinmiyor.
- IV. 1897 senesinde liseyi bitiren Çehov, Moskova'ya giderek tıp fakültesine girdi. 1884'te doktor olan Çehov, tıp öğrenimi sırasında ailenin geçimine katkıda bulunmak için çeşitli dergilerde yazılar yazdı. Bu dönemde yazdığı yazılarını "Melbourne'ün Masalları" adlı kitapta toplayarak üniversiteyi bitirdiği sene ilk kitabını yayımladı.
- V. Saat gece yarısını geçti. Lâmba göz kırpyor sanki. Yeşil yuvarlak ile gölgeler harekete geçiyor, Varka'nın yarı açık, dalgın gözlerinin önünde öteye beriye kayıyor, uykulu beyinde dumanlı düşler yaratıyorlar. Varka, gökyüzünde birbiri ardından koşuşan, bebek gibi ağlaşan kapkara bulutlar görüyor hayâlinde.

24 Yukarıdaki numaralanmış metinlerin ait olduğu tür ve anlatım özellikleriyle ilgili aşağıdakilerden hangisinde yanlış işaretleme yapılmıştır?

	I	II	III	IV	V
A) Kişi, yer, zaman, olay unsurlarına yer verilmiştir.	✓				✓
B) Bilgilendirmek, öğretmek, düşündürmek amacıyla yazılmıştır.		✓	✓	✓	
C) Hayal ürünü (kurmaca) bir olay anlatılmaktadır.					✓
D) Ağırlıklı olarak betimleyici anlatıma başvurulmuştur.	✓	✓			✓

25 Numaralanmış metinler sırasıyla hangi metin türlerinden alınmıştır?

- A) Hikâye - makale - gezi yazısı - biyografi - anı
- B) Gezi yazısı - deneme - makale - biyografi - hikâye
- C) Anı - biyografi - makale - otobiyografi - günlük
- D) Günlük - deneme - makale - anı - hikâye

SORULAR

TEST 2

1 ve 2. soruları aşağıdaki metne göre cevaplayınız.

Benim iyimser bir adam olduğumu söylerler. Ben iyimser olduğumu itiraf ediyorum. Bir gün hepimiz bu ölümlü dünyadan göçüp gideceğiz. Öyleyse yaşadığımız sürece, niçin huzur ve mutluluk içinde vakit geçirmeyelim? Hayatta iyimserliğin en büyük faydası, insanların hayatlarını düzene koyması ve her zaman iyiyi görmeyi vermesindedir.

Benim iyimserliğim insanlara olan inancımın bir sonucudur. İnsan ırkı, soyluluğunu hâlâ koruyor. Ben, bir zorlukla karşılaştığım zaman, onun kötü yönlerinden çok, iyi yönlerini düşünürüm. Bazen kötü gibi gözükən şeyler, iyi sonuç verir. Mesela benim hastalanıp bir ay süreyle odamdan çıkmayacağımı düşünün. Kötümserler, bunu bir felaket sayarlar. Ben ise 30 gün süreyle kitap okuyacağımı, sessiz bir hayat geçireceğimi ve bol bol düşünmek için vakit bulacağımı planlayarak seviyorum.

Ben küçük yaşta beri iyimserim. İyimserliğimi, bana küçük yaşta merhamet, eşitlik ve sevgi duyguları aşıl原因an anne ve babama borçluyum. Bu yüzden insanlara karşı olan güvenim artmış oldu. Fakat okul hayatımda kendimi toparlamamış olmasaydım, iyimserliğimi kaybedecektim. Neyse ki o zaman karşıma çıkan felsefe hocam, üzerimde derin bir etki yaptığı için, tehlikeyi atlattım.

Benim iyimserliğimin sebebi, şahsen iyimser insanların olayların akışına etki edebileceğine ve dünyayı huzura ve mutluluğa kavuşturabileceğine olan inancıdır.

1

Yukarıdaki metin türünde yazılmış bir metindir. Çünkü.....

Metinle ilgili açıklama yapılan bu cümlede boş bırakılan yerlere aşağıdakilerden hangisi getirilmelidir?

- A) makale - bilgi vermek amacıyla yazılmıştır.
- B) anı - geçmişte yaşananlar anlatılmıştır.
- C) deneme - ele alınan konu, yazarın kişisel bakış açısıyla anlatılmıştır.
- D) eleştiri - yazar, toplum düzenini etkileyen bir konuya karşı çıkmaktadır.

2 Bu metnin anlatım özellikleriyle ilgili aşağıdakilerden hangisi söylenemez?

- A) Ağırlıklı olarak öznel cümlelere yer verilmiştir.
- B) Anlatımda "bence, bana göre" yaklaşımı sezilmektedir.
- C) Akıcı, içten bir dil kullanılmıştır.
- D) Kanıtlayıcı ve açıklayıcı anlatıma başvurulmuştur.

3 ve 4. soruları aşağıdaki metne göre cevaplayınız.

Necati Cumalı, Türkçe ve insanca bir çift sözden bir piyes çıkarmış. İzmir'de basılmış ve Şehir Tiyatrolarında oynanmakta olan Boş Beşik gerçekten şu iki türkü dizisinin sahneye konmasıdır:

"Neyleyim neyleyim kolları neyleyim

Nenni nenni demedik dilleri neyleyim."

Bu sahici insan sesinin ardında Cumalı; ovalı gelini, beyi, anayı, insanları, gelenekleri ve günlük konuşmalarıyla bir yörük obası görmüş. Gelin oavadan gelir de yörük obası karşı mı komaz? Gelin kısır olur da obada düzen mi bozulmaz? Obadan korkan gelinin bebeğini kuzgunlar mı kapmaz? Bebezsiz gelin kendini dereye mi atmaz? Ölen ölür, yörük yine yollara mı düşmez? Bütün bunları Cumalı söylemeye kendinin de doymadığı belli olan lezzetli bir Türkçeyle, sahnemize bu kadar bol ve temiz olarak alışıl gelmedik bir Türkçeyle anlatmış. Bu işin zorluğunu bilmeyen ne bilsin, bilenlere selâm olsun.

3 Yukarıdaki metin, içeriğine ve anlatım özelliklerine göre hangi metin türüne örnek olabilir?

- A) Deneme
- B) Makale
- C) Röportaj
- D) Eleştiri

4 Metnin dil ve anlatım özellikleriyle ilgili aşağıdakilerden hangisi söylenemez?

- A) Açıklayıcı anlatıma ağırlık verilmiştir.
- B) Eserde bulunması gereken özelliklere değinilmiştir.
- C) Bir yazar ve eseri hakkında yorum ve değerlendirme yapılmıştır.
- D) Hakkında bilgi verilen eserin içeriğinden örnekleme yapılmıştır.

5

Geçen hafta, Şanlıurfa'da başına parke taşıyla vurularak yaralanan doktor haberiyle sarsıldık. Doktorlara yönelik artarak devam eden şiddeti bitirmek için Avustralya'da olduğu gibi sert yasalara ihtiyaç var.

Geçen gün Avustralyalıların bu konuda hazırlamış oldukları bir afişi sosyal medyada gördüm ve afişin verdiği ince mesaja hayran kaldım. Afişin Türkçe anlamı şöyle "Eğer bir hemşireye, doktora ya da bir ambulans görevlisine saldırmakta bir sakınca olmadığını düşünüyorsanız size tekrar düşünebilmeniz için 14 yıl zaman veriyoruz." Burada "14 yıllık zaman" sözüyle ne mi anlatılmak isteniyor? Tabii ki hapis cezası!

Avustralya hükümeti bu afişi devletin sağlık kuruluşlarına astı ve sosyal medya hesaplarından da duyurdu. Hedefi on ikiden vuran bir afiş değil mi? Bizde de doktora, hemşireye saldırmanın bir cezası var ama ne yazık ki bu cezalar caydırıcı olmuyor. Bizde de Avustralya'daki gibi özel bir kanuna ihtiyaç var; doktora, hemşireye saldıranlar darbin şiddetine göre artacak şekilde en az 10 yıl hapis yatmalı.

Aşağıdakilerden hangisi bu metnin bir "fıkra" olduğunu kanıtlamak için yeterli bir açıklama olamaz?

- A) Gündemi meşgul eden, güncel bir olaya değinilmiş olması
- B) Yazarın nesnel bir tutum sergilemesi
- C) Yazarın, bir sorun hakkında çözüm önerilerinde bulunması
- D) Açıklayıcı anlatıma ve örnekleme yöntemine başvurulması

6 Hanımlar!

Bu kadar acıdan sonra, bu kadar ayrılıktan sonra, yan yana çektiğimiz bu kadar hasretten sonra, kurtuluş günleri geldi. Siz bu kurtuluş günlerini bize kazandıran aziz şehitlerin, gazilerin anaları, arkadaşları, kız kardeşleri! Artık sevinin, sevinmek hakkınızdır; bayram edin, en büyük bayrama erdiniz, büyük bayramınız mübarek olsun!

Anadolu kadınları!

Bu gaza diyarında, bin seneden beri, ateş ve cenk yerlerine oğullarını koşturan Anadolu kadınları; bin senedir oğulları daima uzak yerlerde ölen, yetiştirdikleri oğulların mezarları nerededir bilmeyen Anadolu kadınları! Kurtuluş günleri, kavuşma günleri geldi. Sevinin, bayram edin!

Bu metin türünde yazılmıştır.
Çünkü kaleme alınmıştır.

Metinle ilgili açıklama yapılan bu cümlede boş bırakılan yerlere aşağıdakilerden hangisi getirilmelidir?

- A) destan - heyecan verici bir anlatımla
- B) deneme - düşünceler öznel bir şekilde
- C) nutuk - topluluğa hitap etme ve duygu yansıtma amacıyla
- D) tiyatro - karşılıklı olaylar konuşma biçiminde

ÇIKMIŞ SORU

- 7** 1950'li yılların başında istasyon, bir mola yeri olmaktan ziyade hayatın aktığı yerdin bizim kasabada. Kasabanın gençleri istasyonda buluşur, kalabalıkta kendilerini unuttururdu. Filmlerdeki gibi, gençler ilk kez burada göz göze gelirdi. İlk ayrılık burada yaşanır, askerlik veya çalışmak için büyük şehre gidenlerin ardından gözyaşı ilk kez burada dökülürdü. Ayrılığın acısı kadar buluşmanın sevinci de istasyonda. Ben de tezkere alıp gelen ağabeyimi burada beklemiştim. İki gün boyunca istasyona her gelen trende gözlerimin ağabeyimi aramıştı. Nihayet ağabeyim trenden indiğinde boynuna sarılmış, dakikalarca ağlamıştım.

Bu parça aşağıdaki metin türlerinin hangisinden alınmıştır?

- A) Biyografi
- B) Deneme
- C) Anı
- D) Gezi yazısı

- 8 Üftâden oldum / gül gibi soldum / sor bana n'oldum / cevrinle cânân
Gül gibi soldum / sor bana n'oldum / cevrinle cânân / oldum perişan
Sor bana n'oldum / cevrinle cânân / oldum perişan / ey fitne-devrân

.....
Bu dörtlükte her dizinin eğik çizgiyle (/) gösterilen ilk bölümleri yukarıdan aşağıya okunduğunda birinci dizeyi, ikinci bölümleri ikinci dizeyi, üçüncü bölümleri ise üçüncü dizeyi oluşturmaktadır.

Buna göre dörtlüğün son dizesi aşağıdakilerin hangisinde doğru verilmiştir?

- A) Ey fitne-devrân / sor bana n'oldum / âhîr zamansın / ey fitne-devrân
B) Cevrinle cânân / oldum perişan / ey fitne-devrân / âhîr zamansın.
C) Gül gibi soldum / ey fitne-devrân / oldum perişan / Üftâden oldum
D) Üftâden oldum / oldum perişan / sor bana n'oldum / âhîr zamansın.

- 9 Haber yazıları, bir olay ya da olguyla ilgili bilgilerin 5N 1K kuralına göre yazılı metin hâline getirilmesiyle oluşur. 5N 1K kuralı; haberin "Ne?, Nasıl?, Niçin?, Nerede?, Ne zaman?, Kim?" sorularına göre kurgulanmasıdır.

Bu açıklamaya göre aşağıdakilerin hangisinde 5N 1K kuralındaki tüm soruların cevabı vardır?

- A) Servet Ö. dün öğlen saatlerinde yayladaki evinin yakınlarında, geçimini sağlamak için aldığı arı kovanlarının bakımını yaparken arıların saldırısına uğrayınca ambulans ekiplerinin yardımıyla hastaneye kaldırıldı ve hastanın durumu ciddiyetini koruyor.
B) Telefon hattına yağ basılacağını duyan üniversite eğitimi almış 20 kişi, telefonunu ya poşetlemiş ya da altına tabak koymuş. Halısını toplayan bile varmış.
C) Ulus meydanındaki Ateş Optik, eski sabıkalı Ahmet Gül tarafından mağazanın camları kesilmek ve kırılmak suretiyle soyularak kasadan para ve altın alındı.
D) Nevşehir Kapadokya'da balon gezisine katılan gezi kafesi balondaki arıza nedeniyle korku dolu anlar yaşadı.

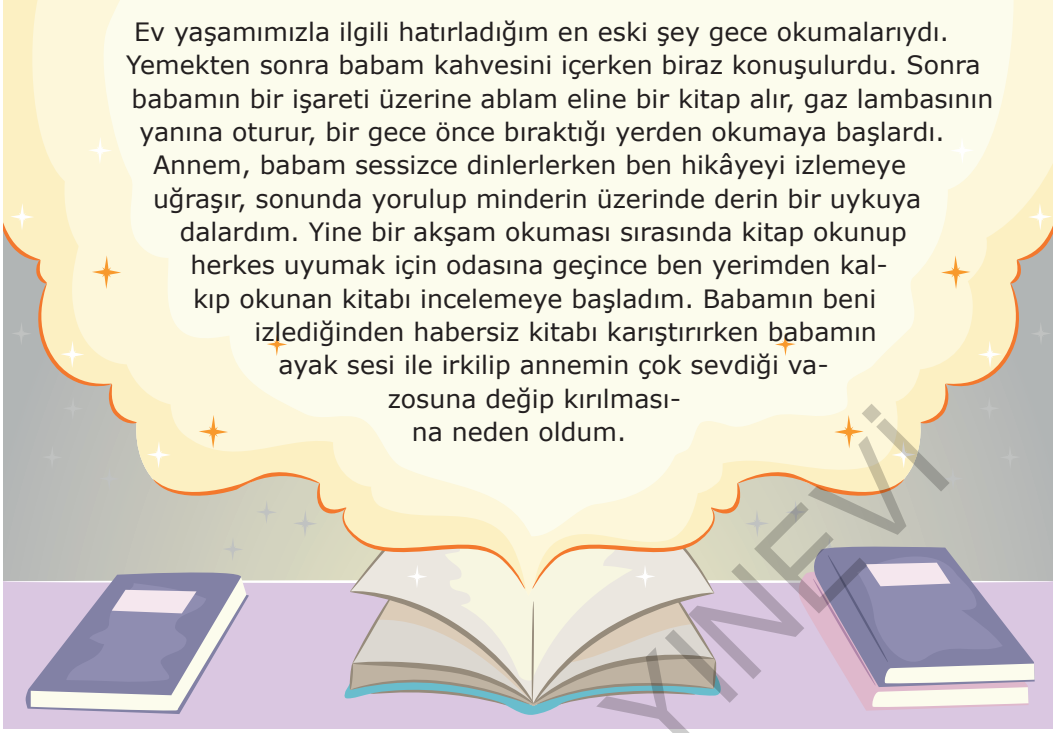
10

- Dizelerin hiçbirinin sonunda ses benzerliği yoktur.
- İki zıt kavram bir arada kullanılmıştır.
- Bütün dizelerin hece sayıları eşit değildir.

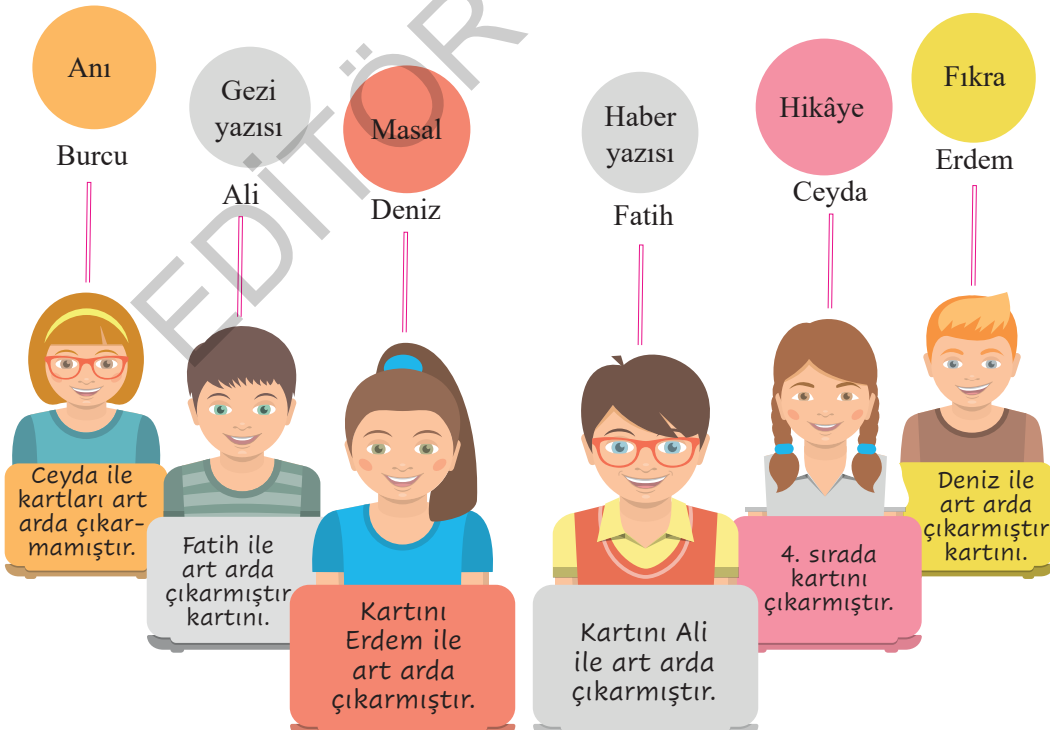
Aşağıdaki şiirlerden hangisi bu özelliklerin tümünü içerir?

- A) Görmediğim şeyi asla sezemem
Korku bilemem hiç yalnız gezemem
İcab etse kendi adım yazamam
Katiplikte gayet iştiharım var
- B) İstanbul deyince aklıma martı gelir
Yarısı gümüş, yarısı köpük
Yarısı balık yarısı kuş
İstanbul deyince aklıma bir masal gelir
- C) Sana büyük şehirlerden bahsedeceğim.
En büyük camiler orada kurulur,
En küçük mezarlar orada kazılır
En kara yazılar orada dizilir.
- D) Lakin ben hiç böyle mahzun olmadım;
Ölümü hatırlatan ne var bu resimde
Halbuki hayattayız hepimiz.

11



Ali, Burcu, Ceyda, Deniz, Erdem ve Fatih adlı öğrenciler “Görselde verilen metnin türü nedir?” sorusuna verdikleri cevapları kartlara yazmışlardır. Cevaplarını yazdıkları kartlar aşağıda verilmiştir. Bu öğrencilerin cevap kartlarını çıkarma sırasıyla ilgili bilgiler şunlardır:



Buna göre doğru cevabın yazılı olduğu kartı kim kaçınıcı sırada açmıştır?

A) Ali - 1. sıra

B) Burcu - 1. sıra

C) Deniz - 5. sıra

D) Burcu - 6. sıra

12

(Doktor ceketini giyerek çıkar.)

Tuncer: Sen hiç yatmadın mı Yalçın?

Türköz: Hiç uyumamış.

Tuncer: Yeni bir haber var mı?

Yalçın: Gece yarısından başka hiçbir şey yok. Ayşe'yi gördün mü?

Tuncer: Demin kapısından baktım.

Türköz: Nasıl?

Tuncer: Sinir buhranı geçirdi. Hastalığı falan yok.

Yalçın: Birazdan dağların serin havasını alınca büsbütün açılır.

Türköz: Uzakta bir davul sesi var.

Yalçın: Köylüyü topluyor. Talimat verilecek. (Bu sırada birkaç köylü ve kadı telaşla gelir.)

(Davul sesi devam eder)

Tuncer: Kumandan geliyor.

Yalçın: Biz hazırız. Kumandan.

Türköz: Yeni bir şey var mı?

Vural: Vaziyet tamamdır. Her şey anlaşıldı. Kısaca anlatayım da akşamki hazırlık emirlerinin ne olduğunu anlayın. Sakarya gerisine çekilen ordumuz, dün den beri düşmanla harbe tutuşmuştur.

Yalçın: Hayırlısı olsun.

Vural: Harp tarihlerde görülmemiş bir şiddetle başlamış. Mustafa Kemal başkumandanlığı almış.

Hepsi: Öyle ise hemen biz de iş başına.

Vural: Ben de onu tebliğe geldim. Biraz evvel aldığım emirleri ayrı ayrı tebliğ ediyorum. İhtiyat zabiti Yalçın Efendi!

Yalçın: (Selam verir.) Emret kumandanım!

Bu metnin tür özellikleri ile ilgili aşağıdakilerden hangisi söylenemez?

- A) Olay yazılarındaki kişi, yer, zaman ve olay öğeleri bu metinde de vardır.
- B) Tarihi bir olayla ilgili bilgi vermek amaçlanmıştır.
- C) Olayların akışı, karşılıklı konuşmalara göre izlenebilmektedir.
- D) Ayrıca içindeki açıklamalar, kişilerin davranışlarını, duygularını, sahnenin durumunu açıklar.

13

Hayatımın on dördüncü kışına yeni giriyordum. Askeri rüştiyenin en tembel öğrencisiydim. Yalnız matematiğe doğuştan bir yatkınlığım, şiir ve edebiyata da tutkulu bir isteğim vardı. Matematikle ilgili dersler tembelliğime engel değildi. Çünkü problemleri yorulmadan çözüyor, teoremleri yorulmadan ispat edebiliyordum. Şiire, edebiyata dair kitaplardan büyük bir zevk aldığım için bunları okumaktan hiç bıkmaz, usanmazdım.

Babam o zamanın başka babalarına pek benzezmezdi. Dindarlıkla hür düşünüşü nefsinde birleştiren bu zât, Batıl fikirlerin eskilerinden de yenilerinden de kendini kurtarabilmişti. Daha yedi sekiz yaşlarında iken Şah İsmaili, Aşık Keremleri okuyup ağladığımızı işiten bir dostu, babamın beni bu aşk kitaplarını okumaktan men etmesini, bunların yerine ciddi kitaplar okutturmasını salık vermişti.

Bu parça, anlatım özellikleri ve içeriği bakımından aşağıdaki metin türlerinden hangilerine yakındır?

- A) Biyografi - Gezi yazısı
- B) Otobiyografi - Anı
- C) Günlük - Hikâye
- D) Anı - Deneme

14

Aşağıdaki metin parçalarından hangisinde öyküleyici bir anlatım yoktur?

- A) Çatı katındaki evin mutfağı çok küçüktü. İki kişinin içinde çarpışmadan hareket etmesi olanaksızdı. Mutfağa gül ağacından yapılmış bir masa konulmuştu. Yer sorunu nedeniyle sandalye yerine taburelerde oturuldu.
- B) En sonunda annesi, oğlunun göz kapağına çok az oksijenli su damlattı, kurulayıp üzerine beyaz bir merhem sürdü ve göz kapağını gazlı bir bezle adamaklı örttü. Plasterle yapıştırdı gazlı bezi kapadı.
- C) Yürüyordum. Yürüdükçe de açılıyordum. Evden kızgın çıkmıştım. Belki de tıraş bıçağına sinirlenmişim. Olur, olur! Mutlaka tıraş bıçağına sinirlenmiş olacağım.
- D) Amsterdam, Hollanda'nın başkenti. Kuzey Denizi kıyısında bulunan bu kent, yaklaşık 90 adanın üzerinde kurulu. Bu kentteki kanalların toplam uzunluğu 100 kilometreyi geçiyor. Kentte 1500'e yakın köprü yer alıyor.

15 ve 16. soruları aşağıdaki metinlere göre cevaplayınız.

A

Akşam olunca çalıların arasına sakladığı kazmasını alıyor, gün ağarınca kadar söküyor, koparıyor, kazıyordu. Kazdıkça kaya, kazdıkça taş... Bütün bir yaz, bütün bir kış, orman memurunun tazyiki, çalı, palamut, defne, kocayemiş, diken, ot, kök ona karşı koydular. Bu korkunç mücadeleye üç evlek toprak için Mustafa'dan başka bizim köyde kimse girişemezdi.

B

Bir canlıdaki genetik özelliklerin kopyalanarak bu özellikleri taşımayan bir canlıya aktarılması sonucunda üretilen yeni canlıya genetiği değiştirilmiş organizma adı verilmektedir. Çok kullanılan bir diğer ifadesi de "transgenik organizma"dır. Genetiği değiştirilmiş organizmada birisi genetik, diğeri de değişim olmak üzere iki temel kavram söz konusudur.

C

Ben; hayvanları üzmeyi seven, haşarı ve hain çocuklardan değildim. Çekirgenin bacağını ayırmaktan, sineklerin kanatlarını yolduktan, gözü açılmamış kedi yavrularını havuzda boğmaktan hoşlanmazdım. Fakat bir kez, bir yaz günü yüreğimin neşe ile dolması ve keyifli eğlencelerle avunması gerekirken tuttum, bir zavallı su kaplumbağasına birkaç taş atarak zarar verdim. Hâlâ üzüntümden göğsüm kapanır.

15 **Anlatım özellikleri ve içerikleri dikkate alınırsa A, B ve C metinlerinin sırasıyla hangi metin türlerinden alındığı söylenebilir?**

- A) Roman - deneme - günlük
- B) Hikâye - makale - anı
- C) Hikâye - sohbet - anı
- D) Anı - deneme - günlük

16 **A, B ve C metinleri ile ilgili aşağıdakilerden hangisi söylenemez?**

- A) A ve C metinlerinde bir olay aktarılmıştır.
- B) B metnindeki anlatım, diğerlerine göre daha ciddidir.
- C) A ve C metinleri kurmacaya, B metni gerçekliğe dayanır.
- D) B metninde açıklayıcı anlatıma ağırlıklı olarak yer verilmiştir.

17 **Oturduğu eşikten kalktı Ali. Artık tamamıyla gündüzün ışığı gitmiş gece iyiden iyiye kendini hissettirilmişti. Ali bu atmosferde ellerini cebine soktu ve ağır ağır yürümeye başladı. Soğuktan titriyordu. Belinin ağrısından doğrulamıyor, kambur kambur yürüyordu. Deniz tarafına saptı. Sonrasında ona ne oldu ne tarafa gitti, inanın ki hiç kimse bilmiyordu.**

Bu parçadaki altı çizili cümlede aşağıdaki söz sanatlarından hangisi vardır?

- A) Benzetme
- B) Tezat
- C) Kişileştirme
- D) Abartma

18 **Saçım örük örüktür.**

Al yanak gölgeliktir

Şahin yuvası gibi

Bağrım delik deliktir.

Yukarıdaki şiirde "şahin yuvasına" benzetilen hangisidir?

- A) Bağırm
- B) Saçım
- C) Gölge
- D) Yanak

19 **"Kimseden bir beklentim olmadan yazıyorum ben. Yazdıklarımı duygularımı, hislerimi katıyorum. Okuyanları kendi sevincime, üzüntüme, umuduma, yalnızlığımıza ortak ediyorsam ne mutlu bana. Yoksa kelimeler uyumlu mu, ses benzerliği var mı, bunlar şekil. Ben öz ile ilgileniyorum."**

Yukarıdaki sözleri söyleyen biri hangi türde eserler vermektedir?

- A) Makale
- B) Şiir
- C) Hikâye
- D) Fabl

20 Her ne kadar internetten okumalar gazete satışlarını düşürse de ben gazetede yazmayı seviyorum. Biliyorum ki her sabah beni köşemde arayan binlerce kişi var. Onlarla günlük konulardan konuşuyor, kısa da olsa onlara görüşlerimi anlatıyorum. Toplumun büyük bir kısmı da değiştiğim konularla ilgileniyor. Biliyorum.

Yukarıda verilen metinden hareketle yazarın hangi edebi türde yazı yazdığını söyleyebiliriz?

- A) Makale B) Fıkra
C) Söyleşi D) Günlük

21 Özellikle oltacılar çok sever bu gölü. Balığı boldur çünkü. Lezzetlidir. Göle gelir gelmez önce oltalarını atarlar. Öğleye kadar yiyecekleri balığı tutmak için acele ederler. Yakındaki kasabalılar gölden balık tutmaz. Asla yemezler. Böyle olunca da gölün balığı şehirli meraklılara kalır. Onlar da hafta sonu oldu mu akın akın koşarlar. Böylece daha çok balık tutup daha çok stres atarlar ve daha sakin bir kafayla dönerler işlerine. Ama onların bu merakı kasabalı için işkence gibidir.

Bu metinle ilgili aşağıdakilerden hangisi söylenemez?

- A) Bir yerin özellikleri verilmiştir.
B) Bir hikâyenin serim bölümünden alınmıştır.
C) Bir durum hakkında bilgi verilmiştir.
D) Yer, zaman, kişi ve olay unsurlarının hepsi mevcuttur.

22 Aşağıdakilerin hangisinde anlatım farklı bir ağızdan yapılmıştır?

- A) Tatil günleri bizim evin bahçesine, bütün komşu çocukları toplanırdı. Akşama kadar oynardık.
B) Yılın son günü pis ve uğursuz bir havada Beyazıt Meydanı'nda, havuzun etrafında bir arkadaşla hiçbir şey demeden dolaşıyorduk.
C) Buzlar dağılmıştı artık. Ama İclal bir parça üzgündü. Ve ben içimdeki ferahlığın hiç değilse yarısını ona vermeden yapamazdım.
D) Köşeden geçen simitçiye seslendi. Simitçinin durduğunu görünce gidip bir simit aldı kedisine yedirmek için.

23 Güneş gibi parlayan güzel kaşağının dişlerine baktım. Çok keskin ve sivri idi. Biraz köreltmek için duvarın taşlarına sürtmeye başladım. Dişleri biraz körelti. Atlara tekrar sürdürdüm kaşağıyı. Atların hiçbiri durmuyordu yine. Kızdım, öfkemi sanki kaşağıdan çıkarmak istedim. On adım ilerideki çeşmeye koştum. Kaşağıyı yalağın taşına koydum.

Bir hikâyeden alınan bu metinle ilgili aşağıdakilerden hangisi söylenemez?

- A) Olay, geçmiş zaman diliminde yaşanmıştır.
B) Olayın yaşandığı yer, gerçek mekânlarla yakınlık göstermektedir.
C) Anlatılan olaylardan yola çıkarak dönemin siyasi hayatı hakkında bilgi edinebiliriz.
D) Olay, kahramanın ağzından aktarılmıştır.

24

- I. Mide şikayetleri genellikle midenin bozulmuş kas hareketleridir. Stres, yanlış beslenme ve içme alışkanlıkları veya iklim değişiklikleri mideyi zorlayabilir.
- II. Sigara kullanımı ve aşırı alkol tüketimi; hormonal değişiklikler veya çok fazla yemek yeme mide reflüsünün bazı nedenlerindedir.
- III. Besinlerin hazmedilememesi, nikotin tüketimi ve psişik sorunların varlığı mide rahatsızlıklarını tetiklemekte ve ilaçla tedaviyi zorunlu kılmaktadır.

Bu üç metinden çıkarılabilecek ortak sonuç aşağıdakilerden hangisidir?

- A) Mide rahatsızlıklarının nedenleri için tek bir etmenden bahsedilemez.
B) Mide rahatsızlıklarının temel nedeni beslenme bozukluklarıdır.
C) Stres, tüm hastalıklar gibi mide rahatsızlıklarının da başat nedenidir.
D) İlaç tedavisi, mide şikayetlerini en aza indirgeyebilir.

1

GAZETE

Hiçbir şey görüldüğü gibi olmayabilir.

Özel yaşamınızdaki bazı belirsizlikleri, bugün yaşayacağınız bir olayla kafanızda netleştirebilirsiniz. Ekonomik anlamda bir kazanç elde etmek isterken elinizde var olan şartlarınızı da zorlamamaya özen gösterin. Ortaklaşa işler, yatırımlar veya ailenizin belirlediği parasal sınırlar ile ilgili konularda daha temkinli olmanız gerekir. Bugün gördüğünüz ya da duyduğunuz bazı olaylar, gerçeklik teşkil etmeyebilir. Acele karar vermeyin! Herkesin içinde kopan fırtınaları, çözemediği sorunları ve korkuları olabilir. Kimsenin korkusunu tetiklemeyin ve kimsenin sizin korkunuzu tetiklemesine izin vermeyin.



Aygül Aydın

a.aygul@.....com.tr

Bu hikâyeden çıkaracağımız 2 kısa var:

- 1- Her zaman seninle iyi geçinmeyen insanı düşmanın sanma!
- 2- Sana yardım bahanesiyle yaklaşmak isteyenlere aldanma!

Dememiz o ki bugün tam da yaşayabileceğiniz olaylar bu hikâye tarzında olabilir. Bu yüzden acele ve hızlı kararlar asla vermemelisiniz. Olaylara ve insanlara biraz daha zaman tanımalıyız.

Gelelim Günün Tavsiyeli Hikâyesine:

Bir kuş soğuk bir kış gününde yiyecek bulmak için kanat çırpıp duruyormuş. Hava o kadar ayazmış ki minik kuş dayanamayıp karın üstüne düşmüş. Minik kuş çaresiz soğuk karın üstünde ölümü beklerken oradan geçen bir inek kuşun üstüne pislemiş. Kuş öyle bir sinirlenmiş ki kanatları donmamış olsa kalkıp ineğin dövecek, bir de bakmış ki pisliğin sıcaklığı ile kanatları çözülmüş, yaşama geri dönmüş. Öyle bir sevinçle ötüyormuş ki oradan geçen bir kedi bunun sesini duymuş ve pisliği eşeleyip kuşu pislikten çıkarmış, kuş buna da çok sevinmiş. Kediye teşekkür edecekmiş ki kedi onu yemiştir!



Görselde verilen yazı aşağıdaki türlerin hangisinden alınmış olabilir?

A) Makale

B) Köşe yazısı

C) Sohbet

D) Röportaj

- 2 Okuma, tutkuların en asilidir. Ekmek nasıl bedeni beslerse okuma da öyle ruhu besler. Bir yazar, okuma için, "Tatlı tatlı kendinden geçme." demiştir. Büyük yazarlar ömürlerinin yarısını okumakla geçirmişlerdir. Montesquieu "Çeyrek saatlik bir okumanın gideremediği kederim olmamıştır." der. **Yukarıdaki parça aşağıdaki hangi yazı türünden alınmıştır?**

- A) Eleştiri B) Biyografi
C) Sohbet D) Anı

- 3 Bence aza kanaat etmediğin ve üç ayrı konuyu (Kısır gelin, bebek ve suya giden gelin) bir araya getirdiğin için piyes derinleşecek yerde dağılmış. Kısırlık dramı başlar başlamaz bitiyor. Dış olaylar piyesi sarıyor. Yalnız kısırlık dramında kalsan daha iyi ederdin. Ancak o zaman bizi az çok bilinenden öteye götürebilir, ilk perdelerde olduğu gibi meselenin köklerine giderdin. Korkarım bu haliyle piyes, seyircinin merakını sonuna kadar devam ettirmeyecek. Merak düşünce de ne oluyor biliyorsun, en güzel şeyler güme gidiyor, ne yapsan piyes ayakta duramıyor. Bebek hikâyesi dramlaşmaya hiç elverişli değil çünkü nihayet bir kaza. Ancak mersiye olarak güzel.

Anlatım özellikleri ve içeriği dikkate alınırsa bu parçanın hangi metin türünden alındığı söylenebilir?

- A) Fıkra B) Eleştiri
C) Deneme D) Söyleşi

ÇIKMIŞ SORU

- 4 (I) Bizim memlekette dağ taş, orman ağaç hayatın hikâyesini anlatır. (II) Toprak burada ustanın elinden çıkmış bir çinidir, desen desen. (III) Toprak verimlidir; kuru çubuk diksen meyve verir, salkım salkım. (IV) Portakallar dallarında birer güneştir, turuncu turuncu.

Bu metinde numaralanmış cümlelerin hangilerinde aynı söz sanatı kullanılmıştır?

- A) I ve III B) I ve IV
C) II ve III D) II ve IV

- 5 Genellikle insanların serüvenlerini, iş dünyalarını, toplumsal bir olay ya da olguyu, insan ilişkilerini ve değişik insanlık durumlarını yansıtmayı amaçlayan düzyazı türüdür. Uzun bir anlatıma sahip olan bu türde olaylar yer, zaman ve şahıs kadrosu bütünlüğü içerisinde anlatılır. Okuyucuyu çekebilecek nitelikte merak unsurunu içeren bu türde birbirleriyle bağlantılı olaylar, temel bir düşünce etrafında birleştirilerek yansıtılır.

Yukarıda özellikleri verilen metin türü aşağıdakilerden hangisidir?

- A) Hikâye B) Destan
C) Roman D) Fıkra

- 6 Otuz yaşına gelmiş biri olarak hâlâ annesinin, teyzesinin ve artık iyice yaşlanmış olan büyükannesinin parasal yardımına muhtaçtı. Onlarsa hâlâ ilkokul yıllarındaki gibi ona çoraplar örmekte ve elbise göndermekteydiler. O ise ekmeğinden keserek tasarruf ettiği kuruşlarla ona uygun olan tek hayatı, bir şair hayatını sürdürmeye çalışmaktaydı.

Bu metinde hikâye unsurlarından hangilerine yer verilmiştir?

- A) Kişiler ve olay
B) Yer ve olay
C) Yer ve zaman
D) Olay ve zaman

- 7 Ninem, bütün köylülerin akıl danıştığı yaman bir kadındı. Öyle öğütler verirdi ki herkese... Zengin ağalar bile babama değil de nineme danışırlardı ne yapacaklarını. Sözü dinlenir bir ana gibiydi ninem. Öyle yumuşak yanakları vardı ki! Elleri nasırlıydı, yeşil gözleri derinlerden bakardı.

Bu metinle ilgili aşağıdakilerden hangisi söylenemez?

- A) Benzetme yapılmıştır.
B) Gerçek anlamının dışında kullanılan sözcükler vardır.
C) Betimleyici anlatımdan yararlanılmıştır.
D) Örneklerden yararlanılmıştır.

8 Okuduğum gazetede “Sır” diye bir başlık gözüme ilişti. Beş altı satırın üstünde parıldayan bu “sır” kelimesi, insanı düşündürülebilir. Çünkü bilirsiniz insanlar, birçok şey arasında “sır”ların ne olduğunu öğrenmeye de pek meraklılardır. Bütün gayretlerimizi başkalarının gizli taraflarını meydana çıkarmak uğrunda harcadığımızı boşuna saklamayalım. Biz insanlar öyleyiz işte. Nerede “sır” varsa onun üzerine düşmeye kalkarız ve sırları çözdüğümüzü sandığımız zaman da duyduğumuz keyfin hududu yoktur. Her hâlde onun için olacak, ben de gazetede sır kelimesini görünce öbür yazıları bırakıp hemen onun altındaki satırları okumaya giriştim.

Yukarıdaki parça aşağıda verilen metin türlerinin hangisinden alınmış olabilir?

- A) Sohbet B) Anı
C) Biyografi D) Öykü

9 Aşağıdaki yazı türlerinden hangisinde diğerlerine göre daha öznel bir anlatım kullanılmıştır?

- A) 1924 yılında Harput'ta doğmuşum. 1931 yılında Elazığ Numune Mektebine girdim. İlk ve orta öğrenimimi tamamladım.
B) Dün gece Süper Ay gecesi idi. Ay'ın Dünya'ya en yakın konuma geldiği anda meydana gelen ve Süper Ay olarak adlandırılan doğa olayı Dünya'dan gözlemlendi.
C) Cumhuriyetin ilanından bugüne kadar nüfusumuz düzenli olarak arttı. Bu artışa bağlı olarak da eğitim hizmetleri çeşitlendi.
D) Bilgi ve iletişim teknolojileri son yıllarda baş döndürücü hızla ilerlemektedir. Bu ilerleyiş hem olumlu hem de olumsuz anlamda insanlığı etkilemektedir.

10 Küçürek hikâye; insan yaşamından dondurulmuş çok kısa anlar, kurulan hayallerden biri, bireyin kendisiyle konuşması ya da yaşanmış bitmiş küçük olayların anlatılmasıyla yazılan minimal hikâye türüdür.

Bu açıklamaya göre;

- I. Kaç kardeşlik bilmiyorum. En küçükleri bendim ve henüz saymayı bilmiyordum. Öğrendiğimde ise hepimiz dağılmıştık.
II. Bir ikinci vakti, başımı omuzuna dayayıp uyu-mak isterdim, dedi kadın.
– Ya bir daha uyanmazsan, dedi adam.
– İşte mutluluk bu olsa gerek, dedi kadın.
III. Yürüdü. O kadar kuvvetlenmişti ki... Demin yarım saatte koşarak geçtiği yerleri üç adımda aştı. Her tarafı sıcak bir güneş aydınlatıyordu. Çok susamıştı. Açık bıraktığı kapıdan girdi. Önce karıncaya kadar su içti. Sonra yukarı çıktı.

metinlerinden hangileri küçürek hikâye örneğidir?

- A) Yalnız I B) Yalnız III
C) I ve II D) II ve III

11 Aşağıdaki parçalardan hangisi üçüncü kişi ağzıyla anlatılmamıştır?

- A) Hava kararınca kampa geri döndük. Ateşin etrafında sohbet ederken yarınki planımızı da belirledik.
B) Genç kadın çantadan bir defter çıkardı. Deftere birtakım notlar yazdı. Otobüs gelir gelmez ayaklandı.
C) Tamirci çırağı, elindeki su şişesini ustasına uzattı. Suyu içen usta yerinden kalktı ve işine kaldığı yerden devam etti.
D) Hemşire, çocuğun kolundaki yarayı pamukla temizliyordu. Canı yanan çocuk ara ara küçük çığlıklar atıyordu.

12

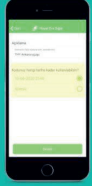
HES Kodu Nasıl Alınır?



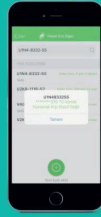
1. Hayat Eve Sığar Uygulaması ile



"Hayat Eve Sığar" uygulaması üzerinden "HES Kodu İşlemleri" bölümüne girilir.



"HES Kodu Oluştur" butonuna tıklanır. Kod Kullanım Süresi seçilir ve kod oluşturulur.



SONUÇ

2. SMS Yöntemi ile

HES yazıp aralarında boşluk bırakılarak sırasıyla; T.C. Kimlik Numarası, T.C. Kimlik Seri Numarasının Son 4 Hanesi ve Paylaşım Süresi (gün sayısı olarak) yazılır ve 2023'e SMS olarak atılır.



SONUÇ



2023:
HES 12345678901
1232 45



Seyahat firması HES Kodu ile kişinin sağlık durumunu sorgular, risk varsa seyahat onaylanmaz. Seyahat sırasında herhangi bir risk taşımayan ancak sonradan risk durumu oluşan kişiler olursa temas mesafesinde kabul edilen kişilerle iletişime geçilerek sağlık ve rehberlik hizmeti sağlanır.

Bu görselin alındığı türle ilgili aşağıdakilerden hangisi söylenebilir?

- A) Olay örgüsü çerçevesinde bazı düşünceler ifade edilmiştir.
- B) Düşünceler öznel ifadelerle kanıtlama gereği duyulmadan aktarılmıştır.
- C) Bir konuyla ilgili bilgiler nesnel ifadelerle anlatılmıştır.
- D) Kişisel yargılarla bir olayın çözümlenmesine yer verilmiştir.

13

- I. Dünya üzerindeki insanların bir bölümü çöllerde yaşar. Bu insanların bazıları göçebedir. Yani hep aynı yerde kalmazlar. Bir yerde kısa bir süre yaşadıkları sonra yer değiştirirler. Evlerini yani çadırlarını, tüm eşyalarını ve hayvanlarını da yanlarında götürürler. Bunu genellikle yeni bir su kaynağı ya da otlak bulmak için yaparlar.
- II. Çöllerde su az bulunur. Bazı yerlerde yeraltı suları vardır. İnsanlar buralarda su kuyuları kazar. Bu kuyulardan su çıkarırlar. Çölde yaşayan insanlar genellikle hayvancılık yapar. Koyun, keçi ve deve gibi hayvanlar beslerler.
- III. Bazı çöllerde yeraltı suları yeryüzüne çıkacak bir yol bulur. Suyun çıktığı yerin çevresinde ağaçlar ve başka bitkiler yetişir. Böyle yerlere "vaha" adı verilir. İnsanlar bazı vahaların yakınında yerleşim yerleri kurar. Buralara evler yaparlar. Vahalarda en çok yetişen ağaçlardan biri hurmadır. Hurma ağacının meyveleri çok lezzetlidir.

Metinlerde bahsedilen yerle ilgili, üç metinden de çıkarılabilecek ortak sonuç aşağıdakilerden hangisinde verilmiştir?

- A) Canlılığın olduğu ve insanların yaşam alanı olarak seçtiği yerlerdir.
- B) Göçebe yaşam dışında yerleşik hayatın olmadığı alanlardır.
- C) Geçim kaynağı olarak hayvancılık dışında başka alternatifin olmadığı yerlerdir.
- D) Bitki türü olarak sadece hurma ağacının yetiştiği kurak yeryüzü şekilleridir.

14 Aşağıdaki metinlerin hangisinde olay üçüncü kişinin ağzından anlatılmıştır?

- A) Anneme armağan olarak aldığım cam kavanozu yemek masasının üzerine bıraktım. Annem mutfığa girdi, sandalyeye oturdu ve masanın üzerindeki kavanoza bakmaya başladı. Kavanozun üzerindeki "Senin İçin" yazısını okuyunca gülümsedi.
- B) Günlerden beri ilk kez; yağmurun fısıltısından, ikinci güneşinin odaya yansımından çok hamam buğusu gibi içeride toplanmış hissini veren puslu, ıslak aydınlıktan hoşlandım.
- C) Arkadaşım birkaç çıtayı çakmış, çevrelerinden geçirdiği ipi bağlamaya çalışıyordu. "Yardım edebilir misin?" dedi. Yanına gittim ve parmağımı düğüme bastırdım. Çok büyük ve güzel bir uçurtma yaptık.
- D) Çiftçi, çalılıkların arasında bir kıpırtı hissetti. "Bu mutlaka bizim tavukları yiyen tilkidir." diye düşündü. Ağır ve sessiz adımlarla sesin geldiği yöne ilerledi.

15 Kasabaya vardığımızda hava kararmıştı. Kasabada eski bir arkadaşımız bizi karşıladı. Onunla yıllardır görüşmemiştik. Akşam yemeğini hep birlikte küçük bir lokantada yedik. Vakit ilerledikçe hava da soğuyordu. Arkadaşımız bizi kendi evinde ağırladı. Yorucu bir günün ardından uykuya daldık.

Bu parça ile ilgili aşağıdakilerden hangisi söylenemez?

- A) Betimleyici unsurlara yer verilmiştir.
- B) Olaylar üçüncü kişinin ağzıyla anlatılmıştır.
- C) Görme ve dokunma duyularından yararlanılmıştır.
- D) Öyküleyici anlatımdan yararlanılmıştır.

16 Vapurdan indiğimde saat altıya yaklaşmıştı. Hemen bir taksiye binip Çekmeköy'e doğru yol aldım. Yüreğim heyecanla çırpınıyordu. Sekiz yıl önce köyden farksız olan bu yerler gelişmiş, adeta koca bir kent görünümüne bürünmüştü. Taksiden inip eve doğru yürümeye başladım. Sokağın başında Ahmet amca; koltuğunun altında gazete, elinde ekmekle bana doğru yaklaştı.

Bu parçanın anlatımı ile ilgili olarak aşağıdakilerden hangisi söylenemez?

- A) Anlatıcı olay örgüsü içinde bulunmayan biridir.
- B) Olaylar akış sırasına göre verilmiştir.
- C) Gözlemden yararlanılmıştır.
- D) Yer ve zaman unsurları bulunmaktadır.

17 Ağır adımlarla kahveye girdi Hasan. Selam verdikten sonra bir köşeye oturdu. Hava çok sıcaktı. Cebindeki beyaz mendili çıkarıp yüzünü sildi. Önüne konan çayı bir yudumda yarılardı. Saatine baktı, vakit öğleyi geçmişti. Birden ayaklandı. Cebinden bozuk para çıkarıp masaya koydu ve kahveden ayrıldı. Tren istasyonuna varması yarım saati buldu. Gişeden biletini alırken trenin düdüğü sesini duydu.

Bu parça ile ilgili aşağıdakilerden hangisi söylenemez?

- A) Üçüncü kişi ağzıyla anlatılmıştır.
- B) Farklı duylara seslenen ifadelere yer verilmiştir.
- C) Öyküleyici anlatım türünden yararlanılmıştır.
- D) Bir anıdan alınmıştır.

18

- Burası bir köyden çok şehirleşmeye başlamış bir kasabaya benziyordu. Etrafta bir tek eski veya topraktan ev görünmüyordu.
- ABD'de 14 yıl önce geçirdiği trafik kazasında ağır yaralanan ve kendisine "bir daha konuşamaz" teşhisi konulan bir Amerikalı, konuşma yetisine papağanı sayesinde yeniden kavuşmasının ardından hayatını kuşlara adadı.
- 11 Mart 1884 tarihinde Gönen, Balıkesir'de doğdum. Öğrenimime Gönen'de bir mahalle mektebinde başladım.

Aşağıdakilerden hangisinin örneği yukarıda verilmemiştir?

- A) Gezi yazısı B) Eleştiri
C) Haber yazısı D) Otobiyografi

19

Ay, Dünya ve Güneş'in yörüngede aynı hizaya girmesi ile Ay'ın aldığı kızıl renk Kanlı Ay tutulmasını akla getirdi. Bu tür Ay tutulması beş yüz yılda sadece üç kez gerçekleşti. Ay tutulması Türkiye saati ile gündüz dokuzda başlayıp saat on altıya kadar sürdü. Bu nadir olayı izleyenler uzun süre şaşkınlıklarını üzerinden atamadılar.

Bu metnin türü aşağıdakilerden hangisidir?

- A) Söyleşi B) Gezi yazısı
C) Haber yazısı D) Deneme

20

Aşağıda verilen tanımlardan hangisi araç içinde verilen yazı türüyle uyuşmamaktadır?

- A) İnsanın veya çevrenin karakterlerini, göreneklerini inceleyen, duygu ve tutkularını çözümleyen, kurmaca veya gerçek olaylara dayanan uzun edebî türdür. (Roman)
- B) Kişilerin kendi başlarından geçen veya tanık oldukları önemli olayları ve durumları dile getirdiği düzyazı türüdür. (Destan)
- C) Bilim, fen konularıyla siyasal, ekonomik ve toplumsal konuları açıklayıcı veya yorumlayıcı niteliği olan gazete veya dergi yazısıdır. (Makale)
- D) Toplumun gündemini konu alan gazete veya dergilerde yayımlanan yazılardır. (Haber yazısı)

ÇIKMIŞ SORU

21

Ben Ömer Halisdemir,
Gözlerimde göremezsiniz korkuyu.
Arkamdan söylesinler şu türküyü:
Gencecik yaşında düşmüştü şehit,
Cihan görmedi böyle bir yiğit.

Ben Ömer Halisdemir,
Bin canım daha olsa
Veririm yine vatan uğruna.

Bu dizelerde aşağıdaki duygulardan hangisine yer verilmemiştir?

- A) Kahramanlık B) Merhamet
C) Cesaret D) Vatan sevgisi

22

Evler ahşap ve iki katlı. Köhne çatılar, karşıdan karşıya birbirinin üzerine abanır gibi uzanmış eski zaman saçakları... Ortada baştan başa uzanan bir aralık kalmış olsa sokak, üstü kemerli, karanlık bir geçit olacak. Doğuda, batıda bu aralık renkten renge giren bir ışık yolu olur...

Bu metinde, hikâye türünün hangi unsuruna ağırlıklı olarak yer verilmiştir?

- A) Olay B) Mekân
C) Kişi D) Zaman

23

Vakit henüz geceydi. Meryem, sırtüstü sedire uzanmıştı. Elinde günlük gazetelerden biri vardı. Odanın loş ışığında elindeki gazeteden iş ilanlarını okumaya çalışıyordu. Bir iş bulup çalışmayı kafasına koymuştu. Bir yandan okuyacak, bir yandan da çalışarak para kazanacaktı. Babasının her defasında dolambaçlı sözlerle geçim yükünden kendisine de pay çıkarması artık iyiden iyiye canını sıkmaya başlamıştı.

Bu parça, aşağıdaki metin türlerinden hangisine örnek olabilir?

- A) Hikâye B) Masal
C) Fabl D) Günlük

- 24 Olay hikâyeleri; hikâyedeki olayın mantıksal bir sıralamayla sonuca bağlandığı hikâye türüdür. Bu tarz hikâyenin temeli bir olay anlatımına dayanır. Olay hikâyesinde kahramanların ve çevrenin tasvirine önem verilir, okuyucuda merak ve heyecan duygusu uyandırılır. Durum hikâyeleri ise olaylardan çok, günlük yaşamın bir kesitini ele alıp anlatan hikâye türüdür. Belli bir zaman diliminde hayatın doğallığı içinde insanların davranışları; birbirleriyle ilişkileri; bazı olay, düşünce ve tasarılar karşısında gösterdikleri tepkiler ortaya konur.

Bu açıklamaya göre aşağıdakilerden hangisi durum hikâyesine örnek verilebilir?

- A) Bir kurmay subay, kıt'ayı karşılamaya geldi. Sedyede üzerinde taşınmakta olan kimsenin kim olduğunu sorunca, genç kız, kıpırdadı; iri mavi kaputtan iki küçük el dışarıya uzandı; kaybolmuş yıldızlar kadar parlak olan gözler ile pembe bir yüz meydana çıktı ve doğmakta olan bir gün gibi pırlıl pırlıl bir hâl almış olan bu minyon yüz, tatlı bir gülümseme ile cevap verdi:
— Benim, efendim.
- B) Mutfakta, üzeri damalı bir muşambayla kaplı, açılır kapanır masada, yaşamımın birçok dönemine tanıklık etmiş bu eski nesnede, çelik bir tasta çorba içiyorum. Masanın, ana katmanlarıyla yüklü ağırlaşmış yüzü hafif dalgalı bir denizi andırıyor. Muşamba ise sayısız kesik ve çiziklerle zamana karşı direnmiş. Bu izlerin kaçını ben yapmış olabilirim, bilmiyorum. Kalın dilimlenmiş ekmekler arasında dolaşan karıncalar görüyorum. Amaçsız bir geziye çıkmış gibiler.
- C) Güzel bir akşam vaktiydi. Yazı işlerinde memurluk yapan İvan Dimitriç Çerviakov tiyatrodan önden ikinci sıradaki bir koltuğa oturmuştu. Dürbünle, Kornevil'in Çanları adlı oyunu izliyordu. Adamın oturmasına bakılırsa mutluluğun doruklarında olmalıydı. Derken, birdenbire dürbününü gözünden indirdi, öne eğildi ve hapşu!
- D) Köylülerle karıları, Goderville'in çevresindeki bütün yollardan kasabaya doğru geliyorlardı. Çünkü pazar vardı. Erkekler yorucu işlerle, sol omzu kaldırtıp beli çarpıtan saban tutmayla, duruş sağlam olsun diye dizleri birbirinden ayırtan buğday biçmeyle, köyün bütün ağır aksak ve yorucu işleriyle biçimlerini yitirmiş, uzun ve eğri bacalarının her deviniminde bütün vücutları öne düşerek rahat rahat ilerliyorlardı. Kolalanmış, yakalarına ve kollarına beyaz iplikten birer küçük resim işlenmiş, kemikli bedenleri üzerinde kabarmış mavi gömlekleri, içinden bir baş, iki kol ve iki ayak çıkan uçmaya hazır birer balona benziyordu.

- 25 İlık bir su gibidir, içimde yalnızlığım.

Yalnızlığım, ruhumda uzak bir ses gibidir.

Her sabah ufuklardan mavi şarkılar gelir

Ve her sabah ürperir içimde yalnızlığım.

...

Rüya rüzgârlarında bir yaprak yalnızlığım,

Düşüncem bir neydir ki ürperir perde perde.

Belki bu mısralarım esecek gönüllerde,

Fakat herkese uzak kalacak, yalnızlığım.

Aşağıdakilerden hangisi bu dizelerdeki benzetme sanatının göstergelerinden biri değildir?

- A) Yalnızlığın rüya rüzgârlarında bir yaprağa benzetilmesi
- B) Yalnızlığın ılık bir suya benzetilmesi
- C) Yalnızlığın şairin ruhundaki bir sese benzetilmesi
- D) Yalnızlığın şairin içinde ürperen sabaha benzetilmesi

- 26 Birdenbire evimi özledim. Anam buruşmuş oturuyordu. Ayva ağacında kuş vardı. Sonra pencerenin altına keskin hançer yapraklı, kabuğu ayrılmış bu okaliptüsü kim dikmişti? Zeytin yeşili yapraklarını sonbaharda kadınlar gelir, anamdan rica eder, toplarlardı. Öksürüklere, soğuk algınlıklarına birebir gelirmiş. Sonra bahçemizde sekiz ördekle iki küçük köpek vardı. Unnap ağacı dikenliydi. Komşuda nar vardı. Unnapın yemişi, yemişlerin en iğdeye benzeyeniydi. İğde bizim bahçede yoktu. Deniz kenarında, bahçıvan Mevlüt Ağa'nın çöplüğünde bitmişti.

Metnin dil ve anlatımıyla ilgili aşağıdakilerden hangisi söylenemez?

- A) Anlatım, birinci kişinin ağzından aktarılmıştır.
- B) Bilgilendirme, açıklama amacıyla yazılmıştır.
- C) Ağırlıklı olarak betimleyici anlatıma başvurulmuştur.
- D) Kişi, olay, yer unsurları kullanılmıştır.

MANTIK VE MUHAKEME

SORULAR

TEST 1

1 ve 2. soruları aşağıdaki bilgilere göre birbirinden bağımsız olarak cevaplayınız.

İzmir Bitki Koruma Derneği tarafından "Bitkileri Koruma ve Neslinin Devamlılığını Sağlama" konulu konferansa Amerika, Fransa, İspanya, Almanya, Japonya ve Hindistan'dan botanik bilimciler davet edilmiştir. Konferans sonrası nesli tükenmekte olan bitkilerin korunduğu saraya bakmaya giden botanik bilimciler yeraltı orkidesi, denizanası ağacı, mercan ağacı ve golf topu bitkisinin bir örneğini almak isterler. Onların hangi bitkileri aldıkları ile ilgili bilinenler şunlardır:

- Yeraltı orkidesi alanlardan biri Alman'dır.
- İspanyol ve Alman botanik bilimcilerin aldığı örneklerden biri aynıdır.
- Hindistanlının aldığı örnek, aynı örneği alan Fransız ve Japon'un aldığı örnekten farklıdır.
- Yeraltı orkidesi hariç her bitkinin örneğini iki kişi almıştır.
- Denizanası ağacı örneklerinden birini Amerikalı almıştır.

1 Hindistanlı botanik bilimci hangi bitkinin örneğini almıştır?

- A) Yeraltı orkidesi
- B) Denizanası ağacı
- C) Mercan ağacı
- D) Golf topu bitkisi

2 İspanyol'un mercan ağacı örneği aldığı biliniyorsa aşağıdakilerin hangisi yanlıştır?

- A) Alman, mercan ağacı örneği almıştır.
- B) Japon, mercan ağacı örneği almıştır.
- C) Fransız, golf topu bitkisi örneği almıştır.
- D) Hindistanlı, denizanası ağacı örneği almıştır.

3 Bir yemek yarışmasında yapılacak olan kebab, pilav ve çorba yemekleri Ceyda, Güllü, Ayten, Malik, Ertan ve Mahir adlı kişiler yapmıştır.

Yemekleri yapan kişilerle ilgili şunlar bilinmektedir:

- Her yemek türünü iki kişi yapmıştır.
- Ceyda ve Ayten farklı yemekleri yapmışlardır.
- Güllü kebab yapmıştır.
- Ertan çorba yapmıştır.
- Malik kebab yapmamıştır.
- Çorbayı iki erkek yapmıştır.
- İsimlerinin ilk harfleri aynı olan kişiler farklı türdeki yemekleri yapmışlardır.

Verilen bilgilere göre aşağıdakilerden hangisi kesinlikle doğrudur?

- A) Mahir ve Ertan aynı yemeği yapmıştır.
- B) Kebabı iki kız yapmıştır.
- C) Ayten kebab yapmıştır.
- D) Pilavı yapanlardan biri Ceyda'dır.

4 Afet, Bedri, Cenk, Çelik, Dilek, Ege ve Firuze adlı kişiler bir bilet kuyruğuna girmişlerdir.

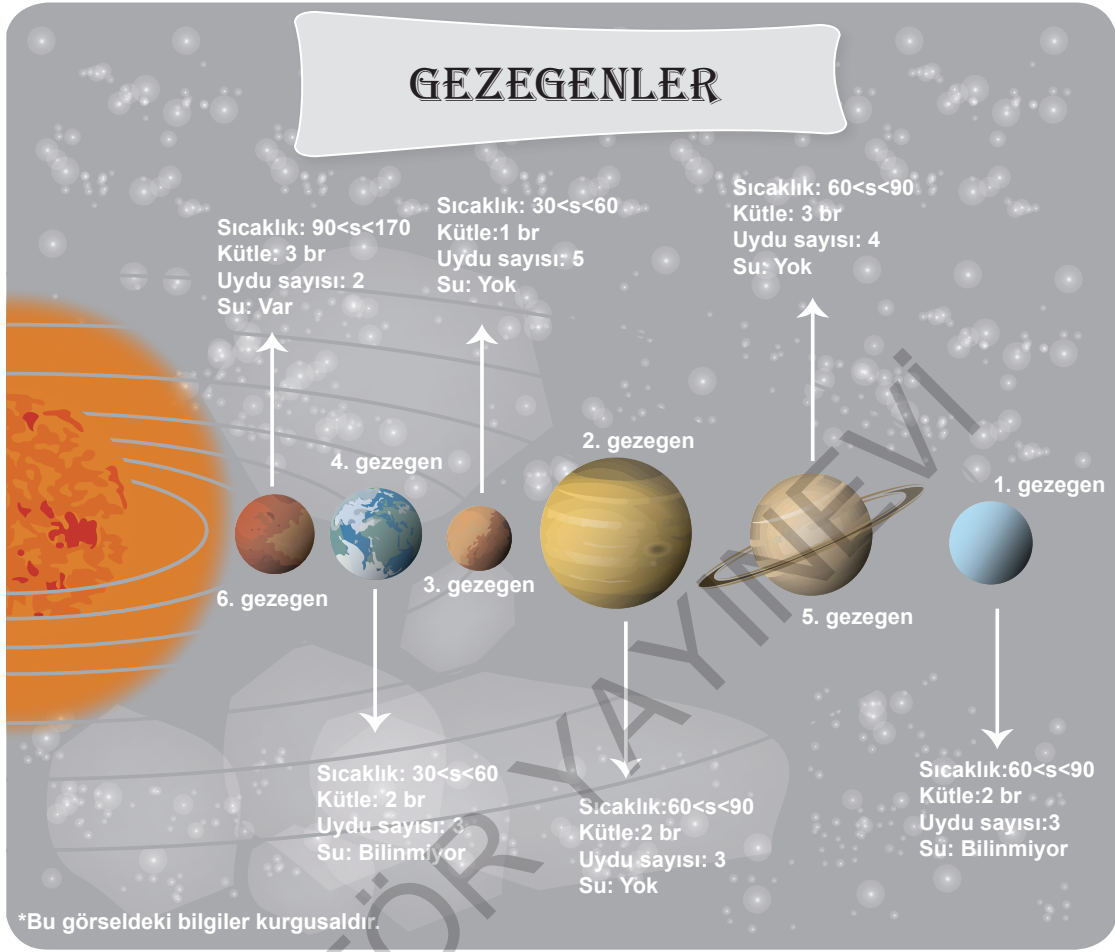
Bu kişilerin bilet kuyruğundaki sıralamalarıyla ilgili bilinenler şunlardır:

- Ne Afet ne Bedri birinci olmuştur.
- Ege kuyrukta 5. sıradadır.
- Dilek ve Ege arasında iki kişi vardır.
- Bedri ve Çelik art arda durmaktadırlar.
- Cenk, kuyrukta Ege'den hemen öncedir.

Buna göre Firuze kuyrukta kaçınıcı sıradadır?

- A) 1. B) 2. C) 3. D) 4.

5 ve 6. soruları aşağıdaki bilgilere göre birbirinden bağımsız olarak cevaplayınız.



Yapılan gözlemler sonucunda Venüs, Dünya, Mars, Jüpiter, Satürn ve Uranüs gezegenleriyle ilgili olarak astronomlar tarafından elde edilen bilgiler yukarıdaki görselde verilmiştir. Bu gezegenler hakkında ayrıca şunlar da bilinmektedir:

- Mars, Jüpiter ve Satürn gezegenlerinde su yoktur.
- Satürn ve Venüs gezegenlerinin kütleleri birbirine eşit, uydu sayıları birbirinden farklıdır.
- Jüpiter, Uranüs ve Satürn gezegenlerinde sıcaklık aynı sınırlar arasındadır.

5 Bu bilgilere göre 3. gezegen aşağıdakilerden hangisidir?

- A) Mars
- B) Jüpiter
- C) Dünya
- D) Uranüs

6 Bu bilgilere göre aşağıdaki ifadelerden hangisi doğrudur?

- A) Su bulunan tek gezegen Dünya'dır.
- B) Dünya ve Uranüs gezegenlerinin kütleleri eşittir.
- C) Sıcaklık üst sınırı en yüksek olan gezegende su yoktur.
- D) Bir numaralı gezegen Jüpiter'dir.

- 7 İnsanlar sarıdan kıza, beyazdan siyaha farklı ten renklerine sahip olabiliyor. Ten rengini belirleyen ise deride bulunan melanin pigmentinin türü ve miktarı. Melanin derimize, gözümüze, saçımıza renk veren pigmenttir ve derinin epidermis tabakasında bulunan melanosit hücreleri tarafından üretilir. Melanin pigmentinin deride iki türü bulunur. Bu pigmentlerden eumelanin cilde kahverengi - siyah, pheomelanin ise sarı - kırmızı renk verir. Tenleri koyu renk olan insanların cildinde eumelanin üretimi daha fazlayken pheomelanin üretiminin fazla olduğu kişilerin ten renkleri açık renklere sahiptir.

Ece'nin eumelanin üretiminin fazla olduğu, Emre'nin ise pheomelanin üretiminin fazla olduğu bilinmektedir.

Buna göre Ece ve Emre'nin ten renklerinin aşağıdakilerin hangisi gibi olması beklenir?

	Emre	Ece
A)	Kırmızı	Sarı
B)	Kırmızı	Siyah
C)	Siyah	Sarı
D)	Kahverengi	Kırmızı

- 8 Renk körlüğü bir canlının görme merkezinde özel bir pigment molekülünün bulunmaması veya gereğinden az bulunmasıdır. Bu eksiklik sonucunda çeşitli renklerin çevresindeki renkleri ayırt edilemez. Renk körlüğünün belirtisi kırmızı, yeşil ve mavi renkleri ayırt edememektir.

Bir ilkokulda öğretmen, çocuklara renkleri öğretmek istemektedir. Çocuklara duvarların, kapının, çiçeğin, masa örtüsünün rengini sormuştur. Bu eşyaların renkleriyle ilgili bilinenler şunlardır:

- Duvarların rengi mavidir.
- Kapının rengi kahverengidir.
- Çiçeğin rengi kırmızıdır.
- Masa örtüsünün rengi sarıdır.

Renk körü bir çocuk, buna göre aşağıdakilerden hangisinin rengini gösterememektedir?

	Duvarların rengi	Kapının rengi	Çiçeğin rengi	Masa örtüsünün rengi
A)	✓			✓
B)		✓	✓	
C)	✓		✓	
D)		✓		✓

9 ve 10. soruları aşağıdaki bilgilere göre birbirinden bağımsız olarak cevaplayınız.

Bir avcı hendek kazıp, farklı tuzaklar kurarak avladığı birkaç hayvanı hayvanat bahçelerine satmak ister. Avlanan hayvanlar ve avlanma şekilleri aşağıdaki tabloda verilmiştir.

	Hendek	Tuzak
Geyik		✓
Tavşan	✓	✓
Ceylan		✓
Sincap	✓	

Bu hayvanlardan ceylan ve geyik değerine göre satılırken tavşan ve sincap kilosuna göre satılmıştır. A, B, C, D, E adlı hayvanat bahçelerinin hangi hayvanı satın aldığıyla ilgili olarak bilinenler şu şekildedir:

- Tavşan hariç her hayvandan sadece bir hayvanat bahçesi almıştır.
- B hayvanat bahçesi tuzak kurularak avlanan hayvan türünden almıştır.
- A hayvanat bahçesi geyik almıştır.
- Farklı türden hayvan alan C değerine, E ise kilosuna göre hayvanı satın almıştır.

9 Bu bilgilere göre kiloyla satılan hayvan türlerinden aldığı bilinen hayvanat bahçesi;

- Geyik
- Ceylan
- Sincap

hayvan türlerinden hangisini almış olabilir?

- A) Yalnız I B) Yalnız III
C) I ve II D) II ve III

10 Verilen bilgilere göre aşağıdaki ifadelerden hangisi kesin olarak yanlıştır?

- A) A hayvanat bahçesi geyik almıştır.
B) C hayvanat bahçesi ceylan almıştır.
C) B hayvanat bahçesi sincap almıştır.
D) D hayvanat bahçesi tavşan almıştır.

11 ve 12. soruları aşağıdaki bilgilere göre birbirinden bağımsız olarak cevaplayınız.

Roman, hikâye, masal, şiir, deneme ve tiyatro türünde kitapların yer aldığı bir okul kütüphanesinden öğrencilerin yararlanmaları ile ilgili şu kurallara uyulmaktadır:

- Kütüphaneden roman türünde bir kitap alan öğrenciler, bu kitabı 15 günde teslim edeceklerdir ve roman kitabıyla aynı anda başka bir kitap alamayacaklardır.
- Masal kitabı alan öğrenciler, bu kitabın yanında bir de hikâye kitabı alacaklardır.
- Sayfa sayısı 300'den az olan kitaplar bir hafta içinde, 300'den fazla olan kitaplar ise iki hafta içinde teslim edilecektir.
- Şiir kitabı alan öğrenciler, aynı anda masal kitabı alamayacaklardır.
- Bir öğrenci aynı anda en fazla üç kitap alabilecektir.

11 Verilen bilgilerden hareketle aşağıdakilerden hangisi kesin olarak söylenebilir?

- A) Bir öğrenci kütüphaneden aynı anda hem roman hem de deneme türünde bir eser alabilir.
- B) Kütüphaneden hikâye kitabı almak isteyen bir öğrenci isterse bu kitabın yanında şiir kitabı da alabilir.
- C) Aysun, kütüphaneden aynı anda aldığı 200 sayfalık tiyatro ile 180 sayfalık denemeyi toplam sayfa sayısı 300'ü aştığı için iki haftada teslim edecektir.
- D) Şiir kitabı alan her öğrenci aynı zamanda tiyatro kitabı da almıştır.

12 Kütüphaneden aynı anda üç kitap alan bir öğrencinin aldığı kitapların türleri aşağıdakilerden hangisi olamaz?

- A) Tiyatro - deneme - hikâye
- B) Şiir - şiir - şiir
- C) Şiir - hikâye - masal
- D) Tiyatro - şiir - hikâye

ÇIKMIŞ SORU

13 İlçe çapında düzenlenecek müzik yarışması için A ve B okullarından Ebrar, Gülsüm, Kemal ve Murat seçilmiştir. Birlikte müzik grubu kuracak olan bu isimler; davul, gitar, piyano ve yan flüt çalacaktır.

Bu kişilerle ilgili bilinenler şunlardır:

- Her bir kişi sadece bir müzik aleti çalacaktır.
- Gülsüm davul çalacaktır.
- Murat, gitar ve piyanodan birini çalacaktır.
- Kemal'in yan flüt ve piyano çalmayacağı bilinmektedir.
- A okulundan seçilenler davul, yan flüt ve gitardan ikisini çalacaktır.
- Kemal ve Gülsüm farklı okuldan seçilmiştir.

Bu bilgilere göre aşağıdakilerden hangisi kesin olarak söylenebilir?

- A) Gülsüm ve Ebrar aynı okula gitmektedir.
- B) Kemal gitar çalacaktır ve B okulundadır.
- C) Ebrar A okulundadır ve yan flüt çalacaktır.
- D) Kemal ve Murat aynı okula gitmektedir.

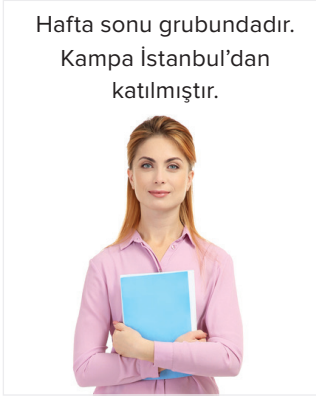
14 Elif, İdris, Emre, Zeynep, Tuba ve Ömer'den oluşan sarı, beyaz ve turuncu takımlar arasında "pas atma" oyunu oynanacaktır. Oyun ile ilgili şunlar bilinmektedir:

- Her takımda ikişer oyuncu vardır.
- Turuncu takım, beyazlara; beyazlar, sarılara ve sarılar turunculara pas atacaktır.
- Emre, Tuba'ya; Zeynep Elif'e; İdris ise Ömer'e pas atacaktır.
- Elif sarı takımdadır.
- Zeynep ve Ömer aynı takımdadır.

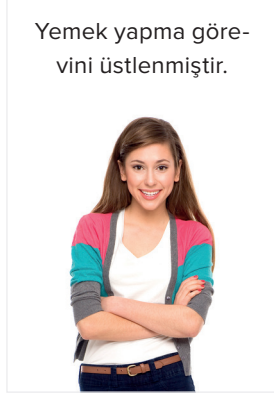
Bu bilgilerden hareketle aşağıdakilerden hangisi söylenebilir?

- A) Elif ile Emre aynı takımdadır.
- B) İdris ve Tuba farklı takımdadır.
- C) Zeynep sarı takımdadır.
- D) Ömer turuncu takımdadır.

- 15 Kamp kurmak için hafta içi ve hafta sonu gruplarında olan Suna, Çetin, Fatih, Pelin ve Fatma adlı kişiler seçilmiştir. Bu kişilerin her birine odun toplama, çadır kurma, yorgan ve yastıkları serme, yemek hazırlama ve içecek hazırlama gibi görevlerden biri verilmiştir. Kampa İstanbul, Ankara, Çorum, Erzincan ve Rize'den katılan bu kişilerin hangi grupta oldukları, hangi görevi yapacakları ve kampa nereden katıldıklarıyla ilgili bilinenler aşağıda verilmiştir.



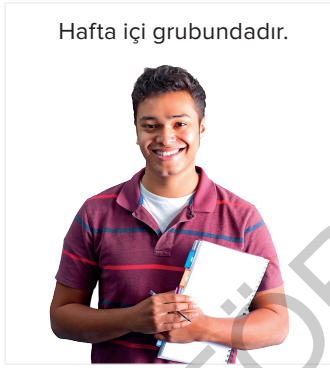
Suna



Pelin



Fatma



Çetin



Fatih

NOT: Odun toplama, yorgan ve yastıkları serme ve içecekleri hazırlama görevinde olanlar hafta içi kamp grubundadır.

Bu bilgilere göre kişilerden hangilerinin hem hangi grupta oldukları hem üstlendikleri görev hem de kampa nereden katıldıkları kesin olarak bilinmektedir?

- A) Suna - Fatma B) Fatih - Pelin C) Suna - Fatih D) Çetin -Suna

16

	Cuma	Cumartesi	Pazar
Spor Salonu			
Bina			

Bir okuldaki ebru, basketbol, tiyatro, satranç ve tasarım kursları bu tabloda belirtilen gün ve yerlerde yapılacaktır. Bu kursların yeri ve zamanıyla ilgili bilinenler şunlardır:

- Her gün, her alanda en fazla bir kurs yapılmaktadır.
- Basketbol ve tiyatro farklı günlerde fakat aynı yerde yapılmaktadır.
- Tasarım kursu binada bir gün arayla yapılmaktadır.
- Satranç ve ebru aynı gün ancak farklı yerlerde yapılmaktadır.

Ebru ve tasarım kurslarının farklı yerlerde yapıldığı bilindiğine göre aşağıdakilerden hangisinin ne zaman yapılacağı kesin olarak söylenemez?

- A) Ebru B) Satranç C) Basketbol D) Tasarım

ÇIKMIŞ SORU

17 Bazen ilacımızı zamanında içmeyi unutuyor, bazen de içtiğimizi unutup aynı ilacı tekrar alıyoruz. Bu soruna çözüm amaçlı bir akıllı ilaç kapağı tasarlanmış. Bu kapak telefona indirilen bir uygulamayla çalışıyor. Bu uygulamaya ilacın adı ve dozajı giriliyor. Kullanmanız gereken zamanda ilacın kapağını açmadığınızda telefonunuza “İlacını acilen al.”, aynı ilacı içtiğinizi unutup ikinci kez almaya kalktığınızda telefonunuza “Onu zaten almıştın.” uyarı mesajı geliyor. Akıllı ilaç kapağını zamanında açtığınızda ise “Teşekkür ederim.” mesajı geliyor.

Kıvanç Bey sabah alması gereken ilacını “V”, öğle vakti alması gereken ilacını “Y”, akşam alması gereken ilacını da “Z” şeklinde uygulamaya kaydediyor. Kıvanç Bey’in telefonuna gelen mesajlar aşağıdaki tabloda gösterilmiştir.

	Sabah	Öğle	Akşam
Pazartesi	İlacını acilen al.	Onu zaten almıştın.	Onu zaten almıştın.
Salı	Teşekkür ederim.	Teşekkür ederim.	Teşekkür ederim.
Çarşamba	Onu zaten almıştın.	Teşekkür ederim.	Teşekkür ederim.
Perşembe	Onu zaten almıştın.	İlacını acilen al.	Teşekkür ederim.
Cuma	Teşekkür ederim.	Teşekkür ederim.	Teşekkür ederim.

Bu bilgilere göre Kıvanç Bey’in ilaç kullanımıyla ilgili aşağıdakilerden hangisi söylenemez?

- A) Uygulamanın uyarıları, en çok pazartesi günü işine yaramıştır.
- B) Çarşamba günü “V” ilacını içtiğini unutmuştur.
- C) Perşembe günü “Y” ilacını içmeyi uygulama sayesinde hatırlamıştır.
- D) Uygulamanın uyarılarına en çok “Z” ilacı için ihtiyaç duymuştur.

18 Bir okulda futbol, basketbol ve voleybol takımlarına öğrenci seçimiyle ilgili şu kurallar uygulanmaktadır:

- Futbol takımına 5. sınıflardan öğrenci seçilmemektedir.
- Bir kişi hem futbol hem de voleybol takımına seçilebilir ancak basketbol takımına seçilen bir öğrenci başka bir takıma seçilemez.
- Basketbol takımına 1.60 cm boyundan kısa olan öğrenciler seçilmemektedir.

Verilenlere göre, 5. sınıfa giden ve 1.50 cm boyunda olan Ahmet’le 7. sınıfa giden ve 1.70 cm boyunda olan Soner’in seçilebileceği takımlar ile ilgili aşağıdakilerden hangisi söylenebilir?

- A) Ahmet basketbol takımına seçilemez ancak voleybol takımına seçilebilir.
- B) Soner basketbol takımına seçilemez.
- C) Soner ve Ahmet futbol takımında birlikte yer alabilir.
- D) Soner ve Ahmet voleybol takımında birlikte yer alamazlar.

19 ve 20. soruları aşağıdaki bilgilere göre birbirinden bağımsız olarak cevaplayınız.

Kaplan türlerinin dokuzunun soyu tükenmiştir. Kalan altı tür de tehlike altındadır. Kaplanların soyunun tükenmesinin ana nedenleri doğal alanların yok edilmesi, bölünmesi ve avlanmadır. Hayatta kalan kaplan türleri şunlardır: Bengal, Endonezya, Malay, Sumatra, Güney Çin ve Sibirya kaplanları. Bu kaplanların fotoğraflarını çeken bir fotoğrafçının fotoğrafları çekme sırasıyla ilgili bilinenler şunlardır:

- İlk olarak Bengal kaplanının fotoğraflarını çekmiştir.
- Endonezya ve Sumatra kaplanlarının fotoğraflarını art arda çekmiştir.
- 4. sırada Malay kaplanının fotoğraflarını çekmiştir.
- Güney Çin kaplanının fotoğraflarını çektikten sonra Sibirya kaplanının fotoğraflarını çekmiştir.

19 Fotoğrafçının 2. sırada çektiği fotoğraf Sumatra kaplanı ise aşağıdakilerden hangisi kesinlikle yanlıştır?

- A) 3. sırada Endonezya kaplanının fotoğrafını çekmiştir.
- B) 5. sırada Sibirya kaplanının fotoğrafını çekmiştir.
- C) Sumatra kaplanının fotoğraf çekimi ile Malay kaplanının fotoğraf çekimi arasında bir kaplanın fotoğrafını çekmiştir.
- D) Malay kaplanından hemen sonra Güney Çin kaplanının fotoğrafını çekmiştir.

- 20**
- I. Güney Çin
 - II. Sumatra
 - III. Sibirya

Yukarıdaki kaplanlardan hangisinin fotoğrafı 5. sırada çekilmiş olabilir?

- A) I ve II
- B) II ve III
- C) Yalnız III
- D) I ve III

21 ve 22. soruları aşağıdaki bilgilere göre birbirinden bağımsız olarak cevaplayınız.

Sema Öğretmen, Türkçe dersinde 4 farklı masada etkinlikler düzenlemiştir. Etkinliklere Zeynep, Zülfü, Öznur, Ece, Murat, Burak, Seda, Gizem katılacaktır.

1. masadaki öğrenciler afiş hazırlayacaktır.
2. masadaki öğrenciler resim çizeceklerdir.
3. masadaki öğrenciler şiir yazacaklardır.
4. masadaki öğrenciler akrostiş yazacaklardır.

Masalarda hangi öğrencilerin olduğuyla ilgili bilinenler şu şekildedir:

- Her masada iki öğrenci çalışmaktadır.
- Burak ve Zeynep afiş hazırlamaktadır.
- Öznur ve Ece aynı masada çalışmaktadır.
- Zülfü resim masasında çalışmaktadır.
- Gizem akrostiş masasında değildir.

21 Zülfü ve Seda'nın resim masasında olduğu biliniyorsa aşağıdakilerden hangisi yanlıştır?

- A) Öznur akrostiş masasındadır.
- B) Gizem şiir masasındadır.
- C) Murat akrostiş masasındadır.
- D) Ece akrostiş masasındadır.

- 22**
- I. Öznur
 - II. Murat
 - III. Zülfü

Yukarıdakilerden hangileri şiir yazmış olabilir?

- A) I ve II
- B) I ve III
- C) Yalnız III
- D) II ve III

23



Buna göre aşağıda verilen şifrelerden hangisi güçlü olarak kabul edilebilir?

A)



B)



C)

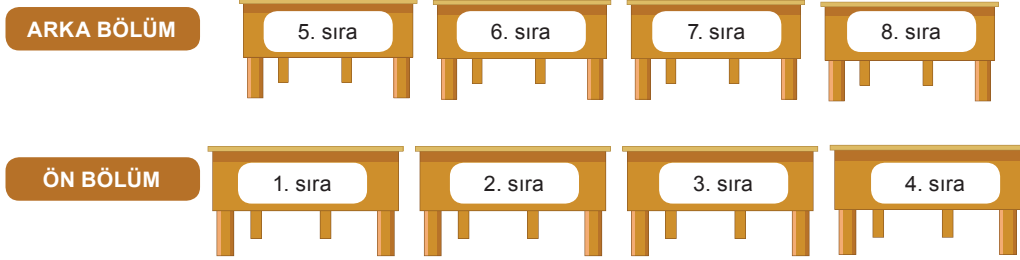


D)



24 ve 25. soruları aşağıdaki bilgilere göre birbirinden bağımsız olarak cevaplayınız.

Afet, Banu, Cansu, Demir, Erkan, Fatih, Gurbet ve Hasan'ın gittikleri kursun sınıf planı aşağıda verilmiştir.



Bu kişilerin oturdukları sıralarla ilgili şunlar bilinmektedir:

- Sınıftaki her sırada bir kişi oturmaktadır.
- Afet ve Banu'nun sıraları yan yanadır ve ön bölümde yer almaktadır.
- Gurbet ve Hasan'ın sıraları aynı bölümde yer almaktadır.
- Demir ve Fatih'in sıraları farklı bölümlerdir.

24 Buna göre kimlerin oturdukları sıralar bilinirse herkesin oturduğu bölümler tam olarak bilinir?

- A) Cansu ve Erkan B) Demir ve Fatih
C) Fatih ve Cansu D) Hasan ve Erkan

25 Cansu'nun 5. sırada oturduğunu kabul edersek aşağıdakilerden hangisi kesinlikle doğru olur?

- A) Demir arka bölümde bir sırada oturmaktadır.
B) Fatih ön bölümde bir sırada oturmaktadır.
C) Gurbet ve Hasan'ın sıraları yan yanadır.
D) Erkan ön bölümde bir sırada oturmaktadır.

26 Bir kırtasiyeye giden Utku, Kenan, Ferhat, İdris, Orçun ve Sedat isimli öğrenciler kitap satın almışlardır. Bunlardan üçü roman, ikisi hikâye ve biri de masal türünde kitap almıştır.

Öğrencilerin aldıkları kitaplarla ilgili bilinenler şunlardır:

- İdris, Utku ve Ferhat birbirinden farklı türde kitaplar almışlardır.
- Orçun; Ferhat ile aynı, Sedat'tan farklı türde kitap almıştır.
- Kenan, roman türünde kitap almıştır.

Bu bilgilere göre aşağıdakilerden hangisi kesinlikle yanlıştır?

- A) Orçun, hikâye türünde kitap almıştır. B) Sedat, masal türünde kitap almıştır.
C) Utku, masal türünde kitap almıştır. D) İdris, roman türünde kitap almıştır.

SORULAR

TEST 2

1 - 3. soruları aşağıdaki bilgilere göre birbirinden bağımsız olarak cevaplayınız.

Açıklama: Mantık sorusu; çözüm için yararlanacağınız ipuçları, bu ipuçlarını yerleştireceğiniz bir diyagram ve ulaştığınız sonuçları işleyeceğiniz cevap tablosundan oluşmaktadır.

İpuçlarındaki her “kesin evet” için bir “+”, her “kesin hayır” için bir “-” işaretini diyagramda ait oldukları kutucuklara işaretleyin. “+” ve “-”ler çoğaldıkça ortaya yeni pozitif veya negatif veriler çıkacak, bu verileri de yine “+” veya “-” işaretlerine dönüştürerek problemi çözeceksiniz. Diyagramda renkli çizgilerle sınırlanmış herhangi bir bölümdeki herhangi bir kutucuğa “+” işareti koyduğunuzda, o “+” işaretinin yatay ve düşey doğrultusunda geri kalan diğer kutucuğa hemen “-” işareti (bir tanesi pozitif olunca diğerleri otomatik olarak eleneceğinden) koyun. Kesinleşen sonuçları bir taraftan da sonuç tablosuna işlemeyi unutmayın, ipuçlarında göremediğiniz bazı verilerin burada kendiliğinden ortaya çıktığını göreceksiniz. Her ipucu ve ortaya çıkan yeni pozitif veya negatif veri sizi adım adım çözüme götüreceğinden tahmin veya deneme/yanılma yöntemiyle bulmacayı çözmeye çalışmamalısınız. Bu bilgiler doğrultusunda aşağıdaki örneği inceleyelim.

Örnek: Bir restorana giden dört arkadaşın istediği menü ve ödediği fiyatı bulmak için aşağıdaki ipuçlarından yararlanılmış ve “+”, “-” işaretleri konarak çözümlenmiştir.

- Serkan çorba ya da 9,75 TL olan menüyü talep eden müşteridir.
- Derya, sarma siparişi veren müşteriden daha az ödeme yapar.
- Serkan döner siparişi verir.
- 8,75 TL ödeyen kişi köfte siparişi verdi.
- Jale, döner siparişi veren kişiden 1 TL daha az ödedi.

		Müşteriler				Menü			
		Derya	Jale	Serkan	Vedat	Döner	Köfte	Sarma	Çorba
Ücret	6,75 TL	+	-	-	-	-	-	-	+
	7,75 TL	-	-	-	+	-	-	+	-
	8,75 TL	-	+	-	-	-	+	-	-
	9,75 TL	-	-	+	-	+	-	-	-
Menü	Döner	-	-	+	-				
	Köfte	-	+	-	-				
	Sarma	-	-	-	+				
	Çorba	+	-	-	-				

Ücret	Menü	Müşteri	Ücret	Menü	Müşteri	Ücret	Menü	Müşteri	Ücret	Menü	Müşteri
6,75	Çorba	Derya	7,75	Sarma	Vedat	8,75	Köfte	Jale	9,75	Döner	Serkan

Türkiye’de bu yıl bir dizi yol iyileştirme projesi ile bazı illerin yol yapımı gerçekleştirilecektir. Sadece ipuçlarını kullanarak her bir yol projesinin ilini, mühendisini ve başlangıç ayını belirleyerek yandaki diyagramı tamamlayalım.

- Erol’un yol projesi, Hatay ili yol projesinden 1 ay önce başlıyor.
- Harun’un yol projesi ya Ordu ili yol projesi ya da haziran ayında başlayan projedir.
- Haziran ayında başlayan yol projesi, Ferdi tarafından yönetilecektir.
- Edirne yol projesi temmuz ayında başlayacaktır.
- Edirne ilinin yol projesi mühendisi Erol değildir.

		İl				Mühendis			
		Adana	Edirne	Hatay	Ordu	Erol	Ferdi	Güney	Harun
Aylar	Nisan				+				
	Mayıs					+			
	Haziran						+		
	Temmuz		+						
Mühendis	Erol								
	Ferdi			+					
	Güney								
	Harun				+				

1 Harun hangi ay yol projesini gerçekleştirecektir?

- A) Nisan B) Mayıs
C) Haziran D) Temmuz

2 Adana ilinin yol projesini hangi mühendis gerçekleştirecektir?

- A) Erol B) Ferdi
C) Harun D) Güney

3 Temmuz ayında gerçekleştirecek yol projesinin mühendisi aşağıdakilerden hangisidir?

- A) Erol B) Harun
C) Güney D) Ferdi

4 ve 5. soruları aşağıdaki bilgilere göre birbirinden bağımsız olarak cevaplayınız.

Sınava hazırlanan Helin, Sude, Bahar, Miraç ve Aras adlı 5 arkadaş Data, Editör, İnovasyon, Angora ve MEB yayınlarının konu anlatımlı kitaplarını almıştır. Bu kişilerin aldıkları kitaplarla ilgili bilinenler şunlardır:

- Helin, Data Yayınlarının kitabını almıştır.
- Editör ve İnovasyon yayınları birlikte alınmıştır.
- Her yayın en az bir kişi tarafından alınmıştır.
- Sude ve Bahar aynı iki kitabı birlikte almışlardır.
- İki kişi ikişer kitap, diğerleri ise birer kitap almıştır.

4 Verilen bilgilere göre;

- I. Helin
- II. Aras
- III. Sude
- IV. Miraç

kişilerinden hangileri MEB Yayınlarının kitabını almış olabilir?

- A) I ve II B) II ve III
C) II ve IV D) III ve IV

5 Miraç'ın MEB kitabını aldığı biliniyorsa aşağıdakilerden hangisi yanlış olur?

- A) Aras yalnızca Angora Yayınlarının kitabını almıştır.
B) Sude ve Bahar aynı iki kitabı almışlardır.
C) Helin Data Yayınlarının kitabını almıştır.
D) Sude Angora Yayınlarının kitabını almıştır.

6 - 8. soruları aşağıdaki bilgilere göre birbirinden bağımsız olarak cevaplayınız.

Okullar arasında düzenlenen masa tenisi turnuvasında Merve, Barış, Ceren, Serhat, Ebru, Gizem ve Celal adlı 7 arkadaş yarışmışlardır. Turnuva sonuçları ile ilgili bilinenler şu şekildedir:

- Barış birinci olamamıştır.
- Merve'nin derecesi Ceren'den daha yüksek, Gizem'den daha düşüktür.
- Celal yalnızca Serhat'ı geçebilmiştir.
- Ceren yarışmada 4. olmuştur.

6 Gizem'in ikinci olduğu durumda 1. kim olmuştur?

- A) Merve B) Serhat
C) Ebru D) Gizem

7 Verilen bilgiler aşağıdakilerden hangisinin kesin olarak bilinmesi için yeterlidir?

- A) Barışın kaçınıcı olduğu
B) Kimin sonuncu olduğu
C) Gizem'in kaçınıcı olduğu
D) Kimin ikinci olduğu

8 Verilen bilgilere göre Gizem'in birinci olduğu düşünülürse aşağıdakilerden hangisi kesin olarak yanlıştır?

- A) Barış'ın derecesi Celal'den daha yüksektir.
B) İlk iki dereceyi alan bayan yarışmacılardır.
C) Gizem'in derecesi Barış'tan daha yüksektir.
D) Ebru'nun derecesi Gizem'den daha yüksektir.

9 A, B, C ve D bloklarından oluşan Alp Sitesi'nin kapalı yüzme havuzunun kullanımı ile ilgili kurallar şunlardır:

- A ve B blokları havuzu tam gün ve haftada iki gün kullanabilir.
- C ve D blokları havuzu yarım gün ve haftada üç gün kullanabilir.
- Cuma günü havuzun temizlik günüdür ve havuz kullanıma kapalıdır. Ayrıca hiçbir blok havuzu iki gün arka arkaya kullanmamaktadır.
- A blokta oturanlar havuzu bir gün arayla kullanmaktadırlar.
- D blokta oturanların havuzu kullanım günlerinden biri cumartesi, diğerleri ise A blokun havuzu kullandığı günlerden önceki günlerdir.
- Havuzu tam gün ve yarım gün kullanan blokların ortak günü yoktur.

Yukarıda verilen bilgilerden hareketle aşağıdakilerden hangisi söylenemez?

- A) B blokta oturanlar havuzu salı günü kullanabilirler.
- B) A ve B blokta oturanlar haftanın bir günü havuzu beraber kullanırlar.
- C) C ve D blokta oturanlar havuzu hiçbir gün ortak kullanmazlar.
- D) A blokta oturanlar havuzu perşembe günü kullanırlarsa B blokta oturanlar havuzu çarşamba günü kullanamazlar.

10 Fuat Bey, şahsi görüşmelerini ve iş görüşmelerini yapmak için iki ayrı telefon kullanmaktadır. Kullandığı telefonların ikisine de şifre koymuştur. Fuat Bey'in telefonlarına koyduğu şifrelerle ilgili şunlar bilinmektedir:

- Fuat Bey her iki telefon için farklı şifreler oluşturacaktır. Şahsi görüşmelerini yaptığı telefon 1. telefon, iş görüşmelerini yaptığı telefon 2. telefondur.
- 1. telefon için oluşturduğu şifre en az beş karakterden oluşmak zorundadır.
- Her iki telefon için oluşturduğu şifrede de özel karakterlerden (!, \$, +, %, &, ?, #, @) en az biri olmak zorundadır.
- Oluşturulan şifrelerde en az bir küçük harf, büyük harf ve bir rakam olmak zorundadır.
- 2. telefonda kullanacağı şifrede, ilk telefonda kullandığı sembol, özel karakterler, harf ve rakamlardan hiçbirini kullanmayacak ve bu şifre en az altı karakterden oluşacaktır.

Verilenlerden hareketle Fuat Bey'in oluşturduğu şifreler aşağıdakilerden hangileri olabilir?

	1. telefon	2. telefon
A)	K%35g	!L4ga+
B)	Lg2s	dD@07%
C)	789eR?	E\$Tr^#
D)	7?cA6&	Z+k2%@0

11 Aşağıda Ayça, Burak, Can ve Demet adlı kişilerin aldığı tabletlerin özellikleri verilmiştir.

Markası	Ağırlığı	Fiyatı	Depolama Alanı	Batarya Ömrü	Ekran Boyutu
A	720 gr	1.900 TL	32 GB	6 saat	12.9 inç
B	615 gr	1.100 TL	16 GB	5 saat	10.2 inç
C	500 gr	2.100 TL	32 GB	8 saat	10.2 inç
D	860 gr	1.500 TL	16 GB	4 saat	12.9 inç

Her biri farklı bir tablet alan bu kişilerin satın aldıkları tabletlerin özellikleri şöyledir:

- Ayça rahat taşınabilen ve depolama alanı geniş olan tableti almıştır.
- Burak batarya ömrü oldukça uzun olan ve en büyük ekranlı tableti almıştır.
- Demet en uygun fiyatlı tableti almıştır.

Bu bilgilere göre aşağıdakilerden hangisi yanlıştır?

- A) Burak'ın tableti Can'ın tabletinden daha hafiftir.
- B) Demet'in tabletinin batarya ömrü Ayça'ninkinden fazladır.
- C) Ayça ile Burak'ın aldığı tabletlerin depolama alanları aynıdır.
- D) Can'ın tabletinin ekran boyutu, Demet'inkinden büyüktür.

12 ve 13. soruları aşağıdaki bilgilere göre birbirinden bağımsız olarak cevaplayınız.

Bir pastane müşteri çekebilme amacıyla haftanın belirli günlerinde aşağıdaki şartlara uygun olarak şöyle bir promosyon uygulamaktadır:

- Salı günleri tüm müşterilere bir bardak çay ikram edilecektir.
- Dört ve daha fazla kişinin olduğu masalara salı günleri çay ikramının dışında bir tabak kurabiye de ikram edilecektir.
- Çarşamba günleri en az üç kişinin olduğu masalara saat 20.00 ile 22.00 arasında meyve ikram edilecektir.
- Perşembe günleri beş kişiden daha kalabalık masalara Türk kahvesi ikram edilecektir.
- Cuma günleri saat 16.00 ile 17.00 arası en az 10 kişinin olduğu masalara ek pasta ikram edilecektir.
- Arka arkaya üç gün pastaneye gelen kişilere dördüncü gün, şartları sağlayamazsa bile saat gözetimeksizin günün ikramı sunulacaktır.

12 İlk gün salı olmak üzere dört gün arka arkaya tek başına pastaneye gelen bir kişiye, bu dört gün içerisinde aşağıdakilerden hangileri ikram edilmiştir?

- Çay - kurabiye
- Türk kahvesi - meyve
- Türk kahvesi - kurabiye
- Çay - ek pasta

13 Verilen bilgilere göre aşağıdakilerden hangisi söylenemez?

- Pazartesi'den başlayarak bir hafta boyunca her gün pastaneye gelen Berk, en az iki defa pastanenin ikramından yararlanır.
- Salı günü üç arkadaşıyla birlikte pastaneye gelen Cansu'ya ve arkadaşlarına çay ile kurabiye ikram edilmiştir.
- Saat 19.00'da pastaneden ayrılan Koray'a hiçbir zaman meyve ikram edilmez.
- Altı kişilik bir öğrenci grubuna Türk kahvesi ikram edilmişse günlerden perşembedir.

14 ve 15. soruları aşağıdaki bilgilere göre birbirinden bağımsız olarak cevaplayınız.

Malatya'dan İstanbul'a hareket eden bir otobüsün mola verebileceği şehirler Sivas, Kayseri, Nevşehir, Ankara, Bolu ve Sakarya'dır.



Bu otobüsün mola verme sistemiyle ilgili şunlar bilinmektedir:

- Yolculuk süresince iki defa mola verilmektedir.
- Nevşehir'de mola verince Bolu'da mola verilmemektedir.
- Kayseri ve Ankara'da birlikte mola verilir.
- Bolu ile Sakarya birlikte mola verilen şehirler değildir.

14 Verilen bilgilerden hareketle aşağıdakilerden hangisi söylenemez?

- Ankara'da mola verilecekse Sivas'ta mola verilmez.
- Sivas'ta mola verilirse Nevşehir'de de mola verilir.
- Sivas ve Sakarya birlikte mola verilen şehirler değildir.
- Nevşehir ve Kayseri birlikte mola verilen şehirler değildir.


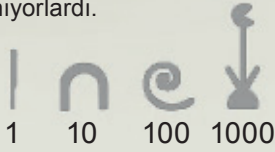
15 İkinci mola Bolu'da veren otobüs ilk mola hangi şehirde vermiştir?

- Sakarya
- Kayseri
- Sivas
- Nevşehir

16

Eski Mısır'da Sayılar

Eski Mısırlıların matematikte özellikle de geometride iyi olduklarını inşa ettikleri devasa piramitlerden anlıyoruz. Ayrıca binlerce yıl süren bir uygarlıkta ekonomide ve günlük yaşamda sayıların önemli bir yeri olmalıydı. Onların da bizim gibi onluk sisteme dayalı sayıları vardı. 1'i, 10'u, 100'ü ve 1000'i gösteren simgeler kullanıyorlardı.



Her simgeden kaç tane varsa o sayı simgenin belirttiği sayı ile çarpılır.



Acaba aşağıdaki papürsün üzerindeki sayı kaç olabilir?



Buna göre görseldeki sorunun cevabı aşağıdakilerden hangisidir?

- A) 1123 B) 1243
C) 1241 D) 1242

17 ve 18. soruları aşağıdaki bilgilere göre birbirinden bağımsız olarak cevaplayınız.

“Dünyanın en mutlu şehirleri arasında ilk sıradaki yerini kimselere kaptırmayan Kopenhag'a bir bakalım dedik. İnsanlar neden bu kadar mutlu? Orada her şey o kadar düzenli ve insanlar kurallara o kadar bağlı ki Kopenhag'da kaldığımız dört gün boyunca bu mutluluk serüvenine dahil olduk.”

Yukarıdaki yazı Ceren'in gezi yazılarını yazdığı defterinden alınmıştır. Ceren dört gün boyunca Tivoli Bahçeleri'ne, Stroget'e, Nyhavn'a, Rosenberg Sarayı'na, Kastellet'e ve Mermer Kilise'ye gitmiştir. Ceren'in Kopenhag gezisiyle ilgili bilinenler şunlardır:

- Gezinin son günü cumadır.
- Çarşamba ve perşembe iki, diğer günler bir yer gitmiştir.
- Stroget ve Tivoli Bahçeleri'ne art arda günlerde gitmiştir.
- Stroget ve Kastellet'e aynı gün gitmiştir.
- Rosenberg Sarayı'na gittiği gün başka bir yere gitmemiştir ve bir önceki günü Tivoli Bahçeleri'ne gitmiştir.

17 Buna göre aşağıdakilerden hangisi yanlıştır?

- A) Nyhavn'a salı günü gitmiştir.
B) Kastellet'e perşembe günü gitmiştir.
C) Rosenberg Sarayı'na cuma günü gitmiştir.
D) Stroget'a çarşamba günü gitmiştir.

18

- I. Salı
II. Çarşamba
III. Perşembe

Mermer Kilise'ye hangi günler gitmiş olabilir?

- A) I ve II B) II ve III
C) I ve III D) Yalnız III

19

BİRLİKTE YAŞAYABİLEN CANLILAR

	Beyaz uçlu köpek balığı	Pilot balığı	Bayrak kuyruklu kaya balığı	Tetik karidesi	Yakut boğazlı sinek kuşu	Kardinal çiçeği
◆ : Birlikte yaşayabilir. ♣ : Birlikte yaşayamaz.						
Beyaz uçlu köpek balığı	♣	◆	♣	♣	◆	♣
Pilot balığı	◆	♣	♣	◆	♣	♣
Bayrak kuyruklu kaya balığı	♣	♣	♣	◆	♣	♣
Tetik karidesi	♣	◆	◆	♣	♣	♣
Yakut boğazlı sinek kuşu	◆	♣	♣	♣	♣	◆
Kardinal çiçeği	◆	♣	♣	♣	◆	♣

Buna göre birlikte yaşayan canlılar aşağıdakilerin hangisinde doğru verilmiştir?

- A) Beyaz uçlu köpek balığı - Tetik karidesi - Kardinal çiçeği
 B) Kardinal çiçeği - Yakut boğazlı sinek kuşu - Beyaz uçlu köpek balığı
 C) Bayrak kuyruklu kaya balığı - Pilot balığı - Yakut boğazlı sinek kuşu
 D) Pilot balığı - Bayrak kuyruklu kaya balığı - Kardinal çiçeği

20

Oryantiringde sporcular kendilerine verilen yarışma bölgesinin haritasında belirtilmiş hedeflere sırasıyla ve en kısa sürede ulaşmaya çalışırlar. Kontrol noktalarında turuncu ve beyaz bayraklar bulunur. Yarışmacılar kendilerine bir renk belirleyerek tüm kontrol noktalarında aynı renkteki bayraktan alırlar. Cumartesi ve pazar günü düzenlenecek olan yarışmaya katılan Aydan, Buket, Cenk, Dilara ve Esen adlı kişilerin hangi renkte bayrak topladıkları ile ilgili bilinenler aşağıda verilmiştir.

- Her bir kişi yalnızca bir renkte bayrak toplamıştır.
- Cumartesi günü düzenlenen oyunda her renkteki bayraktan sadece birer kişi toplamıştır.
- Pazar günü düzenlenen yarışmada beyaz bayraktan yalnızca Esen toplamıştır.
- Aydan ve Cenk, aynı renkteki bayraktan farklı günlerdeki yarışmalarda toplamışlardır.
- Buket, cumartesi günü düzenlenen yarışmada bayrak toplamıştır.

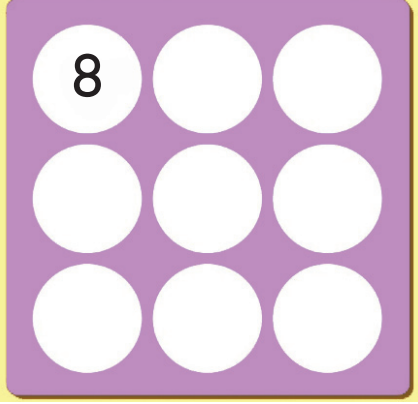
Buna göre aşağıdakilerden hangisi bilinirse tüm kişilerin topladıkları bayraklar belirlenebilir?

- A) Buket'in hangi gün yarışmaya katıldığı
 B) Aydan'ın hangi gün yarışmaya katıldığı
 C) Dilara'nın yarışmaya hangi gün katıldığı
 D) Cenk'in hangi renkte bayrak topladığı

21


BEYNİNİZİ ÇALIŞTIRIN

1'den 9'a kadar olan bütün rakamları dairelere bir kez kullanarak öyle yerleştirmelisiniz ki satırlardaki, sütunlardaki ve köşegenlerdeki toplamlar 15 olmalı.




Buna göre aşağıdakilerin hangisinde yerleştirme doğru yapılmıştır?

A)




B)



C)



D)



22 ve 23. soruları aşağıdaki bilgilere göre birbirinden bağımsız olarak cevaplayınız.

Köyde yaşayan Ahmet, Mehmet, Erdem ve Engin adlı dört arkadaş tavuklarını uçurmaya karar verirler. Bu tavukların uçuşlarıyla ilgili bilinenler şunlardır:

- Kaydedilen en uzun uçuş 13 saniyedir.
- Tavukların uçuşlarının arasında 3 saniye bulunmaktadır.
- Tavukların uçuş süreleri birbirinden farklıdır.
- En uzun uçan tavuk Erdem ve Engin'in tavuğu değildir.
- Engin'in tavuğu Ahmet'in tavuğundan 3 saniye az uçmuştur.
- Mehmet'in tavuğu Erdem'in tavuğundan daha uzun süre uçmuştur.

22 Bu bilgilere göre aşağıdakilerden hangisi kesinlikle yanlıştır?

- A) Ahmet'in tavuğu 13 saniye uçmuştur.
- B) Erdem'in tavuğu 10 saniye uçmuştur.
- C) Engin'in tavuğu 10 saniye uçmuştur.
- D) Mehmet'in tavuğu 4 saniye uçmuştur.

23

- I. Mehmet
- II. Erdem
- III. Ahmet

Yukarıdakilerden hangisinin tavuğu en uzun uçuşu gerçekleştirmiş olabilir?

- A) I ve II
- B) II ve III
- C) I ve III
- D) Yalnız III

- 24 Merkezi sinir sistemi hücrelerinin beklenmedik, aniden elektriksel boşalması sonucu epilepsi ortaya çıkar. Birkaç dakika sürer ve geçer. Bu nöbetleri durdurmak veya olmasını engellemek için kişiler bazı ilaçlar kullanır. İnsanların vücut verilerini ölçme konusunda uzmanlaşmış bir firma olan Empatica tarafından geliştirilen Embrace adlı akıllı saat; 50 mg, 100 mg ve 200 mg şeklinde içilmesi gereken ilaçların alınması hâlinde "Tamamlandı", alınmasında geç kalındığında "Tamamlanmadı" ve alındığı hâlde nöbet oluşacaksa "Hastaya ulaş" şeklinde hasta yakınlarına mesajlar göndermektedir. Ayrıca hastaların gün içerisinde nöbet geçirmelerine neden olan durum ise 200 mg olan ilacın alınmasında geç kalınmış olmaktadır.

Epilepsi hastası olan Murat Bey'in sabah alması gereken ilaç 50 mg, öğle alması gereken ilaç 200 mg ve akşam alması gereken ilaç 100 mg'dır. Bu hastanın yakını olan Sinan Bey'in telefonuna akıllı saatin göndermiş olduğu mesajlar aşağıdaki tabloda gösterilmiştir.

	Sabah	Öğlen	Akşam
Pazartesi	Tamamlandı	Tamamlandı	Tamamlandı
Salı	Tamamlanmadı	Tamamlandı	Tamamlandı
Çarşamba	Tamamlandı	Tamamlanmadı	Hastaya ulaş
Perşembe	Tamamlanmadı	Tamamlanmadı	Tamamlanmadı
Cuma	Tamamlanmadı	Tamamlandı	Hastaya ulaş
Cumartesi	Hastaya ulaş	Hastaya ulaş	Tamamlandı
Pazar	Tamamlandı	Tamamlanmadı	Tamamlandı

Bu bilgilere göre Murat Bey'in kullanmış olduğu akıllı saatle ilgili olarak aşağıdakilerden hangisi söylenemez?

- A) Akıllı saatin uyarıları, en çok perşembe günü işe yaramıştır.
 B) Cumartesi günü yaşanan nöbetin nedeni 200 mg olan ilacın alınmamış olmasıdır.
 C) Hasta pazar günü gün içerisinde alması gereken ilaçların çoğunu almadığından saat, nöbet uyarı mesajı atmıştır.
 D) Akıllı saatin uyarılarına en az 100 mg olan ilaç için ihtiyaç duyulmuştur.

- 25 Scott Kelly ve Liu Wang adlı astronotlar beş gün süreyle uzaya gönderilmişler. Bu astronotlar gün içerisinde yalnızca bir öğün alabilmişlerdir. Astronotlara bu öğünde de yosun soslu istakoz, tarçınlı tost ekmeği, baharatlı domates soslu çitir sebze, kurutulmuş meyve ve konservede sebze seçenekleri sunulmuştur. Astronotların yiyecek tercihlerine ilişkin kimi bilgiler şu şekildedir:

- İki astronot da tüm yiyecek çeşitlerinden seçmişlerdir.
- Astronotlar, bir günde sadece bir çeşit yiyecek seçmişlerdir.
- Scott Kelly'in ikinci gün seçtiği yiyeceği Liu Wang dördüncü gün tercih etmiştir.
- Scott Kelly sırasıyla art arda yosunlu istakoz, baharatlı domates soslu çitir sebze ve kurutulmuş meyve tercih etmiştir.
- Liu Wang da sırasıyla art arda yosunlu istakoz, baharatlı domates soslu çitir sebze ve kurutulmuş meyve tercih etmiştir.
- Scott Kelly; konservede sebzeyi, baharatlı domates soslu çitir sebzedden önce tercih etmiştir.

Buna göre astronot Liu Wang beşinci gün,

- I. Kurutulmuş meyve
 II. Konservede sebze
 III. Tarçınlı tost ekmeği

yiyeceklerinden hangilerini seçmiş olabilir?

- A) Yalnız I B) Yalnız II C) II ve III D) I, II ve III

SORULAR

TEST 3

1 - 4. soruları aşağıdaki bilgilere göre birbirinden bağımsız olarak cevaplayınız.

Üniversite sınavını kazanan Yusuf, Nergis, Tuğçe, Zeynep, Ozan, Onur, Esra ve Ömer adlı 8 arkadaş dört ili tercih etmişlerdir. İzmir, Eskişehir, Bursa ve Ankara'daki üniversiteleri tercih eden öğrencilerin tercihleri ile ilgili bilinenler şu şekildedir:

- Her şehir iki öğrenci tarafından tercih edilmiştir.
- Yusuf ve Esra aynı şehri tercih etmişlerdir.
- Eskişehir'i tercih eden öğrenciler kızdır.
- Nergis Ankara'yı tercih etmiştir.
- Ozan ve Ömer farklı şehri tercih etmişlerdir.

1 Bu bilgilere göre aşağıdakilerden hangisi kesinlikle doğrudur?

- A) Zeynep Eskişehir'i tercih etmiştir.
 B) Ömer İzmir'i tercih etmiştir.
 C) Yusuf Bursa'yı tercih etmiştir.
 D) Onur ve Ömer ayrı şehirleri tercih etmiştir.

2 Verilen bilgilere göre aşağıdakilerden hangisi kesinlikle yanlıştır?

- A) Yusuf Bursa'yı tercih etmiştir.
 B) Esra Ankara'yı tercih etmiştir.
 C) Ömer İzmir'i tercih etmiştir.
 D) Zeynep ve Nergis farklı şehirleri tercih etmiştir.

3 Aşağıdakilerden hangisi İzmir'i tercih etmiş olamaz?

- A) Tuğçe
 B) Onur
 C) Ömer
 D) Yusuf

4 Aşağıdakilerden hangisi Onur'un gidebileceği şehirler olabilir?

- A) İzmir - Eskişehir
 B) İzmir - Bursa
 C) Eskişehir - Ankara
 D) Bursa - Ankara

ÇIKMIŞ SORU

5 19. yüzyılın ortasından itibaren büyük şehirlerde ulaşım sorun hâline gelmeye başlayınca ülkeler toplu taşımacılığa yönelmiştir. Bunun için bulunan çözümlerden biri de raylı taşımacılık yani metrodur. Dünyanın büyük şehirlerinde faaliyete geçen metro hatlarıyla ilgili bazı bilgiler şunlardır:

- İstanbul Tünel Metrosu, Budapeşte Metrosu'ndan önce hizmete girmiştir.
- Chicago (Şikago) Metrosu'ndan önce ve sonra açılan metro hatları vardır.
- İstanbul Tünel Metrosu açıldığında sadece bir metro hattı faaliyettedir.
- Budapeşte Metrosu, Londra Metrosu'ndan sonra açılmıştır.

Bu bilgilere göre metro hatlarının hizmete girme tarihleri aşağıdakilerin hangisinde doğru verilmiştir?

	1863	1875	1892	1896
A)	Budapeşte	İstanbul Tünel	Londra	Chicago (Şikago)
B)	İstanbul Tünel	Budapeşte	Chicago (Şikago)	Londra
C)	Londra	İstanbul Tünel	Chicago (Şikago)	Budapeşte
D)	Chicago (Şikago)	Londra	İstanbul Tünel	Budapeşte

- 6 Geniş bir aile olan Arslan ailesi, oturdukları evin kendilerine küçük geldiğini fark edip daha büyük bir eve taşınmaya karar verirler. Evin reisi olan Faruk Bey, emlakçıya gider; kendisi ve eşi, annesi ve babası, kızı, iki oğluna ayrı ayrı olmak üzere her çifte ve çocuklara oda düşecek şekilde ve biri misafirler diğeri de ev halkı için iki ayrı salondan oluşan bir ev kiralamak istediğini söyler. Bu evin apartman dairesi olmasını istemediklerini ve ısınma sisteminin de merkezi olması gerektiğini belirtir. Emlakçı da elinde bu özelliklerde bir ev olduğunu, birlikte gidip bakabileceklerini söyler.

Buna göre aşağıdakilerden hangisi emlakçının Faruk Bey'e gösterdiği ev olabilir?

A)

KİRALIK	
Cinsi	Villa
Oda Sayısı	7+2
Isınma Türü	Merkezi Sistem
EDİTÖR EMLAK	

B)

SATILIK	
Cinsi	Müstakil
Oda Sayısı	5+2
Isınma Türü	Merkezi Sistem
EDİTÖR EMLAK	

C)

KİRALIK	
Cinsi	Apartman Dairesi
Oda Sayısı	5+1
Isınma Türü	Merkezi Sistem
EDİTÖR EMLAK	

D)

KİRALIK	
Cinsi	Müstakil
Oda Sayısı	5+2
Isınma Türü	Merkezi Sistem
EDİTÖR EMLAK	

- 7 Sağlık Bakanlığı tarafından "Dünyadan Coronavirüse Mektup" adlı bir yarışma düzenlenecektir. Yarışma şartları şunlardır:

- Yarışmaya 5, 6, 7 ve 8. sınıf öğrencileri katılabilir.
- Eserler el yazısı ile yazılmalıdır.
- Eserlerin daha önce yayımlanmamış olması gerekmektedir.
- Eserler belirlenen sürede yazılıp istenilen adrese kargo ile gönderilmelidir.

Bu şartlara göre aşağıdakilerden hangisi bir eserin söz konusu yarışmaya kabul edilmesini engellemez?

- A) Daktilo aracılığı ile yazılması
 B) İl genelinde katılımın olduğu bir yarışmada yayımlanıp ödül alması
 C) Oluşturulan eseri, başkasının el yazısı ile yazması
 D) Liseye giden bir öğrenci tarafından yazılması

8 Katıldıkları yarışmada başarılı oldukları için kendilerine verilen madalyaları alan Hatice, Cenk, Murat, Nermin, Selim ve Zerrin adlı 6 arkadaşın madalya alma sıralarıyla ilgili olarak bilinenler şu şekildedir:

- Hatice, Murat'tan önce almıştır.
- Hatice ile Murat arasında bir kişi madalya almıştır ve bu kişi erkektir.
- Nermin'den hemen sonra bir kız madalya almıştır.
- Cenk Zerrin'den hemen sonra madalya almıştır.

Madalya alma sırasıyla ilgili olarak aşağıda verilenlerden hangisi kesinlikle yanlış olur?

- A) Hatice Selim'den önce madalya almıştır.
 B) Zerrin, Nermin'den sonra madalya almıştır.
 C) Cenk dördüncü sırada madalya almıştır.
 D) Murat üçüncü sırada madalya almıştır.

9 "Kelime Türetme" oyununu oynayan Sude ve Yusuf, oyunu belirlenen kurallara göre oynamışlardır. Oyun ile ilgili belirlenen kurallar şöyledir:

- Türetilecek her kelimenin bir önceki kelimenin son harfiyle başlaması gerekir.
- Kelimeler türetilirken ilk ve son harfleri aynı olan kelimeler kullanılmamalıdır. Örnek: kütük
- Hiçbir kelime diğer kelimelerle aynı harfle başlamamalıdır. Örnek: Birinci kelime "hayat" ise diğer kelimelerin hiçbirinin ilk harfi "h" olmamalıdır.

Sude ve Yusuf bu kurallara göre oynadıkları oyunda toplam beş kelime türetmişlerdir. Sude oyuna "kaya" kelimesini söyleyerek başlamıştır. Yusuf ise 4. kelime olarak "nadir" kelimesini söylemiştir.

Sude ve Yusuf, oyunun kurallarına uygun kelimeler bulduklarına göre 2, 3 ve 5. kelimeler aşağıdakilerin hangisi olabilir?

	2.	3.	5.
A)	ayet	tren	radar
B)	zakkum	maden	roka
C)	ayak	kağan	roket
D)	afet	ton	rahat

10 Hindistan'a ulaşan ilk kâşif olarak ün yapan Vasco de Gama bir kâşifin oğludur. Babasının izinden gitmiştir. Portekiz'de dünyaya gelen ünlü kâşif yolculuğuna 1497 yılında Lizbon'dan başladı. Daha önce keşfedilmiş olan Ümit Burnu'nun çevresini dolaşarak Atlas Okyanusu'nu aştı ve Hindistan'a ulaştı. Vasco de Gama baharat ticaretinde Portekiz egemenliğine yol açmıştır.

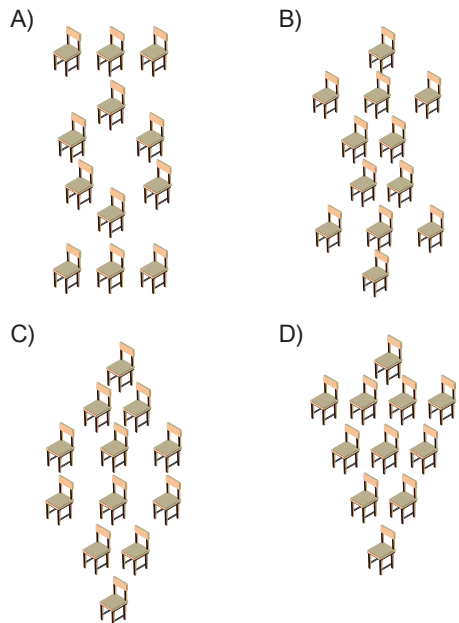
Vasco de Gama, Hindistan'a ulaşma yolculuğu sırasında nerelerden geçmiştir?

	Lizbon	Baharat Yolu	Ümit Burnu	Atlas Okyanusu	Afrika
A)	✓	✓	✓		✓
B)	✓		✓		
C)	✓		✓	✓	
D)	✓		✓		✓

11 Bir kurs merkezinde 12 adet sandalye belirli bir düzene göre dizilmiştir. Sandalyelerin dizilme şekli ile ilgili verilen bilgiler şunlardır:

- En önde ve en arkada sadece bir adet sandalye vardır.
- Sandalyeler önden ve arkadan aynı anda dizilmeye başlandığında, her sırada bir önceki sıraya ek olarak bir sandalye eklenmektedir.

Bu bilgilere göre sandalyelerin dizilmiş son hâli aşağıdakilerden hangisi olabilir?



12 - 14. soruları aşağıdaki bilgilere göre birbirinden bağımsız olarak cevaplayınız.

Aile ve Sosyal Politikalar Bakanlığı, Maliye Bakanlığının 65 yaşını doldurmuş Muhtaç, Güçsüz ve Kimsesiz Türk Vatandaşları ile Engelli ve Muhtaç Türk Vatandaşlarına Aylık Bağlanması Hakkında Yönetmelikte Değişiklik Yapılmasına Dair Yönetmelik Resmi Gazete'de yayımlandı. Söz konusu yönetmelikte aylık bağlanan kişilerin aylığa hak kazandıkları tarih, başvuru tarihini takip eden ay başı olacaktır.

Aylık için başvuran Ali, Ahmet, Cemile, Nuran, Necla adındaki beş vatandaşın aylığı almaya hak kazanma sıralarıyla ilgili bilinenler şunlardır:

- Kadınların hiçbiri art arda hak kazanmamıştır.
- Ahmet'ten sonra yalnız bir kişi aylık almaya hak kazanmıştır.
- Nuran, Ahmet'ten önceki bir günde aylık almaya hak kazanmıştır.

12 Buna göre aşağıdakilerden hangisi kesinlikle yanlıştır?

- A) Aylık almaya hak kazanan en son kişi Cemile'dir.
- B) Cemile, Ali'den önce hak kazanmıştır.
- C) Nuran aylık almaya hak kazanan son kişidir.
- D) Necla, Ahmet'ten önce hak kazanmıştır.

13 Necla'nın ilk sırada aylık almaya hak kazandığı biliniyorsa aşağıdakilerden hangisi yanlıştır?

- A) Ahmet'ten sonra aylık almaya hak kazanan kişi Ali'dir.
- B) Cemile, Ahmet'ten hemen sonra aylık almaya hak kazanmıştır.
- C) Nuran 3. sırada aylık almaya hak kazanmıştır.
- D) Ali ile Cemile arasında aylık almaya hak kazanan iki kişi vardır.

14 I. Necla II. Ali III. Cemile

Yukarıdakilerden hangileri aylık almaya son sırada hak kazanan kişiler olabilir?

- A) I ve II B) II ve III
- C) I ve III D) Yalnız III

15 - 17. soruları aşağıdaki bilgilere göre birbirinden bağımsız olarak cevaplayınız.

Bir ortaokulda balon patlatma yarışması düzenlenmiştir. Yarışmaya Melike, Berna, Burak, Murat, Senem adındaki beş arkadaş katılmıştır. Balon patlatma yarışmasının sonuçlarıyla ilgili bilinenler şunlardır:

- En fazla balon patlatan kişi 90 balon patlatmıştır.
- Herkesin patlattığı balon sayıları arasındaki fark 20'dir.
- Melike'den daha az balon patlatan yalnızca bir kişi vardır.
- Burak, Melike'den daha fazla balon patlatmıştır.
- En fazla balon patlatan kişi erkek değildir.
- Senem, Burak'tan daha fazla balon patlatmıştır.
- Murat, Burak'tan daha az balon patlatmıştır.

15 Buna göre aşağıdakilerden hangisi kesinlikle yanlıştır?

- A) En fazla balonu Burak patlatmıştır.
- B) En az balonu Berna patlatmıştır.
- C) En fazla balonu Senem patlatmıştır.
- D) En fazla balonu Berna patlatmıştır.

16 Verilen bilgilere göre aşağıdakilerden hangisi kesinlikle doğrudur?

- A) Murat'ın patlattığı balon sayısı, Berna'ninkinden 80 eksiktir.
- B) 30 tane balon patlatan kişi Melike'dir.
- C) Murat, Berna'dan 40 tane fazla balon patlatmıştır.
- D) Senem, Burak'tan 40 tane fazla balon patlatmıştır.

17 Buna göre;

- I. Burak
- II. Senem
- III. Murat

kişilerinden hangileri 70 balon patlatmış olabilir?

- A) I ve III B) II ve III
- C) Yalnız III D) I ve II

20 ve 21. soruları aşağıdaki bilgilere göre birbirinden bağımsız olarak cevaplayınız.

1961'den bu yana yalnızca 556 kişi uzay yolculuğu yapmış ve çok az insanın elde edebileceği bu deneyimi yaşamıştır. Bunların ancak 24'ü Dünya'nın gözden kayboluşunu izlemiş ve sadece 6'sı Ay'ın karanlık yüzünde tamamen yalnız kalabilmiştir. Ay'a ayak basanlardan bazıları Alan Bean, David Scott, James Irwin, Charles Duke, Eugene Cernan, Edgar Mitchell'dir. Bunların Ay'a ayak basma sıralarıyla ilgili bilinenler şunlardır:

- David Scott'tan önce Ay'a iki kişi gitmiştir.
- Alan Bean'dan sonra Ay'a giden bir kişi vardır.
- James Irwin, David Scott'tan önce Ay'a gitmiştir.
- Eugene Cernan ve Charles Duke, David Scott'tan sonra Ay'a gitmiştir.

20 Buna göre aşağıdakilerden hangisi kesinlikle yanlıştır?

- A) Eugene Cernan Ay'a 4. sırada çıkmıştır.
- B) Charles Duke Ay'a 4. sırada çıkmıştır.
- C) Edgar Mitchell Ay'a 1. sırada çıkmıştır.
- D) James Irwin Ay'a 5. sırada çıkmıştır.

21

- I. James Irwin
- II. Edgar Mitchell
- III. David Scott

Yukarıdakilerden hangisi Ay'a 2. sırada çıkmış olabilir?

- A) I ve III
- B) I ve II
- C) Yalnız I
- D) II ve III

22 ve 23. soruları aşağıdaki bilgilere göre birbirinden bağımsız olarak cevaplayınız.

Sağlıklı yaşam için gerekli omega-3 kaynağı olan balığı biz ne kadar tüketiyoruz? Bu sorunun yanıtı, FAO ve TÜİK raporlarında saklıdır. Dünya ortalaması 16,4 kilogram, Avrupa ortalaması 20,8 kilogram. Türkiye'de kişi başı balık tüketimi 7 kilogram. Avrupa'da tüketilen her üç balıktan birinin Türkiye'den gidiyor olmasına karşın biz çok fazla balık tüketmiyoruz. Buna bir çözüm bulmak isteyen yetkililer İstanbul, Ankara, Eskişehir, Konya, Balıkesir ve Düzce şehirlerinde festival düzenlemeye karar verirler. Festivalerin hangi günlerde yapıldığıyla ilgili bilinenler şu şekildedir:

- Festival 6 gün sürmüştür ve 3. günü perşembedir.
- Festivalin son gününden önceki gün festival Düzce'dedir.
- Eskişehir ve Konya'da art arda günlerde festival düzenlenmiştir.
- Festival Ankara'da ya perşembe ya da cuma günü olmuştur.
- İstanbul'da, Düzce'den önce festival düzenlenmiştir.

22 Buna göre aşağıdakilerden hangisi kesinlikle yanlıştır?

- A) Konya'da festival çarşamba günü yapılmıştır.
- B) Festival, İstanbul'da perşembe günü yapılmıştır.
- C) Balıkesir'de cuma günü festival düzenlenmiştir.
- D) Ankara'daki festival perşembe günü yapılmıştır.

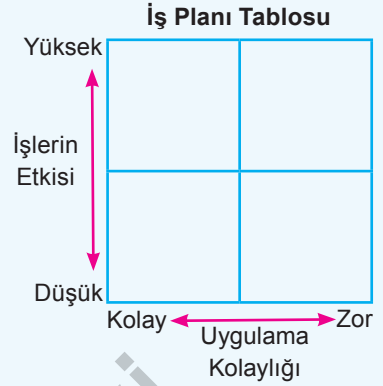
23 Verilen bilgilere göre aşağıdakilerden hangisi kesinlikle doğrudur?

- A) Eskişehir'den hemen sonra Konya'da festival düzenlenmiştir.
- B) Konya'da festival Ankara'dan hemen önceki gün düzenlenmiştir.
- C) Düzce'de festival Balıkesir'den hemen önceki gün düzenlenmiştir.
- D) İstanbul ile Ankara'da iki gün arayla festival düzenlenmiştir.

ÇIKMIŞ SORU

- 24 Sudenaz Hanım şirkette hafta boyunca yapacağı planlama, denetleme, personel alımı ve raporlama işleri için şekildeki gibi bir tablo hazırlamıştır. Yapacağı işleri tabloya yerleştirirken işlerin etki derecesini ve uygulama kolaylığını göz önünde bulundurmıştır. Bunları da şu şekilde belirlemiştir:

- Planlama: Uygulanması zor ve etkisi yüksek
- Raporlama: Uygulanması zor ve etkisi düşük
- Personel alımı: Uygulanması kolay ve etkisi yüksek
- Denetleme: Uygulanması kolay ve etkisi düşük



Sudenaz Hanım'ın bir hafta içinde yapacağı işler şunlardır:

- Şirketin son üç aylık durumunu ortaya koymak amacıyla üretim-satış verilerine ilişkin grafik ve tablolar hazırlamak
- Aksaklık olup olmadığını görmek amacıyla fabrikadaki işleyişi kontrol etmek
- Hangi işin, ne zaman yapılacağına dair bir çizelge hazırlamak
- Şirketin ihtiyacı doğrultusunda, iş başvurusunda bulunan adayların öz geçmiş formlarını incelemek

Bu bilgilere göre Sudenaz Hanım'ın yaptığı İş Planı Tablosu aşağıdakilerden hangisidir?

- A)

IV	III
II	I

 B)

I	IV
III	II

 C)

I	III
II	IV

 D)

IV	II
III	I

- 25 Dinozorlar yaklaşık 230 milyon yıl önce ortaya çıkmış hayranlık uyandırıcı hayvanlardır. Son yapılan araştırmada beş dinozor türü tespit edilmiş ve bu türler numaralandırılmıştır. 1 plesiyozor, 2 pterozor, 3 zalambdalestes, 4 kompsognatus ve 5 mikroraptor olarak numaralandırılmıştır. Bu dinozorların gökyüzünde, denizlerde ve karada yaşayabildikleri ortaya çıkmıştır. Hangi dinozorun nerede yaşayabildiği ile ilgili bilgiler aşağıda verilmiştir:

- Dinozorların üç türü denizlerde, üç türü gökyüzünde üç türü de karada yaşayabilme özelliğine sahiptir.
- Plesiyozor adlı dinozorun iki yerde yaşayabildiği bulunmuştur.
- Pterozor türünün yalnızca gökyüzünde yaşadığı tespit edilmiştir.
- Kompsognatus adlı dinozor türünün yalnızca karada yaşadığı sonucuna ulaşılmıştır.
- Karada yaşayabilen dinozorların numaraları ardışıktır.
- Mikroraptor türünün denizler dışında yaşadığı bir yer daha vardır.

Buna göre;

- I. Plesiyozor II. Zalambdalestes III. Kompsognatus IV. Mikroraptor

dinozorlarından hangilerinin hem karada hem denizlerde yaşadığı söylenebilir?

- A) I ve II B) II ve III C) II ve IV D) III ve IV

SORULAR

TEST 4

1 Bir dili öğrenmenin en iyi yolu aslında onu konuşmaktır. Hello Talk adlı uygulama da bu bilgiden yola çıkılarak oluşturulmuştur. Hello Talk adlı uygulama, sizi ücretsiz sohbet etmek için ana dil konuşurlarına bağlar. Ancak bu yalnızca standart sohbet uygulaması değildir. Aynı zamanda bir dilde pratik yapmayı, eğlenceli ve zahmetsiz hale getirmek için yenilikçi araçlar ile doludur. Bu uygulamada ortak çalışmaya dayalı bir öğrenme deneyimi için bireysel üyelerle sohbet edebilir veya grup sohbetlerine katılabilirsiniz. Ancak bu uygulamanın kullanımıyla ilgili bazı kurallar bulunmaktadır. Bu kurallar şunlardır:

- Bu uygulama ile İngilizce, Fransızca, İtalyanca ve Rusça olmak üzere dört dil öğrenilebilmektedir.
- Birlikte öğrenilecek diller ve sıraları, İngilizce-Fransızca, Fransızca-İtalyanca ve İtalyanca-Rusça şeklindedir.

Hello Talk uygulamasında dillere ait araçları kullanım ve gruplarla sohbet saatleri aşağıdaki gibidir.

PAZARTESİ

İNGİLİZCE	FRANSIZCA	İTALYANCA	RUSÇA
Başlangıç: 09.00	Başlangıç: 11.00	Başlangıç: 11.30	Başlangıç: 13.30
Bitiş: 10.15	Bitiş: 12.30	Bitiş: 13.00	Bitiş: 15.15

SALI

İNGİLİZCE	FRANSIZCA	İTALYANCA	RUSÇA
Başlangıç: 09.00	Başlangıç: 09.30	Başlangıç: 11.30	Başlangıç: 14.30
Bitiş: 10.00	Bitiş: 11.00	Bitiş: 13.30	Bitiş: 16.00

Bu uygulamada İngilizce öğrenilmeden Fransızca, Fransızca öğrenilmeden İtalyanca, İtalyanca öğrenilmeden Rusça öğrenilememektedir.

Buna göre aynı gün alınan iki dil ve bu dillerin hangi gün alınabildiğiyle ilgili aşağıda yapılan eşleştirmelerden hangisi doğrudur?

A) Pazartesi → Fransızca-İtalyanca

B) Pazartesi → Fransızca-Rusça

C) Salı → İngilizce-Fransızca

D) Salı → İtalyanca-Rusça

2 - 4. soruları aşağıdaki bilgilere göre birbirinden bağımsız olarak cevaplayınız.

Kırmızı	Turuncu	Sarı	Mavi	Pembe
2	1	2	2	1

Melis, Ayşe, Ali, Kasım ve Edip hazırlamış oldukları çarkıfelek oyununda, çarkıfeleği toplamda 8 defa çevirmişler ve çevirme sonucu oluşan renkler -çarkıfelekteki renk sıralarına göre- tablodaki gibidir. Çarkıfeleği iki defa çevirip aynı rengi tutturanlardan biri ayakkabı, biri saat diğeri ise bileklik kazanmıştır. Kimin çarkıfeleği kaç defa çevirdiği, kime hangi renk çıktığı ve kimin hangi ödülü kazandığına dair elimizde olan bilgiler şunlardır:

- Bileklik kazanan erkek değildir.
- Kırmızı renk sadece Ali tarafından tutturulmuştur ve Ali ayakkabı kazanmamıştır.
- Kızlardan Melis pembeyi, diğeri sarı rengi tutturmuştur.

2 Oyunda çarkıfeleği iki defa çevirip sarı rengi tutturan kimdir ve hangi ödülü kazanmıştır?

- A) Kasım-Ayakkabı B) Ayşe-Bileklik C) Edip-Saat D) Ayşe-Ayakkabı

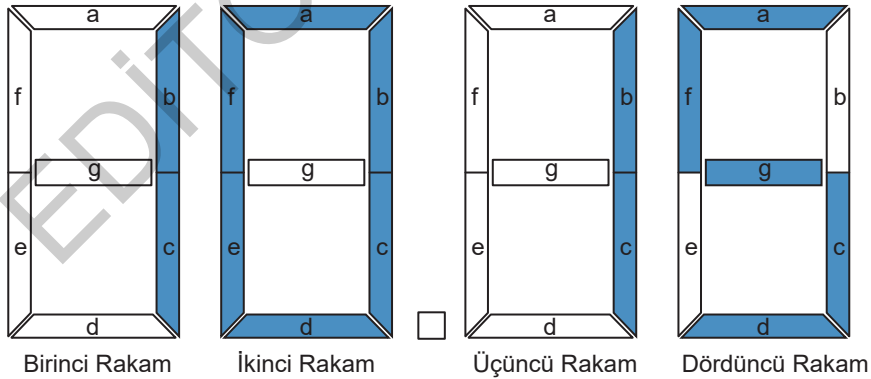
3 Bu bilgilere göre hangisi kesinlikle yanlıştır?

- A) Edip mavi rengi tutturmuştur.
B) Kasım ayakkabı kazandıysa Edip bir defa çevirmiştir.
C) Ödül kazananlar Ali, Ayşe ve Edip'tir.
D) Bilekliği Ali kazandıysa Ayşe saat kazanmıştır.

4 Edip'in çarkıfeleği çevirdiğinde mavi rengi tutturduğu biliniyorsa aşağıdakilerden hangisi kesinlikle yanlış olur?

- A) Çarkıfelek 8 defa çevrilmiştir.
B) Kasım, Melis'ten fazla çevirmemiştir.
C) Ödül kazandıran bütün renkler yan yanadır.
D) Edip'in ayakkabı kazanmaktan başka şansı yoktur.

5



Dijital saatlerde, yukarıda verildiği gibi dört rakam alanı vardır. Her alanın içindeki bölümler; a, b, c, d, e, f, g harfleriyle gösterilmiştir. Dijital saat kaç gösteriyorsa o sayıyı gösteren harflerin yer aldığı bölümlerin ışığı yanmaktadır. Yanan harfler "1", yanmayan harfler "0" ile kodlanmaktadır.

Örneğin yukarıda saatin birinci rakamında sadece "b" ve "c" harfleri yandığı için bu rakamın kodu "0110000" olmalıdır.

Buna göre,

Birinci rakamı: 1111110

Üçüncü rakamı: 1011011

İkinci rakamı: 1111011

Dördüncü rakamı: 0110011

şeklinde verilen dijital saat kaç gösterir?

- A) 09.54 B) 08.34 C) 09.56 D) 07.37

- 6 Bir baba, pazar günü iki çocuğunu resim ve keman kurslarına götürecektir. Kursların saatleriyle ilgili bilgiler aşağıdaki tabloda verilmiştir.

	Resim	Keman
Küçük Çocuk	09.00-11.00	11.00-12.00
Büyük Çocuk	11.00-13.00	09.00-10.00

Her iki çocuğu da kursta iken arabasının bakım ve temizliğini yaptırmak isteyen baba, hangi saatleri seçmelidir?

- A) 09.00-10.00 ya da 11.00-12.00
 B) 09.00-10.00 ya da 12.00-13.00
 C) 10.00-11.00 ya da 11.00-12.00
 D) 11.00-12.00 ya da 12.00-13.00

- 7 6 kişiden oluşan bir ailenin 6 kişilik dikdörtgen bir yemek masasında oturma düzeniyle ilgili şunlar bilinmektedir:

- Anne ile baba arasındaki uzaklık en fazla olup anne-baba karşılıklı oturmaktadır.
- İkiz kardeş olan Cansu ve Can yan yana oturmaktadır.
- Ayşegül, ablası Cansu'nun karşısında oturmaktadır.
- En büyük çocuk olan Merve, Ayşegül'ün yanında oturmaktadır.

Verilen bilgilere göre aşağıdakilerden hangisi söylenemez?

- A) Can, babasına yakın oturursa Cansu anneye yakın olacaktır.
 B) Can, Ayşegül'den büyüktür.
 C) Merve'nin karşısında Can oturmaktadır.
 D) Merve babasına yakın oturursa Can anneye yakın olacaktır.

8 ve 9. soruları aşağıdaki bilgilere göre birbirinden bağımsız olarak cevaplayınız.

Arda, Baran, Ceylan, Derin, Esmâ ve Fatma TEMA Vakfına üyedirler. Bu altı kişi çevreyi yeşillendirmek adına bir okul seçip okulun bahçesine çeşitli fidanlar dikeceklerdir. Bunların dördü çam ağacı, ikisi ise palmye dikecektir.

- İki erkek, farklı ağaç türleri dikecektir.
- Derin ve Esmâ aynı tür ağaçları dikecekler.

- 8 **Aşağıdakilerin hangisinde verilenlerin ikisinin de çam ağacı dikeceği kesindir?**

- A) Ceylan ve Arda B) Baran ve Esmâ
 C) Ceylan ve Fatma D) Derin ve Esmâ

- 9 **Arda'nın çam ağacı diktiği biliniyorsa aşağıdakilerden hangisi kesinlikle doğru olur?**

- A) Ceylan palmye dikmiştir.
 B) Fatma çam ağacı dikmiştir.
 C) Ceylan çam ağacı dikmiştir.
 D) Baran palmye dikmiştir.

- 10 Miraç, Nevin, Oktay, Öykü ve Pınar adlı kursiyerler Çin ve Almanyadaki seminerlere katılmışlardır. Bu kursiyerlerin katıldıkları seminerlerle ilgili bilinenler şunlardır:

- Kursiyerlerden üçü Çin seminerine katılmıştır.
- Pınar ile Oktay aynı ülkeye gitmişlerdir.
- Miraç ve Öykü, Nevin'den farklı bir ülkeye gitmiştir.

Buna göre kursiyerlerden hangisi Almanya'daki seminere katılmıştır?

- A) Nevin B) Pınar
 C) Oktay D) Öykü


- 13 Evrim, Fikret, Gonca, Hakan ve Işık; T.C. Kültür ve Turizm Bakanlığına bağlı Devlet Tiyatrolarına katılmak için başvuruda bulunmuşlardır. Bakanlık başvuruda bulunan kişileri merkeze getirmek için İzmir'den başlayarak sırasıyla Manisa, Çanakkale, Kocaeli ve İstanbul illerinin belirlenmiş noktalarından bu kişileri almıştır.




















Merkeze doğru yol alan kişilerle ilgili bilinenler şunlardır:

- Her kişi farklı illerden alınmıştır.
- Fikret ve Işık'ın alındığı iller arasında iki il vardır.
- Evrim, Hakan'dan bir önceki ilden alınmıştır.
- İzmir'den alınan kişi Gonca değildir.

Buna göre Bakanlık tarafından alınan kişilerden hangisi Çanakkale'den başvuruda bulunmuştur?

- A) Hakan B) Işık
C) Evrim D) Gonca

- 14  şekillerinden oluşan bir kodlama sisteminde "A, K, I, M, R" harfleri aşağıdaki gibi gösterilmiştir.

Buna göre aşağıdaki kelimelerden hangisi

"             "

şeklinde kodlanır?

- A) RAKIM B) KIRIM
C) MARKA D) KIRMA

15 - 17. soruları aşağıdaki bilgilere göre birbirinden bağımsız olarak cevaplayınız.

Uçan Süpürge, 1996 yılında Ankara'da bir grup kadın tarafından kuruldu. Kuruluş amacı; kadın kuruluşları ve kadın hareketine duyarlı kişiler arasında iletişim, iş birliği ve dayanışmayı artırmak, onların deneyimlerini genç kuşaklara aktarmak, ulusal ve uluslararası bir iletişim ağı oluşturmaktır.

Uzun süredir aynı apartmanda oturan Ayla, Berna, Ceyda, Dünya ve Ferda adlı beş arkadaş Uçan Süpürge adlı kadın derneğine üye olmuşlardır. Onların üye olma zamanlarıyla ilgili bilinenler şunlardır:

- Hepsi farklı zamanlarda ve 5 yıl aralıklarla üye olmuşlardır.
- En son üye olan 2016 yılında üye olmuştur.
- Ayla'dan önce yalnız bir kişi üye olmuştur.
- Ferda; Dünya ve Berna'nın arasında bir zamanda üye olmuştur.
- Ceyda, Berna'dan önce üye olmuştur.
- Ferda, Ceyda'dan sonra üye olmuştur.

- 15 **Buna göre aşağıdakilerden hangisi kesinlikle yanlıştır?**

- A) Ceyda 1996 yılında üye olmuştur.
B) Dünya 1996 yılında üye olmuştur.
C) Berna 2016 yılında üye olmuştur.
D) Ferda 2006 yılında üye olmuştur.

- 16 **Dünya'nın 2006 yılında üye olduğu biliniyorsa aşağıdakilerden hangisi kesinlikle yanlıştır?**

- A) Ceyda 1996 yılında üye olmuştur.
B) Berna 2016 yılında üye olmuştur.
C) Ferda, Ayla'dan sonra üye olmuştur.
D) Dünya Ayla'dan önce üye olmuştur.

- 17 I. Dünya II. Ceyda III. Berna

Yukarıdakilerden hangisi derneğe 2016 yılında üye olmuş olabilir?

- A) I ve III B) I ve II
C) II ve III D) Yalnız I

18 ve 19. soruları aşağıdaki bilgilere göre birbirinden bağımsız olarak cevaplayınız.

Küresel çapta 21.000'den fazla insanın katıldığı "2017 En İyi Ülkeler" anketine göre en zengin geçmişe sahip ülkeler sıralamasında ilk 5 ülkede Mısır, Yunanistan, İtalya, İspanya ve Çin yer almıştır. Ülkelerin hangi sırada olduklarıyla ilgili bilinenler şunlardır:

- Yunanistan 3. sıradadır.
- Mısır ve İtalya art ardadır.
- Çin, İtalya'dan sonra gelen bir sıradadır.
- İtalya'dan önce yalnızca bir ülke vardır.

18 Yukarıdaki bilgilere göre aşağıdakilerden hangisi kesinlikle yanlıştır?

- A) Mısır 1. sıradadır.
- B) Çin 4. sıradadır.
- C) İspanya 5. sıradadır.
- D) İspanya 1. sıradadır.

19 Çin'in 4. sırada olduğu biliniyorsa aşağıdakilerden hangisi doğrudur?

- A) İtalya 1. sıradadır.
- B) İspanya 2. sıradadır.
- C) İspanya 5. sıradadır.
- D) Mısır 2. sıradadır.

20 Aylin, Berna, Cahit, Doğu, Ela ve Fahri bir şirkette akşam vardiyalarına kalan işçilerdir. Bu kişilerin vardiya günleriyle ilgili bilinenler şunlardır:

- 1. gün vardiyaya kalan işçi, 7. gün de vardiyaya kalmaktadır.
- İlk vardiyaya Berna kalmıştır.
- Bir erkek işçi vardiyaya kaldıktan sonra hep bir kadın işçi vardiyaya kalmaktadır.
- Berna, haftanın ilk vardiyasını Doğu'ya devretmekte ve son vardiyasını Fahri'den devralmaktadır.

Bu bilgilere göre hangi işçilerin vardiya günü kesin olarak bilinemez?

- A) Aylin - Fahri
- B) Cahit - Fahri
- C) Doğu - Ela
- D) Aylin - Ela

21 ve 22. soruları aşağıdaki bilgilere göre birbirinden bağımsız olarak cevaplayınız.

İnsan beyni iki yarım küreden oluşur. Bu yarım kürelerdeki lobların özellikleri şu şekildedir:

Ön lob: Bilinçli düşünme

Yan lob: Duyguları işleme

Arka lob: Görme

Şakak lobu: Ses ve kokuyu algılama

Bir hastanede beyin cerrahisi bölümünde Ayşe, Berna, Serkan, Murat, Zeki adlı beş hasta yatmaktadır. Bu hastalarla ilgili şunlar bilinmektedir:

- Her hasta beyin loblarındaki rahatsızlıktan dolayı tedavi görmektedir.
- Serkan rahatsızlığından dolayı görme bozukluğu yaşamaktadır.
- Ayşe sesleri ve kokuyu algılamada sıkıntı yaşamaktadır.
- Berna'nın rahatsızlığının yan lobdan ya da ön lobdan kaynaklı bir sorun olduğu bilinmektedir.
- Aynı lobdan kaynaklı rahatsızlığı bulunan yalnız iki kişi vardır.
- Zeki duyguları işlemede sıkıntı yaşamaktadır.
- Murat'ın rahatsızlığı bilinçli düşünme ya da duyguları işleme ile ilgilidir.

21 Aşağıdakilerden hangilerinin rahatsızlığı yan lobdan kaynaklanıyor olamaz?

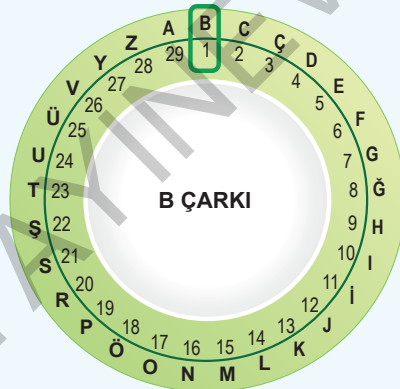
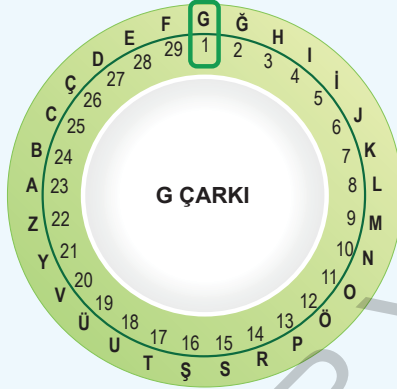
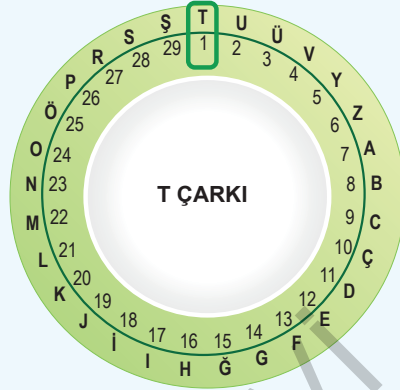
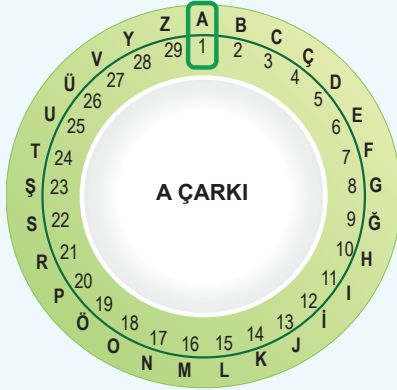
- A) Ayşe - Serkan
- B) Zeki - Murat
- C) Murat - Berna
- D) Zeki - Berna

22 Berna'nın rahatsız olduğu lobun yan lob olduğu biliniyorsa aşağıdakilerden hangisi ön lobdan dolayı tedavi görmektedir?

- A) Ayşe
- B) Serkan
- C) Zeki
- D) Murat

ÇIKMIŞ SORU

23 Görsellerde bir şifreleme sistemine ait çarklar verilmiştir.



Üç harfli bu şifreleme sisteminde, yazılacak sözcüklerin harfleri için önce A çarkından harfin numarası bulunur; sonra sözcüğün birinci harfi için T, ikinci harfi için G, üçüncü harfi için B çarkından o numaraya karşılık gelen harf yazılır. Üçten fazla harfli olan sözcüklerde ise döngü aynı şekilde devam ettirilir.

Buna göre "VATAN" sözcüğünün bu şifreleme sistemindeki karşılığı aşağıdakilerden hangisidir?

- A) RGUTT B) RGUGT C) RTGTU D) RTGGU

24 Semih, Derya, Nur, Cihan ve Oya adlı kişiler "81 İlide 81 Orman" adlı proje kapsamında çam ve kayın türünde ağaçlar dikmişlerdir. Bu kişilerin diktikleri ağaçlarla ilgili şunlar bilinmektedir:

- Her bir kişi yalnızca bir türde ağaç dikmiştir.
- Üç kişi çam dikmiştir.
- Nur ve Cihan aynı ağaç türünden dikmişlerdir.
- Derya ve Oya'nın diktiği ağaç türleri farklıdır.

Buna göre aşağıdakilerden hangisi kesinlikle kayın dikmiştir?

- A) Oya B) Nur
C) Semih D) Derya

25 Osmanlı padişahlarında kitap okuma kültürü:

- II. Murat; yeme, içme, ibadet, devlet işleri ve uykudan arta kalan zamanında devamlı kitap okurdu.
- Fatih Sultan Mehmed, hayatı boyunca kitap ve tarih okuyarak ve okuduklarını hayatına aktararak tarih yazdı.
- Kitap okumaktan gözleri bozulan Yavuz Sultan Selim, her zaman gece yarısına kadar kitap okurdu.

Aşağıdaki ifadelerden hangisi yukarıdaki alışkanlıklardan herhangi biriyle ilişkilendirilemez?


- A) Sağlığından olma B) Sınırlama
C) Zaman ayırma D) Özümseme

TABLO, GRAFİK VE GÖRSEL OKUMA

SORULAR

TEST 1

1



“60 Kişinin Ulaşımı Ne Kadar Alan Kaplar?” başlıklı görselden yola çıkılarak hangi sonuca ulaşmak mümkündür?

- A) Trafikteki yoğunluğu azaltmak için toplu taşıma araçlarına yönelmek bir çözümdür.
- B) Ulaşımında bisikleti tercih etmek doğal çevreye daha az zarar verir.
- C) İnsanlar daha çok şahsi araçlarını kullanarak ulaşımını sağlamayı tercih etmektedir.
- D) Aynı sayıda yaya, aynı sayıda bisikletliden daha fazla yer kaplar.

- 2 8. Sınıf öğrencisi Erhan, "Doğu Anadolu Bölgesi'nin Mimari Şaheserleri" konusunda hazırlayacağı sunumda bazı görsellerden yararlanmak istemektedir.

Erhan, bu sunumda aşağıdaki görsellerin hangisinden yararlanabilir?

A)



B)



C)



D)



- 3 Aşağıdaki tabloda dört farklı kanalın spor muhabirlerinin bir yıl içerisinde, hangi mevsimlerde hangi spor müsabakaları için hangi ülkelere seyahat ettikleri gösterilmektedir. Örneğin; Kanal B'nin spor muhabiri, ilkbahar mevsiminde bisiklet turnuvasını takip etmek üzere İtalya'ya gitmiştir.


	KANAL B	KANAL C	KANAL D	KANAL E
İLKBAHAR	Bisiklet İtalya	Halter Kosova		
YAZ			Güreş Rusya	Halter İtalya
SONBAHAR		Tenis Japonya		
KIŞ		Bisiklet Fransa		Kayak Kanada

Yalnızca tablodaki bilgilerden yola çıkarak aşağıdakilerden hangisine ulaşılabilir?

- A) Halter müsabakalarını yalnızca Kanal C takip etmektedir.
 B) İtalya'da farklı mevsimlerde, iki farklı spor turnuvası düzenlenmiştir.
 C) Spor etkinliklerinin en yoğun yapıldığı mevsim yazdır.
 D) Sadece Kanal B'nin muhabiri tek bir ülkeye seyahat etmiştir.

4

ÇEVİRİM İÇİ BİR YOLCULUK



Bu görsel ve başlığın kullanıldığı bir metnin konusu ne olabilir?

- A) Toplumdaki iletişim sorunları
 B) Dalgınlık ve dikkatsizliğin sonuçları
 C) Toplumda dijital bağımlılık
 D) Sosyal ilişkilerde saygının önemi

5 - 7. soruları aşağıdaki bilgilere göre cevaplayınız.

1						★
						☀
☼						✓

Duru Öğretmen, öğrencilerine kutucuklardan oluşan yandaki kartı vermiş ve akşam kitap okuyup 1 numaralı kutuyu boyamalarını istemiştir. Bundan sonra her gün okudukları sayfa sayısı; bir önceki gün okudukları sayıya eşit ya da o sayıdan düşük ise kutucuğun altındaki ya da yanındaki kutucuğu, yüksek ise kutucuğun çaprazındaki kutuyu boyamalarını istemiştir.

5 Buna göre aşağıdaki yargılardan hangisine ulaşamaz?

- A) Tüm hafta boyunca birbirini takip eden günlerde okuduğu sayfadan daha fazla sayfa okumayan öğrenci ☀ simgesine ulaşabilir.
- B) Her gün bir önceki günden daha fazla okuyan öğrenci haftanın sonunda ✓ simgesine ulaşır.
- C) Bir hafta boyunca sırasıyla 46-43-30-25-25-20-12 sayfa okuyan öğrenci, ☼ simgesini boyayabilir.
- D) ★ simgesine ulaşan iki öğrencinin okudukları toplam sayfa sayısı birbirinden farklı olabilir.

6

1						★
						☀
☼						✓

Yedi günün sonunda kartını bu şekilde boyamış bir öğrencinin sırasıyla okuduğu sayfa sayıları hangisi olabilir?

- A) 30 - 50 - 55 - 45 - 40 - 60 - 62
- B) 30 - 35 - 35 - 40 - 15 - 10 - 20
- C) 30 - 42 - 43 - 30 - 50 - 15 - 30
- D) 30 - 30 - 40 - 35 - 60 - 20 - 42

7

1						★
						☀

Yedi günün sonunda kartını yukarıdaki gibi boyamış bir öğrenci için hangisi söylenebilir?

- A) İkinci gün, birinci günden daha fazla okumuştur.
- B) Haftanın son dört günü okuduğu sayfa sayısı devamlı sabit kalmıştır.
- C) Dördüncü gün, beşinci günden daha fazla okumuştur.
- D) Haftanın ortasındaki üç gün okuduğu sayfa sayısı devamlı artmıştır.

8

CUMARTESİ GÜNLERİ PAZAR
OLDUĞUNDAN CUMA AKŞAMLARI
ARAÇ PARK EDİLMEMESİ RİCA
OLUNUR.

Safranbolu
Belediye Başkanlığı

Bu uyarıya "Safranbolu'da her gün aynı geçtiği için günler karışıyor bazen." şeklinde yorum yapan birisi aşağıdaki anlam ilişkilerinden hangisini göz ardı ediyor demektir?

- A) Anlamdaşlık B) Sesteşlik
- C) Karşıtlık D) Soyut anlamlılık

ÇIKMIŞ SORU

- 9 Otomobillerde hibrit teknoloji, çevreci ve ekonomik olması nedeniyle son yıllarda tercih edilmeye başlandı. Hibrit araçlarda fosil yakıtla ve elektrikle çalışan iki ayrı motor bulunur. Hibrit otomobil teknolojisi bu iki motoru, uygun durumlar için “değişmeli” veya “beraber” kullanarak aracın yakıt verimliliğini artırırken zararlı gaz salınımını azaltır.

Hibrit Otomobilin Çalışma Sistemi

Kalkış: Sadece elektrikli motor çalışır.

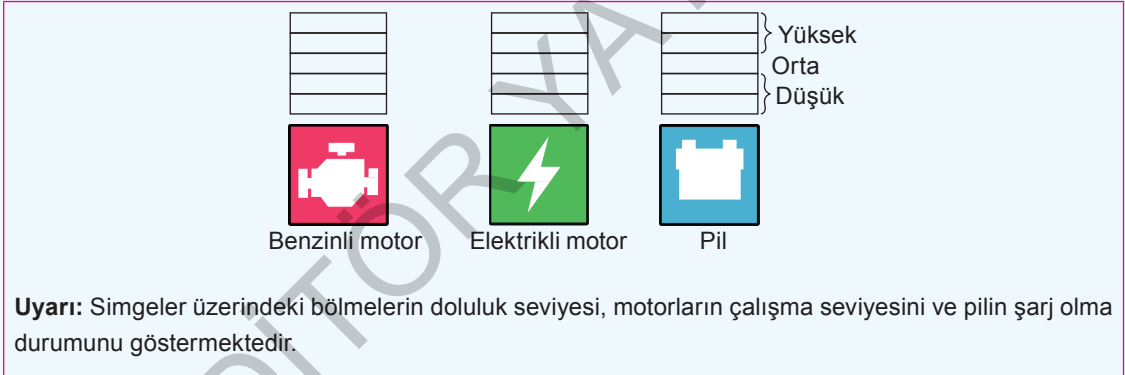
Normal sürüş: Asıl gücü elektrikli motor sağlarken diğer motor gerektiğinde destek olur.

Hızlı sürüş: Benzinli motor asıl gücü sağlarken elektrikli motor destek olur.

Yavaşlama-Frenleme: Benzinli ve elektrikli motor durur.


Pilin Şarj Olma Durumları

- Benzinli motor çalıştığında düşük düzeyde şarj olur. (Hızlı sürüşte şarj olmaz.)
- Frenleme sırasında yüksek düzeyde şarj olur.

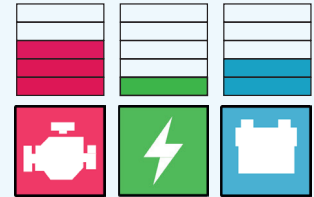


Bu bilgilerden yola çıkarak benzinli ve elektrikli motorun çalışma seviyeleri ile pilin şarj olma durumunu göstermek isteyen biri, aşağıdakilerin hangisinde yanlışlık yapmış olur?

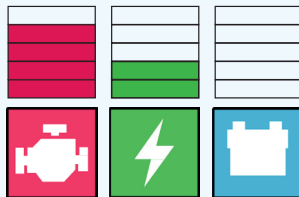
A) Kalkış:



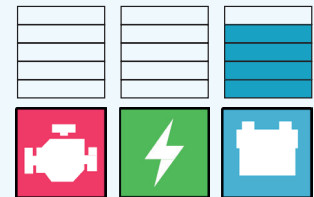
B) Normal sürüş:



C) Hızlı sürüş:

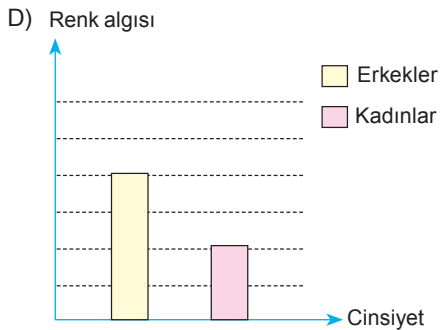
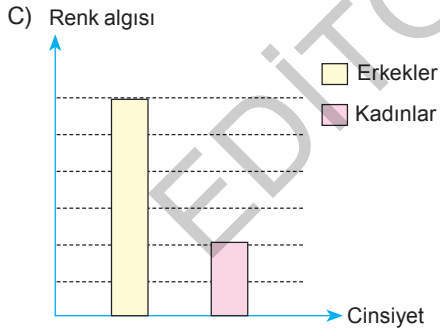
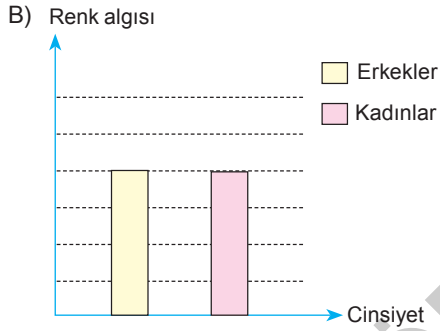
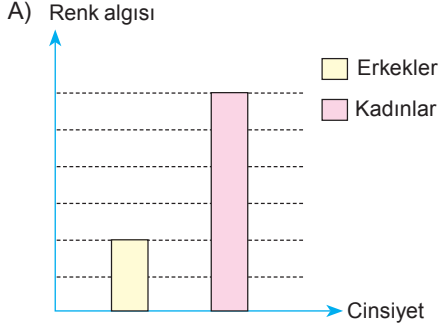


D) Yavaşlama-Frenleme:

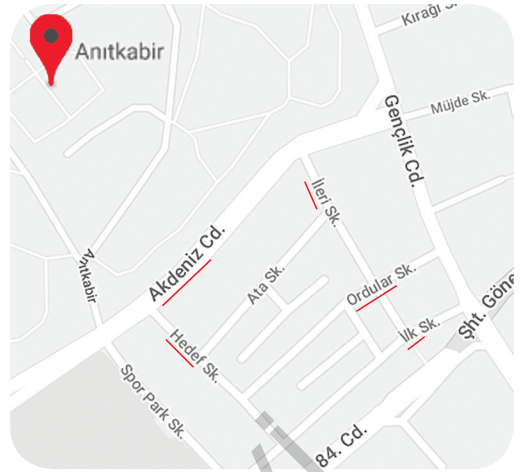


- 10 Yapılan bir araştırmanın sonuçlarına göre erkekler mavinin tüm tonlarını mavi olarak adlandırırken kadınlar cam göbeği, turkuaz, gökyüzü mavisi gibi farklı isimlere başvurmuştur.

Hangi seçenekte bu araştırma sonucuna uygun olan bir grafik yer almaktadır?



11



Atatürk'ün meşhur bir sözünü oluşturan sözcükler, Anıtkabir'in etrafındaki cadde ve sokaklara paylaştırılmıştır. Yukarıdaki görselde bu söze ait sözcükleri içeren cadde ve sokak isimlerinin altları çizilmiştir.

Buna göre Atatürk'ün bu meşhur sözünü oluşturmak üzere sırasıyla doğru sokak ve caddelere uğrayan biri, "İlk Sokak"tan sonra hangisine gitmelidir?

- A) Ordular Sokak B) Akdeniz Caddesi
C) İleri Sokak D) Hedef Sokak

12



Görselle verilmek istenen asıl ileti hangisidir?

- A) Emniyet kemeri takmayan kişileri uyarmak gerekir.
B) Yaşamak ile ölmek arasındaki fark küçüktür.
C) Bir anlık dikkatsizlik, ölümlü kazaya sebebiyet verebilir.
D) Emniyet kemeri kullanmak hayat kurtarır.

15



Karikatür ile verilmek istenen mesajı en iyi anlatan dizeler hangisidir?

- A) Dolandım dolaştım boşandı yağmur
Saçım ıslak kunduram çamur
Eve döndüm yağmur getirdim
Ev yeşerdi ben yeşerdim.
- B) Evleri yüksek kurdular
Cama, betona boğdular
Usumuzdaydı unuttuk
Topraktan uzak kaldı
Toprağa bağlı kalanlar.
- C) Hasret kaldık şimdi biz
Yeşil ile maviye,
Ne çiçek var ne ağaç
Girilmiyor denize.
- D) Gözlerimin önünde hep aynı beyaz ev
Her dağ yamacına kurduğum,
Beliren her us kenarında,
Pembe damlı, yeşil panjurlu, balkonlu,
Balkonuna tırmanan sarmaşık.

16 ve 17. soruları aşağıdaki bilgilere göre cevaplayınız.

Aşağıda bir çocuk dergisine ait "İçindekiler" sayfası verilmiştir. Dergiyi satın alan Suna ve Ali adlı iki kardeş derginin ilk sayfasından itibaren hiç sayfa atlamadan dergiyi okumaya başlarlar.

İÇİNDEKİLER	
GEZELİM GÖRELİM.....	3
Japonya'nın Başkenti Tokyo	
MUTFAKTA NELER OLUYOR?	7
Meyveli Yoğurdunu Kendin Yap	
MESLEKLERİ TANIYORUM.....	9
Gökyüzü Trafikini Düzenleyenler	
DOĞAYI KEŞFEDELİM.....	14
Baharla Birlikte Gelen Çiçekler	
KİTAP KURDU	17
Bebek Annem-Behiç AK	
SİZDEN GELENLER	19
BİL BUL EĞLEN	23
HAYAL ET TASARLA ÜRET	25
Geri Dönüşüm ile Eğlenceli Etkinlikler	

16 Suna'nın 18. sayfa sonuna kadar okuduğu, Ali'nin ise 13. sayfada kaldığı bilindiğine göre aşağıdakilerden hangisi doğrudur?

- A) Ali, derginin verdiği bilgilere göre mahallesindeki çiçekleri gözlemler.
- B) Suna, dergideki ödüllü bulmacayı çözemediği için babasından yardım ister.
- C) Ali, havaalanında farklı görevler yürüten pek çok kişi olduğunu öğrenir.
- D) Suna, sınıf arkadaşının dergiye geçen ay postayla gönderdiği öyküyü okur.

17 Bu derginin "İçindekiler" bölümünden hareketle dergi ile ilgili aşağıdaki sonuçlardan hangisine varılamaz?

- A) Okurlarının yeni ülkeler, şehirler, kültürler tanımasına olanak sağlar.
- B) Anne ve babalara yönelik lezzetli yöresel yemek tarifleri sunar.
- C) Okurlarının okuma alışkanlıklarını geliştirmelerine yardımcı olur.
- D) Hayal gücünü geliştirmeye yönelik eğlenceli etkinlikler içerir.

18 - 20. soruları aşağıdaki görsele göre cevaplayınız.



18 Yukarıdaki afişte bisikletin hangi alandaki katkısına doğrudan değinilmemiştir?

- A) Bütçeye B) Doğal çevreye C) Turizme D) İnsan bedenine


19 Hangi ifade bisikletin otomobil gibi diğer ulaşım araçları karşısındaki üstünlüğünü kanıtlamaz?

- A) Eşyalarını taşır. B) Trafik derdi yoktur. C) Gaz salınımı yoktur. D) Çok sessizdir.

20 Yağız, bu afişte bulduğu her benzetme cümlesi için 5 puan alacaktır.

Buna göre tüm benzetme cümlelerini eksiksiz bulan Yağız kaç puan alır?

- A) 5 B) 10 C) 15 D) 20



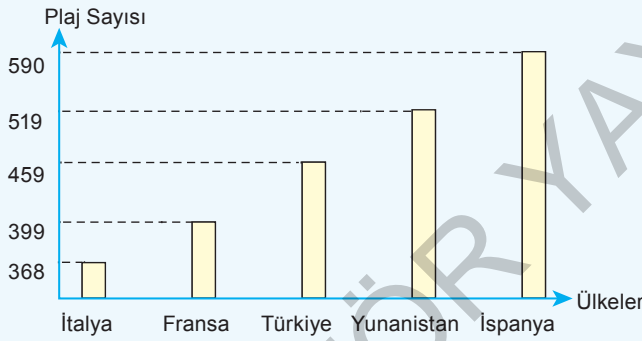
Görselle verilmek istenen mesajı, aşağıdaki atasözlerinden hangisi karşılımaz?

- A) Baş başa vermeyince taş yerinden kalkmazmış. B) Taş yerinde ağırdır.
C) Bir elin nesi var, iki elin sesi var. D) Birlikten kuvvet doğar.

ÇIKMIŞ SORU

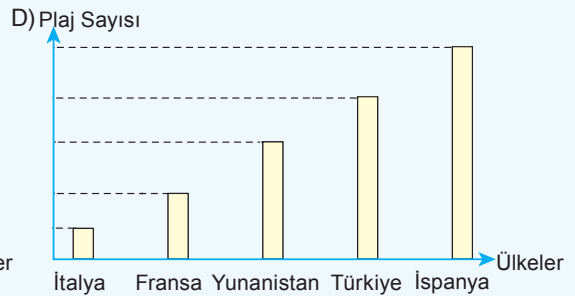
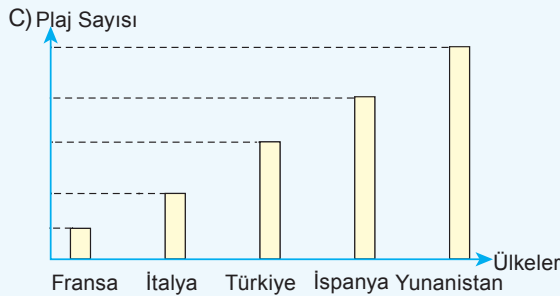
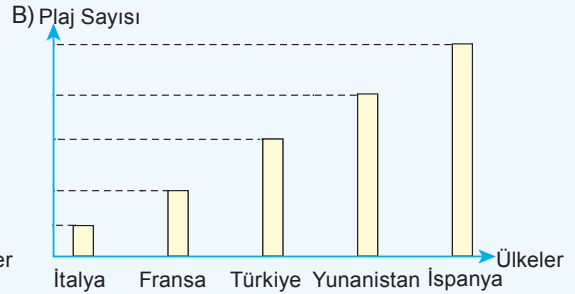
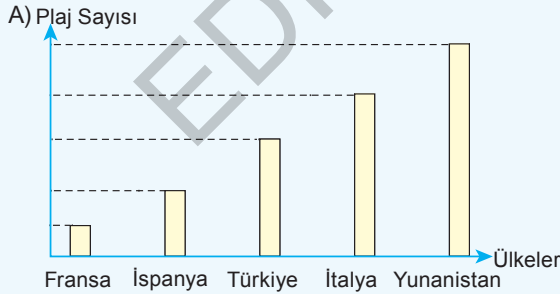
22

2018 Yılı Ükelere Göre
Mavi Bayraklı Plaj Sayısı Grafiği



- Türkiye 2018'de sıralamadaki yerini korumuştur.
- 2018'de Fransa, İtalya'yı geçerek son sıradan kurtulmuştur.
- Yunanistan 2018'de liderliğini kaybetmiştir.
- İspanya 2018'de Yunanistan'ı geçerek bir sıra yükselmiştir.

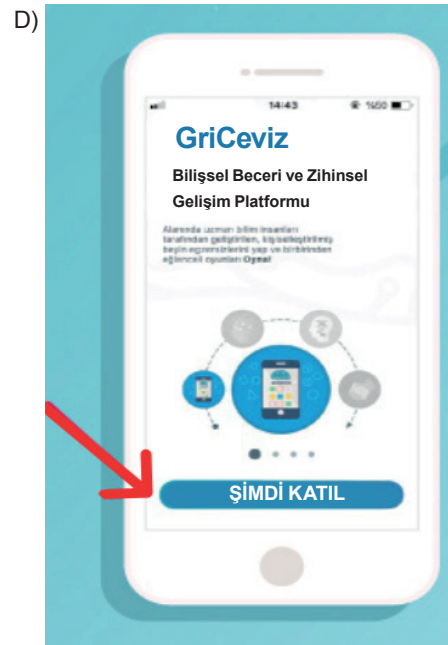
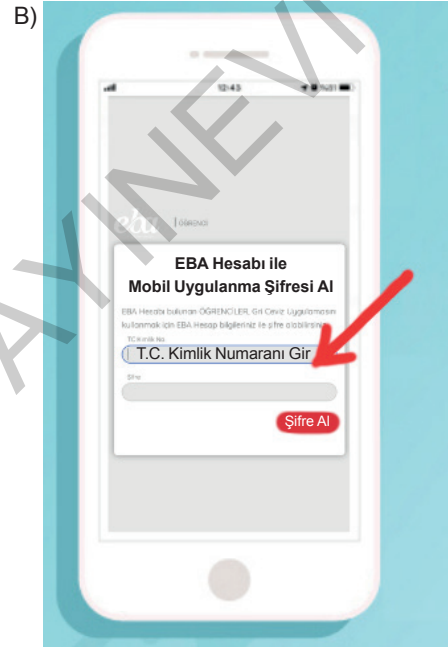
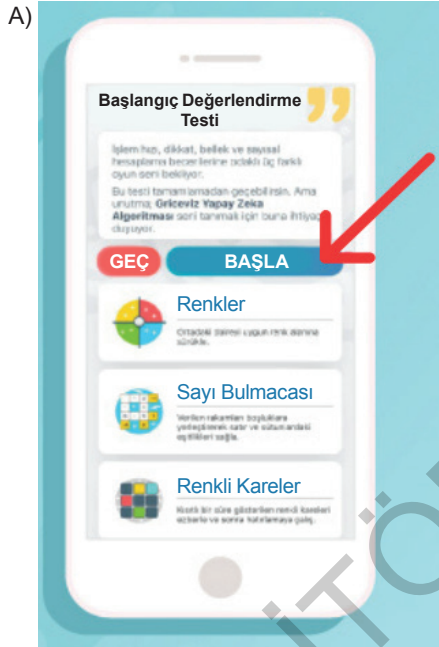
Bu bilgilere göre 2017 yılına ait "Ükelere Göre Mavi Bayraklı Plaj Sayısı" nı gösteren grafik aşağıdakilerden hangisi olabilir?



23 GriCeviz Bilişsel Beceri ve Zihinsel Gelişim Platformu, bilişsel becerilerin ve zihinsel yeteneklerin değerlendirilmesi ve geliştirilmesini hedefleyen; 6 kategoride (sözel, sayısal, görsel, mantık, bellek ve dikkat), 24 farklı oyunlaştırılmış zihin egzersizinden oluşan mobil oyun uygulamasıdır. Bu uygulamayı kullanmak isteyenlerin şu talimatları yerine getirmeleri gerekmektedir:

- Uygulamayı mobil cihazınıza indirin ve kurun.
- Uygulamayı ilk açtığınızda “Şimdi Katıl” seçeneğini seçmelisiniz ve ardından karşınıza çıkan “Başlangıç Değerlendirme Testi”ni “Başla” butonuna basarak çözebilir ya da geçebilirsiniz.
- Bir sonraki sayfada “Öğrenciler için EBA” seçeneğini seçmelisiniz.
- EBA üzerinden temin ettiğiniz şifreyi ilgili alana girmeli ve butona tıklamalısınız. Böylelikle “GriCeviz”e giriş yapmış olacaksınız.

Aşağıdaki görsellerden hangisi bu metindeki talimatlardan herhangi biriyle ilgili değildir?



ÇIKMIŞ SORU

- 24 Türkiye’de taşıt plaka kodları, 27 Eylül 1962 tarihinde yayımlanan yönetmelikle düzenlenmiştir. Bu tarihte il niteliğinde bulunan 67 şehre alfabetik sıraya göre taşıt plaka kodları verilmiştir. Bu tarihten sonra farklı zamanlarda il olan şehirlere de taşıt plaka kodu verilmiştir.

İLLERİN PLAKA KODLARI TABLOSU								
01	11	21	31	41	51	61	71	81
Adana	Bilecik	Diyarbakır	Hatay	Kocaeli	Niğde	Trabzon	Kırıkkale	Düzce
02	12	22	32	42	52	62	72	
Adıyaman	Bingöl	Edirne	Isparta	Konya	Ordu	Tunceli	Batman	
03	13	23	33	43	53	63	73	
Afyon	Bitlis	Elazığ	İçel	Kütahya	Rize	Şanlıurfa	Şırnak	
04	14	24	34	44	54	64	74	
Ağrı	Bolu	Erzincan	İstanbul	Malatya	Sakarya	Uşak	Bartın	
05	15	25	35	45	55	65	75	
Amasya	Burdur	Erzurum	İzmir	Manisa	Samsun	Van	Ardahan	
06	16	26	36	46	56	66	76	
Ankara	Bursa	Eskişehir	Kars	Kahramanmaraş	Siirt	Yozgat	Iğdır	
07	17	27	37	47	57	67	77	
Antalya	Çanakkale	Gaziantep	Kastamonu	Mardin	Sinop	Zonguldak	Yalova	
08	18	28	38	48	58	68	78	
Artvin	Çankırı	Giresun	Kayseri	Muğla	Sivas	Aksaray	Karabük	
09	19	29	39	49	59	69	79	
Aydın	Çorum	Gümüşhane	Kırklareli	Muş	Tekirdağ	Bayburt	Kilis	
10	20	30	40	50	60	70	80	
Balıkesir	Denizli	Hakkâri	Kırşehir	Nevşehir	Tokat	Karaman	Osmaniye	

Bu bilgilerden aşağıdakilerin hangisine ulaşılamaz?

- A) Ardahan, Eskişehir’den sonra il olmuştur.
- B) Şanlıurfa’ya “Şanlı” unvanı 27 Eylül 1962’den sonra verilmiştir.
- C) Gaziantep “Gazi” unvanını 27 Eylül 1962’deki düzenlemeden önce almıştır.
- D) Bursa, Manisa’dan önce il olmuştur.

1

PEYGAMBERİMİZİN (S.A.V.) GÜZEL AHLAKI KİTAP OKUMA YARIŞMASI

ÖDÜLLER
Dört kategoride toplam 12 öğrenciye ödül verilecektir

- ★ 1. Öğrencilere Laptop
- ★ 2. Öğrencilere Bisiklet
- ★ 3. Öğrencilere Saat

MÜRACAATLAR
Başvurular Okul Müdürlüklerince Kabul Edilecek, Sınav Yerleri Daha Sonra Duyurulacaktır.
Başvurularınız için <http://tokat.meb.gov.tr/norm>



BİZ
LİSELİLER
**KİTAP
OKU
YORUZ**

Son Başvuru : 28 Şubat 2020 Cuma
Sınav Tarihi : 19 Mart 2020 Perşembe
Saat : 10.00




T.C.
TOKAT
MÜFTÜLÜĞÜ




TÜRKİYE
DİYANET VAKFI
TOKAT ŞUBESİ



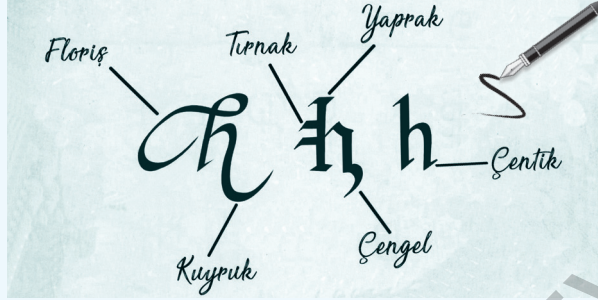
Bu afişi inceleyen biri, sözü edilen yarışmayla ilgili aşağıdaki bilgilerden hangisine ulaşamaz?

- A) Yarışmaların hangi kategorilerde yapılacağı
- B) Yarışmanın hangi konuda yapılacağı
- C) Yarışmanın hangi kurum tarafından yapıldığı
- D) Sınav zamanının hangi tarihte olduğu

ÇIKMIŞ SORU

- 2 Kaligrafi sanatı, yazıya ahenkli ve anlamlı şekiller verme sanatıdır ve içinde birçok tekniği barındırır. Sanatçılar eserlerinde bu teknikleri kullanarak kendi tasarımlarını oluşturabilir. Harfin yapısına ve kendi isteklerine göre çizgi tekniklerinin yönlerini değiştirebilir.

Görselde kaligrafi sanatında kullanılan bazı çizgi teknikleri verilmiştir.



Buna göre aşağıdaki sözcüklerden hangisi "kuyruk, çengel, çentik, tırnak" teknikleri kullanılarak yazılmıştır?

A) *Tael*

B) *Kum*

C) *Na*

D) *La*

- 3 Mezopotamya'dan Mısır'a kadar uzanan büyük bir krallık olan Asurlar, gönüllü askerlerden oluşan güçlü bir orduya sahip olmuşlardır. Ticarete önem veren Asurlar daha çok Anadolu medeniyetleriyle ticaret yapmışlardır. Asurlar Anadolu'dan kereste ve değerli madenler satın almışlardır. Batı Anadolu'da kurulan Lidyalılar ise Kral Yolu'nun önemli merkezlerine sahip olmuşlardır. Parayı bularak ticaret hayatına yeni bir anlayış getirmişlerdir. Lidyalı krallar ticaret yollarının güvenliğini sağlayabilmek için paralı askerler kullanmışlardır.

Yönetim şekli	
Yer aldığı coğrafya	
Ekonomik faaliyet	
Ordu	

Yandaki şekilde Asurlar ve Lidyalılar hakkında karşılaştırmalı olarak bilgiler verilmiştir.

Verilen bilgilere göre Asurların ve Lidyalıların ortak özelliklerinin sahip oldukları alanlar yukarıdaki diyagramda "✓" işaretiyle işaretlenecek olursa hangi seçenekteki şekle ulaşılır?

A)

Yönetim şekli	
Yer aldığı coğrafya	✓
Ekonomik faaliyet	✓
Ordu	

B)

Yönetim şekli	✓
Yer aldığı coğrafya	
Ekonomik faaliyet	✓
Ordu	

C)

Yönetim şekli	✓
Yer aldığı coğrafya	
Ekonomik faaliyet	
Ordu	✓

D)

Yönetim şekli	
Yer aldığı coğrafya	✓
Ekonomik faaliyet	
Ordu	✓

4

Tablo 1: Dört Günlük Hava Durumu Tahmini

Tarih	Hadise	Sıcaklık (°C)		Nem (%)		Rüzgâr Hızı (km/sa)
		En Düşük	En Yüksek	En Düşük	En Yüksek	
5 Şubat Pazar		6	13	56	84	17
6 Şubat Pazartesi		5	17	64	87	9
7 Şubat Salı		7	9	50	64	17
8 Şubat Çarşamba		9	14	37	52	11

Tablo 2: Hava Tahminlerinde Kullanılan Simgelerin Anlamları

	Açık		Az Bulutlu
	Parçalı Bulutlu		Çok Bulutlu
	Hafif Yağmurlu		Yağmurlu
	Kuvvetli Yağmurlu		Sağanak Yağışlı
	Gök Gürültülü Sağanak Yağışlı		Kar Yağışlı

Bu tablolardan hareketle yapılan aşağıdaki açıklamalardan hangisi yanlıştır?

- A) Çarşamba günü havanın çok bulutlu, sıcaklığın 9 ila 14 °C arasında olması, rüzgârın ise saatte 11 km hızla esmesi bekleniyor.
- B) Salı günü yağışın olmaması, havanın bir önceki güne göre ısınması, nem ve rüzgâr hızının bir sonraki gündün düşük olması bekleniyor.
- C) Pazar günü için tahmin edilen nem oranı çarşamba günü için tahmin edilen nem oranından daha yüksektir.
- D) Pazartesi günü havanın çarşamba gününe göre daha soğuk ve yağışlı geçmesi bekleniyor.

5

OBEZİTENİN ÖNLENMESİ

- Stresten Uzak Durun
- Sebze ve Meyve Tüketin
- Yeteri Kadar Uyuyun
- Kötü Alışkanlıklardan Uzak Durun
- Fast Food'tan Uzak Durun
- Yeteri Miktarda Su İçin
- Spor ve Egzersiz Yapın
- TV Başında Daha Az Vakit Geçirin

Aşağıdaki seçeneklerden hangisi ile ilgili bir uyarı görselde yer almamaktadır?

- A) Yeterli fiziksel aktivite
- B) Düzenli doktor kontrolü
- C) Ruh sağlığını koruma
- D) Beslenme alışkanlıkları

6

TÜKETMEDEN DÜŞÜN



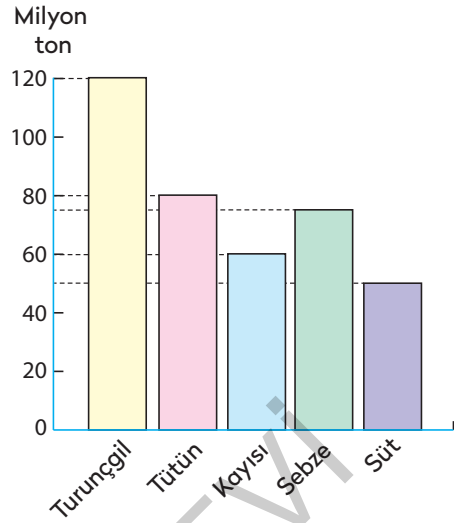
Bu görselin ve başlığın kullanıldığı bir metnin konusu ne olabilir?

- A) Bilinçli bir tüketici olmak
- B) Tasarruf etmenin önemi
- C) Sağlıklı gıda alışverişi
- D) Yerli malı kullanmak

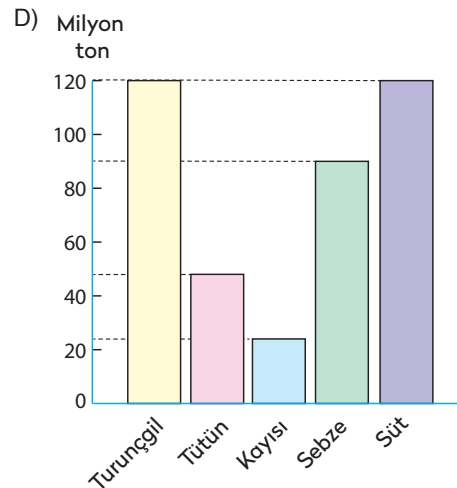
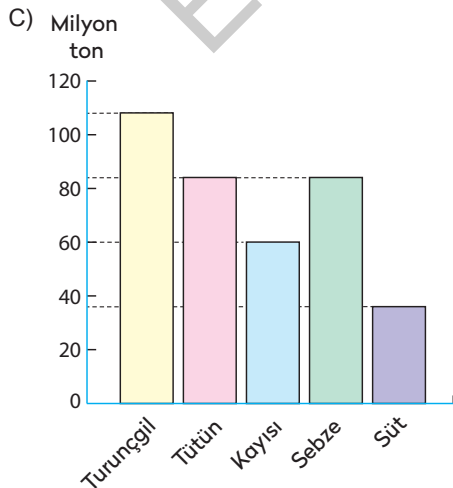
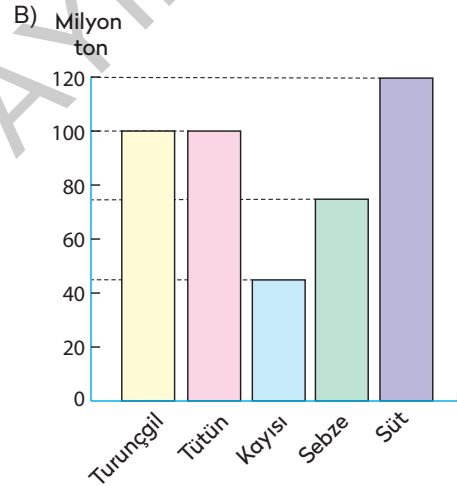
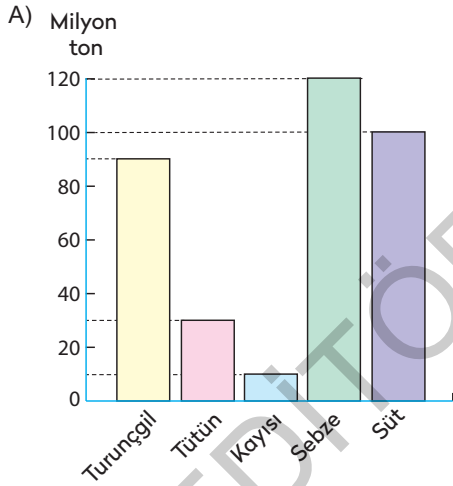
7

Yandaki grafikte bir ülkenin 2015 yılında ihraç ettiği başlıca gıda ürünlerinin miktarı gösterilmiştir. Bu ülkenin 2016 yılında ihraç ettiği başlıca gıda ürünleri ile ilgili şu bilgilere ulaşılmıştır:

- En az ihraç edilen ürün kayısıdır.
- Kayısı ihracatında azalma olmuştur.
- 2015'te en fazla ihracatın olduğu üründe azalma olmuştur.
- Sebze ihracatında değişme gözlenmemiştir.



Buna göre sözü edilen ülkenin 2016 yılı gıda ürünleri ihracatını gösteren grafik aşağıdakilerden hangisi olabilir?



8

AÇIK HAVADA ÇALIŞANLAR DİKKAT!Sıcaktan Korunmak için **5 ALTIN KURAL**

1. Susadığınızı hissetmeseniz dahi her 15 dakikada bir su için.
2. Serinlemek için gölge alanlarda dinlenin.
3. Açık renkli kıyafetler giyin ve şapka kullanın.
4. Sıcaklıkla ilgili hastalık belirtilerini öğrenin ve acil durumlarda ne yapılması gerektiği hakkında bilgi edinin.
5. İş arkadaşlarınıza göz kulak olun!

Yukarıda açık havada çalışanlara yönelik hazırlanan bir afiş yer almaktadır.

Buna göre aşağıdakilerden hangisi söylenmez?

- A) Bir numaralı kural, neden-sonuç bildirmektedir.
- B) İki numaralı kural, amaç-sonuç bildirmektedir.
- C) Beş numaralı kuralda bir deyim yer almaktadır.
- D) Kuralların çoğunluğu nesnel ifadelerden oluşmaktadır.

9

Gel yavrum, seni karşıya geçireyim!



Görsel ile verilmek istenen ileti hangisidir?

- A) Trafik kurallarına uymalı ve yaya geçitlerini kullanmalıyız.
- B) Trafikte birbirimize karşı saygılı ve yardımsever olmalıyız.
- C) Teknolojinin gelişmesi, günümüzde trafiği olumsuz yönde etkilemektedir.
- D) Trafikte yardıma ihtiyacı olanlar artık yaşlılardan çok dijital bağımlıdır.

10

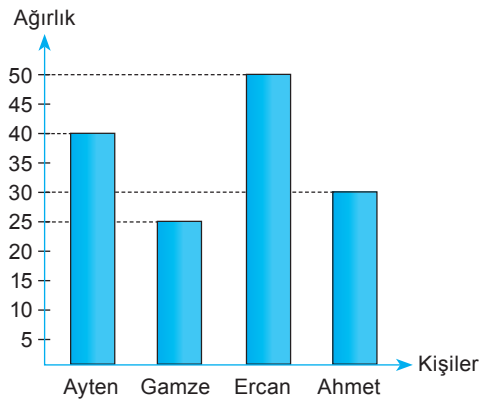
Müzik Türleri	Halk Müziği	Sanat Müziği	Pop Müzik	Yabancı Müzik
Öğrenciler				
Kız	5	8	4	10
Erkek	7	3	6	3

Bir okulda öğrencilerin sevdikleri müzik türleri üzerine araştırma yapılmıştır. Elde edilen sonuçlar yukarıdaki tabloya yazılmıştır.

Buna göre kız öğrencilerin en çok sevdiği müzik türü aşağıdakilerden hangisidir?

- A) Yabancı Müzik
- B) Sanat Müziği
- C) Halk Müziği
- D) Pop Müzik

11



Yukarıdaki grafikte bir grupta bulunan öğrencilerin ağırlıkları verilmiştir.

Buna göre aşağıdaki ifadelerden hangisi yanlıştır?

- A) Ağırlığı en fazla olan kişi Ercan'dır.
- B) Ahmet'in ağırlığı Gamze'nin ağırlığından fazladır.
- C) Ayten'in ağırlığı Gamze ve Ahmet'in ağırlığı toplamına eşittir.
- D) Ağırlığı en az olan kişi Gamze'dir.

ÇIKMIŞ SORU

- 12 Miyop, gözün uzaktaki cisimleri net olarak göremediği bir göz hastalığıdır. Uzağı, yani geleceği göremeyen şirketler de "pazarlama miyobu" olarak adlandırılmıştır. Pazarlama miyopluğunun nedeni şirketlerin pazara ve müşterilere eski usul yaklaşmaya devam etmeleridir. Bunun en açık belirtisi de reklamlarında, ürünün müşterilere fayda sağlayacak özelliklerini ön plana çıkarmamalarıdır.

Bu metne göre, aşağıdaki reklam afişlerinden hangisi "pazarlama miyopluğu" yaşayan bir firmaya ait olabilir?

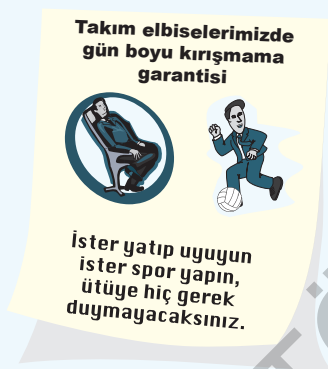
A)



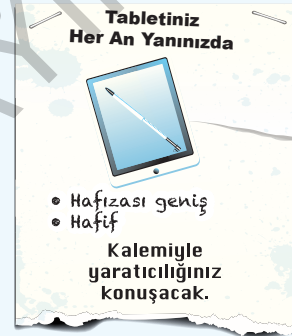
B)



C)

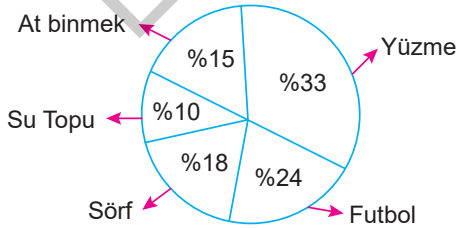


D)

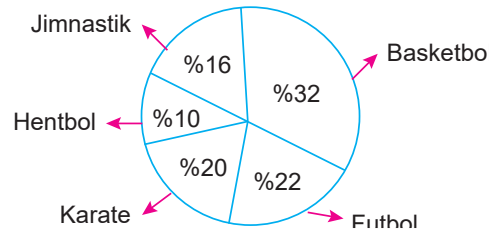


13

YAZ ETKİNLİKLERİ



KIŞ ETKİNLİKLERİ



Yukarıdaki grafiklerde yaz ve kış mevsimlerinde yapılan etkinliklerin hangi oranda tercih edildiğinin yüzdesi verilmiştir.

Bu grafiklerden yola çıkılarak aşağıdakilerden hangisi söylenemez?

- A) Yaz mevsiminde daha çok su sporlarıyla ilgili etkinlikler tercih edilmiştir.
 B) Yaz mevsiminde takım oyunlarına ilgi artmaktadır.
 C) Futbol her iki mevsimde de tercih edilen bir etkinliktir.
 D) Kış mevsiminde bireysel sporlara ilgi azalmıştır.

14 Aşağıdaki boşür Milli Eğitim Bakanlığı tarafından okullara gönderilmiştir.

UYGULAMALAR SIRASINDA ÖĞRENCİLERE VERİLECEK ÖNERİLER

Günde iki kez iki dakika, kendinize ait diş fırçasıyla etkin bir şekilde dişlerinizi ve dilinizin üzerini fırçalayınız.

Dişlerinizi fırçaladıktan sonra günde bir kez diş ipini etkin kullanarak diş aralarını temizleyiniz.

Diş fırçanızı üç ayda bir değiştiriniz.

Altı ayda bir diş hekimi kontrolüne gidiniz.



ENFEKSİYON KONTROLÜ İÇİN ÖNLEMLER

Malzemelerin üzerine yerleştirileceği temiz kâğıt örtü bulundurulması

Her öğrenci için ayrı eldiven kullanılması

Gazlı bez ve pamuk ruloların kapalı, steril kaplarda saklanması

Tek kullanımlık uygulama fırçası kullanılması



T.C. SAĞLIK BAKANLIĞI
HALK SAĞLIĞI
GENEL MÜDÜRLÜĞÜ



Halk Sağlığı Genel Müdürlüğü
Toplum Sağlığı Hizmetleri ve Eğitim Daire Başkanlığı
Sağlık Mahallesi
A. Adnan Saygun 2 Caddesi No.:55
Sıhhiye / ANKARA
0 312 _____ adsh@thsk.gov.tr

T.C. SAĞLIK BAKANLIĞI
HALK SAĞLIĞI
GENEL MÜDÜRLÜĞÜ

güçlü ağızlar
sağlıklı gülüşler

KORUYUCU
AĞIZ ve DİŞ SAĞLIĞI
PROGRAMI

SAĞLIK PERSONELİ
BİLGİLENDİRME BROŞÜRÜ

Verilen broşüre göre aşağıdaki seçeneklerden hangisi yanlıştır?

- Ağız ve diş sağlığı için sadece dişlerin temiz tutulması yeterli değildir.
- Kullanılan diş fırçaları belirli zaman diliminde değiştirilmelidir.
- Okullarda öğrencilerin ağız ve diş sağlığı kontrollerinde enfeksiyon oluşumuna karşın önlemler alınmalıdır.
- "Koruyucu Ağız ve Diş Sağlığı Programı" broşürü, Milli Eğitim Bakanlığı tarafından hazırlanmıştır.

15

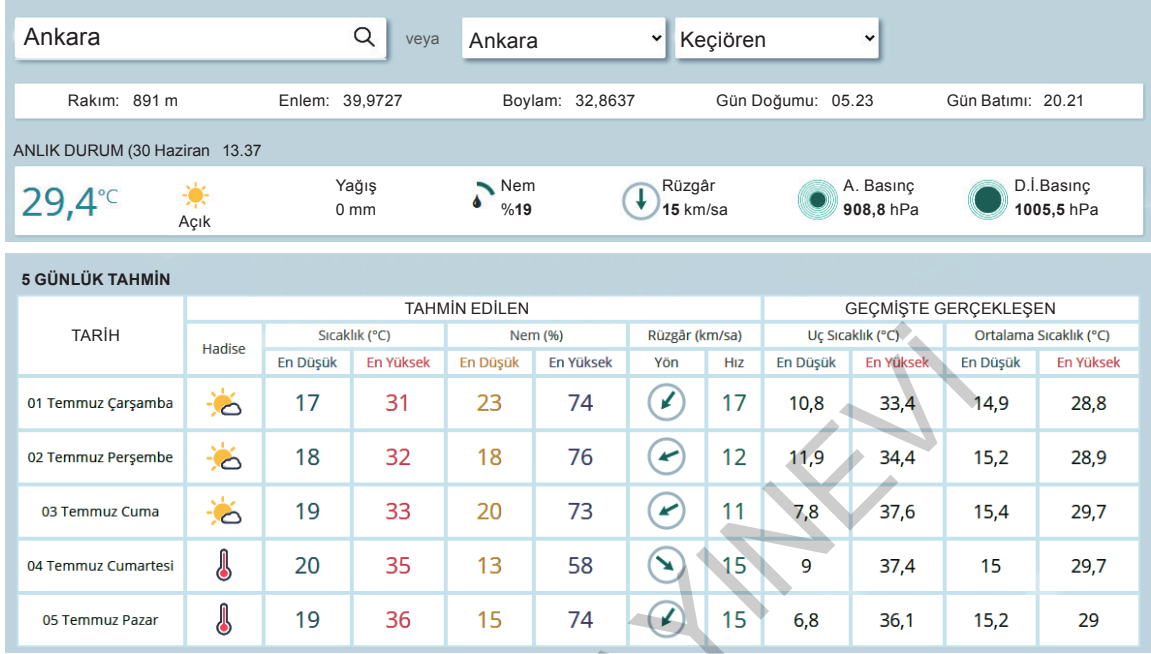
Cinsiyet	Göz Rengi			
	Mavi	Yeşil	Kahverengi	Siyah
Erkek	4	3	15	11
Kız	2	6	12	9

Yukarıdaki tabloda bir sınıftaki öğrencilerin göz renklerine göre dağılımları verilmiştir.

Buna göre aşağıdakilerden hangisi yanlıştır?

- Mavi gözlü erkek ve kızların toplam sayısı, siyah gözlü kızların sayısından daha azdır.
- Kahverengi gözlü kızların sayısı, siyah gözlü erkeklerin sayısından bir fazladır.
- Yeşil gözlü kızların sayısı, mavi gözlü erkeklerin sayısından daha azdır.
- Kahverengi gözlü erkeklerin sayısı, yeşil gözlü ve siyah gözlü kızların toplam sayısına eşittir.

- 16 Aşağıdaki görsel Meteoroloji Genel Müdürlüğü sitesinden alınmıştır. Görselde Ankara'nın (Keçiören) 30.06.2020 tarihinden itibaren 5 günlük hava tahmin durumu verilmiştir.



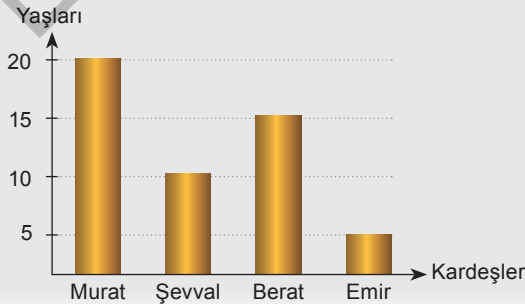
Bu görselden hareketle;

- I. Geçmişte görülen ortalama sıcaklık değerlerine göre tahmin edilen günlerin sıcaklık değerlerinde azalma olmuştur.
- II. Genellikle kuzeydoğudan esen rüzgâr, cumartesi günü kuzeybatı yönünde esecektir.
- III. 05.23'te doğan güneş, 20.21'de Ankara semalarında batacaktır.
- IV. Belirtilen 5 gün içerisinde hava sıcaklığının en yüksek olacağı gün perşembe günüdür.

yargılarından hangileri söylenemez?

- A) I ve II B) I ve IV C) II ve III D) III ve IV

17




Yandaki grafik,
dört kardeşin
yaşlarını
göstermektedir.

Buna göre aşağıdaki ifadelerden hangisi yanlıştır?

- A) Şevval ve Emir'in yaşları toplamı Berat'ın yaşına eşittir.
- B) Yaşça en büyük kardeş Murat'tır.
- C) Kardeşler arasında en son doğan Şevval'dir.
- D) Murat ve Berat'ın yaşları farkı Emir'in yaşına eşittir.

ÇIKMIŞ SORU

18 Yapılan bir ankette, sorulara verilen cevapların yüzdesi grafiklerde gösterilmiştir.



Aşağıdakilerden hangisi bu grafiklerin raporlaştırılmış hâlidir?

- A) Araştırma sonucuna göre çalışanlar yapay zekâya öğrencilerden çok güvenmektedir. Çalışanlar öğrencilere göre yapay zekânın, işleri insanın yerine yapmasından daha çok endişe duymaktadır.
- B) Yapılan araştırmaya göre insan zekâsına, çalışanlar öğrencilerden daha çok güvenmektedir. İşleri insanın yerine yapay zekânın yapıyor olmasında ise öğrenciler çalışanlardan daha endişelidir.
- C) Araştırma sonuçlarına bakıldığında hem çalışanların hem de öğrencilerin yapay zekâya insan zekâsından çok güvendiği görülür. Ancak iki grup arasındaki en büyük fark, işleri insanın yerine yapay zekânın yapmasından öğrencilerin daha çok endişe duymasıdır.
- D) Öğrenci ve çalışanlarla yapılan bir araştırmanın sonucu her iki kitlenin de insan zekâsına daha çok güvendiğini ortaya koymuştur. Yapay zekânın insanların işini yapmasından duyulan endişenin öğrencilerde daha yüksek olduğu görülmüştür.

19

EBA TV | İLKOKUL

01-05
HAZİRAN

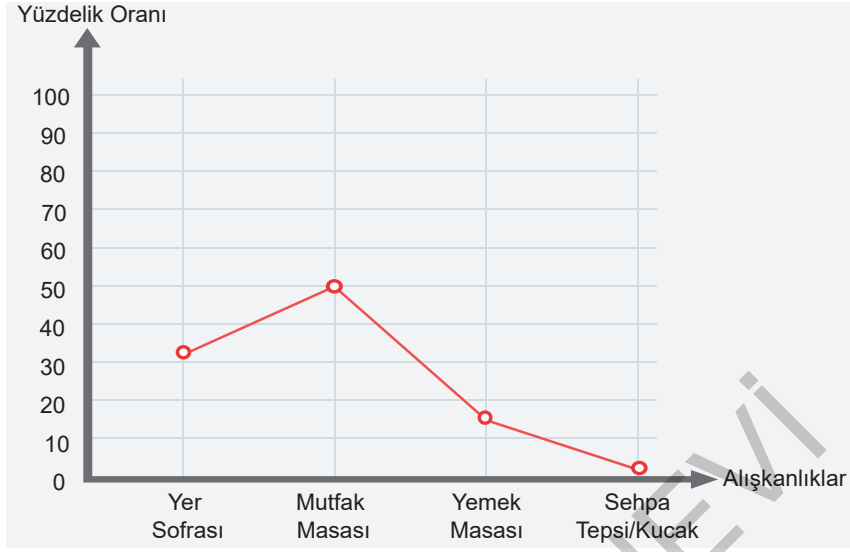
SINIF	SAAT	PAZARTESİ	SALI	ÇARŞAMBA	PERŞEMBE	CUMA
İLKOKUL	09.00	TÜRKÇE-1	HAYAT BİLGİSİ-1	TÜRKÇE-1	HAYAT BİLGİSİ-1	TÜRKÇE-1
1. SINIF	09.30	MATEMATİK-1	MATEMATİK-1	MATEMATİK-1	TÜRKÇE-1	HAYAT BİLGİSİ-1
İLKOKUL	10.00	TÜRKÇE-2	HAYAT BİLGİSİ-2	TÜRKÇE-2	HAYAT BİLGİSİ-2	İNGİLİZCE-2
2. SINIF	10.30	MATEMATİK-2	MATEMATİK-2	MATEMATİK-2	TÜRKÇE-2	HAYAT BİLGİSİ-2
İLKOKUL	11.00	TÜRKÇE-3	HAYAT BİLGİSİ-3	TÜRKÇE-3	HAYAT BİLGİSİ-3	İNGİLİZCE-3
3. SINIF	11.30	MATEMATİK-3	FEN BİLİMLERİ-3	MATEMATİK-3	FEN BİLİMLERİ-3	TÜRKÇE-3
İLKOKUL	12.00	TÜRKÇE-4	SOSYAL BİLGİLER-4	TÜRKÇE-4	İNGİLİZCE-4	SOSYAL BİLGİLER-4
4. SINIF	12.30	MATEMATİK-4	FEN BİLİMLERİ-4	MATEMATİK-4	DİN KÜLTÜRÜ VE AHLAK BİLGİSİ-4	FEN BİLİMLERİ-4

Yukarıdaki görselde Milli Eğitim Bakanlığının EBA TV haftalık yayın akışı verilmiştir.

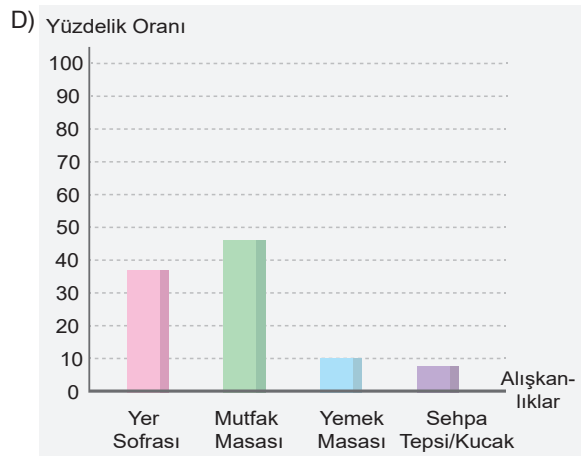
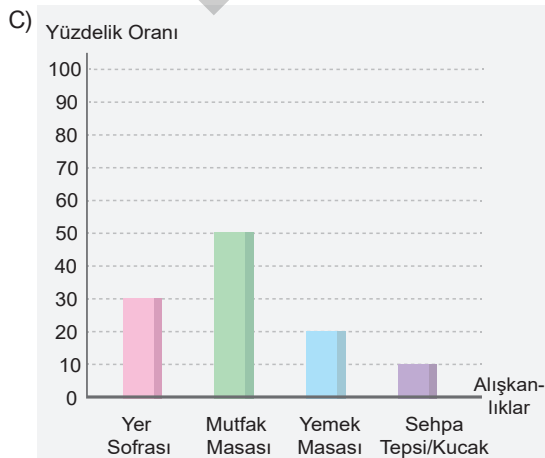
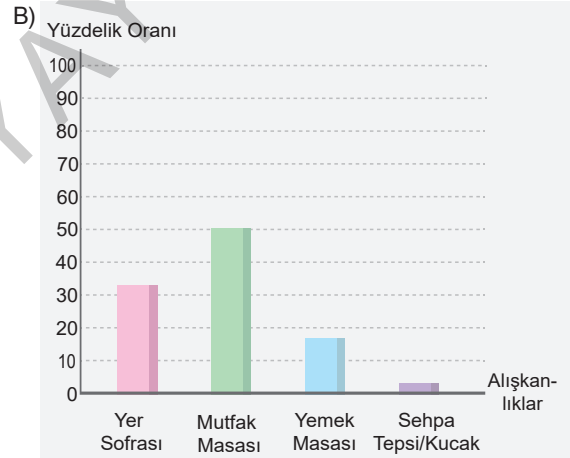
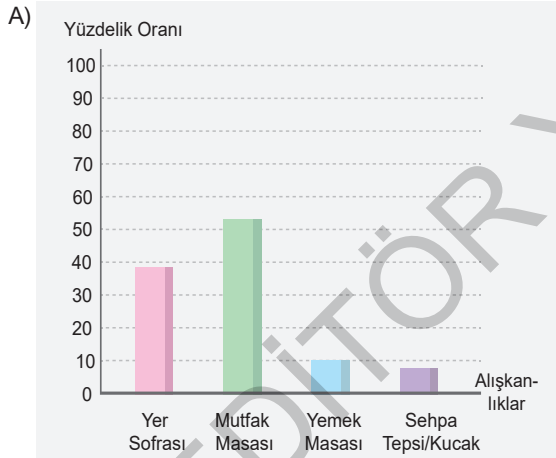
Bu görsel incelendiğinde aşağıdakilerden hangisine ulaşamaz?

- A) Haftanın beş günü, 09.00-12.30 saatleri arasında ilkokullar için dersler yayınlanacaktır.
- B) Her sınıf düzeyinde günde iki ders olacak şekilde yayın akışı planlanmıştır.
- C) 2 Haziran günü yayın akışında Türkçe dersine yer verilmemiştir.
- D) Çocukların yaşları göz önünde bulundurularak üst sınıflardakilerin dersleri daha erken saatlere alınmıştır.

20 Aşağıdaki grafikte bazı alışkanlıklara göre akşam yemeği yeme alışkanlıkları verilmiştir.



Bu verilerin sütun grafiğe aktarılmış hâli aşağıdakilerden hangisinde verilmiştir?



21

**Başka
Çocuklarla
Kıyaslamak**

**Bir Dediğini
İki Etmemek**

**Başkalarının
Yanında
Eleştirmek**

**Söylediklerini
Kendisi
Yapmamak**

**Söz Verip
Sözünü
Tutmamak**



**ÇOCUK EĞİTİMİNDE
EN BÜYÜK 8 HATA**

**Sorularına
Cevap
Vermemek**

**Eğitimi
Başkalarına
Havale Etmek**

**Ona Özel
Zaman
Ayırmamak**

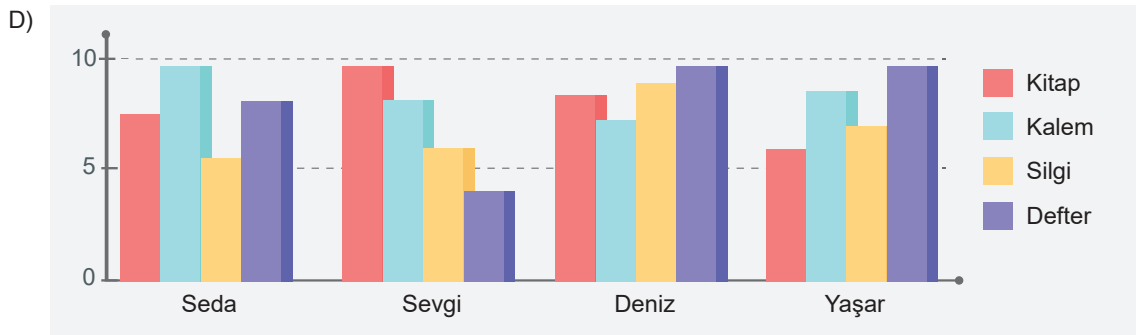
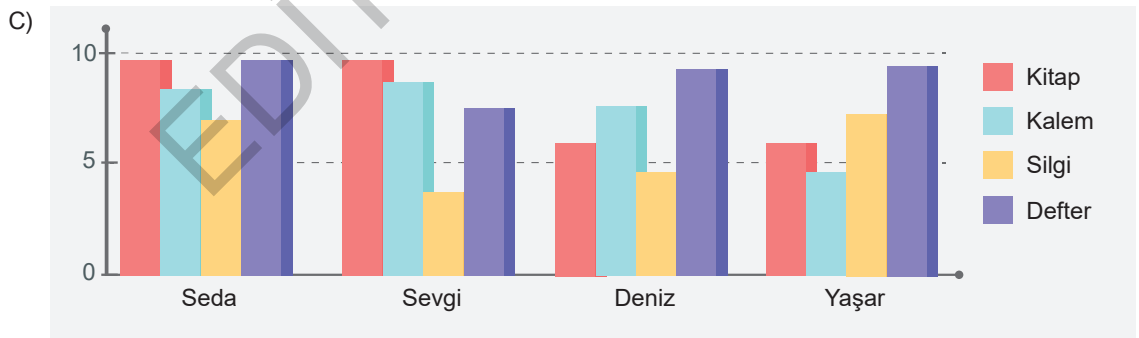
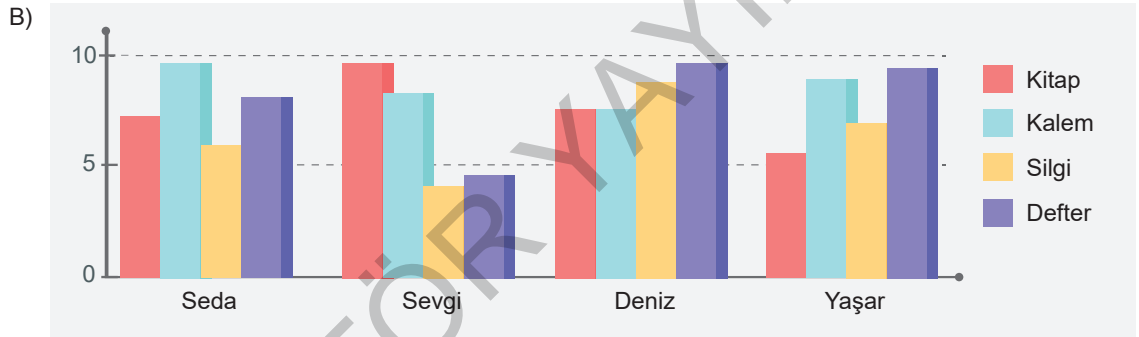
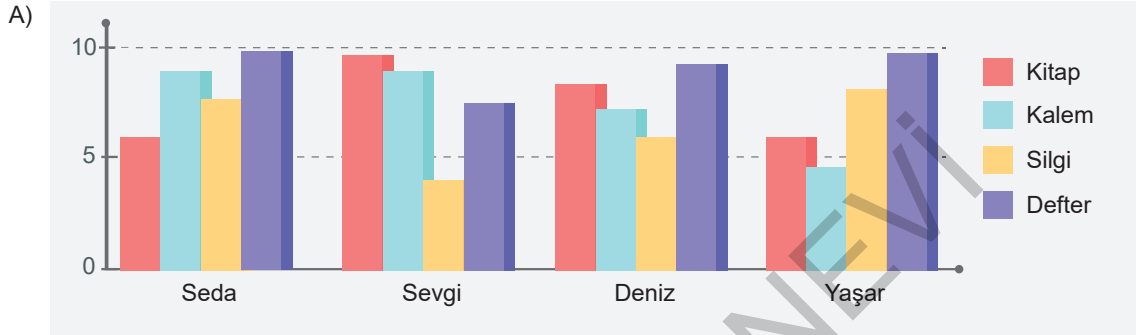
Görsele göre aşağıdakilerden hangisinin çocuk eğitiminde hata yaptığı söylenemez?

- A) Nida Hanım kızıyla birlikte bir aile dostlarını ziyarete gider. Gittikleri evde kızıyla aynı yaşlarda olan Hülya'nın kitap okuduğunu görünce kızına Hülya'yı örnek gösterir ve kitap okuması konusunda herkesin içinde onu uyarır.
- B) Beş yaşında olan Kaan, babasından sürekli tablet istemektedir. Babası Nejat Bey, Kaan'ın yaşı küçük olduğundan Kaan'a istediği tableti almama kararı almıştır. Ancak bu kararına rağmen Kaan tablet istedikçe "tableti yazın alacağını" söylemektedir. Kaan'ın ilk tablet istemesinin üzerinden iki yaz mevsimi geçmesine rağmen babası hâlâ Kaan'a tablet almamıştır.
- C) Öğretmen olan Zeynep Hanım, kızına kendisi bakmakta ve boş zamanlarını da onunla geçirmektedir. Zeynep Hanım kızının her istediğini olmasa da gerekli gördüğü tüm durumlarda onun her türlü ihtiyacını karşılamaktadır. Ayrıca kızına öğütlediği her duruma kendisi de ayak uydurmakta ve sözleri ile tavırları arasında çelişki olmamasına dikkat etmektedir.
- D) Senelerce çocuğu olmayan Sevinç Hanım, on yıl sonra dünyaya gelen ve tek evladı olan Mert'in her istediğini hemen yapmaktadır. Onun üzülmesine dayanmadığından isteklerinin doğru ya da yanlış olma durumunu sorgulamadan her isteğini yerine getirmektedir.

22 Bir kırtasiyeye giden Seda, Sevgi, Deniz ve Yaşar adlı öğrencilerin kırtasiyeden aldıkları malzemelerle ilgili şunlar bilinmektedir:

- Seda'nın aldığı kalem ve defter sayısı aldığı kitap ve silgi sayısına göre fazladır.
- Sevgi'nin en çok sayıda aldığı malzeme kitap iken en az sayıda aldığı malzeme silgidir.
- Deniz'in her malzemedan aldığı ürün sayısı farklıdır.
- Kalem en az sayıda alan öğrenci Yaşar'dır.

Bu açıklamalara uygun oluşturulan grafik aşağıdakilerden hangisidir?



EDITÖR YAYINEVİ

editör
yayınevi

VIP

ÜCRETSİZ
İÇERİK İÇİN



editör
yayınevi

İvedik Organize Sanayi Matbaacılar Sitesi
1518 Sok. Mat-Sit İş Merkezi No:2/20
Yenimahalle / ANKARA
Tel: 0 312 384 20 33 Fax: 0312 342 23 58
WhatsApp: 0 505 925 57 81
www.editoryayinevi.com | bilgi@editoryayinevi.com

ISBN 978-605-280-087-4



9 786052 800874